

Инструкция по выполнению регионального тренировочного мероприятия

Региональное тренировочное мероприятие в форме ОГЭ по математике состоит из двух частей, включающих в себя 25 заданий.

Часть 1 содержит 19 заданий, часть 2 содержит 6 заданий с развёрнутым ответом.

На выполнение регионального тренировочного мероприятия в форме ОГЭ по математике отводится 3 часа 55 минут (235 минут).

Ответы к заданиям 7 и 13 запишите в бланк ответов № 1 в виде одной цифры, которая соответствует номеру правильного ответа.

Для остальных заданий части 1 ответом является число или последовательность цифр. Ответ запишите в поле ответа в тексте работы, а затем перенесите в бланк ответов № 1. Если получилась обыкновенная дробь, ответ запишите в виде десятичной.

Решения заданий части 2 и ответы к ним запишите на бланке ответов № 2. Задания можно выполнять в любом порядке. Текст задания переписывать не надо, необходимо только указать его номер.

Все бланки заполняются яркими черными чернилами. Допускается использование гелевой или капиллярной ручки.

Сначала выполняйте задания части 1. Начать советуем с тех заданий, которые вызывают у Вас меньше затруднений, затем переходите к другим заданиям. Для экономии времени пропускайте задание, которое не удастся выполнить сразу, и переходите к следующему. Если у Вас останется время, Вы сможете вернуться к пропущенным заданиям.

При выполнении части 1 все необходимые вычисления, преобразования выполняйте в черновике. Записи в черновике, а также в тексте контрольных измерительных материалов не учитываются при оценивании работы.

Если задание содержит рисунок, то на нём непосредственно в тексте работы можно выполнять необходимые Вам построения. Рекомендуем внимательно читать условие и проводить проверку полученного ответа.

При выполнении работы Вы можете воспользоваться справочными материалами, выданными вместе с вариантом КИМ, линейкой.

Баллы, полученные Вами за выполненные задания, суммируются. Постарайтесь выполнить как можно больше заданий и набрать наибольшее количество баллов.

После завершения работы проверьте, чтобы ответ на каждое задание в бланках ответов № 1 и № 2 был записан под правильным номером.

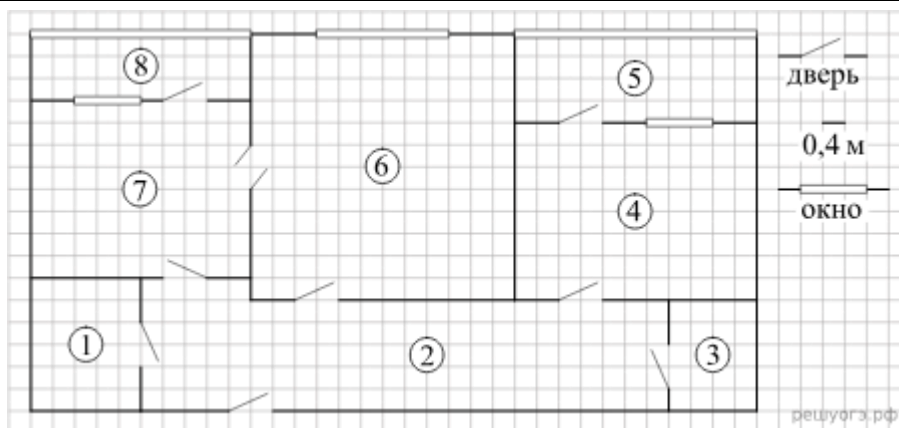
Желаем успеха!

Вариант 342

Часть 1

Ответами к заданиям 1–19 являются число или последовательность цифр, которые следует записать в БЛАНК ОТВЕТОВ № 1 справа от номера соответствующего задания, начиная с первой клеточки. Если ответом является последовательность цифр, то запишите её без пробелов и других дополнительных символов. Каждый символ пишите в отдельной клеточке в соответствии с приведёнными в бланке образцами.

Прочитайте внимательно текст и выполните задания 1–5.



На рисунке изображен план двухкомнатной квартиры в многоэтажном жилом доме. Сторона одной клеточки на плане соответствует 0,4 м, а условные обозначения двери и окна приведены в правой части рисунка.

Вход в квартиру находится в коридоре. Слева от входа в квартиру находится санузел, а в противоположном конце коридора - дверь в кладовую. Рядом с кладовой находится спальня, из которой можно пройти на одну из застекленных лоджий. Самое большое по площади помещение - гостиная, откуда можно попасть в коридор и на кухню. Из кухни также можно попасть на застекленную лоджию.

1. Для объектов, указанных в таблице, определите, какими цифрами они обозначены на плане. Заполните таблицу, в бланк перенесите последовательность четырех цифр без пробелов, запятых и других дополнительных символов.

Объекты	коридор	кладовая	спальня	гостиная
Цифры				

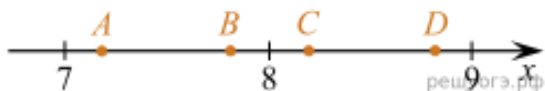
2. Плитка для пола размером 40 см на 40 см продается в упаковках по 12 штук. Сколько упаковок плитки понадобится, чтобы выложить пол санузла?
3. Найдите площадь санузла. Ответ дайте в квадратных метрах.
4. На сколько процентов площадь коридора больше площади кладовой?
5. В квартире планируется установить стиральную машину. Характеристики стиральных машин, условия подключения и доставки приведены в таблице. Планируется купить стиральную машину с фронтальной загрузкой вместимостью не менее 6 кг.

Модель	Вместимость барабана (кг)	Тип загрузки	Стоимость (руб.)	Стоимость подключения (руб.)	Стоимость доставки (% от стоимости машины)	Габариты (высота × ширина × глубина, см)
А	7	верт.	28 000	1700	бесплатно	85 × 60 × 45
Б	5	фронт.	24 000	4500	10	85 × 60 × 40
В	5	фронт.	25 000	5000	10	85 × 60 × 40
Г	6,5	фронт.	24 000	4500	10	85 × 60 × 44
Д	6	фронт.	28 000	1700	бесплатно	85 × 60 × 45
Е	6	верт.	27 600	2300	бесплатно	89 × 60 × 40
Ж	6	верт.	27 585	1900	10	89 × 60 × 40
З	6	фронт.	20 000	6300	15	85 × 60 × 42
И	5	фронт.	27 000	1800	бесплатно	85 × 60 × 40
К	5	верт.	27 000	1800	бесплатно	85 × 60 × 40

Сколько рублей будет стоить наиболее дешевый подходящий вариант вместе с подключением и доставкой?

6. Найдите значение выражения $\frac{6,5}{1,3}$

7. Одна из точек, отмеченных на координатной прямой, соответствует числу $\sqrt{68}$. Какая это точка?



- 1) точка А
- 2) точка В
- 3) точка С
- 4) точка D

8. Найдите значение выражения $\frac{4ac^2}{a^2 - c^2} \cdot \frac{a + c}{ac}$ при $a = 3,1, c = 3,6$

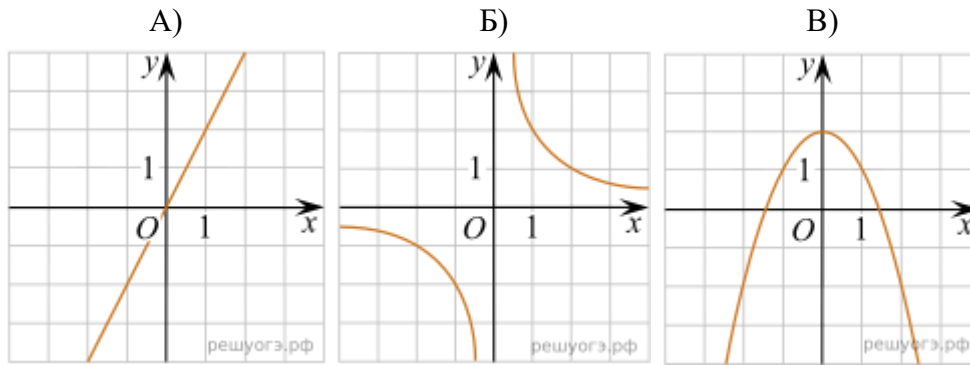
9. Решите уравнение $x^2 = 2x + 8$.

Если корней несколько, запишите их в ответ без пробелов в порядке возрастания.

10. В среднем из 80 карманных фонариков, поступивших в продажу, двенадцать неисправных. Найдите вероятность того, что выбранный наудачу в магазине фонарик окажется исправен.

11. Установите соответствие между графиками функций и формулами, которые их задают.

Графики



Формулы

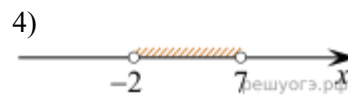
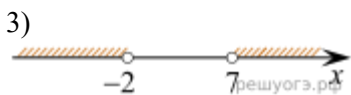
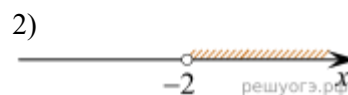
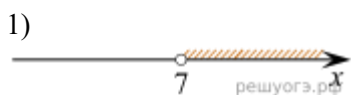
- 1) $y = \frac{2}{x}$ 2) $y = x^2 - 2$ 3) $y = 2x$ 4) $y = 2 - x^2$

Запишите в ответ цифры, расположив их в порядке, соответствующем буквам:

А	Б	В

12. Площадь треугольника S (в M^2) можно вычислить по формуле $S = \frac{1}{2}ah$, где a — сторона треугольника, h — высота, проведенная к этой стороне (в метрах). Пользуясь этой формулой, найдите сторону a , если площадь треугольника равна $28 M^2$, а высота h равна 14 м.

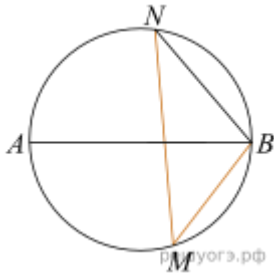
13. Укажите решение неравенства $(x + 2)(x - 7) > 0$.



14. При проведении опыта вещество равномерно охлаждали в течение 10 минут. При этом каждую минуту температура вещества уменьшалась на $5^\circ C$. Найдите температуру вещества (в градусах Цельсия) через 9 минут после начала проведения опыта, если его начальная температура составляла $-8^\circ C$.

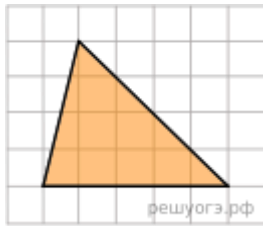


15. В треугольнике ABC $AB = BC = 61$, $AC = 22$. Найдите длину медианы BM .



16. На окружности по разные стороны от диаметра AB взяты точки M и N . Известно, что $\angle NBA = 71^\circ$. Найдите угол NMB . Ответ дайте в градусах.

17. Основания трапеции равны 18 и 10, одна из боковых сторон равна $4\sqrt{3}$, а угол между ней и одним из оснований равен 120° . Найдите площадь трапеции.



18. На клетчатой бумаге с размером клетки 1×1 изображен треугольник. Найдите его площадь.

19. Укажите номера верных утверждений.

- 1) Биссектриса равнобедренного треугольника, проведенная из вершины, противоположной основанию, делит основание на две равные части.
- 2) В любом прямоугольнике диагонали взаимно перпендикулярны.
- 3) Для точки, лежащей на окружности, расстояние до центра окружности равно радиусу.

Если утверждений несколько, запишите их номера в порядке возрастания.

Не забудьте перенести все ответы в БЛАНК ОТВЕТОВ № 1 в соответствии с инструкцией по выполнению работы. Проверьте, чтобы каждый ответ был записан в строке с номером соответствующего задания.

Часть 2

При выполнении заданий 20–25 используйте БЛАНК ОТВЕТОВ № 2. Сначала укажите номер задания, а затем запишите его решение и ответ. Пишите чётко и разборчиво.

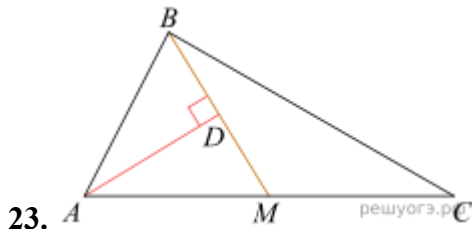
При выполнении заданий 20–25 используйте БЛАНК ОТВЕТОВ № 2. Сначала укажите номер задания, а затем запишите его решение и ответ. Пишите четко и разборчиво.

$$\frac{(2a^2)^3 \cdot (3b)^2}{(6a^3b)^2}$$

20. Сократите дробь:

21. Рыболов в 5 часов утра на моторной лодке отправился от пристани против течения реки, через некоторое время бросил якорь, 2 часа ловил рыбу и вернулся обратно в 10 часов утра того же дня. На какое расстояние от пристани он отдалился, если скорость реки равна 2 км/ч, а собственная скорость лодки 6 км/ч?

22. Известно, что парабола проходит через точку $B \left(-1; -\frac{1}{4} \right)$ и ее вершина находится в начале координат. Найдите уравнение этой параболы и вычислите, в каких точках она пересекает прямую $y = -16$.



23.

Прямая AD , перпендикулярная медиане BM треугольника ABC , делит ее пополам. Найдите сторону AC , если сторона AB равна 4.

24. Докажите, что медиана треугольника делит его на два треугольника, площади которых равны между собой.

25. В треугольнике ABC на его медиане BM отмечена точка K так, что $BK : KM = 3 : 7$.

Найдите отношение площади треугольника ABK к площади треугольника ABC .

Проверьте, чтобы каждый ответ был записан рядом с номером соответствующего задания.