

**Проверочная работа  
по МАТЕМАТИКЕ  
(базовый уровень)**

**8 класс**

**Вариант 1**

**Инструкция по выполнению заданий части 1 проверочной работы**

На выполнение заданий части 1 проверочной работы по математике отводится один урок (не более 45 минут). Часть 1 включает в себя 12 заданий.

Ответы на задания запишите в поля ответов в тексте работы. В заданиях 4 и 6 нужно отметить точку на координатной прямой. Если Вы хотите изменить ответ, зачеркните его и запишите рядом новый.

При выполнении работы не разрешается пользоваться учебниками, рабочими тетрадями, справочниками, калькулятором.

При необходимости можно пользоваться черновиком. Записи в черновике проверяться и оцениваться не будут.

Советуем выполнять задания в том порядке, в котором они даны. В целях экономии времени пропускайте задание, которое не удаётся выполнить сразу, и переходите к следующему. Если после выполнения работы у Вас останется время, то Вы сможете вернуться к пропущенным заданиям.

***Желаем успеха!***

Таблица для внесения баллов участника\*

Номер задания	1	2	3	4	5	6	7	8	9	10	11	12	Сумма баллов (за Часть 1)
Баллы													

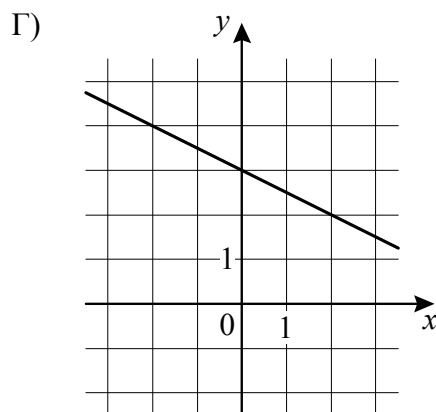
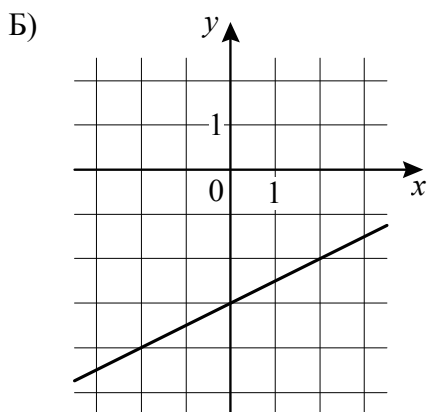
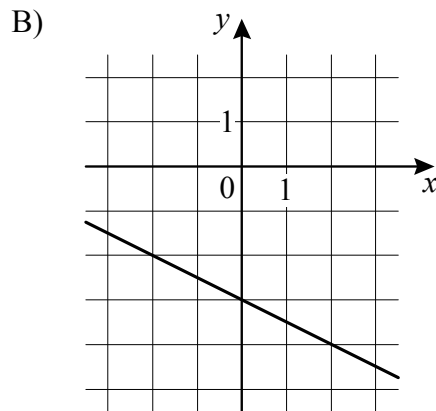
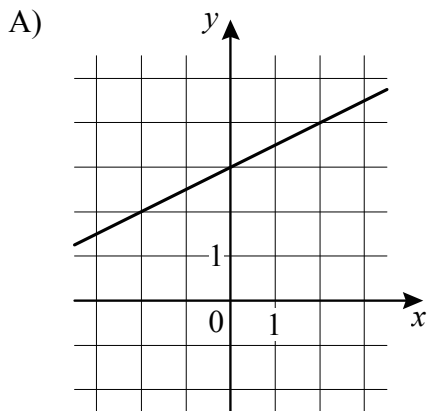
\* *Обратите внимание:* в случае, если какие-либо задания не могли быть выполнены целым классом по причинам, связанным с особенностями организации учебного процесса, в форме сбора результатов ВПР всем обучающимся класса за данные задания вместо баллов выставляется значение «Тема не пройдена». В соответствующие ячейки таблицы заполняется н/п.



5

Установите соответствие между графиками функций и формулами, которые задают эти функции.

**ГРАФИКИ**



**ФОРМУЛЫ**

- 1)  $y = \frac{1}{2}x + 3$ ;      3)  $y = \frac{1}{2}x - 3$ ;  
 2)  $y = -\frac{1}{2}x + 3$ ;      4)  $y = -\frac{1}{2}x - 3$ .

В таблице под каждой буквой укажите соответствующий номер.



Ответ:

А	Б	В	Г



