

**Проверочная работа**  
**по ИСТОРИИ**

**5 класс**

**Вариант 2**

**Инструкция по выполнению работы**

На выполнение проверочной работы по истории отводится один урок (не более 45 минут). Работа включает в себя 7 заданий по истории Древнего мира и 1 задание, связанное с памятью о Великой Отечественной войне.

Ответы на задания запишите в поля ответов в тексте работы. В случае записи неверного ответа зачеркните его и запишите рядом новый.

При выполнении работы не разрешается пользоваться учебниками, рабочими тетрадями, справочным материалом.

При необходимости можно пользоваться черновиком. Записи в черновике проверяться и оцениваться не будут.

Советуем выполнять задания в том порядке, в котором они даны. В целях экономии времени пропускайте задание, которое не удаётся выполнить сразу, и переходите к следующему. Если после выполнения всей работы у Вас останется время, то Вы сможете вернуться к пропущенным заданиям.

***Желаем успеха!***

Таблица для внесения баллов участника\*

Номер задания	1	2	3	4	5	6	7	8	Сумма баллов	Отметка за работу
Баллы										

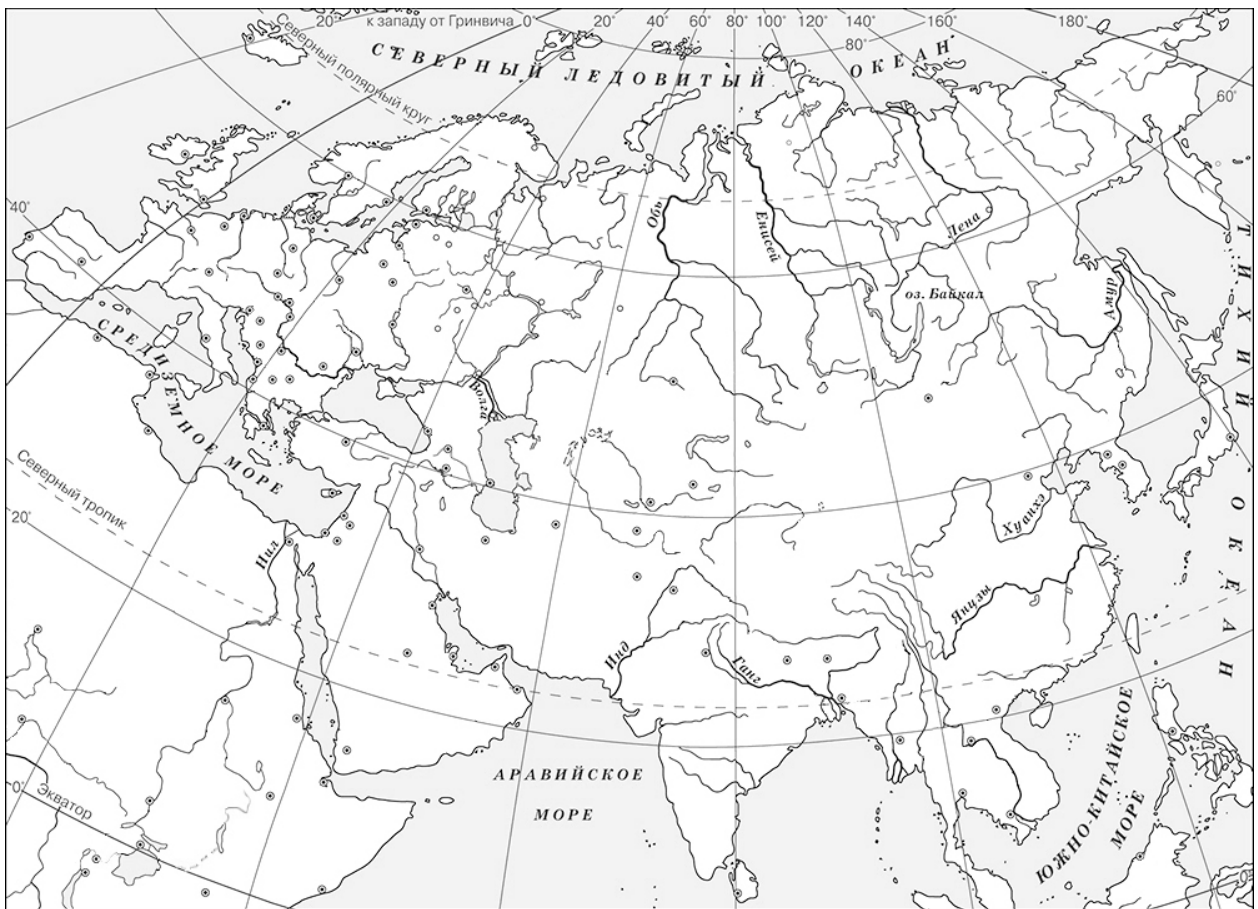
\* *Обратите внимание:* в случае, если какие-либо задания не могли быть выполнены целым классом по причинам, связанным с особенностями организации учебного процесса, в форме сбора результатов ВПР всем обучающимся класса за данные задания вместо баллов выставляется значение «Тема не пройдена». В соответствующие ячейки таблицы заполняется н/п.

- 1 На данной ленте времени каждый отрезок между делениями соответствует одному веку. Отметьте на ленте времени чёрточками и подпишите следующие годы: 250 г. до н.э.; 120 г. н.э.; 30 г. до н.э.

**Рождение  
Иисуса  
Христа**



- 2 Заштрихуйте на контурной карте один четырёхугольник, образованный градусной сеткой (параллелями и меридианами), где полностью или частично было расположено государство, в котором были написаны законы царя Хаммурапи.



*Прочтите перечень из четырёх тем и выполните задания, относящиеся к этому перечню.*

**Перечень тем**

**А) Ассирийское государство**

**Б) Древний Египет**


**В) Древняя Индия**

**Г) Древняя Греция**

3

Каждая из иллюстраций, приведённых ниже, относится к одной из указанных в перечне тем. Установите соответствие между темами и иллюстрациями: к каждой теме подберите относящуюся к ней иллюстрацию.


1)



2)



3)



4)



Запишите в таблицу выбранные цифры под соответствующими буквами.



Ответ:

А	Б	В	Г

## Перечень тем

А) Ассирийское государство

Б) Древний Египет

В) Древняя Индия

Г) Древняя Греция

**Прочтите отрывок из исторического источника и выполните задания 4 и 5.**

«...Тогда его величество издал приказ своему войску, говоря: „Сражайтесь хорошо, войска мои храбрые! Вот, находятся все чужеземные страны в этом городе согласно приказу Ра сегодня, ибо все князя всех стран собраны в этом городе, ибо взятие тысячи городов – это взятие Мегиддо. Сражайтесь храбро, храбро!“

И всё, что делал его величество против этого города, против того презренного врага с его презренным войском, – отмечалось ежедневно... и было оно запечатлено на кожаном свитке в храме Амона...».

4

Определите, к какой из предложенных тем относится данный отрывок. В ответе напишите букву, которой обозначена эта тема.

Ответ:

5

Что, согласно данному отрывку, означало взятие Мегиддо? Где, согласно данному отрывку, было запечатлено взятие Мегиддо?

Ответ: \_\_\_\_\_

---

---

---

---

---

---

---

**Выберите одну тему из перечня, а затем выполните относящееся к этому перечню задание 6 только по выбранной Вами теме. Перед выполнением задания укажите букву, которой обозначена выбранная тема.**

**Перечень тем**

А) Ассирийское государство	Б) Древний Египет
В) Древняя Индия	Г) Древняя Греция

6

Выбранная тема:  (укажите букву в перечне).

Прочтите список слов (словосочетаний) и напишите слово (словосочетание), относящееся к выбранной Вами теме.

*Варны, сатрапия, Парфенон, суд Соломона, фараон, Тигр.*

Ответ: \_\_\_\_\_

Объясните смысл этого слова (словосочетания).

Ответ: \_\_\_\_\_

\_\_\_\_\_

7

Что из перечисленного было причиной строительства Великой китайской стены?

- 1) основание в Китае новой династии Хань
- 2) взаимоотношения Китая с соседями
- 3) высокая вероятность восстаний в Китае

Ответ:

Объясните, как выбранное Вами положение связано со строительством Великой китайской стены.

Ответ: \_\_\_\_\_

\_\_\_\_\_

\_\_\_\_\_

\_\_\_\_\_

\_\_\_\_\_

\_\_\_\_\_

8

Рассмотрите изображение и выполните задание.



Укажите год, когда началась война, юбилею победы в которой посвящена данная памятная монета. Объясните, почему граждане нашей страны хранят память об этой войне.



Ответ: \_\_\_\_\_

\_\_\_\_\_

\_\_\_\_\_

\_\_\_\_\_

\_\_\_\_\_

\_\_\_\_\_

\_\_\_\_\_

\_\_\_\_\_