

**Проверочная работа
по ИСТОРИИ**

5 класс

Вариант 1

Инструкция по выполнению работы

На выполнение проверочной работы по истории отводится один урок (не более 45 минут). Работа включает в себя 7 заданий по истории Древнего мира и 1 задание, связанное с памятью о Великой Отечественной войне.

Ответы на задания запишите в поля ответов в тексте работы. В случае записи неверного ответа зачеркните его и запишите рядом новый.

При выполнении работы не разрешается пользоваться учебниками, рабочими тетрадями, справочным материалом.

При необходимости можно пользоваться черновиком. Записи в черновике проверяться и оцениваться не будут.

Советуем выполнять задания в том порядке, в котором они даны. В целях экономии времени пропускайте задание, которое не удаётся выполнить сразу, и переходите к следующему. Если после выполнения всей работы у Вас останется время, то Вы сможете вернуться к пропущенным заданиям.

Желаем успеха!

*Таблица для внесения баллов участника**

| Номер задания | 1 | 2 | 3 | 4 | 5 | 6 | 7 | 8 | Сумма баллов | Отметка за работу |
|---------------|---|---|---|---|---|---|---|---|--------------|-------------------|
| Баллы | | | | | | | | | | |

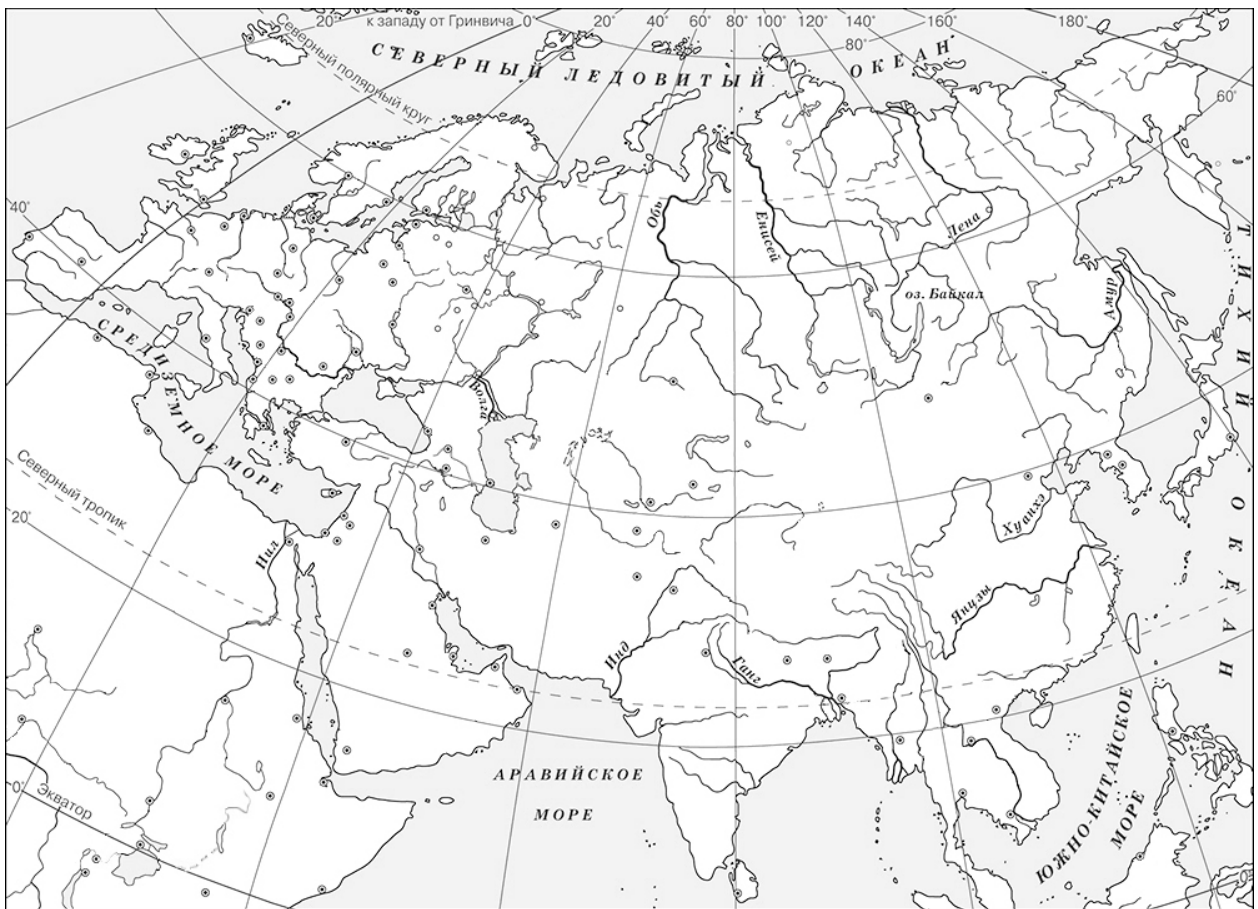
* *Обратите внимание:* в случае, если какие-либо задания не могли быть выполнены целым классом по причинам, связанным с особенностями организации учебного процесса, в форме сбора результатов ВПР всем обучающимся класса за данные задания вместо баллов выставляется значение «Тема не пройдена». В соответствующие ячейки таблицы заполняется н/п.

- 1 На данной ленте времени каждый отрезок между делениями соответствует одному веку. Отметьте на ленте времени чёрточками и подпишите следующие годы: 470 г. до н.э.; 20 г. до н.э.; 150 г. н.э.

**Рождение
Иисуса
Христа**



- 2 Заштрихуйте на контурной карте четырёхугольник, образованный градусной сеткой (параллелями и меридианами), где находился древний город, в котором мальчики воспитывались по знаменитой спартанской методике.



Прочтите перечень из четырёх тем и выполните задания, относящиеся к этому перечню.

Перечень тем

А) Древняя Палестина

Б) Персидская держава


В) Древний Египет

Г) Древний Китай


3

Каждая из иллюстраций, приведённых ниже, относится к одной из указанных в перечне тем. Установите соответствие между темами и иллюстрациями: к каждой теме подберите относящуюся к ней иллюстрацию.

1)




2)



3)



4)



Запишите в таблицу выбранные цифры под соответствующими буквами.

Ответ:

| А | Б | В | Г |
|---|---|---|---|
| | | | |

Перечень тем

А) Древняя Палестина

Б) Персидская держава

В) Древний Египет

Г) Древний Китай

Прочтите отрывок из исторического источника и выполните задания 4 и 5.

«Оставшиеся на месте скифы решили не водить больше завоевателей, но нападать на них всякий раз, как только те заняты будут добыванием продовольствия. Так скифы впредь и поступали, подстерегая, когда воины царя Дария выходили за хлебом...

Бедность этого народа, царь, – сказал Дарию Гобрий, – была мне известна достаточно ещё раньше, по слухам; теперь на месте я убедился в том вполне, когда вижу, как они издеваются над нами. Вот почему, я полагаю, следует поступить нам так: как скоро наступит ночь, зажечь по обыкновению огни, обмануть тех из наших воинов, которые наименее способны к перенесению лишений, и, привязавши всех ослов, уходить назад, пока скифы не пришли ещё на Истр с целью разрушить мост...

При наступлении ночи царь Дарий стал приводить этот свой совет в исполнение».

4

Определите, к какой из предложенных тем относится данный отрывок. В ответе напишите букву, которой обозначена эта тема.

Ответ:

5

Какое время, согласно данному отрывку, выбрали скифы, чтобы напасть на воинов царя Дария? С какой целью, по мнению Горбия, скифы должны были прийти на Истр?

Ответ: _____

Выберите одну тему из перечня, а затем выполните относящееся к этому перечню задание 6 только по выбранной Вами теме. Перед выполнением задания укажите букву, которой обозначена выбранная тема.

Перечень тем

А) Древняя Палестина

Б) Персидская держава

В) Древний Египет

Г) Древний Китай

6

Выбранная тема: (укажите букву в перечне).

Прочтите список слов и напишите слово, относящееся к выбранной Вами теме.

Осирис, гунны, филистимляне, Персеполь, плебеи, варны.

Ответ: _____

Объясните смысл этого слова.

Ответ: _____

7

Что из перечисленного стало причиной (предпосылкой) того, что в древнем Междуречье постройки возводились из глиняных кирпичей?

- 1) особенности природы Междуречья
- 2) использование глины в качестве материала для письма
- 3) образование в Междуречье городов-государств

Ответ:

Объясните, как выбранное Вами положение связано с использованием в Междуречье глины в качестве материала для строительства.

Ответ: _____

8

Рассмотрите изображение и выполните задание.



В какой по счёту год с начала Великой Отечественной войны произошло событие, которому посвящён данный памятный мемориал? Объясните, почему граждане нашей страны хранят память о войне, событиям которой посвящен этот мемориал.

Ответ: _____
