

**Проверочная работа
по ИСТОРИИ**

5 класс

Вариант 1

Инструкция по выполнению работы

На выполнение проверочной работы по истории отводится один урок (не более 45 минут). Работа включает в себя 7 заданий по истории Древнего мира и 1 задание, связанное с памятью о Великой Отечественной войне.

Ответы на задания запишите в поля ответов в тексте работы. В случае записи неверного ответа зачеркните его и запишите рядом новый.

При выполнении работы не разрешается пользоваться учебниками, рабочими тетрадями, справочным материалом.

При необходимости можно пользоваться черновиком. Записи в черновике проверяться и оцениваться не будут.

Советуем выполнять задания в том порядке, в котором они даны. В целях экономии времени пропускайте задание, которое не удаётся выполнить сразу, и переходите к следующему. Если после выполнения всей работы у Вас останется время, то Вы сможете вернуться к пропущенным заданиям.

Желаем успеха!

*Таблица для внесения баллов участника**

Номер задания	1	2	3	4	5	6	7	8	Сумма баллов	Отметка за работу
Баллы										

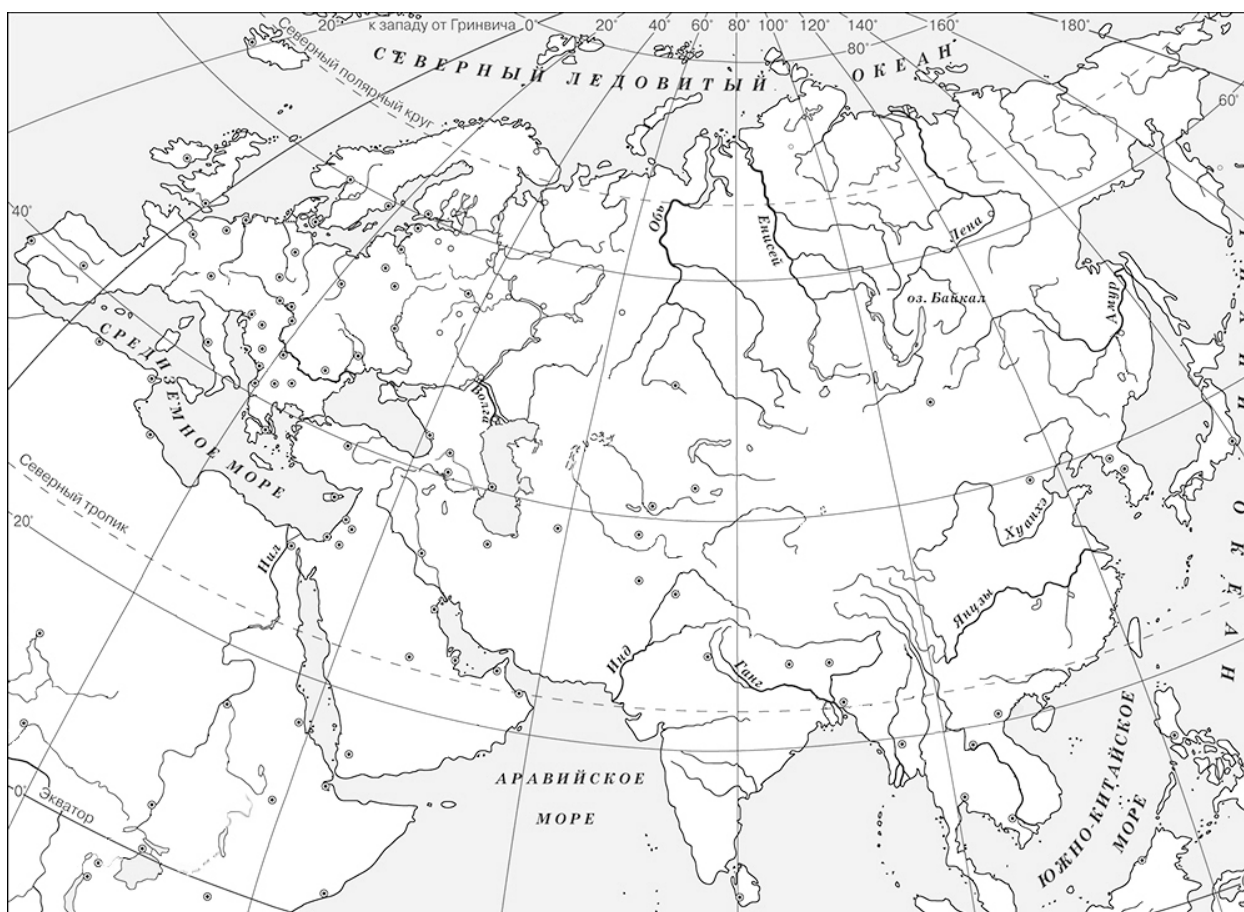
* *Обратите внимание:* в случае, если какие-либо задания не могли быть выполнены целым классом по причинам, связанным с особенностями организации учебного процесса, в форме сбора результатов ВПР всем обучающимся класса за данные задания вместо баллов выставляется значение «Тема не пройдена». В соответствующие ячейки таблицы заполняется н/п.

- 1 На данной ленте времени каждый отрезок между делениями соответствует одному веку. Отметьте на ленте времени чёрточками и подпишите следующие годы: 125 г. до н.э.; 410 г. до н.э.; 250 г. н.э.

**Рождение
Иисуса
Христа**



- 2 Заштрихуйте на контурной карте четырёхугольник, образованный градусной сеткой (параллелями и меридианами), в котором был расположен Иерихон.



Прочтите перечень из четырёх тем и выполните задания, относящиеся к этому перечню.

Перечень тем

А) Древняя Греция

Б) Древний Египет


В) Древняя Индия

Г) Древний Китай


3

Каждая из иллюстраций, приведённых ниже, относится к одной из указанных в перечне тем. Установите соответствие между темами и иллюстрациями: к каждой теме подберите относящуюся к ней иллюстрацию.

1)



2)



3)



4)



Запишите в таблицу выбранные цифры под соответствующими буквами.

Ответ:

А	Б	В	Г

Перечень тем

А) Древняя Греция

Б) Древний Египет

В) Древняя Индия

Г) Древний Китай

Прочтите отрывок из исторического источника и выполните задания 4 и 5.

«Так называемая криптия у спартанцев... состояла в следующем.

Время от времени старшины над молодыми спартиатами посылали тех, кто проявлял наибольшую сообразительность, бродить по стране без определённой цели; они не брали с собой ничего, кроме короткого меча и необходимых съестных припасов. Днём они рассеивались по закрытым местам, прятались там и спали, по ночам же выходили на дороги, и тех из илотов, которые попадались им в руки, они закалывали. Часто также, проходя по полям, они убивали самых крепких и сильных илотов.

И во всём остальном спартиаты поступали с илотами сурово и жестоко. Кто говорит, что в Спарте свободные пользуются наивысшей свободой, а рабы пребывают в самом тяжёлом порабощении, тот хорошо понимает разницу в их положении».

4

Определите, к какой из предложенных тем относится данный отрывок. В ответе напишите букву, которой обозначена эта тема.

Ответ:

5

Что, согласно данному отрывку, брали с собой молодые спартиаты, когда их посылали бродить по стране? В чём, согласно данному отрывку, состояла разница в положении рабов и свободных в Спарте?

Ответ: _____

Выберите одну тему из перечня, а затем выполните относящееся к этому перечню задание 6 только по выбранной Вами теме. Перед выполнением задания укажите букву, которой обозначена выбранная тема.

Перечень тем

А) Древняя Греция

Б) Древний Египет

В) Древняя Индия

Г) Древний Китай

6

Выбранная тема: (укажите букву в перечне).

Прочитайте список слов (словосочетание) и напишите слово (словосочетание), относящееся к выбранной Вами теме.

Ветхий Завет, мумия, конфуцианство, «Рамаяна», меценат, Пирей.

Ответ: _____

Объясните, что обозначает это слово (словосочетание).

Ответ: _____

7

Что из перечисленного было одной из причин (предпосылок) захвата Вавилона Киrom Великим?

- 1) разделение Персидской державы на сатрапии
- 2) особенности географического расположения Вавилона
- 3) борьба Кира Великого против скифов

Ответ:

Объясните, как выбранное Вами положение связано с захватом Вавилона Киrom Великим.

Ответ: _____

8

Рассмотрите изображение и выполните задание.



В какой по счёту год с начала Великой Отечественной войны произошло событие, которому посвящён данный памятный мемориал? Объясните, почему граждане нашей страны хранят память о войне, событиям которой посвящен этот мемориал.

Ответ: _____
