

**МУНИЦИПАЛЬНЫЙ ЭТАП ВСЕРОССИЙСКОЙ ОЛИМПИАДЫ
ШКОЛЬНИКОВ ПО ФИЗИЧЕСКОЙ КУЛЬТУРЕ 2024 г.
ТЕОРЕТИКО-МЕТОДИЧЕСКИЙ ТУР**

7-8 классы

Инструкция по выполнению заданий

Вам предлагаются задания, соответствующие требованиям к уровню знаний общеобразовательных школ по предмету «Физическая культура».

Задания объединены в 7 групп.

I. Задания в закрытой форме, т.е. с выбором правильного ответа № 1 – 10.

При выполнении заданий № 1 – 10 необходимо выбрать единственно правильный вариант ответа из предложенных. Среди вариантов могут встретиться частично правильные, не подходящие в качестве ответа.

Каждое правильно выполненное задание этой группы оценивается в **1 балл**.

II. Задания в открытой форме, в котором нужно правильно вписать слова № 11 – 15.

При выполнении заданий № 11 – 15 необходимо вписать правильно слово или словосочетание.

Каждая правильная позиция этой группы оценивается в **2 балла**.

Внимание! Слова с грамматическими ошибками, исправлениями и описками оцениваются в 0 баллов.

III. Задания процессуального или алгоритмического толка № 16

Правильно выполненное задание этой группы оценивается в **3 балла**. При наличии одной ошибки, задание оценивается в 0 баллов.

IV. Задания на сопоставление, в которых необходимо сопоставить понятия № 17 – 19.

Каждая верно указанная позиция оценивается в **0,5 балла**, неправильная – 0 баллов. Ответ с исправлениями оценивается как неверный.

V. Задания с графическим изображением № 20 – 21.

Каждая верно указанная позиция оценивается в **1 балл**, неправильная – 0 баллов. Ответ с исправлениями оценивается как неверный.

VI. Задание – кроссворд № 22.

Каждая правильная позиция этой группы оценивается в **1 балл**.
Внимание! Слова с грамматическими ошибками оцениваются в 0 баллов.

VII. Задание – задача № 23.

Правильно выполненные задания этой группы оцениваются в **5 баллов**.

Максимально можно набрать **58 баллов**.

Время выполнения всех заданий – **45 минут!**

Желаем успеха!

7 – 8 класс муниципальный этап ВсОШ

Теоретико-методическое задание

I. Задания в закрытой форме, т.е. с выбором правильного ответа

1. Кто из спортсменов внес на стадион «Лужники» факел с Олимпийским огнем на XXII Олимпийских играх?

- а) Виктор Санеев
- б) Александр Белов
- в) Александр Попов
- г) Никита Нагорный

2. В каком городе Подмосковья был дан старт подмосковному этапу эстафеты олимпийского огня XXII зимних Олимпийских игр?

- а) Одинцово
- б) Коломна
- в) Красногорск
- г) Дмитров

3. В каком году впервые появилось амплуа либеро в волейболе?

- а) в 1996 году
- б) в 1998 году
- в) в 2002 году
- г) в 2005 году

4. В каком году гимнастика вошла в программу Олимпийских игр?

- а) в 1908 году
- б) в 1904 году
- в) в 1900 году
- г) в 1896 году

5. По описанию определите способ торможения на лыжах.

Масса тела переносится на идущую по направлению движения лыжу. Пятка второй лыжи отводится в сторону, лыжа становится под углом и закантовывается на внутреннее ребро, тормозя продвижение.

- а) «полу упором»
- б) «плугом»
- в) «упором»
- г) «боковым соскальзыванием»

6. Каким стилем пловцы проходят третий этап в комбинированной эстафете?

- а) брасс
- б) кроль на спине
- в) вольный стиль
- г) баттерфляй

7. Что из перечисленного относится к олимпийской атрибутике?

(Отметьте все позиции!)

- а) олимпийская клятва
- б) олимпийская дистанция
- в) олимпийский флаг
- г) олимпийский гимн

8. Имеет ли право судья в футболе добавлять время игры по истечении основного времени?

- а) да, но не более 5 минут
- б) да, если разрешает комиссар матча
- в) да, любое количество времени на своё усмотрение
- г) нет

9. Спортсмены какой страны были приглашены для участия вне основного зачета на II Всероссийскую Спартакиаду между субъектами РФ по зимним видам спорта среди сильнейших спортсменов?

- а) Казахстана
- б) Грузии
- в) Белоруссии
- г) Турции

10. Кто из советских и российских пловцов завоевал 4 золотые олимпийские медали? (Отметьте все позиции)

- а) Александр Попов
- б) Евгений Рылов
- в) Дмитрий Саутин
- г) Владимир Сальников

II. Задания в открытой форме, в котором нужно правильно вписать слово или словосочетание

11. Документ, в котором подробно отражены результаты соревнований _____

12. Какие были по счету спортивные игры стран БРИКС, которые прошли в 2024 году _____ (запишите цифрой)

13. Сколько уровней сложности включает в себя комплекс ВФСК «ГТО»? _____ (запишите цифрой)

14. Сколько раз в СССР и России проходили Олимпийские игры?
_____ (запишите цифрой)

15. Вставьте пропущенные слова в текст популярной песни о хоккее.

Звенит в _____ лихая музыка атаки,
Точней отдай на _____ пас, сильней ударь!
И всё в порядке, если только на _____
Великолепная _____ и вратарь!

III. Задания процессуального или алгоритмического толка

16. Напишите последовательность пяти шагов до знака отличия ВФСК
«ГТО» _____

**VI. Задания на сопоставление, в которых необходимо сопоставить
понятия № 17-19**

17. Установите соответствие шахматных ходов и их обозначениями.
Ответ запишите цифрами и буквами

	<i>ход</i>		<i>обозначение</i>
А	шах	1	«0 – 0»
Б	длинная рокировка	2	« # »
В	знак хода	3	« ? »
Г	короткая рокировка	4	«0 – 0 – 0»
Д	мат	5	« – »

Е	пЛОХОЙ ХОД	6	« + »
----------	------------	----------	-------

18. Соотнесите спортсменов, олимпийских чемпионов и инвентарь/экипировку, который они используют

<i>спортсмены</i>		<i>инвентарь / экипировка</i>	
А	Александр Легков	1	
Б	Александр Зубков	2	
В	Александр Третьяков	3	
Г	Владимир Григорьев	4	
Д	Евгений Устюгов	5	
Е	Аделина Сотникова	6	





19. Соотнесите талисман и событие, на котором он был представлен

<i>талисман</i>	<i>событие</i>
-----------------	----------------


А		1	II Спартакиада сильнейших спортсменов России 2024 г.
Б		2	Чемпионат мира по футболу 2018 г.
В		3	XX зимние Олимпийские игры, Турин 2006 г.
Г		4	XXII зимние Олимпийские игры, Сочи 2014 г.

V. Задания с графическим изображением


20. Дайте название гимнастических положений, представленных на рисунках.

<i>1</i>	<i>2</i>	<i>3</i>	<i>4</i>
			

21. Как называется упражнение, представленное на рисунке?



VI. Задание - кроссворд



По горизонтали:

1 – разновидность санного спорта. Зимний олимпийский вид спорта, представляющий собой спуск по ледяному жёлобу на двухполосных санях на укрепляемой раме.

6 – командный неконтактный вид спорта, игра с битой и мячом, в которую играют две команды из одиннадцати игроков на поле.

7 – вид спортивного единоборства, а также комплексная система самообороны, разработанная в СССР в результате синтеза многих национальных видов единоборств и, в частности, борьбы дзюдо.

10 – спортивная командная игра с элементами борьбы, баскетбола и регби.

11 – командный вид спорта с мячом, в котором участники играют верхом на лошадях и перемещают мяч по полю с помощью специальной клюшки

12 – зародившаяся в древности игра, получившая распространение во многих странах мира. Соперники играют на доске однородными белыми и черными круглыми фишками.

По вертикали:

2 – вид спуска на лыжах с гор, изобилующий естественными и искусственными препятствиями.

3 – вид спорта, искусство владения холодным оружием: рапирой, шпагой, саблей, штыком.

4 – русская народная командная игра с мячом и битой. Распространена на Руси со времен средневековья.

5 – спортивная игра с участием двух команд, игроки которых, передавая мяч руками друг другу, стараются забросить его в ворота соперника.

8 – подводное плавание со специальным снаряжением.

9 – спортивная командная игра с мячом, разновидность бейсбола.

VII. Задание – задача

23. Рассчитайте среднюю скорость бега (на 1 км) на дистанции 3000 м, если планируется показать результат 11 минут 24 секунд.

Ответ с объяснениями и расчётами запишите в минутах и секундах.