

**Всероссийская проверочная работа**  
**ДЛЯ ОЦЕНКИ МЕТАПРЕДМЕТНЫХ РЕЗУЛЬТАТОВ ОБУЧЕНИЯ**  
**в соответствии с федеральным государственным образовательным**  
**стандартом среднего общего образования**  
**для обучающихся по программам среднего профессионального образования,**  
**завершивших в предыдущем учебном году освоение общеобразовательных предметов,**  
**проходящих обучение по очной форме на базе основного общего образования.**

**Инструкция по выполнению работы**

Проверочная работа включает в себя 22 задания.

На выполнение диагностической работы отводится 2 часа (120 минут).

Ответами к заданиям 1, 2, 5, 6, 8, 9–12, 17–21 являются цифра, последовательность цифр или слово (словосочетание).

Задания 3, 4, 7, 13–16, 22 требуют полного ответа (дать объяснение, описание или обоснование; высказать и аргументировать собственное мнение). В случае записи неверного ответа зачеркните его и запишите рядом новый.

При выполнении работы не разрешается пользоваться учебниками, рабочими тетрадями и другими справочными материалами.

При выполнении заданий Вы можете пользоваться черновиком. Записи в черновике проверяться и оцениваться не будут.

Советуем выполнять задания в том порядке, в котором они даны. В целях экономии времени пропускайте задание, которое не удаётся выполнить сразу, и переходите к следующему. Если после выполнения всей работы у Вас останется время, то Вы сможете вернуться к пропущенным заданиям.

Баллы, полученные Вами за выполненные задания, суммируются. Постарайтесь выполнить как можно больше заданий и набрать наибольшее количество баллов.

***Желаем успеха!***

Таблица для внесения баллов участника

Номер задания	1	2	3	4	5	6	7	8	9	10	11	12	13	14
Баллы														
Номер задания	15(1)	15(2)	16	17	18	19	20	21	22	Сумма баллов	Отметка за работу			
Баллы														

1

Установите соответствие между историческими деятелями и информацией, относящейся к ним: к каждой позиции первого столбца подберите соответствующую позицию из второго столбца.

## ИСТОРИЧЕСКИЕ ДЕЯТЕЛИ

- А) А.Н. Пахмутова  
 Б) З.А. Космодемьянская  
 В) В.В. Терешкова

## ИНФОРМАЦИЯ

- 1) комсомолка, казнённая фашистами в 1941 г., удостоенная звания Героя Советского Союза  
 2) советский, российский композитор  
 3) бригадир тракторной бригады, инициатор движения ударников в сельском хозяйстве  
 4) первая в мире женщина-космонавт

Запишите в таблицу выбранные цифры под соответствующими буквами.

□ Ответ:

А	Б	В

2

Прочитайте четыре предложения. Два из них содержат события, процессы, явления, являющиеся причинами (предпосылками). Другие два содержат последствия этих событий, процессов, явлений. Подберите для каждой из причин (предпосылок) соответствующее ей последствие. Номера соответствующих предложений запишите в таблицу.

- 1) Летом 1942 г. немецкие войска вышли к Дону, создав непосредственную угрозу Сталинграду.  
 2) Летом 1944 г. во Франции был открыт Второй фронт.  
 3) На Тегеранской конференции «Большая тройка» обсудила важнейшие вопросы, касающиеся координации совместных военных действий.  
 4) После поражения в битве под Москвой немецкое командование вынуждено было пересмотреть планы дальнейшего наступления с учётом усилившихся московских рубежей.

	Номер предложения, содержащего			
	причину (предпосылку) 1	последствие 1	причину (предпосылку) 2	последствие 2
□ Ответ:				

3

Рассмотрите изображение и выполните задание.



Назовите фамилию руководителя СССР в период, когда произошло событие, юбилею которого посвящена данная марка.

Ответ: \_\_\_\_\_  
\_\_\_\_\_

Объясните, почему событие, юбилею которого посвящена данная марка, было важно а) для нашей страны, б) для международных отношений во всем мире.

Ответ: \_\_\_\_\_  
\_\_\_\_\_  
\_\_\_\_\_  
\_\_\_\_\_  
\_\_\_\_\_  
\_\_\_\_\_  
\_\_\_\_\_  
\_\_\_\_\_  
\_\_\_\_\_  
\_\_\_\_\_



4

Прочтите отрывок из доклада руководителя СССР на съезде КПСС.

«Почему массовые репрессии против актива всё больше усиливались после XVII съезда партии? Потому, что Сталин к этому времени настолько возвысился над партией и над народом, что он уже совершенно не считался ни с Центральным Комитетом, ни с партией. Если до XVII съезда он ещё признавал мнение коллектива, то после полного политического разгрома троцкистов, зиновьевцев, бухаринцев, когда в результате этой борьбы и побед социализма было достигнуто сплочение партии, сплочение народа, Сталин всё больше и больше переставал считаться с членами ЦК партии и даже с членами Политбюро. Сталин полагал, что он может теперь сам вершить все дела, а остальные нужны ему как статисты, всех других он держал в таком положении, что они должны были только служить и восхвалять его.

После злодейского убийства С.М. Кирова начались массовые репрессии и грубые нарушения социалистической законности. Вечером 1 декабря 1934 года по инициативе Сталина (без решения Политбюро – это было оформлено опросом только через 2 дня) было подписано секретарём Президиума ЦИК Енукидзе следующее постановление:

"1) Следственным властям – вести дела обвиняемых в подготовке или совершении террористических актов ускоренным порядком..."».

Укажите порядковый номер съезда КПСС, на котором был зачитан данный «секретный» доклад. После какого события, согласно данному отрывку, начались массовые нарушения законности? Укажите неофициальное образное название периода в истории СССР, в ходе которого был зачитан данный доклад, начавшегося после смерти критикуемого в докладе политического деятеля.

Ответ: \_\_\_\_\_

---

---

---

---

---

---

---

---

---

---

---

---

---

---

---

---

---

**Стихотворения**

№ 65 .

- 1) стихотворение «Жди меня»;
- 2) пьеса «Егор Булычов и другие»;

3)



4)



5

Какие из приведённых памятников культуры были созданы в XX в.? Выберите два памятника культуры и запишите в таблицу цифры, под которыми они указаны.

Ответ:

--	--

6

Создателем какого из приведённых памятников культуры является А.М. Горький? Укажите порядковый номер этого памятника культуры.

Ответ:

--

7

Рассмотрите изображение и выполните задание.



Укажите год, когда был создан данный плакат. Как события на Украине повлияли на выбор, которому посвящён изображённый плакат?

Ответ: \_\_\_\_\_

---

---

---

---

---

---

---

---

---

---

---

---

---

---

---

---

---

---

---

---

---

---

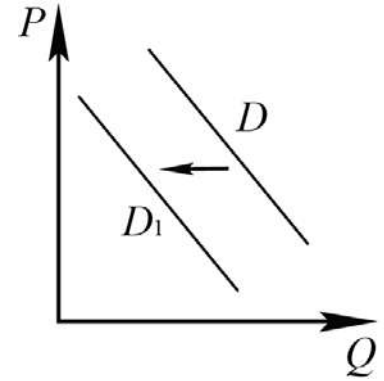
---

---

---

8

На рисунке отражено изменение спроса на модель телевизора на соответствующем рынке: линия спроса  $D$  переместилась в новое положение –  $D_1$ . ( $P$  – цена;  $Q$  – количество.)



Какие из перечисленных факторов могут вызвать такое изменение? Запишите цифры, под которыми они указаны.

- 1) появление негативных отзывов о данной модели в Интернете
- 2) закрытие предприятий, выпускающих данную модель телевизоров
- 3) проведение удачной рекламной кампании
- 4) признание данной модели устаревшей
- 5) увеличение числа покупателей

Ответ: \_\_\_\_\_.

9

Установите соответствие между примерами и видами налогов и сборов согласно Налоговому кодексу РФ: к каждой позиции, данной в первом столбце, подберите соответствующую позицию из второго столбца.

## ПРИМЕРЫ

- А) торговый сбор
- Б) государственная пошлина
- В) земельный налог
- Г) налог на имущество организаций
- Д) транспортный налог

## ВИДЫ НАЛОГОВ И СБОРОВ В РФ

- 1) федеральные
- 2) региональные
- 3) местные

Запишите в таблицу выбранные цифры под соответствующими буквами.

Ответ:

А	Б	В	Г	Д

10

Что из перечисленного относится к конституционным обязанностям гражданина РФ? Запишите цифры, под которыми они указаны.

- 1) забота совершеннолетних трудоспособных детей о нетрудоспособных родителях
- 2) занятие предпринимательской деятельностью
- 3) обращение в органы государственной власти
- 4) уплата законно установленных налогов и сборов
- 5) сохранение исторического и культурного наследия

Ответ: \_\_\_\_\_.

11

Установите соответствие между полномочиями и субъектами государственной власти РФ, реализующими эти полномочия: к каждой позиции, данной в первом столбце, подберите соответствующую позицию из второго столбца.

## ПОЛНОМОЧИЯ

- А) утверждение изменения границ между субъектами РФ
- Б) осуществление управления федеральной собственностью
- В) обеспечение исполнения федерального бюджета
- Г) утверждение военной доктрины РФ
- Д) назначение выборов Президента Российской Федерации

СУБЪЕКТЫ  
ГОСУДАРСТВЕННОЙ ВЛАСТИ  
РФ

- 1) Совет Федерации
- 2) Президент РФ
- 3) Правительство РФ

Запишите в таблицу выбранные цифры под соответствующими буквами.

Ответ:

А	Б	В	Г	Д

12

Накануне официальной регистрации брака совершеннолетние граждане РФ Нина и Олег решили заключить брачный договор. Найдите в приведённом списке позиции, связанные с формой и возможным содержанием брачного договора, и запишите цифры, под которыми они указаны.

- 1) распределение домашних обязанностей
- 2) нотариальное удостоверение
- 3) занятость и трудоустройство супругов
- 4) письменное оформление договора
- 5) способы участия в доходах друг друга
- 6) место жительства детей в случае развода родителей

Ответ: \_\_\_\_\_.



13

Совершеннолетний гражданин России Карасёв работает главным инженером на химическом комбинате. Уставный капитал предприятия разделён на определённое количество ценных бумаг, владельцы которых, в том числе Карасёв, ежегодно получают часть прибыли в виде дивидендов.

- 1) Какова организационно-правовая форма данного предприятия? (Укажите конкретный вид (тип) хозяйственного общества.)
- 2) Как владельцы ценных бумаг несут риск убытков, связанных с деятельностью данного предприятия?
- 3) Отвечают ли они по обязательствам данного предприятия?
- 4) Какие обязанности возложены на Карасёва как работника данного предприятия? (Назовите любые две обязанности работника в соответствии с Трудовым кодексом РФ.)

Ответ на первый вопрос: \_\_\_\_\_

\_\_\_\_\_

Ответ на второй вопрос: \_\_\_\_\_

\_\_\_\_\_

Ответ на третий вопрос: \_\_\_\_\_

\_\_\_\_\_

Ответ на четвёртый вопрос: \_\_\_\_\_

\_\_\_\_\_

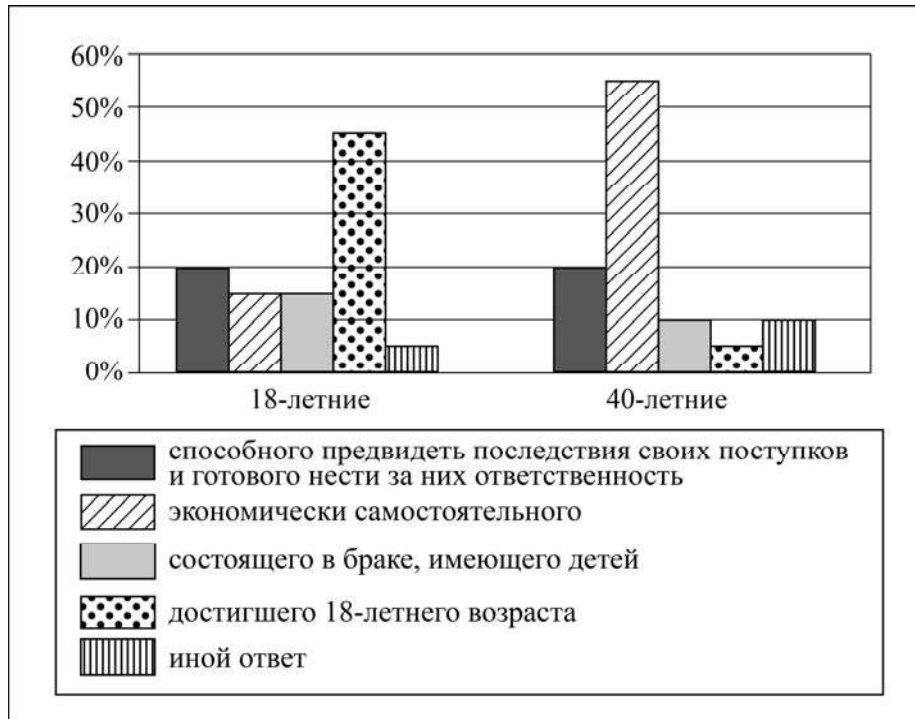
\_\_\_\_\_



14

В ходе социологического опроса граждан страны Z им задавали вопрос: «Какого человека можно назвать взрослым?»

Полученные результаты (в % от числа опрошенных) представлены в виде диаграммы.



Сформулируйте по одному выводу: а) о сходстве; б) о различии в позициях групп опрошенных. Выскажите предположение о том, чем объясняется: а) сходство; б) различие.

Ответ: \_\_\_\_\_

---



---



---



---



---



---



---



---



---



---



---



---



---



---



---



---



---



---



---



---

15

Человек проживает в обычной квартире многоквартирного дома. В квартире проведена электросеть, установлена газовая плита. Определяется сильный запах газа.

Назовите не менее четырёх действий безопасного поведения, которые гражданин должен предпринять при угрозе взрыва и отравления бытовым газом.

Ответ: \_\_\_\_\_

---

---

---

---

---

---

---

---

---

---

16

Если, прогуливаясь по лесу, Вы увидели поваленные ветром деревья – это лесной бурелом. Двигаться в буреломе опасно, но, чтобы не сбиться с маршрута, нужно его преодолеть. Объясните, в чём состоит опасность передвижения по бурелому.

Назовите не менее двух действий, которые нужно предпринять, если человек в лесу преодолевает бурелом.

Ответ: \_\_\_\_\_

---

---

---

---

---

---

---

---

---

---

17

Определите регион России по его краткому описанию.

Особенностью географического положения этой области является наличие выхода к государственной границе РФ. Большая часть её территории области находится в зоне степи, в бассейнах двух рек, относящихся к бассейну внутреннего стока. На территории области разведаны месторождения нефти, природного газа, руд чёрных и цветных металлов. Ведущие отрасли промышленности: топливная, чёрная и цветная металлургия, машиностроение и химическая промышленность. Хорошо развито сельское хозяйство.

Ответ: \_\_\_\_\_.

18

Прочитайте приведённый ниже текст, в котором пропущен ряд слов. Выберите из предлагаемого списка слова, которые необходимо вставить на места пропусков.

### Географические особенности населения Европейского Севера России

Общая численность населения района превышает 4,5 млн человек. Плотность населения ниже средней по России. Наиболее густонаселёнными являются \_\_\_\_\_ (А) и южная части района.

В национальном составе преобладают русские. Коренные народы Европейского Севера относятся к \_\_\_\_\_ (Б) и самодийской группам уральско-юкагирской языковой семьи.

Наиболее крупными по численности населения городами являются Архангельск, Вологда и \_\_\_\_\_ (В).

Выбирайте последовательно одно слово за другим, мысленно вставляя на места пропусков слова из списка в нужной форме. Обратите внимание на то, что слов в списке больше, чем Вам потребуется для заполнения пропусков. Каждое слово может быть использовано только один раз.

Список слов:

- 1) Череповец
- 2) Нижневартовск
- 3) финно-угорская
- 4) балтийская
- 5) восточная
- 6) западная

В данной ниже таблице приведены буквы, обозначающие пропущенные слова. Запишите в таблицу под каждой буквой номер выбранного Вами слова.

Ответ:

А	Б	В

19

Установите соответствие между субъектом РФ и его административным центром: к каждому элементу первого столбца подберите соответствующий элемент из второго столбца.

### СУБЪЕКТ РФ

- А) Чувашская Республика
- Б) Республика Коми
- В) Свердловская область

### АДМИНИСТРАТИВНЫЙ ЦЕНТР

- 1) Екатеринбург
- 2) Чебоксары
- 3) Петрозаводск
- 4) Сыктывкар

Запишите в таблицу выбранные цифры под соответствующими буквами.

Ответ:

А	Б	В

20

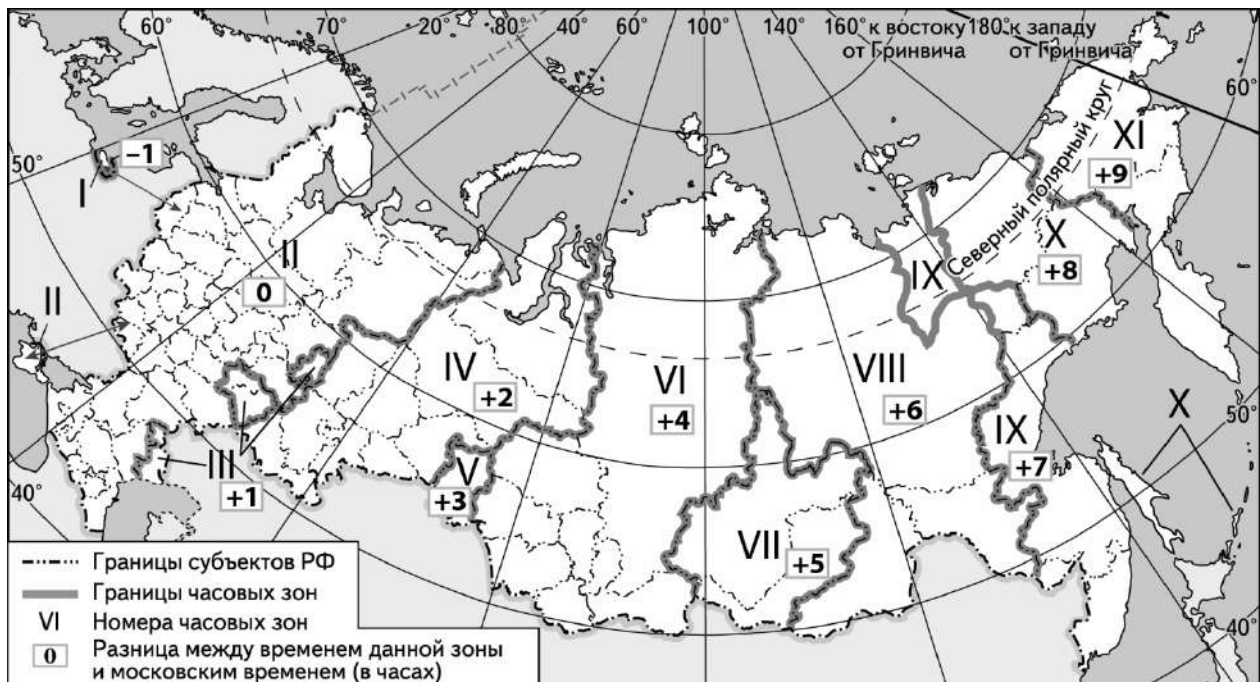
Потенциал российских регионов для развития туризма огромен. Каждый из них имеет рекреационные ресурсы, способные привлечь тысячи туристов из России и зарубежных стран. Определите субъект Российской Федерации по описанию его рекреационного потенциала.

«Визитная карточка данного региона и место притяжения для туристов со всего мира – это заповедник "Столбы", расположенный неподалеку от административного центра. Основной достопримечательностью заповедника являются живописные скалы, имеющие собственные название: "Дед", "Перья", "Слоник" и др. На севере субъекта расположено плато Путорана. На части этого плато, включённой в список Всемирного наследия ЮНЕСКО, сохранился полный набор субарктических и арктических экосистем, сохранившихся в условиях изолированной горной цепи, в том числе нетронутая тайга, лесотундра, тундра и арктические пустыни.»

Ответ: \_\_\_\_\_

21

Прямая трансляция парада на Красной площади в Москве 9 мая начнётся в 10 часов по московскому времени. Используя карту, определите, в каких из перечисленных регионов эта трансляция начнётся в 16 часов по местному времени их регионов. Запишите **цифры**, под которыми они указаны.



- 1) Пермский край
- 2) Амурская область
- 3) Тюменская область
- 4) Хабаровский край
- 5) Забайкальский край
- 6) Республика Хакасия

Ответ: \_\_\_\_\_

22

Портал «Госуслуги» (<https://www.gosuslugi.ru>) является одним из самых востребованных интернет-сервисов для решения вопросов, связанных с обращением в органы государственной власти Российской Федерации, различные ведомства и организации.

На портале возможны три уровня регистрации:

**упрощённый** – указываются контактные данные, доступ к услугам ограничен;

**стандартный** – указываются персональные данные, доступ к услугам ограничен;

**подтверждённый** – помимо указания персональных данных требуется процедура подтверждения личности.

Пользователю с подтверждённым уровнем регистрации доступен наиболее широкий набор услуг, включая выдачу различных персональных документов и справок.

Ответьте на следующие вопросы, связанные с использованием портала «Госуслуги».

1) Какие сведения (персональные данные) помимо ФИО должен указать гражданин при регистрации? Приведите не менее 4 различных позиций.

Ответ: \_\_\_\_\_

\_\_\_\_\_

\_\_\_\_\_

\_\_\_\_\_

2) Каких рисков позволяет избежать ограничение по набору доступных услуг, введённое для пользователей со стандартным уровнем регистрации?

Ответ: \_\_\_\_\_

\_\_\_\_\_

\_\_\_\_\_

\_\_\_\_\_

3) В чём удобство загрузки и хранения всех персональных данных на портале «Госуслуги» для гражданина, получившего подтверждённый уровень регистрации?

Ответ: \_\_\_\_\_

\_\_\_\_\_

\_\_\_\_\_

\_\_\_\_\_

4) В чём удобство электронного способа получения справки по сравнению с очным визитом в соответствующее учреждение?

Ответ: \_\_\_\_\_

\_\_\_\_\_

\_\_\_\_\_

\_\_\_\_\_



Логин ОО
----------

### Система оценивания проверочной работы

Правильный ответ на каждое из заданий 1, 2, 5, 6, 8, 10, 17–21 оценивается 1 баллом. Задание считается выполненным верно, если ответ записан в той форме, которая указана в инструкции по выполнению задания.

Полный правильный ответ на каждое из заданий 9, 11, 12 оценивается 2 баллами. Ответы на эти задания оцениваются следующим образом: полное правильное выполнение задания – 2 балла; выполнение задания с одной ошибкой (одной неверно указанной, в том числе лишней, цифрой наряду со всеми верными цифрами) ИЛИ неполное выполнение задания (отсутствие одной необходимой цифры) – 1 балл; неверное выполнение задания (при указании двух или более ошибочных цифр) – 0 баллов.

Номер задания	Правильный ответ
1	214
2	4132; 3241
5	1,2
6	2
8	14
9	31322
10	145
11	13321
12	245
17	Оренбургская
18	631
19	241
20	Красноярский край
21	25

**Критерии оценивания выполнения заданий с развернутым ответом**

3

<b>Содержание верного ответа и указания по оцениванию</b> (допускаются иные формулировки ответа, не искажающие его смысла)	<b>Баллы</b>
Правильный ответ должен содержать следующие <u>элементы</u> : 1) <u>фамилия</u> – Сталин; Джугашвили; 2) <u>объяснения</u> , например: а) с образованием СЭВ Советский Союз укрепил экономическое единство стран Центральной и Восточной Европы, играя в СЭВ основную роль; б) с образованием СЭВ усилилось противостояние между двумя враждебными блоками в ходе «холодной войны». Могут быть даны иные объяснения	
Правильно указана фамилия, приведены объяснения по двум пунктам	2
Правильно указана фамилия, приведено объяснение только по одному любому пункту	1
Правильно указана только фамилия. ИЛИ Фамилия не указана / указана неправильно независимо от наличия объяснений. ИЛИ Приведены рассуждения общего характера, не соответствующие требованию задания	0
<i>Максимальный балл</i>	2

4

<b>Содержание верного ответа и указания по оцениванию</b> (допускаются иные формулировки ответа, не искажающие его смысла)	<b>Баллы</b>
Правильный ответ должен содержать следующие <u>элементы</u> : 1) <u>номер съезда</u> – XX съезд; 2) <u>ответ на вопрос</u> : «после злодейского убийства С.М. Кирова»; 3) <u>название периода</u> : «оттепель»	
Правильно указаны номер съезда, название периода, дан ответ на вопрос	3
Правильно указаны два элемента ответа	2
Правильно указан один любой элемент ответа	1
Ответ неправильный	0
<i>Максимальный балл</i>	3



7

<b>Содержание верного ответа и указания по оцениванию</b> (допускаются иные формулировки ответа, не искажающие его смысла)	<b>Баллы</b>
<p>Правильный ответ должен содержать следующие <u>элементы</u>:</p> <p>1) <u>год</u> – 2014 г;</p> <p>2) <u>ответ на вопрос</u>, например: в условиях острого политического кризиса на Украине в начале 2014 г. к власти в Киеве пришли националисты. Произошло свержение законно избранного президента В.Ф. Януковича. Было предложено отменить закон о статусе русского языка как регионального, что означало бы фактический запрет на его использование. В ответ на это русскоязычное население выступило в защиту своих прав. В ходе референдума крымчане и севастопольцы высказались за воссоединение Крыма и Севастополя с Россией.</p> <p>Может быть дан другой ответ на вопрос</p>	
Правильно указан год и дан ответ на вопрос	2
Правильно указан только один любой элемент ответа	1
Ответ неправильный	0
<i>Максимальный балл</i>	2

13

<b>Содержание верного ответа и указания по оцениванию</b> (допускаются иные формулировки ответа, не искажающие его смысла)	<b>Баллы</b>
<p>Правильный ответ должен содержать следующие <u>элементы</u>:</p> <p>1) <u>ответ на первый вопрос</u>: акционерное общество;</p> <p>2) <u>ответ на второй вопрос</u>: в пределах стоимости принадлежащих им акций;</p> <p>3) <u>ответ на третий вопрос</u>: не отвечают / нет;</p> <p>4) <u>ответ на четвёртый вопрос</u>, например:</p> <ul style="list-style-type: none"> <li>– добросовестно исполнять свои трудовые обязанности, возложенные на него трудовым договором;</li> <li>– соблюдать правила внутреннего трудового распорядка;</li> <li>– соблюдать трудовую дисциплину;</li> <li>– выполнять установленные нормы труда;</li> <li>– соблюдать требования по охране труда и обеспечению безопасности труда.</li> </ul> <p>(Могут быть названы другие обязанности работника в соответствии со ст. 21 Трудового кодекса РФ.)</p> <p><i>(Ответ на четвёртый вопрос засчитывается только при указании двух или более обязанностей работника в соответствии со ст. 21 Трудового кодекса РФ.)</i></p> <p>Ответы на вопросы могут быть даны в других, близких по смыслу формулировках</p>	
Правильно даны ответы на четыре вопроса	3
Правильно даны ответы только на любые три вопроса	2
Правильно даны ответы только на любые два вопроса	1
Правильно дан ответ только на один любой вопрос.	0
ИЛИ Приведены рассуждения общего характера, не соответствующие требованию задания.	
ИЛИ Ответ неправильный	
<i>Максимальный балл</i>	3

14

Содержание верного ответа и указания по оцениванию (допускаются иные формулировки ответа, не искажающие его смысла)	Баллы
<p>В правильном ответе должны быть сформулированы <u>выводы</u> и высказаны <u>предположения</u>:</p> <p>а) о <u>сходстве</u>, например: одинаковые доли опрошенных каждой возрастной группы считают, что взрослым можно назвать человека, способного предвидеть последствия своих поступков и готового нести за них ответственность (возможное объяснение, например: безусловно, готовность ответить за любые свои действия является важным показателем взрослости человека, неудивительно, что независимо от возраста опрошенные выбирают этот ответ);</p> <p>б) о <u>различии</u>, например: среди 18-летних наиболее популярен ответ, связанный с достижением совершеннолетия, в то время как среди 40-летних – ответ, связанный с наличием работы, способностью обеспечить себя и своих близких (возможное объяснение, например: это связано со стремлением молодых людей как можно быстрее приобрести статус взрослого, в то время как люди более старшего возраста понимают, что показателем взрослости может служить прежде всего экономическая самостоятельность и независимость человека).</p> <p>Могут быть сформулированы другие выводы о сходстве и различии, высказаны иные уместные предположения</p>	
Сформулированы два вывода, по каждому из них высказано уместное предположение	4
Сформулированы один-два вывода, по любому одному из них высказано уместное предположение	3
Сформулированы только два вывода	2
Сформулирован только один вывод	1
Приведены рассуждения общего характера, не соответствующие требованию задания. ИЛИ Ответ неправильный	0
<i>Максимальный балл</i>	4

15

<b>Содержание верного ответа и указания по оцениванию</b> (допускаются иные формулировки ответа, не искажающие его смысла)	<b>Баллы</b>
<p>Могут быть названы следующие <u>действия</u>:</p> <ol style="list-style-type: none"> <li>1) при запахе газа сделать глубокий вдох, действовать на задержке дыхания;</li> <li>2) перекрыть газовую магистраль;</li> <li>3) открыть настежь окна и двери на проветривание;</li> <li>4) проверить помещение на наличие пострадавших (если обнаружили, то эвакуировать в безопасную зону на свежий воздух);</li> <li>5) вызвать чрезвычайные службы по номеру 112;</li> <li>6) ни в коем случае не звонить в дверь, не пользоваться электрическими приборами и не включать освещение;</li> <li>7) в темноте применять только маломощные диодные фонари, которые должны храниться в легкодоступных местах.</li> </ol> <p>Могут быть названы иные действия</p>	
Правильно названы не менее четырёх действий (в соответствии с требованием задания)	2
Правильно названы только два-три действия (в соответствии с требованием задания)	1
<p>Правильно названо только одно действие (в соответствии с требованием задания).</p> <p>ИЛИ Приведены рассуждения общего характера, не соответствующие требованию задания.</p> <p>ИЛИ Ответ неправильный</p>	0
<i>Максимальный балл</i>	2

16

Содержание верного ответа и указания по оцениванию (допускаются иные формулировки ответа, не искажающие его смысла)	Баллы
<p>Правильный ответ должен содержать следующие <u>элементы</u>:</p> <p>1) <u>объяснение опасности</u>, например:  – если человек попал в зону лесного бурелома, он, передвигаясь по нему, может получить различные травмы и переломы;  – устать, обессилеть, заблудиться и как следствие – погибнуть;  (Может быть дано иное объяснение.)</p> <p>2) <u>действия в заданной ситуации</u>, например:  – успокоиться, не паниковать;  – сориентироваться на местности;  – двигаться перпендикулярно стволам поваленных деревьев до выхода из полосы бурелома;  – не двигаться в сторону стволов поваленных деревьев;  – двигаться медленно и осторожно, внимательно смотреть под ноги.</p> <p>Могут быть названы иные действия</p>	
Правильно дано объяснение опасности, названы не менее двух действий (в соответствии с требованием задания)	2
Правильно дано объяснение опасности, названо только одно действие (в соответствии с требованием задания). ИЛИ Правильно названы не менее двух действий (в соответствии с требованием задания)	1
Правильно дано только объяснение опасности. ИЛИ Правильно названо только одно действие (в соответствии с требованием задания). ИЛИ Приведены рассуждения общего характера, не соответствующие требованию задания. ИЛИ Ответ неправильный	0
<i>Максимальный балл</i>	2

22

Содержание верного ответа и указания по оцениванию (допускаются иные формулировки ответа, не искажающие его смысла)	Баллы
<p>В правильном ответе должны быть даны <u>ответы на четыре вопроса</u>, например:</p> <p>1) дата рождения, место рождения, реквизиты паспорта гражданина, СНИЛС, ИНН и др.;</p> <p><i>(Ответ на первый вопрос засчитывается только при правильном указании не менее четырёх позиций.)</i></p> <p>2) ограничение доступа для пользователя, не прошедшего процедуру подтверждения личности, необходимо для того, чтобы злоумышленник, завладевший персональными данными гражданина, не смог зарегистрироваться и получать услуги вместо него;</p> <p><i>(Ответ на вопрос может быть дан в иной, близкой по смыслу формулировке.)</i></p> <p>3) удобство хранения персональных данных на портале «Госуслуги» с подтверждённым уровнем регистрации состоит в том, что нет необходимости заполнять формы с требуемыми персональными данными каждый раз, когда необходимо получить какую-либо электронную услугу, – достаточно заполнить эти сведения один раз и пройти подтверждение регистрации ИЛИ удобство состоит в том, что при утере документов их проще восстановить;</p> <p><i>(Может быть дано иное объяснение удобства.)</i></p> <p>4) электронный заказ справок позволяет сэкономить время на визит в соответствующее учреждение ИЛИ электронный заказ справок более безопасен по сравнению с очным визитом в учреждение при неблагоприятной эпидемиологической обстановке.</p> <p>Может быть дано иное объяснение</p>	
Даны правильные ответы на четыре вопроса	4
Даны правильные ответы только на любые три вопроса	3
Даны правильные ответы только на любые два вопроса	2
Дан правильный ответ только на один любой вопрос	1
Приведены рассуждения общего характера, не соответствующие требованию задания. ИЛИ Ответ неправильный	0
<i>Максимальный балл</i>	4

### Система оценивания выполнения всей работы

Максимальный балл за выполнение работы – 39.

*Рекомендации по переводу первичных баллов в отметки по пятибалльной шкале*

Отметка по пятибалльной шкале	«2»	«3»	«4»	«5»
Первичные баллы	0–13	14–22	23–31	32–39