

**Проверочная работа  
по БИОЛОГИИ**

**6 КЛАСС**

**Вариант 1**

**Инструкция по выполнению работы**

На выполнение работы по биологии отводится 45 минут. Работа включает в себя 10 заданий.

Ответы на задания запишите в поля ответов в тексте работы. В случае записи неверного ответа зачеркните его и запишите рядом новый.

При выполнении работы не разрешается пользоваться учебником, рабочими тетрадями и другим справочным материалом. Разрешается использовать линейку.

При необходимости можно пользоваться черновиком. Записи в черновике проверяться и оцениваться не будут.

Советуем выполнять задания в том порядке, в котором они даны. В целях экономии времени пропускайте задание, которое не удаётся выполнить сразу, и переходите к следующему. Если после выполнения всей работы у Вас останется время, то Вы сможете вернуться к пропущенным заданиям.

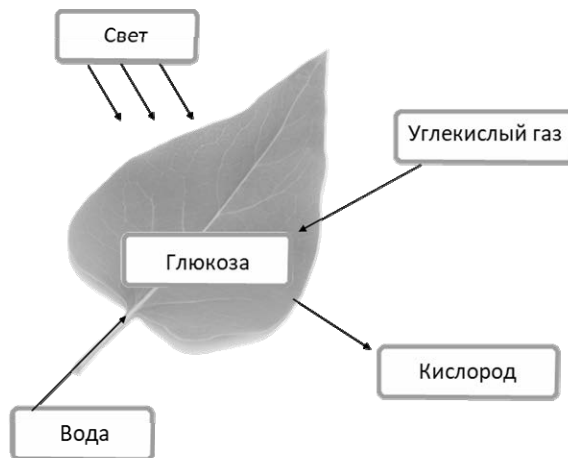
***Желаем успеха!***

*Таблица для внесения баллов участника*

Номер задания	1.1	1.2	1.3	2.1	2.2	3.1	3.2	3.3	3.4	4	5.1	5.2	5.3	6	7	8.1	8.2	8.3	
Баллы																			
Номер задания	9	10.1	10.2	Сумма баллов	Отметка за работу														
Баллы																			

1

На представленном ниже рисунке ученик зафиксировал в виде схемы один из процессов жизнедеятельности растений. Рассмотрите схему и ответьте на вопросы.



1.1. Как называют данный процесс?

Ответ. \_\_\_\_\_

1.2. Знание в области какой ботанической науки позволит ученику изучить данный процесс?

Ответ. \_\_\_\_\_

1.3. Какой клеточный пигмент обеспечивает данный процесс?

Ответ. \_\_\_\_\_

2

В приведённой ниже таблице между позициями первого и второго столбцов имеется взаимосвязь.

Целое	Часть
Образовательная ткань	Камбий
...	Древесинные волокна

2.1. Какое понятие следует вписать на место пропуска в этой таблице?

- 1) механическая ткань
- 2) проводящая ткань
- 3) покровная ткань
- 4) запасаящая ткань

Ответ.

2.2. Какую функцию выполняет камбий у растений?

Ответ. \_\_\_\_\_

3

3.1. Рассмотрите рисунок растительной клетки (рис. 1). Какая структура клетки обозначена на рисунке буквой А?

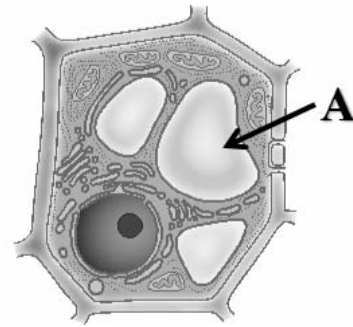


Рис. 1

Ответ. \_\_\_\_\_

3.2. Каково значение этой структуры в жизнедеятельности клетки?

Ответ. \_\_\_\_\_

3.3. Ольга рассмотрела кожицу листа герани под микроскопом и сделала микрофотографию (рис. 2). Что она обозначила на фотографии цифрой 1?

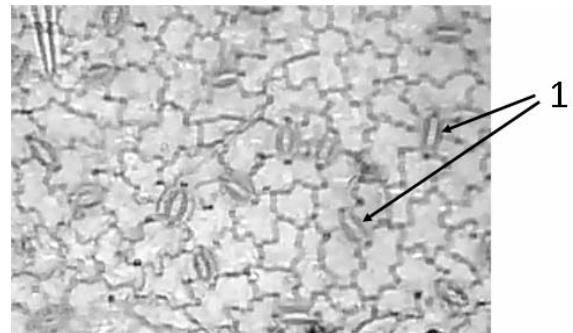


Рис. 2

Ответ. \_\_\_\_\_

3.4. К какому типу ткани относятся запечатлённые на фотографии клетки?

Ответ. \_\_\_\_\_

4

Выберите из предложенного списка и вставьте в текст пропущенные слова (словосочетание), используя для этого их цифровые обозначения. Впишите номера выбранных слов на места пропусков в тексте.

**ДВИЖЕНИЕ ВЕЩЕСТВ ПО РАСТЕНИЮ**

Для образования органических веществ в листе необходима \_\_\_\_\_ (А), которую растение получает из почвы с помощью \_\_\_\_\_ (Б). Почвенный раствор поднимается вверх благодаря особому корневому давлению по специальным клеткам проводящей ткани – \_\_\_\_\_ (В) и поступает в лист. В хлоропластах листа из неорганических веществ синтезируются органические.

Список слов (словосочетание):

- 1) сосуд
- 2) вода
- 3) корень
- 4) глюкоза
- 5) ситовидная трубка
- б) стебель

Запишите в таблицу выбранные цифры под соответствующими буквами.

Ответ.

А	Б	В

5

Рассмотрите изображение побега и выполните задания.



5.1. Покажите стрелками и подпишите на рисунке *стебель*, *верхушечную почку*, *междоузлие*.

5.2. Какое листорасположение называют *очередным*?

Ответ. \_\_\_\_\_

5.3. Из какой части семени формируется *главный побег* растения?

Ответ. \_\_\_\_\_

6

Древесные стебли образуются у

- 1) кустарников
- 2) многолетних трав
- 3) однолетних трав
- 4) лиан

Ответ.

7

Используя приведённую ниже таблицу, ответьте на вопросы.

**Содержание минеральных веществ в овощных культурах, мг/100 г**

<b>Овощная культура</b>	<b>Калий</b>	<b>Кальций</b>	<b>Магний</b>	<b>Фосфор</b>	<b>Железо</b>
Капуста белокочанная	185	48	16	31	1,0
Тыква	170	40	14	25	0,8
Свёкла	288	37	43	43	1,4
Редька	357	35	22	26	1,2

Какая овощная культура из представленных в таблице содержит одинаковое количество магния и фосфора?

Ответ. \_\_\_\_\_

Какое вещество из перечисленных в таблице содержится в редьке в наибольшем количестве, а какое – в наименьшем?

Ответ. \_\_\_\_\_

Какую овощную культуру из перечисленных в таблице следует включить в свой рацион человеку, у которого недостаток кальция в организме?

Ответ. \_\_\_\_\_

8

Известно, что для развития плесени (микроскопических грибов) необходимы определённые условия. Алексей решил выяснить роль одного из таких условий, проведя следующий опыт. Он взял два одинаковых блюда и положил на каждое по два десятка свежих ягод крыжовника. Одно блюдо он поместил в шкаф, а другое убрал в холодильник и стал наблюдать. Через несколько дней Алексей обнаружил, что сначала плесень появилась на ягодах в шкафу, а спустя ещё некоторое время – на плодах, которые были в холодильнике.



8.1. Влияние какого условия на развитие плесени иллюстрирует данный опыт?

Ответ. \_\_\_\_\_

8.2. Сформулируйте вывод о влиянии этого условия на развитие плесени.

Ответ. \_\_\_\_\_

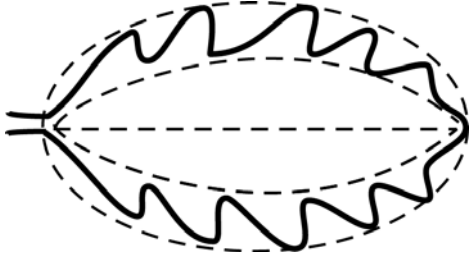


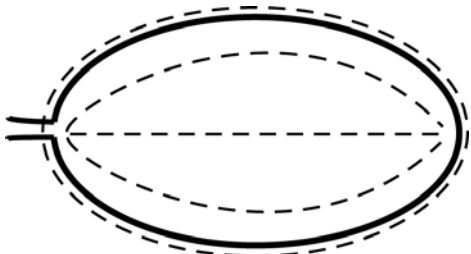
8.3. Используя рисунки, решите, какое из условий опыта, проведённого Алексеем, является обязательным для развития плесени. Обоснуйте свой ответ.

Ответ. \_\_\_\_\_


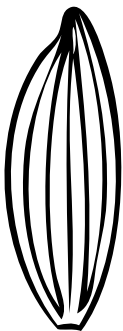


9

Рассмотрите изображение листа монстеры и опишите его по следующему плану: форма листа, жилкование листа, тип листа по соотношению длины и ширины листовой пластинки (без черешка) и по расположению наиболее широкой части. Используйте при выполнении задания линейку и карандаш.

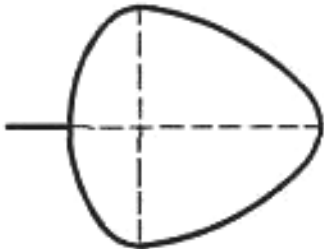
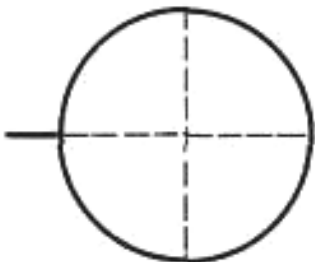
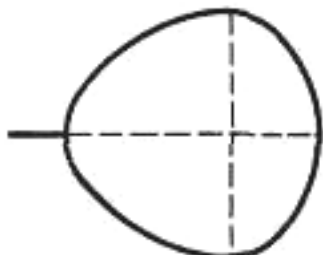
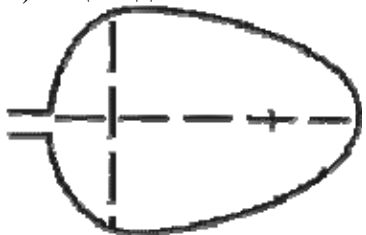
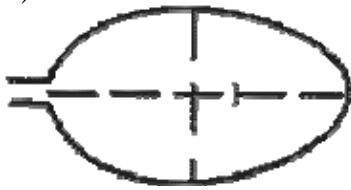

**А. Форма листа**

1) перисто-лопастная 	2) перисто-раздельная 
3) перисто-рассечённая 	4) цельная 

**Б. Жилкование листа**

			
1) параллельное	2) дуговидное	3) пальчатое	4) перисто-сетчатое

**В. Тип листа** по соотношению длины и ширины листовой пластинки (без черешка) и по расположению наиболее широкой части

Длина равна ширине или немного её превышает.		
1) широкояйцевидный 	2) округлый 	3) обратно-широкояйцевидный 
Длина превышает ширину в 1,5–2 раза.		
4) яйцевидный 	5) овальный 	6) обратно-яйцевидный 

Впишите в таблицу **номера** выбранных ответов под соответствующими буквами.

Ответ.

А	Б	В





10

Растения по-разному относятся к свету, теплу и влаге, и это учитывается цветоводами при разведении различных растений.

10.1. Опишите особенности растений филодендрона и фиалки, которые необходимо учитывать при их разведении в домашних условиях, используя для этого таблицу условных обозначений.





**Условные обозначения:**

1) Выносливость			3) Требуемый режим полива				
	выносливое	капризное		сухая земля	увлажнённая земля	постоянно влажная земля	вода в поддоне
2) Требуемая влажность воздуха			4) Отношение к свету				
	не требует опрыскивания	регулярное опрыскивание		прямые лучи	рассеянный свет	полутень	тень

**Характеристики:**







1) 2) 3) 4)

			
---	---	---	---



1) 2) 3) 4)

			
--	---	---	---

Филодендрон:

- 1) \_\_\_\_\_
- \_\_\_\_\_
- 2) \_\_\_\_\_
- \_\_\_\_\_
- 3) \_\_\_\_\_
- \_\_\_\_\_
- 4) \_\_\_\_\_
- \_\_\_\_\_

Фиалка:

- 1) \_\_\_\_\_
- \_\_\_\_\_
- 2) \_\_\_\_\_
- \_\_\_\_\_
- 3) \_\_\_\_\_
- \_\_\_\_\_
- 4) \_\_\_\_\_
- \_\_\_\_\_

10.2. По каким позициям из приведённых в описании эти растения имеют одинаковые характеристики?

Ответ. \_\_\_\_\_

\_\_\_\_\_