

Часть 1

В этой части работы даны задания по истории России и истории зарубежных стран в Новое время.

1 Расположите в хронологической последовательности исторические события. Запишите цифры, которыми обозначены исторические события, в правильной последовательности в таблицу.

- 1) ограничение службы дворян 25 годами
- 2) перенос столицы России из Москвы в Санкт-Петербург
- 3) издание манифеста об упразднении Запорожской Сечи

Ответ:

--	--	--

2 Запишите название мирного договора, о котором идёт речь.

Русско-шведский мирный договор, заключённый в 1721 г., который завершил Северную войну и изменил российско-шведскую границу.

Ответ: _____.

Рассмотрите изображение и выполните задания 3, 4.



3 Назовите мужа изображённой на монете императрицы.

Ответ: _____.

4

Укажите название высшего совещательного государственного учреждения Российской империи, которое было создано в период правления изображённой на монете императрицы.

Ответ: _____.

Прочтите отрывок из исторического источника и выполните задание 5.

«...Всем недвижимых вещей, то есть, родовых, выслуженных и купленных вотчин и поместий, также и дворов, и лавок не продавать и не закладывать, но обращаться оным в род таким образом:

...Кто имеет сыновей, и хочет одному из них дать недвижимое чрез духовную (по завещанию), тому в наследие и будет; другие же дети обоего пола да награждены будут движимым имением, которые должен отец их или мать разделить им при себе как сыновьям, так и дочерям, сколько их будет, по своей воле, кроме одного, который в недвижимых наследником будет. А ежели у кого-то сыновей не будет, а имеет дочерей, то должен их определить таким же образом».

5

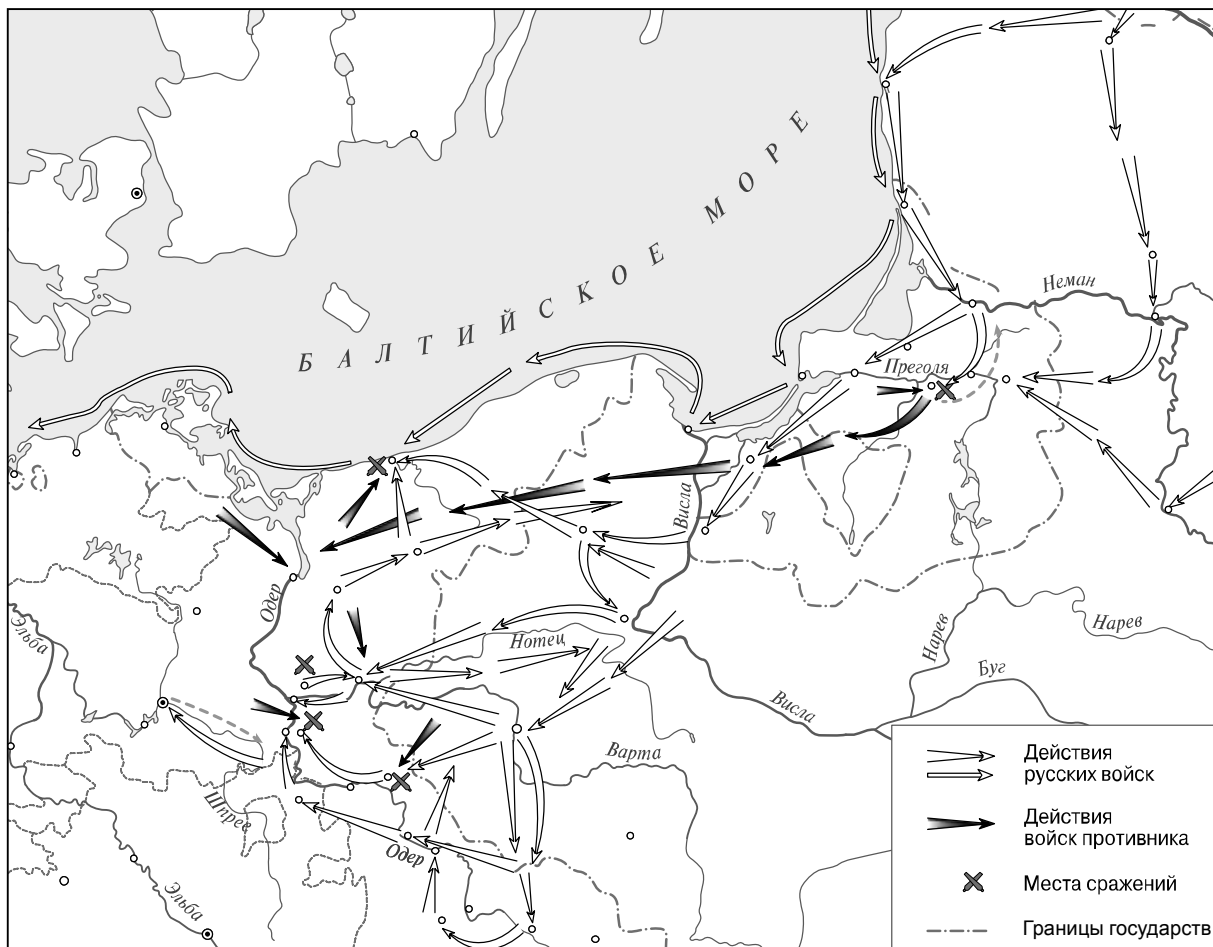
Назовите монарха, издавшего данный указ.

Ответ: _____

Назовите две формы землевладения, разницу между которыми ликвидировал данный указ.

Ответ: _____

Рассмотрите карту и выполните задания 6, 7.



6

Назовите российского монарха, при котором Россия подписала договор с противником, военные действия против которого обозначены на карте, и вернула ему все занятые русскими войсками территории.

□



Ответ: _____.

7

Подпишите на карте город Кёнигсберг и территорию Речи Посполитой.

□

Ознакомьтесь с приведённым перечнем и изображениями памятников культуры и выполните задания 8, 9.

- 1) «Ода блаженной памяти Государыне Императрице Анне Иоанновне на победу над турками и на взятие Хотина»
- 2) «Сказание об осаде Троице-Сергиева монастыря от поляков и литвы и о бывших потом в России мятежах»
- 3) «Хожение за три моря»
- 4) 
- 5) 

8

Какие из приведённых памятников культуры были созданы в XVIII в.? Выберите **два** памятника культуры и запишите в таблицу цифры, под которыми они указаны.

Ответ:

--	--

9

Создателем какого из приведённых памятников культуры является М.В. Ломоносов? Укажите порядковый номер этого памятника культуры.

Ответ:

--

10

Какой из приведённых исторических фактов можно использовать для аргументации следующей точки зрения: «Проведение реформ Петра I сопровождалось народными выступлениями»? Укажите порядковый номер этого факта в списке.

- 1) восстание под предводительством Т. Костюшко
- 2) восстание под предводительством Е.И. Пугачёва
- 3) восстание под предводительством К.А. Булавина

Ответ:

Объясните, как с помощью выбранного Вами факта можно аргументировать данную точку зрения.

Ответ: _____

В приведённом ниже списке указаны фамилии четырёх исторических деятелей. Выберите из них ОДНОГО исторического деятеля, а затем выполните задания 11, 12. Перед выполнением каждого из заданий 11, 12 укажите букву, которой выбранный исторический деятель обозначен в списке. Указанные в заданиях 11, 12 буквы должны быть одинаковыми.

Список исторических деятелей

А) И.П. Кулибин

Б) Ф.Я. Лефорт

В) Ф.Ф. Ушаков

Г) Людовик XVI

11 Выбранный исторический деятель: (укажите букву в перечне).

Укажите одно любое историческое событие (процесс), в котором участвовал исторический деятель. Приведите два исторических факта, связанных с участием выбранного Вами исторического деятеля в этом событии (процессе).

Событие (процесс): _____

Факты, связанные с участием в событии (процессе) исторического деятеля: _____

12 Выбранный исторический деятель: (укажите букву в перечне).

Используя знание исторических фактов, объясните, почему событие (процесс), в котором участвовал этот исторический деятель, имело большое значение (важные последствия) для истории нашей страны и/или истории зарубежных стран.

Ответ: _____
