

Единый государственный экзамен
по МАТЕМАТИКЕ

Базовый уровень

Инструкция по выполнению работы

Экзаменационная работа включает в себя 21 задание.

На выполнение работы отводится 3 часа (180 минут).

Ответы к заданиям записываются по приведённым ниже образцам в виде числа или последовательности цифр. Сначала запишите ответы к заданиям в поле ответа в тексте работы, а затем перенесите их в бланк ответов № 1 справа от номера соответствующего задания.

КИМ Ответ: -0,8

0	1	2	3	4	5	6	7	8	9
0	1	2	3	4	5	6	7	8	9

 Бланк

Если ответом является последовательность цифр, как в приведённом ниже примере, то запишите эту последовательность в бланк ответов № 1 без пробелов, запятых и других дополнительных символов.

КИМ Ответ:

А	Б	В	Г
4	3	1	2

0	1	2	3	4	5	6	7	8	9
9	4	3	1	2					

 Бланк

Все бланки ЕГЭ заполняются яркими чёрными чернилами. Допускается использование гелевой или капиллярной ручки.

При выполнении заданий можно пользоваться черновиком. **Записи в черновике, а также в тексте контрольных измерительных материалов не учитываются при оценивании работы.**

Баллы, полученные Вами за выполненные задания, суммируются. Постарайтесь выполнить как можно больше заданий и набрать наибольшее количество баллов.

После завершения работы проверьте, что ответ на каждое задание в бланках ответов №1 записан под правильным номером.

Желаем успеха!

Справочные материалы

Алгебра

Таблица квадратов целых чисел от 0 до 99

Десятки	Единицы									
	0	1	2	3	4	5	6	7	8	9
0	0	1	4	9	16	25	36	49	64	81
1	100	121	144	169	196	225	256	289	324	361
2	400	441	484	529	576	625	676	729	784	841
3	900	961	1024	1089	1156	1225	1296	1369	1444	1521
4	1600	1681	1764	1849	1936	2025	2116	2209	2304	2401
5	2500	2601	2704	2809	2916	3025	3136	3249	3364	3481
6	3600	3721	3844	3969	4096	4225	4356	4489	4624	4761
7	4900	5041	5184	5329	5476	5625	5776	5929	6084	6241
8	6400	6561	6724	6889	7056	7225	7396	7569	7744	7921
9	8100	8281	8464	8649	8836	9025	9216	9409	9604	9801

Свойства арифметического квадратного корня

$$\sqrt{ab} = \sqrt{a} \cdot \sqrt{b} \text{ при } a \geq 0, b \geq 0 \quad \sqrt{\frac{a}{b}} = \frac{\sqrt{a}}{\sqrt{b}} \text{ при } a \geq 0, b > 0$$

Корни квадратного уравнения $ax^2 + bx + c = 0, a \neq 0$

$$x_1 = \frac{-b - \sqrt{b^2 - 4ac}}{2a}, \quad x_2 = \frac{-b + \sqrt{b^2 - 4ac}}{2a} \text{ при } b^2 - 4ac > 0$$

$$x = -\frac{b}{2a} \text{ при } b^2 - 4ac = 0$$

Формулы сокращенного умножения

$$(a + b)^2 = a^2 + 2ab + b^2$$

$$(a - b)^2 = a^2 - 2ab + b^2$$

$$a^2 - b^2 = (a + b)(a - b)$$





Степень и логарифм

Свойства степени при $a > 0, b > 0$

$$a^{-n} = \frac{1}{a^n}$$

$$a^n \cdot a^m = a^{n+m}$$

$$\frac{a^n}{a^m} = a^{n-m}$$

$$(a^n)^m = a^{nm}$$

$$(ab)^n = a^n \cdot b^n$$

$$\left(\frac{a}{b}\right)^n = \frac{a^n}{b^n}$$

Свойства логарифма при $a > 0, a \neq 1, b > 0, x > 0, y > 0$

$$a^{\log_a b} = b$$

$$\log_a a = 1$$

$$\log_a 1 = 0$$

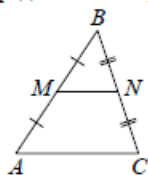
$$\log_a (xy) = \log_a x + \log_a y$$

$$\log_a \left(\frac{x}{y}\right) = \log_a x - \log_a y$$

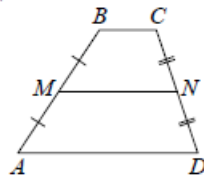
$$\log_a b^k = k \log_a b$$

Геометрия

Средняя линия треугольника и трапеции

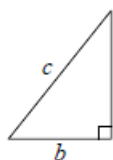


MN — ср. лин.
 $MN \parallel AC$
 $MN = \frac{AC}{2}$



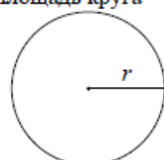
$BC \parallel AD$
 MN — ср. лин.
 $MN \parallel AD$
 $MN = \frac{BC + AD}{2}$

Теорема Пифагора



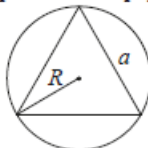
$$a^2 + b^2 = c^2$$

Длина окружности
Площадь круга

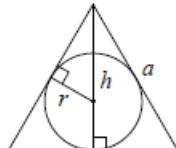


$C = 2\pi r$
 $S = \pi r^2$

Правильный треугольник



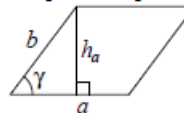
$R = \frac{a\sqrt{3}}{3}$
 $S = \frac{a^2\sqrt{3}}{4}$



$r = \frac{a\sqrt{3}}{6}$
 $h = \frac{a\sqrt{3}}{2}$

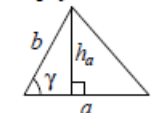
Площади фигур

Параллелограмм



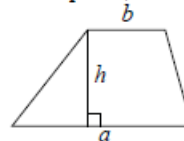
$S = ah_a$
 $S = ab \sin \gamma$

Треугольник



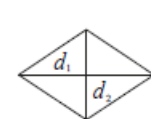
$S = \frac{1}{2} ah_a$
 $S = \frac{1}{2} ab \sin \gamma$

Трапеция



$S = \frac{a+b}{2} \cdot h$

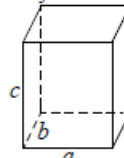
Ромб



d_1, d_2 — диагонали
 $S = \frac{1}{2} d_1 d_2$

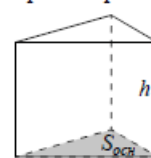
Площади поверхностей и объёмы тел

Прямоугольный параллелепипед



$V = abc$

Прямая призма



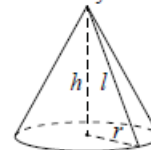
$V = S_{осн} h$

Пирамида



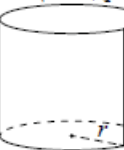
$V = \frac{1}{3} S_{осн} h$

Конус



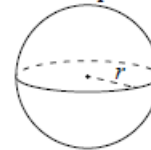
$V = \frac{1}{3} \pi r^2 h$
 $S_{бок} = \pi r l$

Цилиндр



$V = \pi r^2 h$
 $S_{бок} = 2\pi r h$

Шар

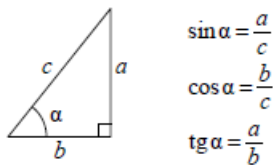


$V = \frac{4}{3} \pi r^3$
 $S = 4\pi r^2$

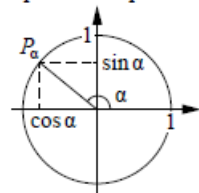
ege100ballov

Тригонометрические функции

Прямоугольный треугольник



Тригонометрическая окружность



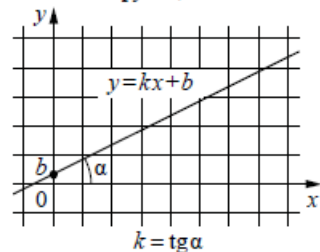
Основное тригонометрическое тождество: $\sin^2 \alpha + \cos^2 \alpha = 1$

Некоторые значения тригонометрических функций

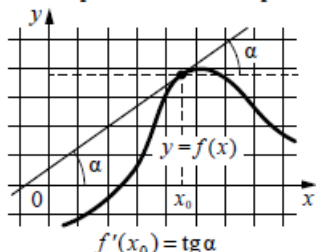
α	радианы	0	$\frac{\pi}{6}$	$\frac{\pi}{4}$	$\frac{\pi}{3}$	$\frac{\pi}{2}$	π	$\frac{3\pi}{2}$	2π
	градусы	0°	30°	45°	60°	90°	180°	270°	360°
$\sin \alpha$		0	$\frac{1}{2}$	$\frac{\sqrt{2}}{2}$	$\frac{\sqrt{3}}{2}$	1	0	-1	0
$\cos \alpha$		1	$\frac{\sqrt{3}}{2}$	$\frac{\sqrt{2}}{2}$	$\frac{1}{2}$	0	-1	0	1
$\operatorname{tg} \alpha$		0	$\frac{\sqrt{3}}{3}$	1	$\sqrt{3}$	—	0	—	0

Функции

Линейная функция



Геометрический смысл производной



Ответом к каждому заданию является конечная десятичная дробь, или целое число, или последовательность цифр. Ответ сначала запишите в поле ответа в тексте работы, а затем перенесите в БЛАНК ОТВЕТОВ № 1 справа от номера соответствующего задания. Каждую цифру, знак «минус» и запятую пишите в отдельной клеточке в соответствии с приведёнными в бланке образцами. Единицы измерений писать не нужно.

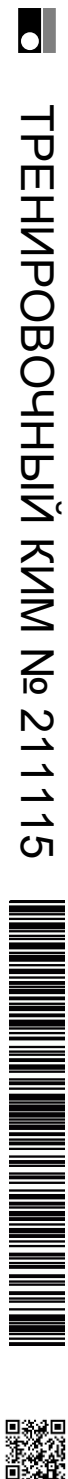
- 1 Найдите значение выражения $\frac{5,6}{1,7 - 1,6}$.
Ответ: _____.
- 2 В среднем за день во время конференции расходуется 80 пакетиков чая. Конференция длится 4 дня. В пачке чая 100 пакетиков. Какого наименьшего количества пачек чая хватит на все дни конференции?
Ответ: _____.
- 3 Установите соответствие между величинами и их возможными значениями: к каждому элементу первого столбца подберите соответствующий элемент из второго столбца.

<u>ВЕЛИЧИНЫ</u>	<u>ЗНАЧЕНИЯ</u>
А) площадь города Санкт-Петербурга	1) 420 кв. м
Б) площадь одной стороны монеты	2) 300 кв. мм
В) площадь поверхности тумбочки	3) 1439 кв. км
Г) площадь баскетбольной площадки	4) 0,2 кв. м


В таблице под каждой буквой, соответствующей величине, укажите номер её возможного значения.

Ответ:

А	Б	В	Г



- 4 На диаграмме показана среднемесячная температура воздуха в Санкт-Петербурге за каждый месяц 1999 года. По горизонтали указываются месяцы, по вертикали – температура в градусах Цельсия.



Определите по диаграмме наибольшую среднемесячную температуру в период с февраля по июнь 1999 года. Ответ дайте в градусах Цельсия.

Ответ: _____.

- 5 На клетчатой бумаге с размером клетки 1×1 изображён параллелограмм. Найдите его площадь.



Ответ: _____.

- 6 Ежемесячная плата за телефон составляет 300 рублей в месяц. В следующем году она увеличится на 6%. Сколько рублей будет составлять ежемесячная плата за телефон в следующем году?

Ответ: _____.

- 7 Найдите значение выражения

$$9,4 \cdot 10^3 + 2,2 \cdot 10^2.$$

Ответ: _____.

- 8 Теорему синусов можно записать в виде $\frac{a}{\sin \alpha} = \frac{b}{\sin \beta}$, где a и b – две стороны треугольника, а α и β – углы треугольника, лежащие против них соответственно. Пользуясь этой формулой, найдите a , если $b = 12$,

$$\sin \alpha = \frac{1}{6} \text{ и } \sin \beta = \frac{1}{5}.$$

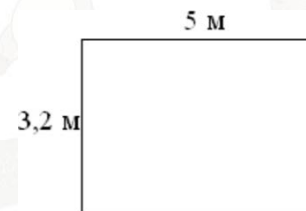
Ответ: _____.

- 9 Найдите корень уравнения

$$\log_3(2x - 5) = 2.$$

Ответ: _____.

- 10 На плане указано, что прямоугольная комната имеет площадь 15,7 кв. м. Точные измерения показали, что ширина комнаты равна 3,2 м, а длина 5 м. На сколько квадратных метров площадь комнаты отличается от значения, указанного на плане?



Ответ: _____.

- 11 В среднем из 500 садовых насосов, поступивших в продажу, 25 подтекают. Найдите вероятность того, что случайно выбранный для контроля насос подтекает.

Ответ: _____.



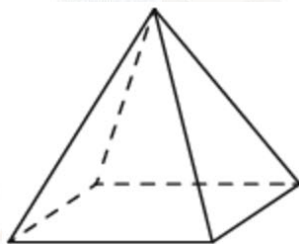
12 Интернет-провайдер предлагает три тарифных плана.

Тарифный план	Абонентская плата	Плата за трафик
План «0»	Нет	2 руб. за 1 Мбайт
План «100»	90 руб. за 100 Мбайт трафика в месяц	1,5 руб. за 1 Мбайт сверх 100 Мбайт
План «500»	400 руб. за 500 Мбайт трафика в месяц	2,5 руб. за 1 Мбайт сверх 500 Мбайт

Пользователь предполагает, что его трафик составит 350 Мбайт в месяц, и исходя из этого выбирает наиболее дешёвый тарифный план. Сколько рублей должен будет заплатить пользователь за месяц, если его трафик действительно будет равен 350 Мбайт?

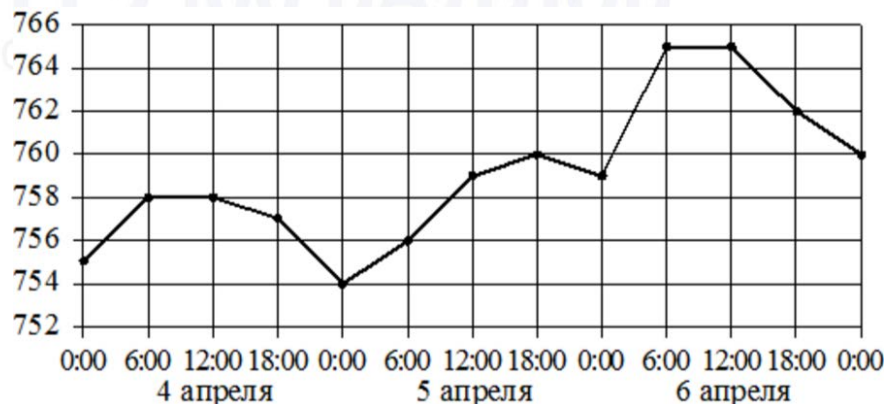
Ответ: _____.

13 Пирамида Хеопса имеет форму правильной четырёхугольной пирамиды, сторона основания которой равна 230 м, а высота – 147 м. Сторона основания точной музейной копии этой пирамиды равна 23 см. Найдите высоту музейной копии. Ответ дайте в сантиметрах.



Ответ: _____.

14 На рисунке точками показано атмосферное давление в городе N на протяжении трёх суток с 4 по 6 апреля 2013 года. В течение суток давление измеряется 4 раза: в 00:00, в 06:00, в 12:00 и в 18:00. По горизонтали указывается время суток и дата, по вертикали – давление в миллиметрах ртутного столба. Для наглядности точки соединены линией.



Пользуясь рисунком, поставьте в соответствие каждому из указанных периодов времени характеристику атмосферного давления в городе N в течение этого периода

ПЕРИОДЫ ВРЕМЕНИ

- А) утро 4 апреля (с 6 до 12 часов)
- Б) утро 5 апреля (с 6 до 12 часов)
- В) утро 6 апреля (с 6 до 12 часов)
- Г) день 6 апреля (с 12 до 18 часов)

ХАРАКТЕРИСТИКИ

- 1) давление не менялось и было выше 764 мм рт. ст.
- 2) давление росло
- 3) давление не менялось и было ниже 760 мм рт. ст.
- 4) давление падало

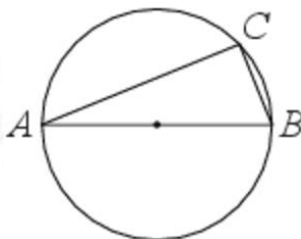
В таблице под каждой буквой укажите соответствующий номер.

Ответ:

А	Б	В	Г

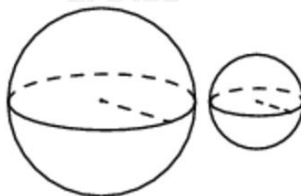


- 15 На окружности радиуса 5 отмечена точка C . Отрезок AB – диаметр окружности, $AC = 8$. Найдите $\sin \angle ABC$.



Ответ: _____.

- 16 Даны два шара с радиусами 8 и 2. Во сколько раз объём большего шара больше объёма другого?



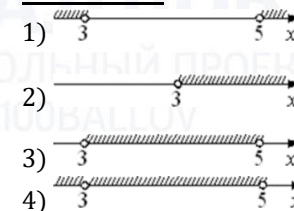
Ответ: _____.

- 17 Каждому из четырёх неравенств в левом столбце соответствует одно из решений в правом столбце. Установите соответствие между неравенствами и их решениями.

НЕРАВЕНСТВА

- А) $\frac{x-5}{(x-3)^2} < 0$
- Б) $5^{-x+1} < \frac{1}{25}$
- В) $(x-3)(x-5) > 0$
- Г) $\log_2(x-3) < 1$

РЕШЕНИЯ



Впишите в приведённую в ответе таблицу под каждой буквой соответствующую цифру.

Ответ:

А	Б	В	Г

- 18 В компании из 30 человек 25 пользуются социальной сетью «Одноклассники», а 10 – социальной сетью «ВКонтакте». Выберите утверждения, которые верны при указанных условиях.

- 1) В этой компании найдётся 10 человек, которые не пользуются ни сетью «Одноклассники», ни сетью «ВКонтакте».
- 2) В этой компании найдётся хотя бы 5 человек, пользующихся обеими сетями.
- 3) Не найдётся ни одного человека из этой компании, пользующегося только сетью «Одноклассники».
- 4) Не более 10 человек из этой компании пользуются обеими сетями.

В ответе запишите номера выбранных утверждений без пробелов, запятых и других дополнительных символов.

Ответ: _____.

vk.com/ege100ballov



- 19 Найдите четырёхзначное число, кратное 24, произведение цифр которого равно 16. В ответе укажите какое-нибудь одно такое число.

Ответ: _____.

- 20 Семья состоит из мужа, жены и их дочери-студентки. Если бы зарплата мужа увеличилась вдвое, общий доход семьи вырос бы на 67%. Если бы стипендия дочери уменьшилась втрое, общий доход семьи сократился бы на 4%. Сколько процентов от общего дохода семьи составляет зарплата жены?

Ответ: _____.

- 21 В таблице три столбца и несколько строк. В каждую клетку таблицы вписали по натуральному числу так, что сумма всех чисел в первом столбце равна 103, во втором – 97, в третьем – 93, а сумма чисел в каждой строке больше 21, но меньше 24. Сколько всего строк в таблице?

Ответ: _____.

Не забудьте перенести все ответы в бланк ответов № 1 в соответствии с инструкцией по выполнению работы. Проверьте, чтобы каждый ответ был записан в строке с номером соответствующего задания.

О проекте «Пробный ЕГЭ каждую неделю»

Данный ким составлен командой всероссийского волонтерского проекта «ЕГЭ 100баллов» <https://vk.com/ege100ballov> и безвозмездно распространяется для любых некоммерческих образовательных целей.

Нашли ошибку в варианте?

Напишите нам, пожалуйста, и мы обязательно её исправим!

Для замечаний и пожеланий: https://vk.com/topic-10175642_47937899

(также доступны другие варианты для скачивания)

СОСТАВИТЕЛЬ ВАРИАНТА:










































ФИО:	Евгений Пифагор
Предмет:	Математика
Стаж:	10 лет готовлю к ЕГЭ и ОГЭ
Регалии:	Набрал 98 баллов на ЕГЭ по математике (профиль) 55 учеников набрали 90-100 баллов на ЕГЭ 2021 Высшее образование (ТГУ, 2009-2014) Победитель трёх олимпиад по высшей математике
Аккаунт и группа ВК:	https://vk.com/eugene10 https://vk.com/shkolapifagora
Ютуб и инстаграм:	https://www.youtube.com/user/ShkolaPifagora https://www.instagram.com/shkola_pifagora/

vk.com/ege100ballov



**Система оценивания экзаменационной работы по математике
(базовый уровень)**

Правильное решение каждого из заданий 1–21 оценивается 1 баллом. Задание считается выполненным верно, если экзаменуемый дал правильный ответ в виде целого числа или конечной десятичной дроби, или последовательности цифр.

Номер задания	Правильный ответ	Текстовое решение	Видео решение
1	56		
2	4		
3	3241		
4	16		
5	28		
6	318		
7	9620		
8	10		
9	7		
10	0,3		
11	0,05		
12	400		
13	14,7		
14	3214		
15	0,8		
16	64		
17	4213		
18	24		
19	1128 или 8112 или 1224		
20	27		
21	13		

ЕГЭ 100 БАЛЛОВ
ВСЕРОССИЙСКИЙ ШКОЛЬНЫЙ ПРОЕКТ
VK.COM/EGE100BALLOV



vk.com/ege100ballov

