

**Всероссийская проверочная работа**  
**ДЛЯ ОЦЕНКИ МЕТАПРЕДМЕТНЫХ РЕЗУЛЬТАТОВ ОБУЧЕНИЯ**  
**в соответствии с федеральным государственным образовательным**  
**стандартом среднего общего образования**  
**для обучающихся по программам среднего профессионального образования,**  
**завершивших в предыдущем учебном году освоение общеобразовательных предметов,**  
**проходящих обучение по очной форме на базе основного общего образования.**

**Вариант 27295**

**Инструкция по выполнению работы**

Проверочная работа включает в себя 22 задания.

На выполнение диагностической работы отводится 2 часа (120 минут).

Ответами к заданиям 1, 2, 5, 6, 8, 9–12, 17–21 являются цифра, последовательность цифр или слово (словосочетание).

Задания 3, 4, 7, 13–16, 22 требуют полного ответа (дать объяснение, описание или обоснование; высказать и аргументировать собственное мнение). В случае записи неверного ответа зачеркните его и запишите рядом новый.

При выполнении работы не разрешается пользоваться учебниками, рабочими тетрадями и другими справочными материалами.

При выполнении заданий Вы можете пользоваться черновиком. Записи в черновике проверяться и оцениваться не будут.

Советуем выполнять задания в том порядке, в котором они даны. В целях экономии времени пропускайте задание, которое не удаётся выполнить сразу, и переходите к следующему. Если после выполнения всей работы у Вас останется время, то Вы сможете вернуться к пропущенным заданиям.

Баллы, полученные Вами за выполненные задания, суммируются. Постарайтесь выполнить как можно больше заданий и набрать наибольшее количество баллов.

***Желаем успеха!***

*Таблица для внесения баллов участника*

Номер задания	1	2	3	4	5	6	7	8	9	10	11	12	13	14
Баллы														
Номер задания	15(1)	15(2)	16	17	18	19	20	21	22	Сумма баллов	Отметка за работу			
Баллы														

1

Установите соответствие между историческими деятелями и информацией, относящейся к ним: к каждой позиции первого столбца подберите соответствующую позицию из второго столбца.

## ИСТОРИЧЕСКИЕ ДЕЯТЕЛИ

- А) А.Ф. Керенский  
Б) Ю.Б. Левитан  
В) Е.Т. Гайдар

## ИНФОРМАЦИЯ

- 1) диктор Всесоюзного радио, в годы Великой Отечественной войны читавший сводки Совинформбюро и приказы И.В. Сталина  
2) министр-председатель Временного правительства  
3) один из основных руководителей и идеологов экономических реформ начала 1990-х в России  
4) советский и российский конструктор стрелкового оружия

Запишите в таблицу выбранные цифры под соответствующими буквами.

□ Ответ:

А	Б	В

2

Прочитайте четыре предложения. Два из них содержат события, процессы, явления, являющиеся причинами (предпосылками). Другие два содержат последствия этих событий, процессов, явлений. Подберите для каждой из причин (предпосылок) соответствующее ей последствие. Номера соответствующих предложений запишите в таблицу.

- 1) Началось проведение политики «нового политического мышления».  
2) Был созван I Съезд народных депутатов СССР.  
3) Значительно ослабла международная напряжённость.  
4) На XIX Всесоюзной партийной конференции обсуждались важнейшие вопросы внутривнутриполитического развития СССР.

	Номер предложения, содержащего			
	причину (предпосылку) 1	последствие 1	причину (предпосылку) 2	последствие 2
□ Ответ:				

3

Рассмотрите изображение и выполните задание.



Укажите название внешнеполитического процесса, юбилею одного из важнейших событий которого посвящена данная марка.

Ответ: \_\_\_\_\_  
\_\_\_\_\_

Объясните, почему этот процесс а) был важен для всего человечества, б) оказался непродолжительным.

Ответ: \_\_\_\_\_  
\_\_\_\_\_  
\_\_\_\_\_  
\_\_\_\_\_  
\_\_\_\_\_  
\_\_\_\_\_  
\_\_\_\_\_  
\_\_\_\_\_  
\_\_\_\_\_  
\_\_\_\_\_  
\_\_\_\_\_





**Ознакомьтесь с перечнем и изображениями памятников культуры и выполните задания 5 и 6.**

- 1) кинофильм «Утомлённые солнцем»;
- 2) роман «Мёртвые души»;

3)



4)



5

Какие из приведённых памятников культуры были созданы в XX в.? Выберите два памятника культуры и запишите в таблицу цифры, под которыми они указаны.

Ответ:

--	--

6

Одним из создателей какого из приведённых памятников культуры является Н.С. Михалков? Укажите порядковый номер этого памятника культуры.

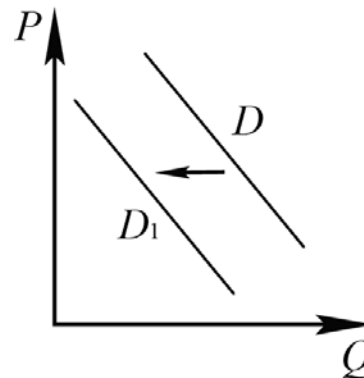
Ответ:

--



8

На рисунке отражено изменение спроса на средства защиты от укусов комаров на соответствующем рынке: линия спроса  $D$  переместилась в новое положение –  $D_1$ . ( $P$  – цена;  $Q$  – количество.)



Какие из перечисленных факторов могут вызвать такое изменение? Запишите цифры, под которыми они указаны.

- 1) окончание летнего сезона
- 2) естественное сокращение популяции комаров
- 3) рост издержек производителей средств защиты от укусов комаров
- 4) выход на рынок новых производителей средств защиты от укусов комаров
- 5) распространение информации об аллергической реакции у большинства использующих средства защиты от укусов комаров

Ответ: \_\_\_\_\_.

9

Установите соответствие между примерами и видами налогов и сборов согласно Налоговому кодексу РФ: к каждой позиции, данной в первом столбце, подберите соответствующую позицию из второго столбца.

## ПРИМЕРЫ

- А) торговый сбор
- Б) налог на имущество физических лиц
- В) налог на доходы физических лиц
- Г) налог на имущество организаций
- Д) транспортный налог

## ВИДЫ НАЛОГОВ И СБОРОВ В РФ

- 1) федеральные
- 2) региональные
- 3) местные

Запишите в таблицу выбранные цифры под соответствующими буквами.

Ответ:

А	Б	В	Г	Д

10

Выберите в приведённом списке положения, характеризующие основы конституционного строя РФ. Запишите **цифры**, под которыми они указаны.

- 1) Гражданин отвечает по своим обязательствам всем принадлежащим ему имуществом, за исключением имущества, на которое в соответствии с законом не может быть обращено взыскание.
- 2) Лицо не подлежит уголовной ответственности за преступление, если оно добровольно и окончательно отказалось от доведения этого преступления до конца.
- 3) В Российской Федерации признаются и защищаются равным образом частная, государственная, муниципальная и иные формы собственности.
- 4) Российская Федерация обеспечивает целостность и неприкосновенность своей территории.
- 5) Плательщики сборов имеют те же права, что и налогоплательщики.

Ответ: \_\_\_\_\_.

11

Установите соответствие между полномочиями и субъектами государственной власти, реализующими эти полномочия: к каждой позиции, данной в первом столбце, подберите соответствующую позицию из второго столбца.

## ПОЛНОМОЧИЯ

СУБЪЕКТЫ  
ГОСУДАРСТВЕННОЙ ВЛАСТИ

- |  |  |
|--|--|
| <p>А) утверждение военной доктрины РФ</p> <p>Б) разрешение споров о компетенции между федеральными органами государственной власти</p> <p>В) обеспечение исполнения федерального бюджета</p> <p>Г) осуществление управления федеральной собственностью</p> <p>Д) решение вопросов гражданства РФ</p> | <p>1) Президент РФ</p> <p>2) Конституционный Суд РФ</p> <p>3) Правительство РФ</p> |
|--|--|

Запишите в таблицу выбранные цифры под соответствующими буквами.

Ответ:

А	Б	В	Г	Д

12

Накануне официальной регистрации брака совершеннолетние граждане РФ Нина и Олег решили заключить брачный договор. Найдите в приведённом списке позиции, связанные с формой и возможным содержанием брачного договора, и запишите **цифры**, под которыми они указаны.

- 1) распределение домашних обязанностей
- 2) нотариальное удостоверение
- 3) занятость и трудоустройство супругов
- 4) письменное оформление договора
- 5) способы участия в доходах друг друга
- 6) место жительства детей в случае развода родителей

Ответ: \_\_\_\_\_.



13

В государстве  $Z$  развиваются новейшие коммуникационные технологии и сервисы, внедряются инновации, осуществляется переход к цифровым технологиям на всех уровнях производственной деятельности, возрастает роль науки и образования в жизни общества. В государстве  $Z$  в период с 2009 по 2019 г. наметился рост популярности дистанционных программ дополнительного образования, в школах половина занятий проходит с использованием интернет-технологий. В среднем число учеников, имеющих доступ к видеоурокам и другим цифровым учебным материалам, выросло в 12 раз.

В государстве  $Z$  все граждане имеют равные гражданские и политические права и свободы, а также гарантии их защиты. Законодательную власть осуществляет парламент, а всенародно избираемый глава государства формирует правительство и возглавляет исполнительную власть.

1) К какому типу относится общество  $Z$ ?

2) Какая тенденция развития образования описана, но не названа в условии задачи? (Приведите название этой тенденции.)

3) Какова форма правления  $Z$ ? (Дайте полное название.)

4) Какой факт из условия задачи позволяет сделать вывод о том, что государство  $Z$  демократическое?

Ответ на первый вопрос: \_\_\_\_\_

\_\_\_\_\_

Ответ на второй вопрос: \_\_\_\_\_

\_\_\_\_\_

Ответ на третий вопрос: \_\_\_\_\_

\_\_\_\_\_

Ответ на четвёртый вопрос: \_\_\_\_\_

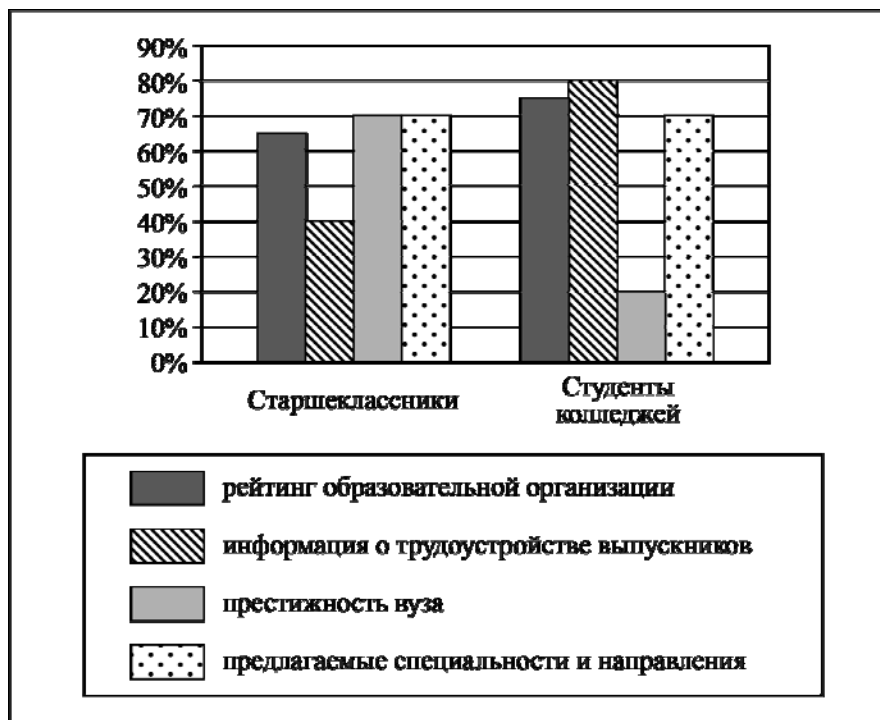
\_\_\_\_\_

\_\_\_\_\_

14

В ходе социологического опроса граждан страны Z им задавали вопрос: «Что в большей степени влияет на выбор высшего учебного заведения для обучения?» (участникам опроса можно было дать несколько ответов).

Результаты опроса (в % от числа опрошенных) представлены в виде диаграммы.



Сформулируйте по одному выводу: а) о сходстве; б) о различии в позициях групп опрошенных. Выскажите предположение о том, чем объясняются указанные Вами:  
а) сходство; б) различие.

Ответ: \_\_\_\_\_

---

---

---

---

---

---

---

---

---

---

---

---

---

---

---

---

---

---

---

---

---

---

---

---

---

15

Вы находитесь в квартире на 5 этаже. На втором этаже в Вашем подъезде произошёл пожар. Лестница сильно задымлена.

Назовите не менее четырёх правил безопасного поведения, которые необходимо выполнить в этом случае.

Ответ: \_\_\_\_\_

---

---

---

---

---

---

---

---

---

---

16

Представьте, что на Ваших глазах человек нырнул с пирса в водоём и получил травму. Объясните, в чём состоит опасность данной ситуации.

Назовите не менее двух действий, которые нужно предпринять человеку, оказавшемуся в подобной ситуации.

Ответ: \_\_\_\_\_

---

---

---

---

---

---

---

---

---

---

17

Определите регион России по его краткому описанию.

Этот автономный округ имеет приморское положение. Большую часть территории занимают нагорья. На его территории находится крайняя материковая точка России. Коренное население, относящееся к малочисленным народам Севера, занимается оленеводством, рыболовством и охотой на морского зверя.

Ответ: \_\_\_\_\_.

18

Прочитайте приведённый ниже текст, в котором пропущен ряд слов. Выберите из предлагаемого списка слова, которые необходимо вставить на места пропусков.

**Особенности географического положения Европейского Севера России**

Большая часть материковой территории Европейского Севера находится в \_\_\_\_\_ (А) климатическом поясе. Частью территории района является \_\_\_\_\_ (Б) полуостров. В пределах Европейского Севера находится крайняя северная \_\_\_\_\_ (В) точка России.

Выбирайте последовательно одно слово за другим, мысленно вставляя на места пропусков слова из списка в нужной форме. Обратите внимание на то, что слов в списке больше, чем Вам потребуется для заполнения пропусков. Каждое слово может быть использовано только один раз.

Список слов:

- 1) Гыданский
- 2) субарктическом
- 3) Кольский
- 4) материковая
- 5) умеренный
- 6) островная

В данной ниже таблице приведены буквы, обозначающие пропущенные слова. Запишите в таблицу под каждой буквой номер выбранного Вами слова.

Ответ:

А	Б	В

19

Установите соответствие между автономным округом и его административным центром: к каждому элементу первого столбца подберите соответствующий элемент из второго столбца.

**АВТОНОМНЫЙ ОКРУГ**

- А) Ненецкий
- Б) Чукотский
- В) Ямало-Ненецкий

**АДМИНИСТРАТИВНЫЙ ЦЕНТР**

- 1) Салехард
- 2) Нарьян-Мар
- 3) Анадырь
- 4) Сыктывкар

Запишите в таблицу выбранные цифры под соответствующими буквами.

Ответ:

А	Б	В

20

Потенциал российских регионов для развития туризма огромен. Каждый из них имеет рекреационные ресурсы, способные привлечь тысячи туристов из России и зарубежных стран. Определите субъект Российской Федерации по описанию его рекреационного потенциала.

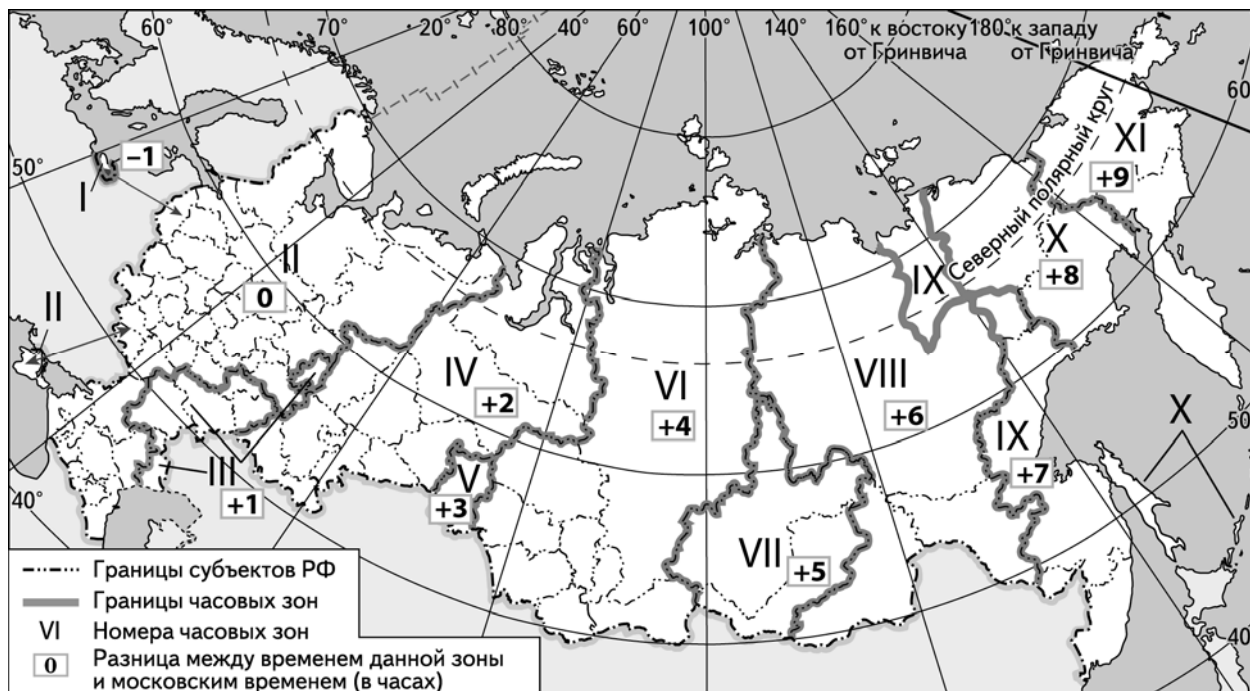
«Этот регион имеет прекрасные возможности для развития исторического туризма, связанного с событиями давнего прошлого и последней мировой войны. Приморское расположение и обилие озёр в сочетании с мягким климатом обеспечивают превосходный пляжный отдых и незабываемую рыбалку. В список Всемирного наследия ЮНЕСКО включена Куршская коса – территория имеющая уникальный природно-антропогенный ландшафт.»

Ответ: \_\_\_\_\_

21

С 8 по 24 мая 2020 года в Швейцарии пройдёт Чемпионат мира по хоккею. Прямая трансляция финала чемпионата начнётся в воскресенье 24 мая в 21:20 по московскому времени.

Используя карту, определите, в каких из перечисленных регионов эта трансляция начнётся 25 мая после 0:00 по местному времени этих регионов. Запишите **цифры**, под которыми они указаны.



- 1) Орловская область
- 2) Республика Башкортостан
- 3) Красноярский край
- 4) Амурская область
- 5) Тюменская область
- 6) Республика Бурятия

Ответ: \_\_\_\_\_.

22

Портал «Госуслуги» (<https://www.gosuslugi.ru>) является одним из самых востребованных интернет-сервисов для решения вопросов, связанных с обращением в органы государственной власти Российской Федерации, различные ведомства и организации.

На портале возможны три уровня регистрации:

**упрощённый** – указываются контактные данные, доступ к услугам ограничен;

**стандартный** – указываются персональные данные, доступ к услугам ограничен;

**подтверждённый** – помимо указания персональных данных требуется процедура подтверждения личности.

Пользователю с подтверждённым уровнем регистрации доступен наиболее широкий набор услуг, включая выдачу различных персональных документов и справок.

Ответьте на следующие вопросы, связанные с использованием портала «Госуслуги».

1) Какие сведения (персональные данные) помимо ФИО должен указать гражданин при регистрации? Приведите не менее 4 различных позиций.

Ответ: \_\_\_\_\_

\_\_\_\_\_

\_\_\_\_\_

\_\_\_\_\_

2) Каких рисков позволяет избежать ограничение по набору доступных услуг, введённое для пользователей со стандартным уровнем регистрации?

Ответ: \_\_\_\_\_

\_\_\_\_\_

\_\_\_\_\_

\_\_\_\_\_

3) В чём удобство загрузки и хранения всех персональных данных на портале «Госуслуги» для гражданина, получившего подтверждённый уровень регистрации?

Ответ: \_\_\_\_\_

\_\_\_\_\_

\_\_\_\_\_

\_\_\_\_\_

4) В чём удобство электронного способа получения справки по сравнению с очным визитом в соответствующее учреждение?

Ответ: \_\_\_\_\_

\_\_\_\_\_

\_\_\_\_\_

\_\_\_\_\_

