

Всероссийская проверочная работа
ДЛЯ ОЦЕНКИ МЕТАПРЕДМЕТНЫХ РЕЗУЛЬТАТОВ ОБУЧЕНИЯ
в соответствии с федеральным государственным образовательным
стандартом основного общего образования
для обучающихся первых курсов по очной форме обучения по образовательным
программам среднего профессионального образования на базе основного общего
образования

Вариант 34831

Инструкция по выполнению работы

Проверочная работа включает в себя 23 задания.

На выполнение проверочной работы отводится 2 часа (120 минут).

Ответами к заданиям 1–11, 13, 14, 20–23 являются цифра, последовательность цифр или слово (словосочетание). Задания 12, 15–19 требуют полного ответа (дать объяснение, описание или обоснование; высказать и аргументировать собственное мнение). В случае записи неверного ответа зачеркните его и запишите рядом новый.

При выполнении работы не разрешается пользоваться учебниками, рабочими тетрадями и другими справочными материалами.

При выполнении заданий Вы можете пользоваться черновиком. Записи в черновике проверяться и оцениваться не будут.

Советуем выполнять задания в том порядке, в котором они даны. В целях экономии времени пропускайте задание, которое не удаётся выполнить сразу, и переходите к следующему. Если после выполнения всей работы у Вас останется время, то Вы сможете вернуться к пропущенным заданиям.

Баллы, полученные Вами за выполненные задания, суммируются. Постарайтесь выполнить как можно больше заданий и набрать наибольшее количество баллов.

Желаем успеха!

Таблица для внесения баллов участника

Номер задания	1	2	3	4	5	6	7	8	9	10	11	12	13	14	15
Баллы															
Номер задания	16	17(1)	17(2)	18	19	20(1)	20(2)	21.1	21.2	21.3	22	23	Сумма баллов	Отметка за работу	
Баллы															

1

Назовите исторического деятеля, о котором идёт речь.

Церковный и государственный деятель, благословивший московского князя Дмитрия Ивановича на Куликовскую битву. Канонизирован Русской Православной Церковью.

Ответ: _____.

2

Заполните пропуски в данных предложениях, используя приведённый ниже список пропущенных элементов: для каждого предложения, обозначенного буквой и содержащего пропуск, выберите номер нужного элемента.

А) После смерти Бориса Годунова к власти пришёл _____.

Б) Лжедмитрий II получил прозвище _____.

В) В период Смуты происходила интервенция _____ в Россию.

Пропущенные элементы:

- 1) Окаянный
- 2) Речи Посполитой
- 3) Лжедмитрий I
- 4) Франции
- 5) Фёдор Иванович
- 6) Тушинский вор

Запишите в таблицу выбранные цифры под соответствующими буквами.

Ответ:

А	Б	В

3

Рассмотрите изображение и выполните задание.



Укажите событие, один из эпизодов которого изображён на данной иллюстрации.

Ответ: _____.

4

Прочтите отрывок из сочинения историка и укажите имя и прозвище князя, пропущенные в тексте.

«Рыцари-крестоносцы заняли псковскую крепость Изборск, а затем укрепились во Пскове, где с согласия части псковских бояр были посажены «судить» немецкие «тиуны». На следующий год орден вторгся в новгородские пределы, совершая набеги и создавая опорные пункты. В ответ _____ во главе дружины захватил крепость Копорье, а потом стремительным броском освободил от крестоносцев Псков. Затем княжеская владимиро-суздальская дружина и новгородское ополчение двинулись к Чудскому озеру, на льду которого произошло решающее сражение. Битва, которая вошла в историю как Ледовое побоище, закончилась полным поражением крестоносцев».

Ответ: _____.

5

Заполните пустые ячейки таблицы, используя приведённый ниже список пропущенных элементов: для каждого пропуска, обозначенного буквой, выберите номер нужного элемента.

Год	Событие	Участник
_____ (А)	_____ (Б)	Иван III
1558 г.	_____ (В)	Иван IV
_____ (Г)	Издание Манифеста о вольности дворянской	_____ (Д)

Пропущенные элементы:

- 1) присоединение Новгородской земли к Москве
- 2) 1147 г.
- 3) Пётр III
- 4) создание II Ополчения
- 5) начало Ливонской войны
- 6) 1762 г.
- 7) А.Д. Меншиков
- 8) 1478 г.

Запишите в таблицу выбранные цифры под соответствующими буквами.

Ответ:

А	Б	В	Г	Д

6

Рассмотрите изображение и выполните задание.



Укажите название города в период Великой Отечественной войны, с историей которого непосредственно связаны представленные дневниковые записи.

Ответ: _____

Ознакомьтесь с перечнем и изображениями памятников культуры и выполните задания 7 и 8.

- 1) «Слово о Законе и Благодати»;
- 2) роман «Отцы и дети»;
- 3) «Слово о полку Игореве»

4)



5)



7

Какие из приведённых памятников культуры были созданы в XIX в.? Выберите два памятника культуры и запишите в таблицу цифры, под которыми они указаны.

Ответ:

--	--

8

Создателем какого из приведённых памятников культуры является И.С. Тургенев? Укажите порядковый номер этого памятника культуры.

Ответ:

--

9

Установите соответствие между полномочиями и субъектами государственной власти РФ, которые ими наделены: к каждому элементу, данному в первом столбце, подберите соответствующий элемент из второго столбца.

ПОЛНОМОЧИЯ

СУБЪЕКТЫ
ГОСУДАРСТВЕННОЙ ВЛАСТИ
РФ

- | | |
|--|---|
| <p>А) объявление амнистии</p> <p>Б) утверждение изменения границ между субъектами РФ</p> <p>В) назначение на должность Председателя Центрального банка</p> <p>Г) осуществление мер по реализации внешней политики РФ</p> <p>Д) осуществление управления федеральной собственностью</p> | <p>1) Правительство РФ</p> <p>2) Государственная Дума</p> <p>3) Совет Федерации</p> |
|--|---|

Запишите в таблицу выбранные цифры под соответствующими буквами.

Ответ:

А	Б	В	Г	Д

10

Ниже приведены примеры правонарушений. Запишите цифры, под которыми указаны ситуации, в которых правонарушитель будет привлечён к гражданско-правовой ответственности.

- 1) Марина не оплатила проезд в автобусе.
- 2) Продавец магазина отказался оформить возврат денег за товар, имевший заводской брак.
- 3) Находясь за рулём автомобиля, Иван превысил установленную скорость на 40 км/ч.
- 4) Фирма нарушила условия договора об оказании услуг.
- 5) Пётр совершил разбойное нападение на Фёдора.

Ответ: _____.

11

Установите соответствие между примерами и мерами юридической ответственности в РФ: к каждой позиции, данной в первом столбце, подберите соответствующую позицию из второго столбца.

ПРИМЕРЫ

- А) признание права
- Б) лишение права занимать определённые должности
- В) предупреждение
- Г) административный штраф
- Д) принудительные работы

МЕРЫ ЮРИДИЧЕСКОЙ ОТВЕТСТВЕННОСТИ
В РФ

- 1) способы защиты гражданских прав по Гражданскому кодексу РФ
- 2) наказания по Уголовному кодексу РФ
- 3) административные наказания по Кодексу РФ об административных правонарушениях

Запишите в таблицу выбранные цифры под соответствующими буквами.

Ответ:

А	Б	В	Г	Д

12

Рассмотрите фотографию.



Кто из участников трудовых правоотношений имеет право выдавать данный документ? Что служит основой возникновения трудовых правоотношений в Российской Федерации?

Ответ: _____

Используя обществоведческие знания, факты общественной жизни и личный социальный опыт, укажите любые две обязанности работника (в соответствии с Трудовым кодексом Российской Федерации.)

Ответ: _____

13

Установите соответствие между примерами и видами экономического продукта: к каждому элементу, данному в первом столбце, подберите соответствующий элемент из второго столбца.

ПРИМЕРЫ

- А) организация юбилея агентством
- Б) фотоаппарат
- В) проведение фотосессии
- Г) гоночный автомобиль
- Д) исполнение песни артистом

ВИДЫ ЭКОНОМИЧЕСКОГО
ПРОДУКТА

- 1) товар
- 2) услуга

Запишите в таблицу выбранные цифры под соответствующими буквами.

□ Ответ:

А	Б	В	Г	Д

14

Константин решил инвестировать средства. Какая информация позволит сделать вывод о том, что выбранной им финансовой организации можно доверять? Запишите **цифры**, под которыми указаны две соответствующие позиции.

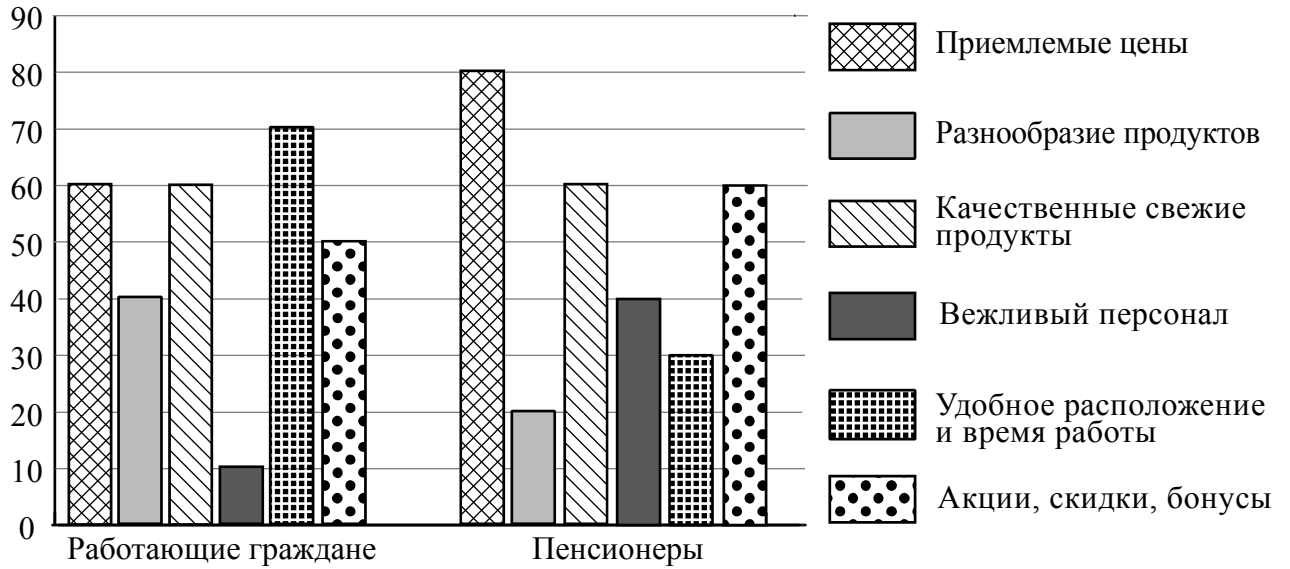
- 1) Доступна информация о наличии у организации лицензии Банка России.
- 2) Информация о руководстве компании и её реквизитах отсутствует.
- 3) Инвестору обещают доходность примерно на уровне средних ставок по банковским вкладам.
- 4) Название организации на её сайте и в договоре различается.
- 5) От потенциальных вкладчиков требуют уплатить взносы «за вступление», «за регистрацию» в качестве инвестора.

□ Ответ: _____.

15

В ходе социологического опроса гражданам страны Z задавали вопрос: «Что из перечисленного необходимо, чтобы магазин, в котором вы покупаете продукты, полностью вас устраивал?» (Можно было выбрать не более пяти ответов.)

Результаты опроса (в % от числа отвечавших) представлены в графическом виде.



Сформулируйте одно существенное различие в позициях групп опрошенных. Выскажите предположение о том, чем объясняется это различие.

Различие: _____

Предположение: _____



16

Совершеннолетнему Максиму Л., получающему пенсию по инвалидности, пришло СМС-сообщение о том, что ему будут перечислены 15000 рублей от благотворительного фонда. Но предварительно он должен оплатить комиссию в 500 рублей за перевод этих средств.

В чём состоит опасность данной ситуации для личных финансов Максима Л.? Как ему правильно поступить в данной ситуации?

Ответ: _____

17

Абсолютное большинство людей общаются в социальных сетях, рассказывают о своей семье, работе и повседневных делах, отдыхе и развлечениях.

Публикация некоторой информации может быть опасной для человека, его семьи. Приведите не менее трёх примеров такой информации и для каждого из них объясните, в чём опасность публикации.

Пример «опасной» информации	Объяснение опасности публикации

18

В стихотворении С.Я. Маршака «Пожар» есть такие строки «Только мать сошла с крылечка, Лена села перед печкой, в щёлку красную глядит, а в печи огонь гудит. Приоткрыла дверцу Лена – соскочил огонь с полена, перед печкой выжег пол, влез по скатерти на стол, побежал по стульям с треском, вверх пополз по занавескам, стены дымом заволок...».

Назовите не менее трёх правил безопасного поведения, которые гражданин должен соблюдать для предотвращения пожара, связанного с использованием печного отопления.

Ответ: _____

19

Гуляя по лесу, часто можно встретить ядовитые растения. При движении можно коснуться растений, также можно съесть их ягоды. Это очень опасно для здоровья и жизни человека. Назовите не менее двух действий, которые нужно предпринять для предотвращения отравления ядовитым растением.

Ответ: _____

20

На рисунках представлены контуры стран – соседей России с указанием столиц этих стран. Подпишите под каждым рисунком рядом с номером название соответствующей страны.

1) Выберите из списка названия этих стран и укажите их под рисунками.



1 – _____ 2 – _____ 3 – _____ 4 – _____

Страны-соседи России:

Белоруссия, Китай, Япония, Польша.

2) Определите расположение указанных Вами стран на схеме и впишите в пустые квадраты их **номера**.

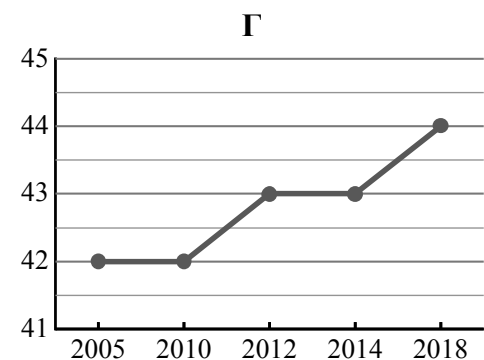
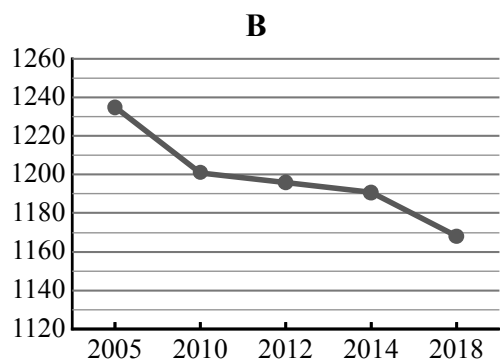
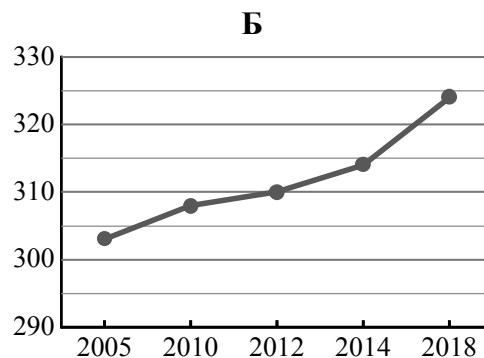
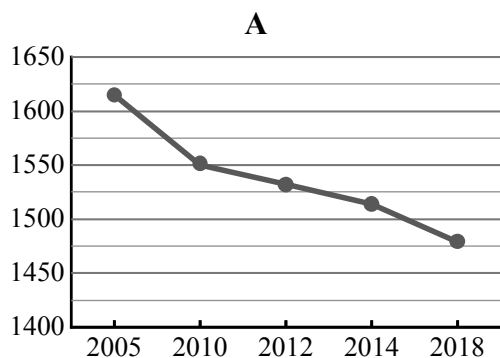


21

Используя представленную ниже таблицу и графики динамики численности населения по субъектам Российской Федерации за период 2005–2018 гг., выполните задания.

Динамика численности населения, тыс. человек

№ п/п	Субъекты РФ	2005 г.	2010 г.	2012 г.	2014 г.	2018 г.
1	Ненецкий автономный округ	42	42	43	43	44
2	Республика Тыва	303	308	310	314	324
3	Тульская область	1615	1550	1532	1514	1479
4	Вологодская область	1235	1201	1196	1191	1168



1) Определите, какому субъекту Российской Федерации соответствует каждый график динамики численности населения. Запишите в ответе **порядковые номера** субъектов Российской Федерации под соответствующими буквами.

Ответ.

А	Б	В	Г

2) В каких из приведённых в таблице субъектов Российской Федерации численность населения за указанный период снизилась?

Ответ. _____

3) В каком из приведённых в таблице субъектов Российской Федерации рост численности населения за указанный период был наибольшим?

Ответ. _____

22

В регионах с высокой сейсмической активностью нужно возводить здания, способные устоять в случае землетрясения. В каких двух из перечисленных регионов России строительство сейсмостойких зданий наиболее актуально? Запишите в таблицу цифры, под которыми указаны эти регионы.

- 1) Ивановская область
- 2) Астраханская область
- 3) Тамбовская область
- 4) Республика Алтай
- 5) Республика Дагестан

Ответ.

--	--

23

Туристические фирмы разных регионов России разработали слоганы (рекламные лозунги) для привлечения туристов в свои регионы. Установите соответствие между слоганами и регионами: к каждому элементу первого столбца подберите соответствующий элемент из второго столбца.

СЛОГАНЫ

РЕГИОНЫ

- | | |
|---|--|
| <p>А) Приезжайте в наш регион зимой! Настоящий северный мороз, сафари на вездеходах по тайге – для вас, любители экстремального туризма!</p> <p>Б) По количеству, разнообразию и полезным свойствам минеральных вод и лечебных грязей наш регион не имеет аналогов в Европе. Курорты Кавказских Минеральных Вод ждут вас!</p> | <ol style="list-style-type: none"> 1) Воронежская область 2) Ставропольский край 3) Республика Карелия 4) Астраханская область |
|---|--|

Запишите в таблицу выбранные цифры под соответствующими буквами.

Ответ:

А	Б