

Всероссийская проверочная работа
по профильному учебному предмету «МАТЕМАТИКА»
для обучающихся первых курсов по очной форме обучения по образовательным
программам среднего профессионального образования на базе основного общего
образования

Вариант 26403

Инструкция по выполнению работы

На выполнение работы по математике отводится 2 часа (120 минут). Работа включает в себя 15 заданий.

Ответы на задания запишите в поля ответов в тексте работы. В случае записи неверного ответа зачеркните его и запишите рядом новый.

При выполнении работы не разрешается пользоваться учебниками, рабочими тетрадями, справочниками, калькулятором.

При необходимости можно пользоваться черновиком. Записи в черновике проверяться и оцениваться не будут.

Советуем выполнять задания в том порядке, в котором они даны. Для экономии времени пропускайте задание, которое не удаётся выполнить сразу, и переходите к следующему. Если после выполнения всей работы у Вас останется время, то Вы сможете вернуться к пропущенным заданиям.

Баллы, полученные Вами за выполненные задания, суммируются. Постарайтесь выполнить как можно больше заданий и набрать наибольшее количество баллов.

Желаем успеха!

Таблица для внесения баллов участника

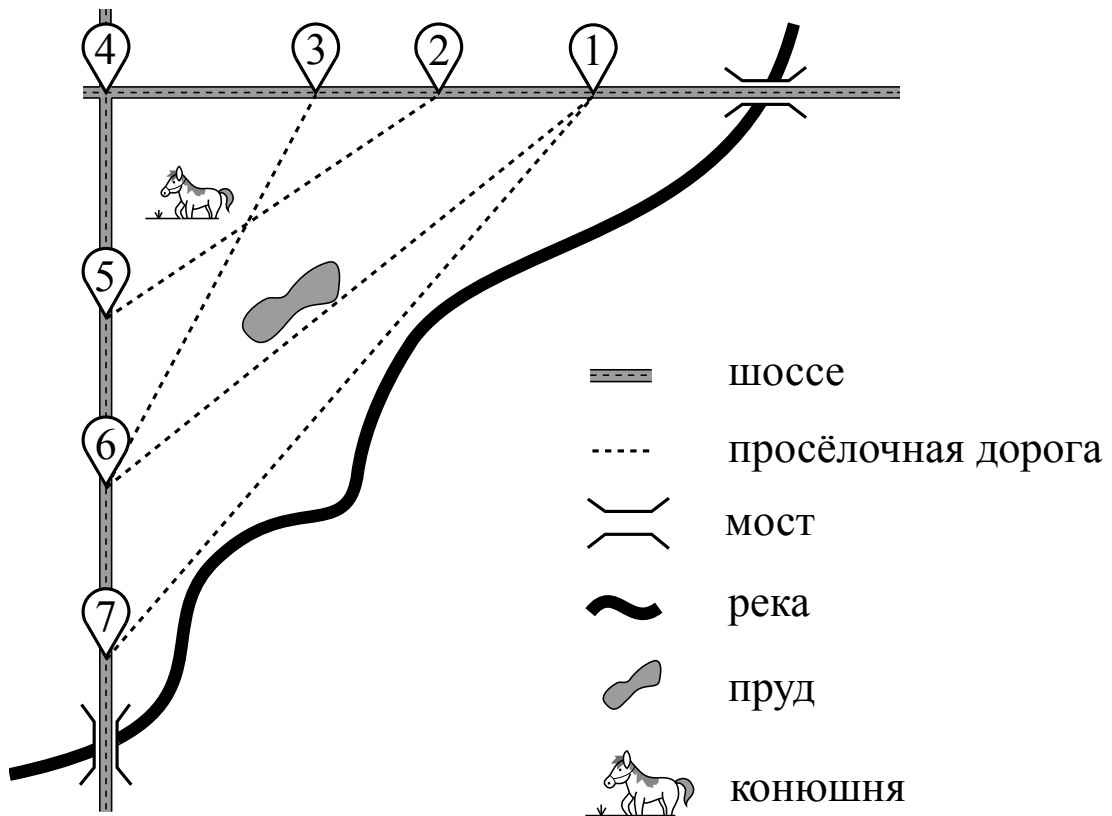
Номер задания	1	2	3	4	5	6	7	8	9	10	11	12	13	14	15	Сумма баллов	Отметка за работу
Баллы																	

Прочитайте внимательно текст и выполните задания 1–5.

На рисунке изображён план сельской местности.

Таня на летних каникулах приезжает в гости к дедушке в деревню Антоновка (на плане обозначена цифрой 1). В конце каникул дедушка на машине собирается отвезти Таню на автобусную станцию, которая находится в деревне Богданово. Из Антоновки в Богданово можно проехать по просёлочной дороге мимо реки. Есть другой путь — по шоссе до деревни Ванютино, где нужно повернуть под прямым углом налево на другое шоссе, ведущее в Богданово. Третий маршрут проходит по просёлочной дороге мимо пруда до деревни Горюново, где можно свернуть на шоссе до Богданово. Четвёртый маршрут пролегает по шоссе до деревни Доломино, от Доломино до Горюново по просёлочной дороге мимо конюшни и от Горюново до Богданово по шоссе. Ещё один маршрут проходит по шоссе до деревни Егорка, по просёлочной дороге мимо конюшни от Егорки до Жилино и по шоссе от Жилино до Богданово.

Шоссе и просёлочные дороги образуют прямоугольные треугольники.



По шоссе Таня с дедушкой едут со скоростью 50 км/ч, а по просёлочным дорогам — со скоростью 30 км/ч. Расстояние от Антоновки до Доломино равно 12 км, от Доломино до Егорки — 4 км, от Егорки до Ванютино — 12 км, от Горюново до Ванютино — 15 км, от Ванютино до Жилино — 9 км, а от Жилино до Богданово — 12 км.

1

Пользуясь описанием, определите, какими цифрами на плане обозначены деревни. Запишите в таблицу цифры под названиями соответствующих деревень.

Деревни	Ванютино	Горюново	Егорка	Жилино
Цифры				

2

Найдите расстояние от Антоновки до Егорки по шоссе. Ответ дайте в километрах.

Ответ: _____.

3

Найдите расстояние от Егорки до Жилино по прямой. Ответ дайте в километрах.

Ответ: _____.

4

За какое наименьшее количество минут Таня с дедушкой могут добраться из Егорки в Жилино?

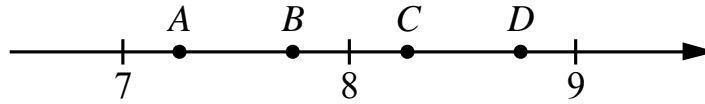
Ответ: _____.

5

На шоссе машина дедушки расходует 6,8 литра бензина на 100 км. Известно, что на путь из Антоновки до Богданово через Ванютино и путь через Доломино и Горюново мимо конюшни ей необходим один и тот же объём бензина. Сколько литров бензина на 100 км машина дедушки расходует на просёлочных дорогах?

Ответ: _____.

6 На координатной прямой отмечены точки A , B , C и D .



Одна из них соответствует числу $\frac{58}{7}$. Какая это точка?

- 1) точка A 2) точка B 3) точка C 4) точка D

Ответ:

7 В среднем из 100 карманных фонариков, поступивших в продажу, девять неисправных. Найдите вероятность того, что выбранный наудачу в магазине фонарик окажется исправен.

Ответ: _____.

8 Установите соответствие между функциями и их графиками.

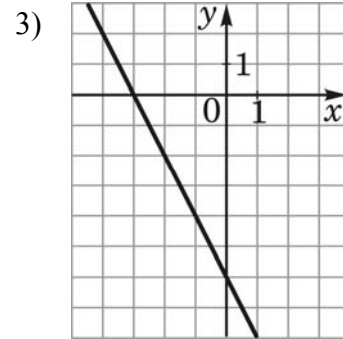
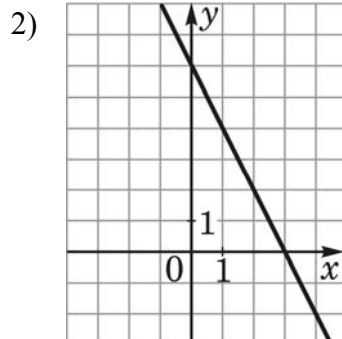
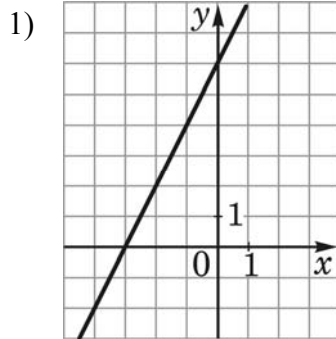
ФУНКЦИИ

А) $y = 2x + 6$

Б) $y = -2x - 6$

В) $y = -2x + 6$

ГРАФИКИ



В таблице под каждой буквой укажите соответствующий номер.

Ответ:

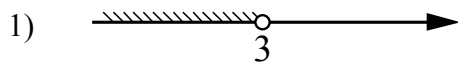
А	Б	В

9 Мощность постоянного тока (в ваттах) вычисляется по формуле $P = I^2 R$, где I — сила тока (в амперах), R — сопротивление (в омах). Пользуясь этой формулой, найдите сопротивление R , если мощность составляет 98 Вт, а сила тока равна 7 А. Ответ дайте в омах.

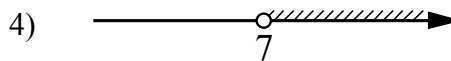
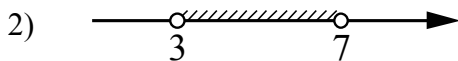
Ответ: _____.

10) Укажите решение системы неравенств

$$\begin{cases} -35 + 5x > 0, \\ 6 - 3x > -3. \end{cases}$$

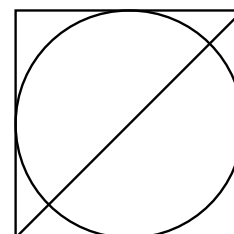


3) нет решений



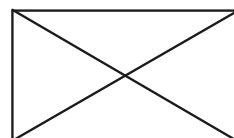
Ответ.

11) Радиус вписанной в квадрат окружности равен $10\sqrt{2}$. Найдите диагональ этого квадрата.



Ответ: _____.

12) Диагональ прямоугольника образует угол 70° с одной из его сторон. Найдите острый угол между диагоналями этого прямоугольника. Ответ дайте в градусах.



Ответ: _____.


14

Постройте график функции

$$y = -1 - \frac{x-4}{x^2-4x}$$

Определите, при каких значениях m прямая $y = m$ не имеет с графиком общих точек.

Решение.



Ответ:



15

Найдите боковую сторону AB трапеции $ABCD$, если углы ABC и BCD равны соответственно 30° и 135° , а $CD = 17$.

Решение.

Ответ: