

Всероссийская проверочная работа
по профильному учебному предмету «МАТЕМАТИКА»
для обучающихся первых курсов по очной форме обучения по образовательным
программам среднего профессионального образования на базе основного общего
образования

Вариант 19379

Инструкция по выполнению работы

На выполнение работы по математике отводится 2 часа (120 минут). Работа включает в себя 15 заданий.

Ответы на задания запишите в поля ответов в тексте работы. В случае записи неверного ответа зачеркните его и запишите рядом новый.

При выполнении работы не разрешается пользоваться учебниками, рабочими тетрадями, справочниками, калькулятором.

При необходимости можно пользоваться черновиком. Записи в черновике проверяться и оцениваться не будут.

Советуем выполнять задания в том порядке, в котором они даны. Для экономии времени пропускайте задание, которое не удаётся выполнить сразу, и переходите к следующему. Если после выполнения всей работы у Вас останется время, то Вы сможете вернуться к пропущенным заданиям.

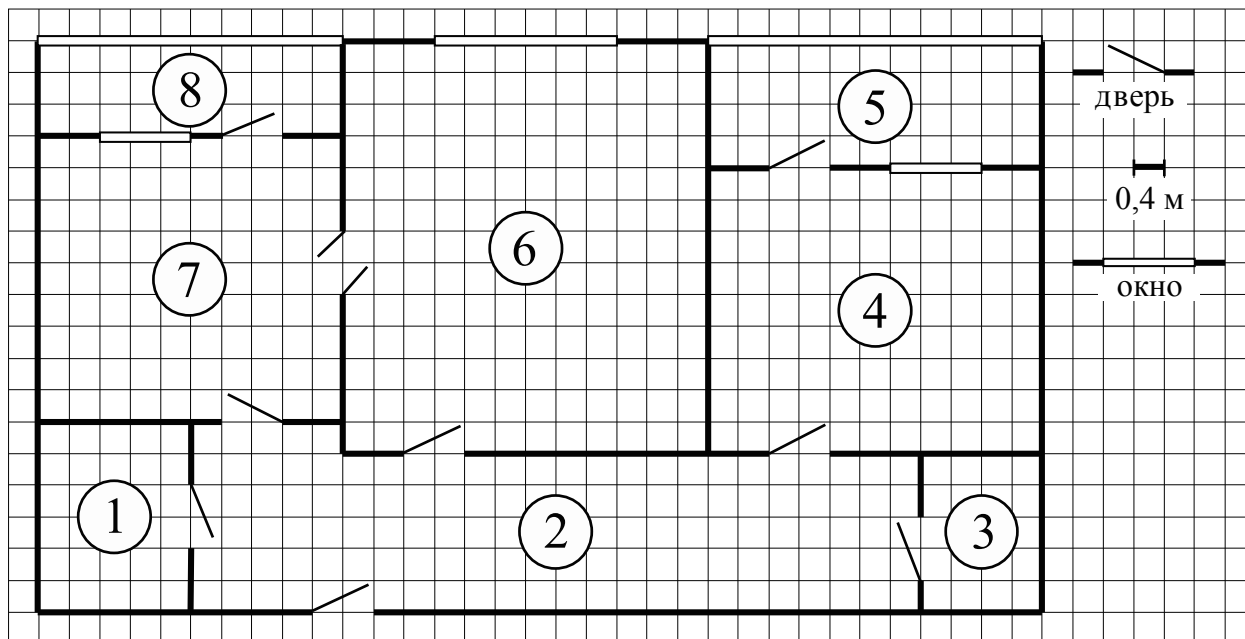
Баллы, полученные Вами за выполненные задания, суммируются. Постарайтесь выполнить как можно больше заданий и набрать наибольшее количество баллов.

Желаем успеха!

Таблица для внесения баллов участника

Номер задания	1	2	3	4	5	6	7	8	9	10	11	12	13	14	15	Сумма баллов	Отметка за работу
Баллы																	

Прочитайте внимательно текст и выполните задания 1–5.



На рисунке изображён план двухкомнатной квартиры в многоэтажном жилом доме. Сторона одной клетки на плане соответствует 0,4 м, а условные обозначения двери и окна приведены в правой части рисунка.

Вход в квартиру находится в коридоре. Слева от входа в квартиру находится санузел, а в противоположном конце коридора — дверь в кладовую. Рядом с кладовой находится спальня, из которой можно пройти на одну из застеклённых лоджий. Самое большое по площади помещение — гостиная, откуда можно попасть в коридор и на кухню. Из кухни также можно попасть на застеклённую лоджию.

1

Для объектов, указанных в таблице, определите, какими цифрами они обозначены на плане. Запишите в таблицу цифры под названиями соответствующих объектов.

<input type="text"/>	Объекты	коридор	спальня	кухня	гостиная
<input type="text"/>	Цифры				

2

Плитка для пола размером 40 см на 40 см продаётся в упаковках по 12 штук. Сколько упаковок плитки понадобилось, чтобы выложить пол в санузле?

Ответ: _____.

3

Найдите площадь меньшей лоджии. Ответ дайте в квадратных метрах.

Ответ: _____.

4

На сколько процентов площадь кухни больше площади лоджии, примыкающей к кухне?

Ответ: _____.

5


В квартире планируется подключить интернет. Предполагается, что трафик составит 850 Мб в месяц, и исходя из этого выбирается наиболее дешёвый вариант. Интернет-провайдер предлагает три тарифных плана.

Тарифный план	Абонентская плата	Плата за трафик
План «800»	900 руб. за 800 Мб трафика в месяц	2 руб. за 1 Мб сверх 800 Мб
План «1000»	1050 руб. за 1000 Мб трафика в месяц	1,5 руб. за 1 Мб сверх 1000 Мб
План «Безлимитный»	1100 руб. за неограниченное количество Мб трафика	_____

Сколько рублей нужно будет заплатить за интернет за месяц, если трафик действительно будет равен 850 Мб?

Ответ: _____.

6 На координатной прямой точки A , B , C и D соответствуют числам $-0,205$; $-0,052$; $0,02$; $0,008$.



Какой точке соответствует число $0,02$?

- 1) A 2) B 3) C 4) D

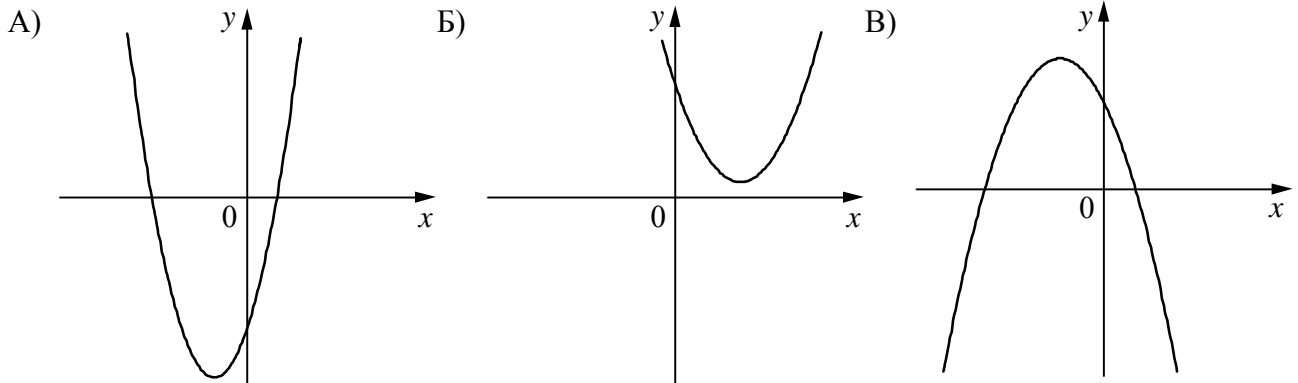
Ответ:

7 В магазине канцтоваров продаётся 120 ручек: 32 красных, 32 зелёных, 46 фиолетовых, остальные синие и чёрные, их поровну. Найдите вероятность того, что случайно выбранная в этом магазине ручка будет красной или фиолетовой.

Ответ: _____.

8 На рисунках изображены графики функций вида $y = ax^2 + bx + c$. Установите соответствие между графиками функций и знаками коэффициентов a и c .

ГРАФИКИ



КОЭФФИЦИЕНТЫ

- 1) $a > 0, c < 0$ 2) $a > 0, c > 0$ 3) $a < 0, c > 0$

В таблице под каждой буквой укажите соответствующий номер.

Ответ:

А	Б	В

13

Поезд, двигаясь равномерно со скоростью 93 км/ч, проезжает мимо пешехода, идущего в том же направлении параллельно путям по платформе со скоростью 3 км/ч, за 24 секунды. Найдите длину поезда в метрах.

Решение.

Ответ:

15

Найдите боковую сторону AB трапеции $ABCD$, если углы ABC и BCD равны соответственно 60° и 135° , а $CD = 24$.

Решение.

Ответ: