

Инструкция по выполнению работы

Экзаменационная работа состоит из двух частей, включающих в себя 25 заданий. Часть 1 содержит 19 заданий, часть 2 содержит 6 заданий с развёрнутым ответом.

На выполнение экзаменационной работы по математике отводится 3 часа 55 минут (235 минут).

Ответы к заданиям 7 и 13 запишите в бланк ответов № 1 в виде одной цифры, которая соответствует номеру правильного ответа.

Для остальных заданий части 1 ответом является число или последовательность цифр. Ответ запишите в поле ответа в тексте работы, а затем перенесите в бланк ответов № 1. Если получилась обыкновенная дробь, ответ запишите в виде десятичной.

Решения заданий части 2 и ответы к ним запишите на бланке ответов № 2. Задания можно выполнять в любом порядке. Текст задания переписывать не надо, необходимо только указать его номер.

Все бланки заполняются яркими чёрными чернилами. Допускается использование гелевой или капиллярной ручки.

Сначала выполняйте задания части 1. Начать советуем с тех заданий, которые вызывают у Вас меньше затруднений, затем переходите к другим заданиям. Для экономии времени пропускайте задание, которое не удаётся выполнить сразу, и переходите к следующему. Если у Вас останется время, Вы сможете вернуться к пропущенным заданиям.

При выполнении части 1 все необходимые вычисления, преобразования выполняйте в черновике. **Записи в черновике, а также в тексте контрольных измерительных материалов не учитываются при оценивании работы.**

Если задание содержит рисунок, то на нём непосредственно в тексте работы можно выполнять необходимые Вам построения. Рекомендуем внимательно читать условие и проводить проверку полученного ответа.

При выполнении работы Вы можете воспользоваться справочными материалами, выданными вместе с вариантом КИМ, и линейкой.

Баллы, полученные Вами за выполненные задания, суммируются. Постарайтесь выполнить как можно больше заданий и набрать наибольшее количество баллов.

После завершения работы проверьте, чтобы ответ на каждое задание в бланках ответов № 1 и № 2 был записан под правильным номером.

Желаем успеха!

Ответами к заданиям 1–19 являются число или последовательность цифр, которые следует записать в БЛАНК ОТВЕТОВ № 1 справа от номера соответствующего задания, начиная с первой клеточки. Если ответом является последовательность цифр, то запишите её без пробелов и других дополнительных символов. Каждый символ пишите в отдельной клеточке в соответствии с приведёнными в бланке образцами.

Прочитайте внимательно текст и выполните задания 1–5.



Рис. 1

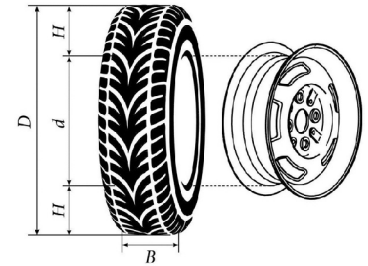


Рис. 2

Автомобильное колесо, как правило, представляет из себя металлический диск с установленной на него резиновой шиной. Диаметр диска совпадает с диаметром внутреннего отверстия в шине.

Для маркировки автомобильных шин применяется единая система обозначений. Например, 195/65 R15 (рис. 1). Первое число (число 195 в приведённом примере) обозначает ширину шины в миллиметрах (параметр B на рисунке 2). Второе число (число 65 в приведённом примере) — процентное отношение высоты боковины (параметр H на рисунке 2) к ширине шины, то есть $100 \cdot \frac{H}{B}$.

Последующая буква обозначает тип конструкции шины. В данном примере буква R означает, что шина радиальная, то есть нити каркаса в боковине шины расположены вдоль радиусов колеса. На всех легковых автомобилях применяются шины радиальной конструкции.

За обозначением типа конструкции шины идёт число, указывающее диаметр диска колеса d в дюймах (в одном дюйме 25,4 мм). Таким образом, общий диаметр колеса D легко найти, зная диаметр диска и высоту боковины. Возможны дополнительные маркировки, обозначающие допустимую нагрузку на шину, сезонность использования, тип дорожного покрытия и другие параметры.

Завод производит внедорожники определённой модели и устанавливает на них колёса с шинами маркировки 265/60 R18.

- 1 Завод допускает установку шин с другими маркировками. В таблице показаны разрешённые размеры шин.

Ширина шины (мм)	Диаметр диска (дюймы)			
	17	18	19	20
245	245/70	—	—	—
255	255/70	255/65	—	—
265	265/65	265/60; 265/65	—	—
275	275/65	275/60	275/55	275/50
285	—	285/60	285/55	285/50

Шины какой наибольшей ширины можно устанавливать на автомобиль, если диаметр диска равен 17 дюймам? Ответ дайте в миллиметрах.

Ответ: _____.

- 2 Найдите диаметр колеса автомобиля, выходящего с завода. Ответ дайте в миллиметрах.

Ответ: _____.

- 3 На сколько миллиметров радиус колеса с шиной маркировки 245/70 R17 меньше, чем радиус колеса с шиной маркировки 275/65 R17?

Ответ: _____.

- 4 На сколько миллиметров увеличится диаметр колеса, если заменить колёса, установленные на заводе, колёсами с шинами маркировки 285/50 R20?

Ответ: _____.

- 5 Дмитрий планирует заменить зимнюю резину на летнюю на своём автомобиле. Для каждого из четырёх колёс последовательно выполняются четыре операции: снятие колеса, замена шины, балансировка колеса и установка колеса. Он выбирает между автосервисами А и Б. Затраты на дорогу и стоимость операций даны в таблице.

Автосервис	Суммарные затраты на дорогу	Стоимость для одного колеса			
		Снятие колеса	Замена шины	Балансировка колеса	Установка колеса
А	240 руб.	62 руб.	230 руб.	210 руб.	62 руб.
Б	420 руб.	57 руб.	200 руб.	190 руб.	57 руб.

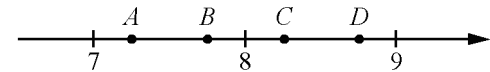
Сколько рублей заплатит Дмитрий за замену резины на своём автомобиле, если выберет самый дешёвый вариант?

Ответ: _____.

- 6 Найдите значение выражения $\frac{9}{5} \cdot \frac{2}{3}$.

Ответ: _____.

- 7 На координатной прямой отмечены точки A , B , C , D . Одна из них соответствует числу $\sqrt{60}$. Какая это точка?



- 1) точка A 2) точка B 3) точка C 4) точка D

Ответ:

- 8 Найдите значение выражения $\frac{(7^7)^{-3}}{7^{-23}}$.

Ответ: _____.

- 9) Решите уравнение $9x^2 = 54x$.
Если уравнение имеет более одного корня, в ответ запишите меньший из корней.

Ответ: _____.

- 10) В среднем из 75 карманных фонариков, поступивших в продажу, девять неисправных. Найдите вероятность того, что выбранный наудачу в магазине фонарик окажется исправен.

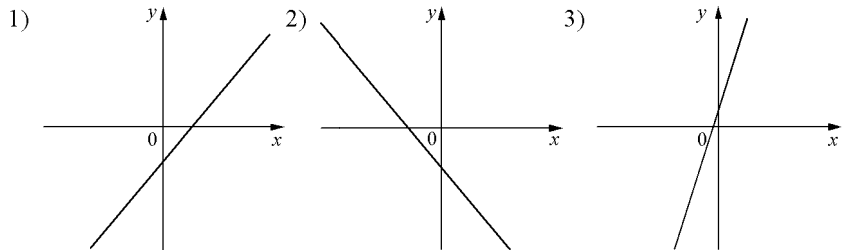
Ответ: _____.

- 11) На рисунках изображены графики функций вида $y = kx + b$. Установите соответствие между знаками коэффициентов k и b и графиками функций.

КОЭФФИЦИЕНТЫ

- А) $k > 0, b > 0$ Б) $k > 0, b < 0$ В) $k < 0, b < 0$

ГРАФИКИ



В таблице под каждой буквой укажите соответствующий номер.

Ответ:

А	Б	В

- 12) В фирме «Родник» стоимость (в рублях) колодца из железобетонных колец рассчитывается по формуле $C = 6000 + 4100n$, где n — число колец, установленных в колодце. Пользуясь этой формулой, рассчитайте стоимость колодца из 20 колец. Ответ дайте в рублях.

Ответ: _____.

- 13) Укажите решение неравенства

$$-3 - 5x \leq x + 3.$$

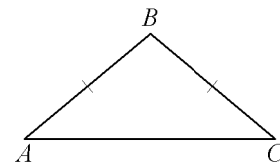
- 1) $(-\infty; 0]$ 2) $[-1; +\infty)$ 3) $[0; +\infty)$ 4) $(-\infty; -1]$

Ответ:

- 14) В ходе биологического эксперимента в чашку Петри с питательной средой поместили колонию микроорганизмов массой 8 мг. За каждые 20 минут масса колонии увеличивается в 3 раза. Найдите массу колонии микроорганизмов через 80 минут после начала эксперимента. Ответ дайте в миллиграммах.

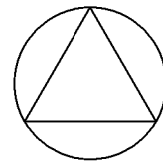
Ответ: _____.

- 15) В треугольнике ABC известно, что $AB = BC$, $\angle ABC = 106^\circ$. Найдите угол BCA . Ответ дайте в градусах.



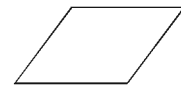
Ответ: _____.

- 16) Сторона равностороннего треугольника равна $20\sqrt{3}$. Найдите радиус окружности, описанной около этого треугольника.



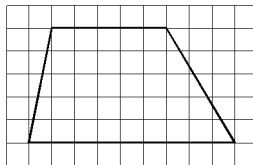
Ответ: _____.

- 17) Один из углов параллелограмма равен 91° . Найдите меньший угол этого параллелограмма. Ответ дайте в градусах.



Ответ: _____.

- 18 На клетчатой бумаге с размером клетки 1×1 изображена трапеция. Найдите её площадь.



Ответ: _____.

- 19 Какие из следующих утверждений верны?

- 1) Если три угла одного треугольника равны соответственно трём углам другого треугольника, то такие треугольники равны.
- 2) Через точку, не лежащую на данной прямой, можно провести прямую, параллельную этой прямой.
- 3) Расстояние от точки, лежащей на окружности, до центра окружности равно радиусу.

В ответ запишите номера выбранных утверждений без пробелов, запятых и других дополнительных символов.

Ответ: _____.



Не забудьте перенести все ответы в бланк ответов №1 в соответствии с инструкцией по выполнению работы. Проверьте, чтобы каждый ответ был записан в строке с номером соответствующего задания.

При выполнении заданий 20–25 используйте БЛАНК ОТВЕТОВ №2. Сначала укажите номер задания, а затем запишите его решение и ответ. Пишите чётко и разборчиво.

- 20 Решите неравенство $(x-1)^2 < \sqrt{2}(x-1)$.

- 21 Расстояние между пристанями А и В равно 45 км. Из А в В по течению реки отправился плот, а через час вслед за ним отправилась моторная лодка, которая, прибыв в пункт В, тотчас повернула обратно и возвратилась в А. К этому времени плот прошёл 28 км. Найдите скорость лодки в неподвижной воде, если скорость течения реки равна 4 км/ч.

- 22 Постройте график функции

$$y = \frac{3,5|x| - 1}{|x| - 3,5x^2}$$

Определите, при каких значениях k прямая $y = kx$ не имеет с графиком общих точек.

- 23 Найдите боковую сторону AB трапеции $ABCD$, если углы ABC и BCD равны соответственно 30° и 135° , а $CD = 29$.

- 24 В выпуклом четырёхугольнике $ABCD$ углы BCA и BDA равны. Докажите, что углы ABD и ACD также равны.

- 25 В треугольнике ABC известны длины сторон $AB = 15$, $AC = 25$, точка O — центр окружности, описанной около треугольника ABC . Прямая BD , перпендикулярная прямой AO , пересекает сторону AC в точке D . Найдите CD .



Проверьте, чтобы каждый ответ был записан рядом с номером соответствующего задания.