

**Проверочная работа
по ИСТОРИИ**

7 класс

Вариант 1

Инструкция по выполнению работы

На выполнение работы по истории даётся 60 минут. Работа включает в себя 12 заданий. Часть 1 работы посвящена истории России и истории зарубежных стран (история Нового времени), в части 2 предложено задание по истории Вашего родного края.

Ответы на задания запишите в поля ответов в тексте работы. В случае записи неверного ответа зачеркните его и запишите рядом новый.

При необходимости можно пользоваться черновиком. Записи в черновике проверяться и оцениваться не будут.

Советуем выполнять задания в том порядке, в котором они даны. В целях экономии времени пропускайте задание, которое не удаётся выполнить сразу, и переходите к следующему. Если после выполнения всей работы у Вас останется время, то Вы сможете вернуться к пропущенным заданиям.

Желаем успеха!

Таблица для внесения баллов участника

Номер задания	1	2	3	4	5	6	7	8	9	10	11	12	Сумма баллов	Отметка за работу
Баллы														

Часть 1

В этой части работы даны задания по истории России и истории зарубежных стран в Новое время.

1

Установите соответствие между событиями (процессами) и их участниками: к каждой позиции первого столбца подберите соответствующую позицию из второго столбца.

СОБЫТИЯ (ПРОЦЕССЫ)

- А) Английская революция XVII в.
 Б) учреждение в России патриаршества
 В) присоединение Пскова к Московскому государству

УЧАСТНИКИ

- 1) Б.Ф. Годунов
 2) Карл I
 3) царь Алексей Михайлович
 4) Генрих VIII
 5) Василий III

Запишите в таблицу выбранные цифры под соответствующими буквами.

Ответ:

А	Б	В

2

Запишите термин, о котором идёт речь.

Временное правление одного или нескольких лиц при малолетстве, болезни, отсутствии монарха.

Ответ: _____.

Прочтите отрывок из исторического источника и выполните задание 3.

«Русский солдат, по общему мнению, лучше защищается в крепости или городе, нежели сражается в открытом поле. Это замечено во всех войнах, а именно при осаде Пскова, восемь лет тому назад, где польский король Стефан Баторский, был отражён со всею его армиею, состоявшею из 100 000 человек, и принуждён, наконец, снять осаду, потеряв многих из лучших своих вождей и солдат. Но в открытом поле поляки и шведы всегда берут верх над русскими.

Тому, кто отличится храбростью перед другими или окажет какую-либо особенную услугу, царь посылает золотой с изображением святого Георгия на коне, который носят на руках или шапке, и это почитается самую большою почестью, какую только можно получить за какую бы то ни было услугу».

3

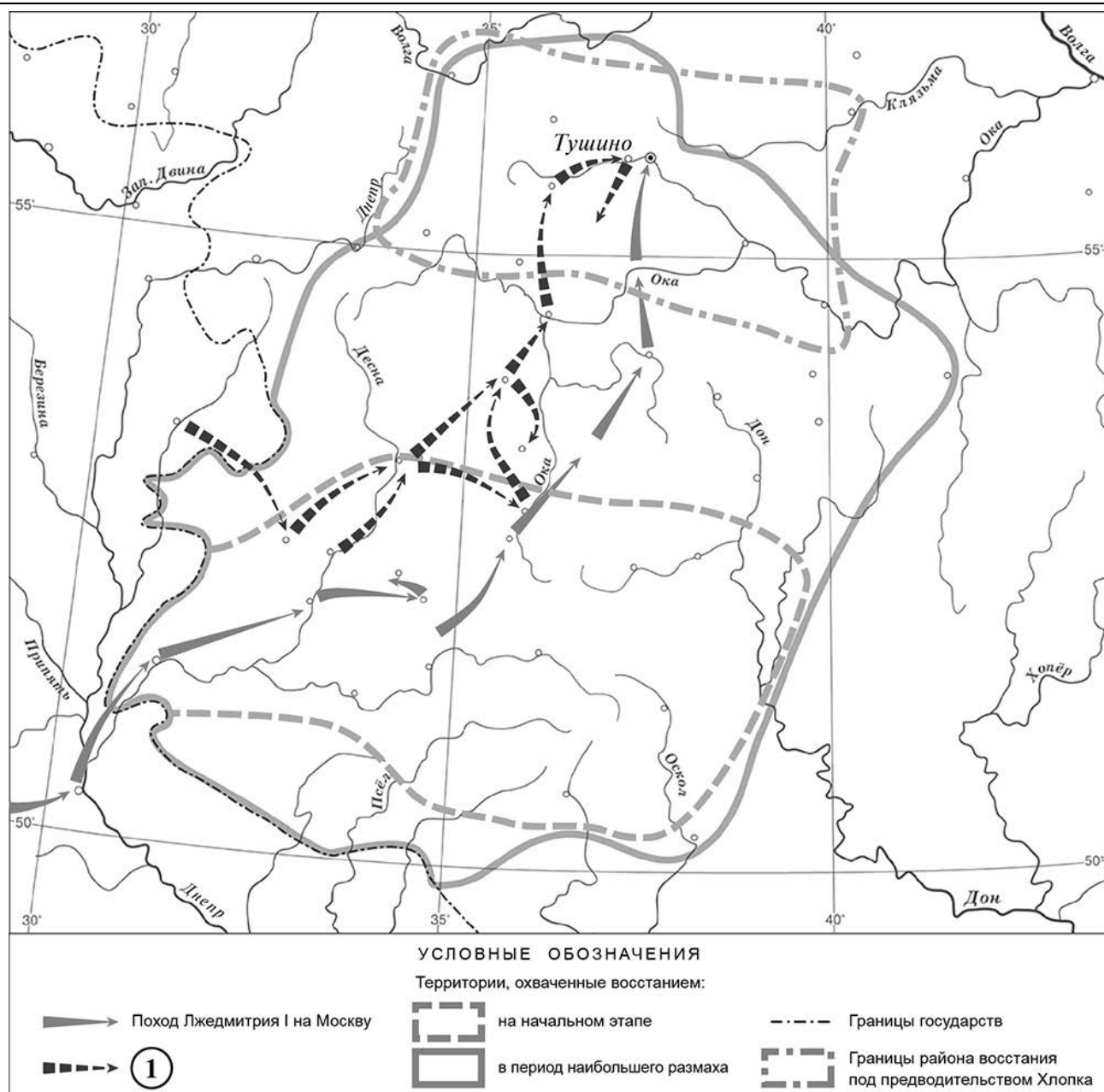
Укажите век создания данного исторического источника.

Ответ: _____.

Укажите название войны, к которой относится упоминаемая в отрывке осада Пскова.

Ответ: _____.

Рассмотрите карту и выполните задания 4, 5.



④ Укажите российского монарха в период, когда состоялся поход, обозначенный в легенде карты цифрой «1».



□ Ответ: _____.

⑤ Подпишите на карте города Киев и Смоленск.

□

Ознакомьтесь с приведённым перечнем и изображениями памятников культуры и выполните задания 6, 7.

- 1) Царь-пушка
- 2) поэтический сборник «Вертоград многоцветный»



6) Какие из приведённых памятников культуры были созданы в XVI в.? Выберите **два** памятника культуры и запишите в таблицу цифры, под которыми они указаны.

Ответ:

--	--

7) Создателем какого из приведённых памятников культуры является Андрей Чохов? Укажите порядковый номер этого памятника культуры.

Ответ:

--

8) Укажите время, с точностью до половины века, когда был созван первый Земский собор. Укажите одно любое событие (процесс) из истории зарубежных стран, относящееся к той же половине века. Не следует указывать событие (процесс) из истории международных отношений, одной из сторон которого была Россия.

Время с точностью до половины века: _____

Событие из истории зарубежных стран: _____

9

Какой из приведённых исторических фактов можно использовать для аргументации следующей точки зрения: «Итоги Смутного времени были крайне неблагоприятными для международной торговли России»? Укажите порядковый номер этого факта в списке.

- 1) заключение Андрусовского перемирия
- 2) заключение Ям-Запольского мирного договора
- 3) заключение Столбовского мирного договора

Ответ:

Объясните, как с помощью выбранного Вами факта можно аргументировать данную точку зрения.

Ответ:

10

Укажите с точностью до десятилетия время, когда были введены заповедные лета. Укажите монарха, правившего в России в этот период. Приведите один любой факт, характеризующий обстановку, связанную с введением заповедных лет.

Время:

Монарх:

Факт:

11

Используя знание исторических фактов, объясните, почему введение заповедных лет имело большое значение (важные последствия) в истории нашей страны.

Ответ:
