

**Проверочная работа
по ФИЗИКЕ**

7 класс

Вариант 1

Инструкция по выполнению работы

На выполнение работы по физике даётся 45 минут. Работа содержит 11 заданий.

Ответом на каждое из заданий 1, 3-6, 8, 9 является число или несколько чисел. В заданиях 2 и 7 нужно написать текстовый ответ. В заданиях 10 и 11 нужно написать решения задач полностью. В случае записи неверного ответа зачеркните его и запишите рядом новый.

При выполнении работы можно пользоваться непрограммируемым калькулятором.

При необходимости можно пользоваться черновиком. Записи в черновике проверяться и оцениваться не будут.

Советуем выполнять задания в том порядке, в котором они даны. Для экономии времени пропускайте задание, которое не удаётся выполнить сразу, и переходите к следующему. Постарайтесь выполнить как можно больше заданий.

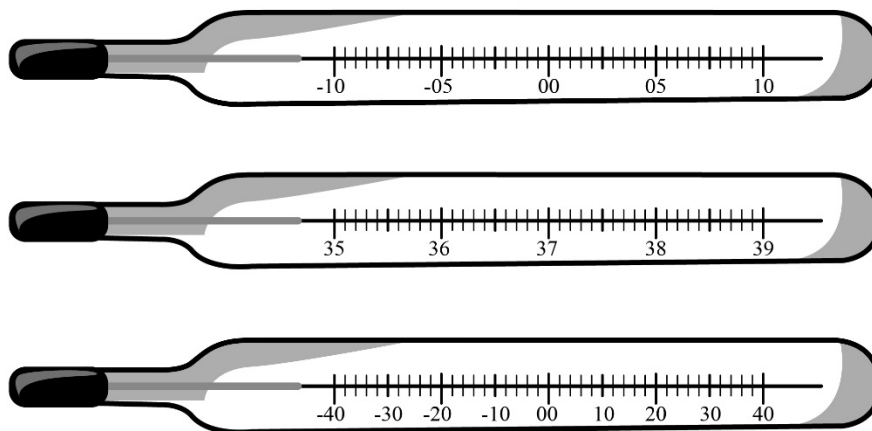
Желаем успеха!

Таблица для внесения баллов участника

Номер задания	1	2	3	4	5	6	7	8	9	10	11	Сумма баллов	Отметка за работу
Баллы													

1

Температура тела здорового человека равна $+36,6\text{ }^{\circ}\text{C}$ – такую температуру называют нормальной. На рисунке изображены три термометра. Чему равна цена деления того термометра, который подойдёт для измерения температуры тела с необходимой точностью?



Ответ: _____ $^{\circ}\text{C}$.

2

Пельмени при варке поднимаются к поверхности воды, когда они уже готовы к употреблению. Какая физическая характеристика тела отличается у сырых и у сваренных пельменей? Запишите формулу, при помощи которой можно вычислить эту характеристику, и назовите все входящие в эту формулу обозначения.

Ответ: _____

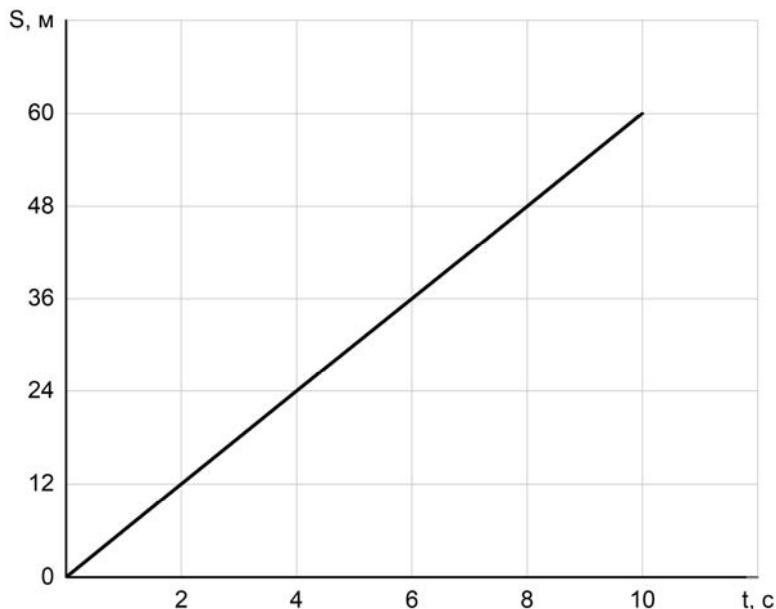
3

Для приготовления домашнего майонеза Тоне нужно 460 г оливкового масла. К сожалению, у неё под рукой нет весов, но зато в кухонном шкафу есть мерный стаканчик для жидкостей. Тоня нашла в учебнике физики таблицу, в которой было указано, что плотность оливкового масла равна $0,920\text{ г/см}^3$. Какой объём масла нужно отмерить Тоне?

Ответ: _____ мл.

4

Мальчик Толя сам собирает радиоуправляемые машинки. Чтобы понять, удачной ли получилась машинка, Толя определяет её скорость на тестовой дистанции. После проверки одной из машинок Толя потерял листок с расчётами и всё, что у него осталось, это график зависимости пройденной машинкой дистанции от времени её движения. Помогите Толе найти скорость движения машинки.



Ответ: _____ м/с.

5

Дмитрий налил в стакан доверху воды. Затем в этот стакан он опустил подвешенный на нитке кусочек мела, полностью погрузив его в воду (мел не касался дна и стенок стакана). При этом из стакана вылилось 8 г воды. Определите объём кусочка мела, если плотность воды равна 1 г/см^3 .

Ответ: _____ см^3 .

6

Коля с папой ехали на машине по горизонтальной дороге. Во время остановки на светофоре Коле стало интересно: какое давление оказывает машина на дорогу? Помогите Коле ответить на этот вопрос, если площадь контакта каждого колеса машины с дорогой равна $0,02 \text{ м}^2$, а масса автомобиля с пассажирами составляет 3200 кг. Ускорение свободного падения 10 Н/кг .

Ответ: _____ кПа.

7

На занятиях кружка по физике Олег решил изучить, как зависит жёсткость лёгкой пружины от количества её витков. Для этого он повесил к вертикальной пружине груз массой 60 г, а затем, уменьшая число витков пружины, снова подвешивал груз. В таблице представлена зависимость растяжения пружины от количества её витков.

Количество витков пружины	Растяжение пружины, см
8	1
16	2
24	3
32	4
40	5

Какой можно сделать вывод о зависимости жёсткости пружины от количества витков по итогам данного исследования?

Ответ: _____

8

Гена решил попробовать определить внутренний объём надутого воздушного шарика – наполнить его водой и измерить объём этой воды. Выяснилось, что надуть шарик водой не так-то просто, поскольку он не растягивается под её весом. Поэтому Гена начал заливать в шарик воду через вертикальную трубку, как показано на рисунке. Известно, что минимальное дополнительное давление, которое нужно создать для надувания шарика, составляет 10 кПа. Какой минимальной длины трубку надо взять Гене для того, чтобы исполнить свой план? Плотность воды 1000 кг/м^3 .



Ответ: _____ м.

9

Некоторые люди любят пить зимой витаминный напиток – сок из чёрной смородины, смешанный с мёдом. Плотность сока равна 1 г/см^3 , а плотность мёда в 1,4 раза больше плотности сока.

1) Определите плотность мёда.

2) Какова плотность такой смеси, если в 600 г сока растворили 210 г мёда? При растворении мёда в соке объём смеси можно считать равным сумме объёмов исходных компонентов смеси.

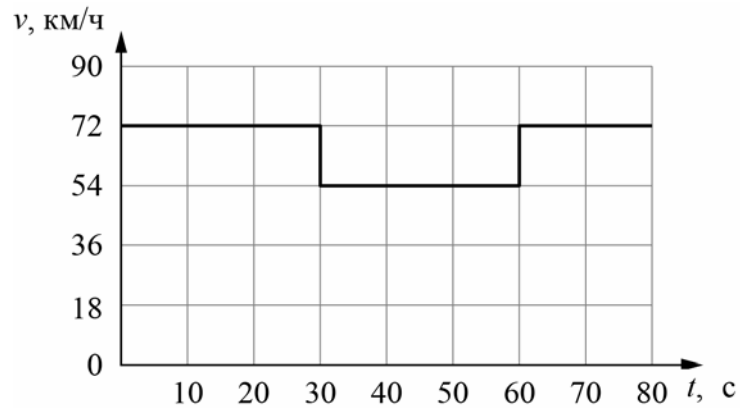
Ответ: 1) _____ г/см^3 ;

2) _____ г/см^3 .

10

Согласно инструкции для машинистов, если локомотив или хотя бы один вагон поезда движется по мосту, скорость поезда не должна превышать 60 км/ч. Машинист вёл поезд, строго выполняя инструкцию. На рисунке показан график зависимости скорости v движения поезда от времени t .

- 1) Сколько времени машинист ехал по мосту?
 - 2) Определите длину поезда, если длина состава равна длине моста.
 - 3) Сколько вагонов было в составе, если длина локомотива и каждого вагона поезда $l = 15$ м?
- Ответы на вопросы обоснуйте соответствующими рассуждениями или решением задачи.



Решение:

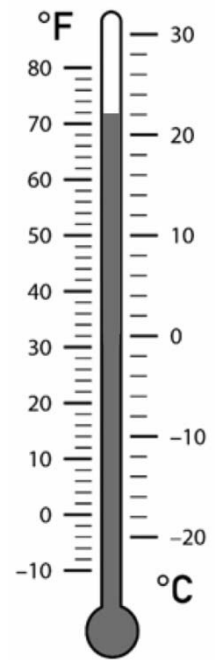
Ответ:

11

Существуют различные шкалы для измерения температуры. Так, шкала Цельсия имеет две контрольные точки – это температуры таяния льда (принята за 0 °С) и кипения воды (принята за 100 °С). Другая шкала, которая в настоящее время используется в основном в США – это шкала Фаренгейта.

Пользуясь изображением двухшкального уличного термометра, оцените:

- 1) Какую температуру воздуха на улице в градусах Цельсия (°С) показывает этот термометр?
- 2) На сколько градусов Фаренгейта увеличится температура воздуха, если он нагреется на 35 °С (ответ обоснуйте и округлите до целого).
- 3) Какому значению по шкале Фаренгейта соответствует температура на поверхности Венеры (462 °С) (ответ обоснуйте).



Решение:	
<div style="border: 1px solid black; width: 30px; height: 30px; display: inline-block; margin-bottom: 5px;"></div> Ответ:	