

**Проверочная работа
по МАТЕМАТИКЕ**

5 класс

Вариант 2

Инструкция по выполнению работы

На выполнение работы по математике даётся 60 минут. Работа содержит 14 заданий.

В заданиях, после которых есть поле со словом «Ответ», запишите ответ в указанном месте.

В задании 12 (пункт 2) нужно сделать чертёж на рисунке, данном в условии.

В заданиях, после которых есть поле со словами «Решение» и «Ответ», запишите решение и ответ в указанном месте.

Если Вы хотите изменить ответ, зачеркните его и запишите рядом новый.

При выполнении работы нельзя пользоваться учебниками, рабочими тетрадями, справочниками, калькулятором.

При необходимости можно пользоваться черновиком. Записи в черновике проверяться и оцениваться не будут.

Советуем выполнять задания в том порядке, в котором они даны. Для экономии времени пропускайте задание, которое не удаётся выполнить сразу, и переходите к следующему. Постарайтесь выполнить как можно больше заданий.

Желаем успеха!

Таблица для внесения баллов участника

Номер задания	1	2	3	4	5	6	7	8	9	10	11(1)	11(2)	12(1)	12(2)	13	14	Сумма баллов	Отметка за работу
Баллы																		

10

В магазине продаётся кофе разных сортов. Нужно купить 1 кг кофе одного сорта. Сколько будет стоить самая дешёвая покупка? Ответ дайте в рублях.

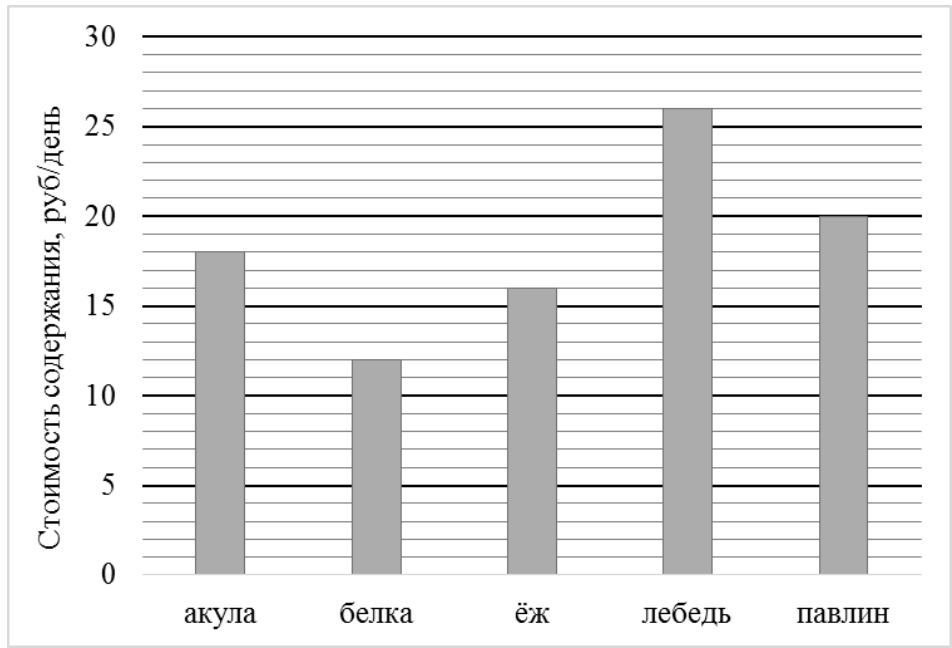
Сорт кофе	Вес упаковки, г	Цена упаковки, руб.
«Арабика»	500	650
«Илли»	100	150
«Робуста»	250	350
«Сантос»	200	250

Запишите решение и ответ.

Решение.

 Ответ:

11) Директор зоопарка рассказал, сколько рублей в день в среднем тратится на питание (содержание) различных животных в зоопарке.



1) Сколько рублей в среднем тратится в день на питание одного лебедя?



Ответ:

--	--	--	--	--	--	--	--	--	--	--	--	--	--	--	--	--	--	--	--	--	--	--

2) Сколько рублей в среднем тратится на питание одного ежа за две недели?

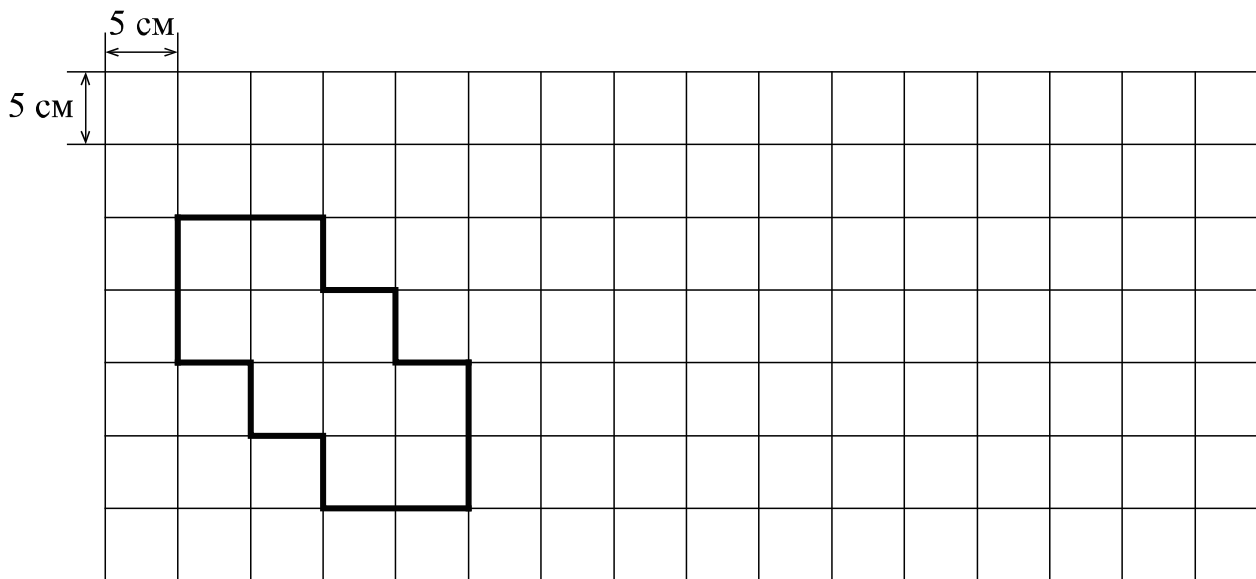


Ответ:

--	--	--	--	--	--	--	--	--	--	--	--	--	--	--	--	--	--	--	--	--	--	--

12

На рисунке дано поле, расчерченное на квадраты со стороной 5 см. На нём изображена фигура.



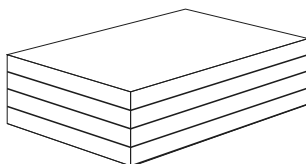
1) Найдите периметр этой фигуры. Ответ дайте в сантиметрах.

Answer grid for question 1. The grid is 10 squares wide and 3 squares high. The word "Ответ:" is written in the top-left cell.

2) На поле, данном в условии, начертите прямоугольник, периметр которого равен 90 см.

13

Из четырёх деревянных досок длиной 150 см, шириной 90 см и толщиной 14 см склеили брусок, как показано на рисунке.



Найдите объём этого бруска в кубических сантиметрах.

Answer grid for question 13. The grid is 10 squares wide and 3 squares high. The word "Ответ:" is written in the top-left cell.

14

Света, Маша и Оля разделили между собой 80 конфет. Света заметила, что если она отдаст все свои конфеты Маше, то у Маши и Оли станет поровну конфет, а если она отдаст все свои конфеты Оле, то у Оли станет в семь раз больше конфет, чем у Маши. Сколько конфет было у Светы?

Запишите решение и ответ.

Решение.

Ответ: