

**Проверочная работа  
по ИСТОРИИ**

**5 класс**

**Вариант 2**

**Инструкция по выполнению работы**

На выполнение работы по истории даётся 45 минут. Работа состоит из двух частей и включает в себя 8 заданий. Часть 1 работы содержит задания по истории Древнего мира, в части 2 предложены задания по истории родного края.

Ответы на задания запишите в поля ответов в тексте работы. В случае записи неверного ответа зачеркните его и запишите рядом новый.

При выполнении работы не разрешается пользоваться учебником, рабочими тетрадями и другими справочными материалами.

При необходимости можно пользоваться черновиком. Записи в черновике проверяться и оцениваться не будут.

Советуем выполнять задания в том порядке, в котором они даны. В целях экономии времени пропускайте задание, которое не удаётся выполнить сразу, и переходите к следующему. Если после выполнения всей работы у Вас останется время, то Вы сможете вернуться к пропущенным заданиям.

***Желаем успеха!***

*Таблица для внесения баллов участника*

Номер задания	1	2	3	4	5	6	7	8	Сумма баллов	Отметка за работу
Баллы										

Часть 1

В этой части работы даны задания по истории Древнего мира.

Прочтите перечень из четырёх тем и выполните задания, относящиеся к этому перечню.

Перечень тем

А) Древний Египет

Б) Древняя Греция

В) Персидская держава

Г) Древний Китай

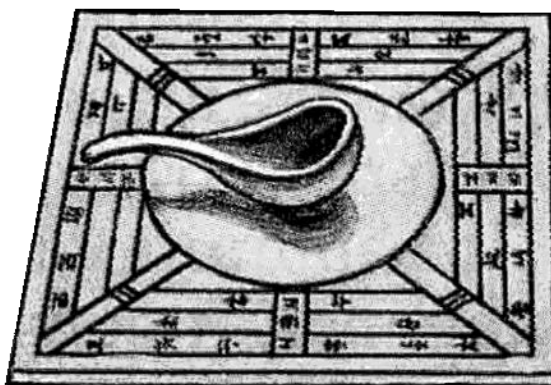
1

Каждая из иллюстраций, приведённых ниже, относится к одной из указанных в перечне тем. Установите соответствие между темами и иллюстрациями: к каждой теме подберите по одной иллюстрации.


1)



2)



3)



4)



Запишите в таблицу выбранные цифры под соответствующими буквами.

Ответ:

А	Б	В	Г

## Перечень тем

А) Древний Египет

Б) Древняя Греция

В) Персидская держава

Г) Древний Китай

2

Прочитайте отрывок из исторического источника и определите, к какой из данных тем он относится. В ответе напишите букву, которой обозначена эта тема.

«Говоря коротко, я утверждаю, что всё наше государство – центр просвещения Эллады; каждый человек может, мне кажется, приспособиться у нас к многочисленным родам деятельности, и, выполняя своё дело с изяществом и ловкостью, всего лучше может добиться для себя независимого положения... Действительно, из нынешних государств только одно наше выдерживает испытание, чтобы стать выше толков о нём; только одно наше государство не возбуждает негодования в нападающих на него неприятелях в случае поражения их такими людьми (как мы), не вызывает упрека в подчинённых, что они будто бы покоряются людям, не достойным владычествовать. Создав могущество, подкреплённое ясными доказательствами и достаточно засвидетельствованное, мы послужим предметом удивления для современников и потомства, и нам нет никакой нужды ни в панегиристе Гомере, ни в ком другом, доставляющем минутное наслаждение своими песнями, в то время как истина, основанная на фактах, разрушит вызванное этими песнями представление».

Ответ:

**Выберите одну тему из перечня, а затем выполните относящиеся к этому перечню задания только по выбранной Вами теме. Перед выполнением каждого из относящихся к перечню заданий укажите букву, которой обозначена выбранная тема. Указанные в заданиях буквы должны быть одинаковыми.**

3

Выбранная тема:  (укажите букву в перечне).

Прочитайте список слов (словосочетаний) и напишите слово (словосочетание), относящееся к выбранной Вами теме.

*Ниневия, Анубис, суд Соломона, «царство стран», Хуанхэ, лаконичная речь.*

Ответ: \_\_\_\_\_

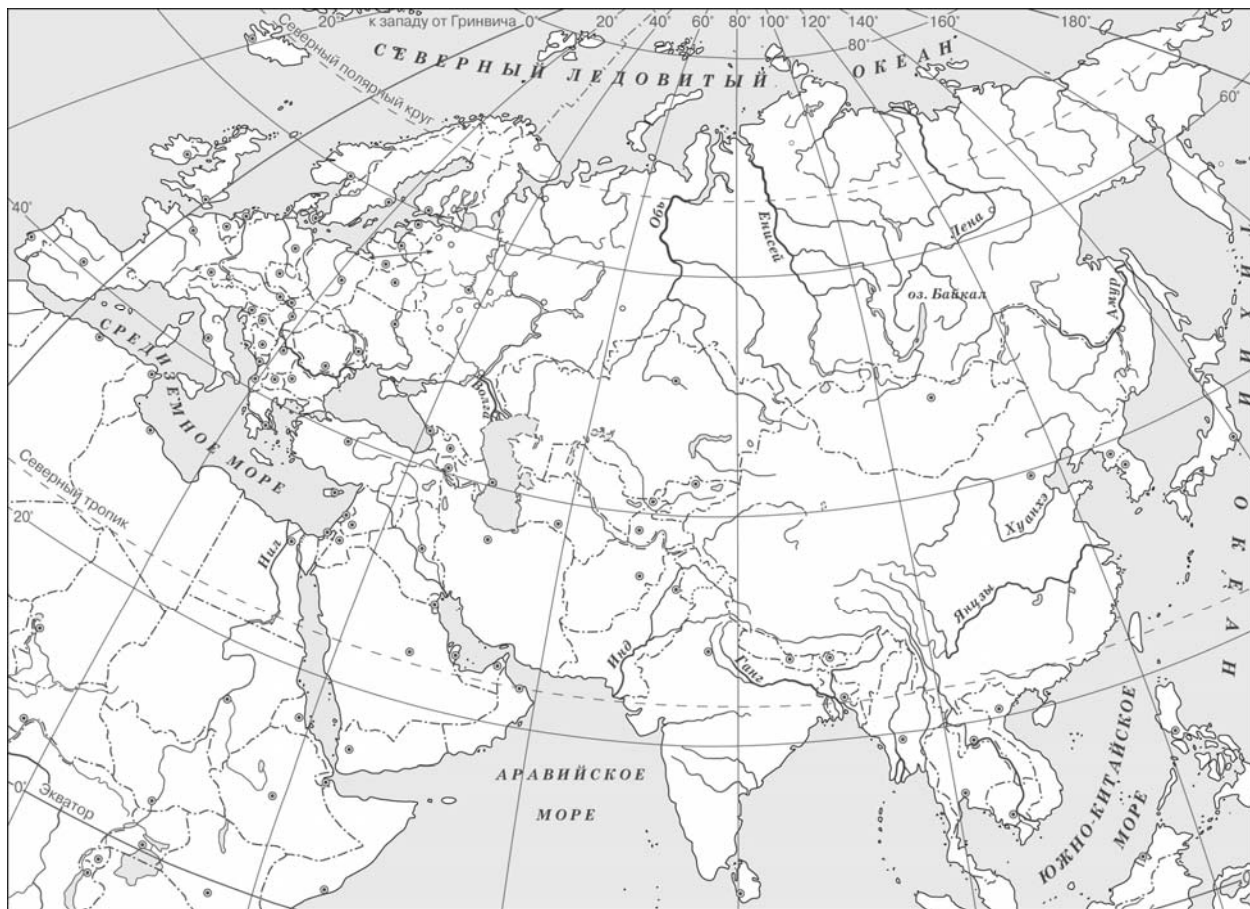
Объясните, что обозначает это слово (словосочетание).

Ответ: \_\_\_\_\_



5

Заштрихуйте на контурной карте один четырёхугольник, образованный градусной сеткой (параллелями и меридианами), в котором полностью или частично находится река Тигр.



6

Используя знания исторических фактов, объясните, как природно-климатические условия повлияли на занятия жителей территории, расположенной в бассейне реки Тигр.



Ответ: \_\_\_\_\_

\_\_\_\_\_

\_\_\_\_\_

\_\_\_\_\_

**Часть 2**

**Вспомните важнейшие события истории Вашего региона или населённого пункта и выполните задания 7 и 8.**

7 Назовите одно любое памятное место (исторический памятник, памятник культуры, мемориальная доска и т. п.) в Вашем регионе (городе, посёлке, селе, деревне), связанное с историей Вашего региона, или населённого пункта, или нашей страны в целом.

Ответ: \_\_\_\_\_

8 Какое значение для Вашего региона, или населённого пункта, или нашей страны в целом имело событие (явление, процесс), непосредственно связанное с указанным Вами памятным местом?

\_\_\_\_\_

\_\_\_\_\_

\_\_\_\_\_

\_\_\_\_\_

\_\_\_\_\_

\_\_\_\_\_

\_\_\_\_\_

\_\_\_\_\_

\_\_\_\_\_

\_\_\_\_\_

\_\_\_\_\_

\_\_\_\_\_

\_\_\_\_\_