

**Проверочная работа
по ФИЗИКЕ**

8 класс

Вариант 1

Инструкция по выполнению работы

На выполнение работы по физике даётся 45 минут. Работа содержит 11 заданий.

Ответом на каждое из заданий 1, 3-7, 9 является число или несколько чисел. В заданиях 2 и 8 нужно написать текстовый ответ. В заданиях 10 и 11 нужно написать решение задач полностью. В случае записи неверного ответа зачеркните его и запишите рядом новый.

При выполнении работы можно пользоваться непрограммируемым калькулятором.

При необходимости можно пользоваться черновиком. Записи в черновике проверяться и оцениваться не будут.

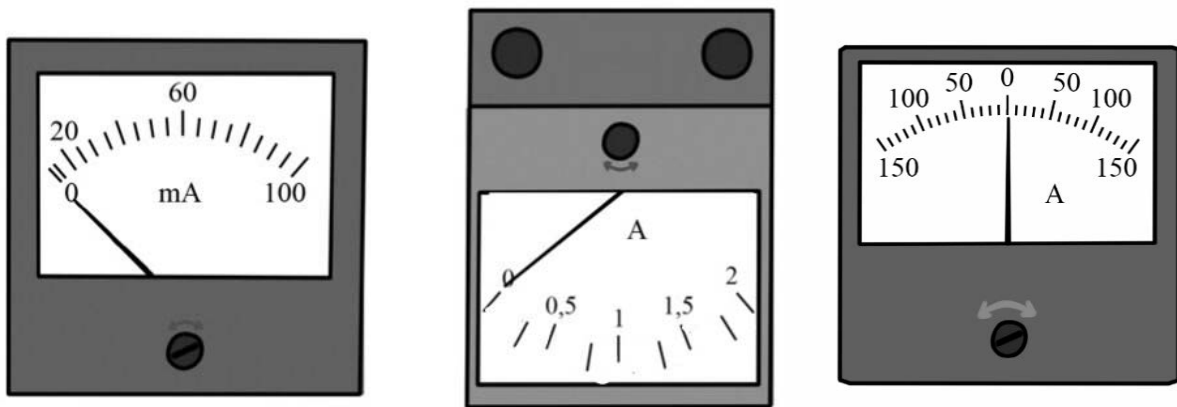
Советуем выполнять задания в том порядке, в котором они даны. Для экономии времени пропускайте задание, которое не удаётся выполнить сразу, и переходите к следующему. Постарайтесь выполнить как можно больше заданий.

Желаем успеха!

Таблица для внесения баллов участника

Номер задания	1	2	3	4	5	6	7	8	9	10	11	Сумма баллов	Отметка за работу
Баллы													

1 Новая батарейка при замыкании её клемм накоротко должна обеспечивать ток короткого замыкания не менее 1,5 А. Укажите цену деления прибора, которым надо воспользоваться для того, чтобы измерить ток короткого замыкания такой новой батарейки.



Ответ: _____ А.

2 В старых автомобилях в радиатор для охлаждения двигателя заливали воду. Зимой при длительных остановках (например, перед ночной стоянкой) воду из радиатора каждый раз сливали. Объясните, зачем так поступали?

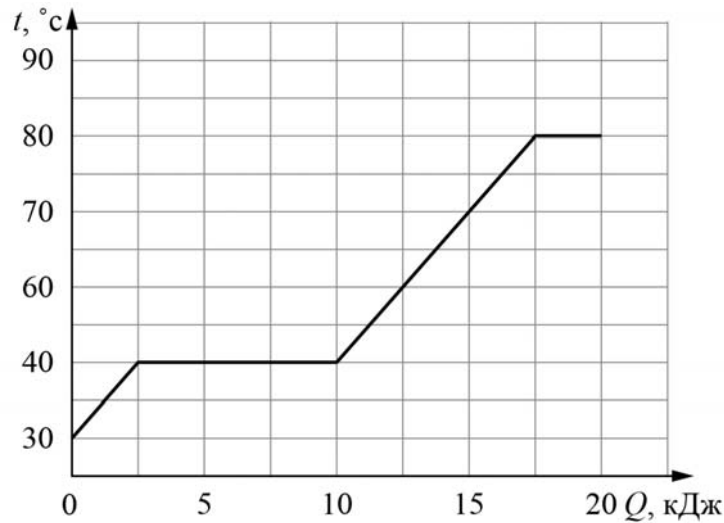
Ответ: _____

3 Пётр налил в кастрюлю воду массой 2 кг и начал её нагревать. На сколько градусов он смог нагреть воду, если она получила количество теплоты, равное 126000 Дж? Удельная теплоёмкость воды 4200 Дж/(кг·°C), потерями теплоты можно пренебречь.

Ответ: _____ °C.

4

Максим делал на уроке в школе лабораторную работу. В результате он построил график зависимости температуры некоторого изначально твёрдого вещества от количества подведённой к нему теплоты. Масса вещества была равна 300 г. Определите удельную теплоёмкость вещества в жидком состоянии.



Ответ: _____ Дж/(кг·°C).

5

Федя подключил к батарейке красную лампочку и посмотрел, как она горит. После этого Федя подключил последовательно с этой красной лампой три синие лампочки, обладающие таким же сопротивлением, как и красная, и обнаружил, что красная лампочка стала гореть менее ярко. Федя предположил, что сопротивление каждой лампочки является постоянным. Во сколько раз уменьшилась мощность, выделяющаяся в красной лампочке, если предположение Феде справедливо?

Ответ: в _____ раз(а).

6

Лёшин папа работает машинистом башенного крана. Он знает, что мощность двигателя, который обеспечивает подъём груза, равна 45000 Вт, поэтому, когда Лёша спросил, с какой скоростью поднимается бетонная плита массой 5000 кг, то папа, немного подумав, дал верный ответ. Что ответил папа? Ускорение свободного падения $g = 10$ Н/кг.

Ответ: _____ м/с.

7

В электронных приборах, к надёжности работы которых предъявляются повышенные требования, часто используются контакты из золота, поскольку этот металл не подвержен коррозии. Во сколько раз сопротивление контакта из золота будет меньше сопротивления аналогичного железного контакта? Ответ округлите до десятых.

Удельное электрическое сопротивление ρ некоторых веществ, Ом·мм ² /м (при 20 °С)			
Материал	ρ	Материал	ρ
Серебро	0,016	Манганин (сплав)	0,43
Медь	0,017	Константан (сплав)	0,50
Золото	0,024	Ртуть	0,98
Алюминий	0,028	Нихром (сплав)	1,1
Вольфрам	0,055	Фехраль (сплав)	1,3
Железо	0,10	Графит	13
Свинец	0,21	Фарфор	10 ¹⁹
Никелин (сплав)	0,40	Эбонит	10 ²⁰

Ответ: в _____ раз(а).

8

На рисунке показано положение магнитной стрелки, установленной рядом с длинным прямым проводом, по которому течёт постоянный электрический ток I . Проводник расположен перпендикулярно плоскости рисунка, ток в нём течёт «к нам», что обозначено «точкой». Что произойдёт с магнитной стрелкой, если изменить направление тока в проводе на противоположное? Ответ поясните.



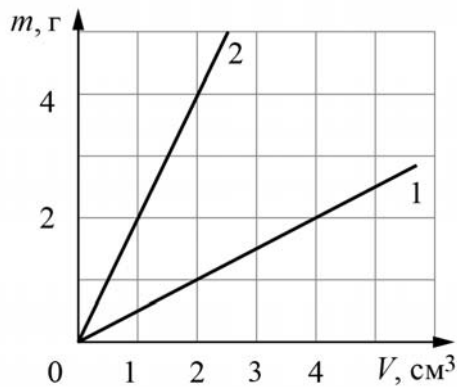
Ответ и объяснение: _____

9

На графике показана зависимость массы от объёма для двух смешивающихся жидкостей «1» и «2». В сосуд налили жидкость «1», объём которой составлял 0,4 объёма сосуда, затем добавили жидкость «2», объём которой был равен 0,6 объёма сосуда.

1) Определите плотность жидкости «1».

2) Найдите плотность смеси, если известно, что её объём равен сумме объёмов компонентов.



Ответ: 1) _____ г/см;
2) _____ г/см³.

10

Молодая мама в период отключения горячей воды решила искупать своего малыша в тёплой воде. Для этого она взяла детскую ванночку и набрала туда холодной воды из-под крана, температура которой была равна $20\text{ }^{\circ}\text{C}$. Затем она развела холодную воду в ванночке горячей водой, которую получила, нагрев на электрической плите воду из-под крана до $92\text{ }^{\circ}\text{C}$. После этой процедуры в ванночке оказалось 32 литра тёплой воды.

1) Определите объём воды, который пришлось нагреть молодой маме, если температура воды в ванночке оказалась равной $38\text{ }^{\circ}\text{C}$.

2) Какое количество теплоты пришлось затратить на получение этого объёма горячей воды? Плотность воды $\rho = 1000\text{ кг/м}^3$, удельная теплоёмкость воды $c = 4200\text{ Дж/(кг}\cdot^{\circ}\text{C)}$.

3) На какую сумму вырастет счёт за электроэнергию, если воду отключали на 10 дней, а мама купала малыша каждый день? Стоимость одного кВт·ч составляет 5 рублей.

Теплопотери можно пренебречь.

Примечание: киловатт-час – это работа, которую совершает или потребляет за 1 час устройство мощностью 1 кВт.

Решение:

Ответ:

11

Илья взял стрелочный вольтметр, рассчитанный на измерение напряжения не более 7 В, и решил увеличить его предел измерений до 14 В. Для этого Илья припаял к одному из выходов вольтметра дополнительный резистор и переградуировал шкалу прибора, получив тем самым вольтметр с увеличенным внутренним сопротивлением и расширенным диапазоном измерений. То есть, когда вольтметр по старой шкале показывал значение напряжения 7 В, на новой шкале стрелка указывала на деление в 14 В.

- 1) Если напряжение на последовательно соединённых вольтметре и дополнительном резисторе составляет 14 В, а напряжение на вольтметре составляет 7 В, то чему равно напряжение на резисторе?
- 2) Если считать, что внутреннее сопротивление вольтметра составляет 2 кОм, то чему равно сопротивление дополнительного резистора, который Илья припаял к вольтметру?
- 3) Точность изготовления резисторов на заводе составляет $\pm 5\%$. В каком диапазоне может лежать суммарная величина напряжения на резисторе и вольтметре, если вольтметр по старой шкале показывает 4 В? Считайте показания вольтметра по старой шкале точными. Напишите полное решение этой задачи.

Решение:	
Ответ:	

