

ВСЕРОССИЙСКАЯ ПРОВЕРОЧНАЯ РАБОТА**ХИМИЯ
11 КЛАСС****Вариант 2****Инструкция по выполнению работы**

Проверочная работа включает в себя 15 заданий. На выполнение работы по химии отводится 1 час 30 минут (90 минут).

Оформляйте ответы в тексте работы согласно инструкциям к заданиям. В случае записи неверного ответа зачеркните его и запишите рядом новый.

При выполнении работы разрешается использовать следующие дополнительные материалы:

- Периодическая система химических элементов Д.И. Менделеева;
- таблица растворимости солей, кислот и оснований в воде;
- электрохимический ряд напряжений металлов;
- непрограммируемый калькулятор.

При выполнении заданий Вы можете использовать черновик. Записи в черновике проверяться и оцениваться не будут.

Советуем выполнять задания в том порядке, в котором они даны. Для экономии времени пропускайте задание, которое не удаётся выполнить сразу, и переходите к следующему. Если после выполнения всей работы у Вас останется время, Вы сможете вернуться к пропущенным заданиям.

Баллы, полученные Вами за выполненные задания, суммируются. Постарайтесь выполнить как можно больше заданий и набрать наибольшее количество баллов.

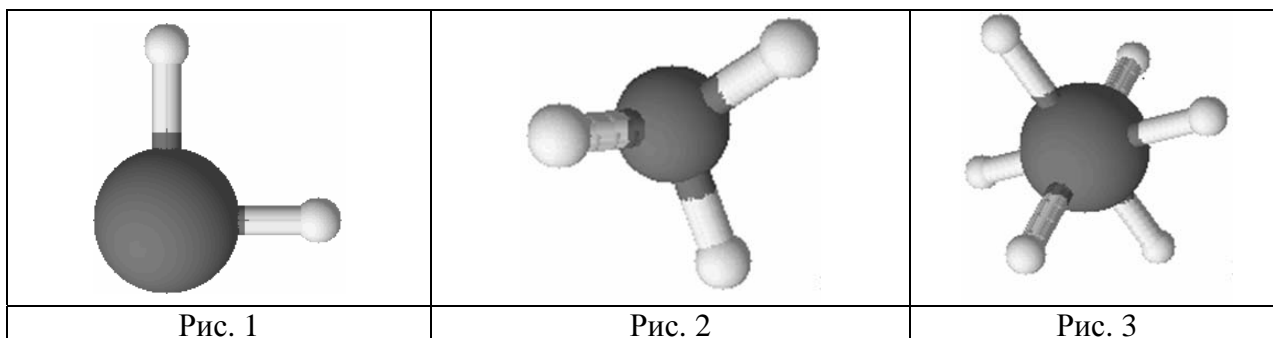
Желаем успеха!

Таблица для внесения баллов участника

Номер задания	1	2	3	4	5	6	7	8	9	10	11	12	13	14	15	Сумма баллов	Отметка за работу
Баллы																	

1

Одним из научных методов познания веществ и химических явлений является моделирование. Так, модели молекул отражают характерные признаки реальных объектов. На рис. 1–3 изображены модели молекул трёх веществ.



Проанализируйте данные модели молекул веществ и определите вещество:

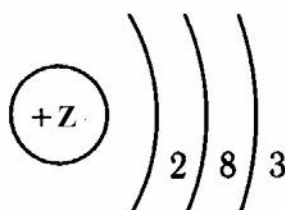
- 1) состав которого выражается формулой SF_6 ;
- 2) в котором один из атомов проявляет валентность, равную III.

Запишите в таблицу номера рисунков и укажите количество атомов в молекулах выбранных веществ.

Вещество	Номер рисунка	Количество атомов в молекуле
состав которого выражается формулой SF_6		
в котором один из атомов проявляет валентность, равную III		

2

На рисунке изображена модель электронного строения атома некоторого химического элемента.



Ознакомьтесь с предложенной моделью и выполните следующие задания:

- 1) определите заряд ядра атома химического элемента, атом которого имеет такое электронное строение;
- 2) укажите номер периода и номер группы в Периодической системе химических элементов Д.И. Менделеева, в которых расположен этот элемент;
- 3) определите, к какой группе оксидов (кислотным, основным или амфотерным) относится высший оксид этого химического элемента.

Ответы запишите в таблицу.

Заряд ядра	№ периода	№ группы	Оксид

3

2019 год объявлен Международным годом Периодической таблицы химических элементов Д.И. Менделеева. Мировое научное сообщество отметит 150-летие открытия Периодического закона химических элементов Д.И. Менделеевым в 1869 году.

Периодическая система химических элементов Д.И. Менделеева – богатое хранилище информации о химических элементах, их свойствах и свойствах их соединений. Так, например, известно, что с увеличением порядкового номера химического элемента кислотный характер высших оксидов в периодах усиливается, а в группах ослабевает.

Учитывая эти закономерности, расположите в порядке усиления кислотных свойств их высших оксидов следующие элементы: алюминий, сера кремний. В ответе запишите символы элементов в нужной последовательности.

Ответ: _____

4

В приведённой ниже таблице представлены примеры формул веществ с ковалентной полярной и ионной химической связью.

Химическая связь	
Ковалентная полярная	Ионная
<ul style="list-style-type: none"> • NCl_3; • CO; • HBr 	<ul style="list-style-type: none"> • CaCl_2; • Li_2O; • NaI

Используя данную информацию, определите вид химической связи:

- 1) во фториде калия (KF);
- 2) в молекуле сероуглерода (CS_2).

Запишите ответ в отведённом месте:

1) Во фториде калия _____

2) В сероуглероде _____

Прочитайте следующий текст и выполните задания 5–7.

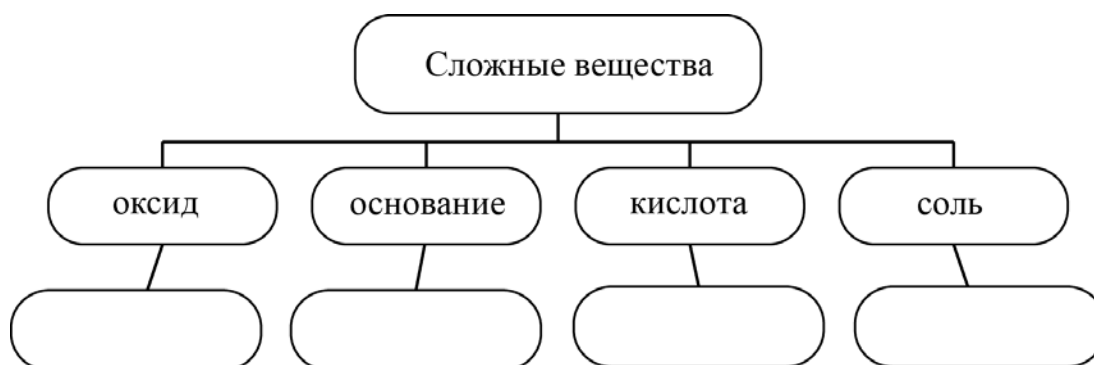
Оксид меди(II) (CuO) – вещество чёрного цвета, в обычных условиях довольно устойчивое и практически нерастворимое в воде. В природе встречается в виде минерала тенорита (мелаконита). Его можно получить прокаливанием солей: гидроксокарбоната меди(II) – основного компонента малахита $(\text{CuOH})_2\text{CO}_3$, нитрата $(\text{Cu}(\text{NO}_3)_2)$ или карбоната меди(II) (CuCO_3), а также разложением соответствующего гидроксида $(\text{Cu}(\text{OH})_2)$.

Для оксида меди(II) характерны слабые основные свойства, которые проявляются в реакциях с кислотами, например, с серной (H_2SO_4), соляной (HCl) и уксусной (CH_3COOH). При этом образуются соответствующая соль двухвалентной меди и вода.

Оксид меди применяют в производстве медно-рубинового стекла, а также при производстве обычного стекла и эмалей для придания им зелёной и синей окраски.

5

Сложные неорганические вещества условно можно распределить, то есть классифицировать, по четырём группам, как показано на схеме. В эту схему для каждой из четырёх групп *впишите* по одной химической формуле веществ, из тех, о которых говорится в приведённом выше тексте.



6

1) Составьте молекулярное уравнение реакции получения оксида меди(II) из гидроксида меди(II).

Ответ: _____

2) Укажите, к какому типу (соединения, разложения, замещения, обмена) относится эта реакция.

Ответ: _____

7

1. Составьте молекулярное уравнение, описанной в тексте реакции между оксидом меди(II) и соляной кислотой.

Ответ: _____

2. Какие признаки протекания реакции можно при этом ожидать?

Ответ: _____

8

В исследованной воде из местного водоёма были обнаружены следующие анионы: Br^- , NO_3^- , F^- . Для проведения качественного анализа к этой воде добавили раствор AgNO_3 .

1. Какие изменения в растворе можно наблюдать при проведении данного опыта (концентрация веществ достаточная для проведения анализа)?

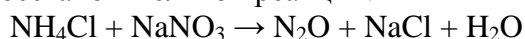
Ответ: _____

2. Запишите сокращённое ионное уравнение произошедшей химической реакции.

Ответ: _____

9

Дана схема окислительно-восстановительной реакции.



1. Составьте электронный баланс этой реакции.

Ответ: _____

2. Укажите окислитель и восстановитель.

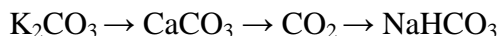
Ответ: _____

3. Расставьте коэффициенты в уравнении реакции.

Ответ: _____

10

Дана схема превращений:



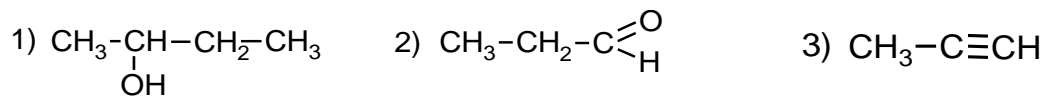
Напишите молекулярные уравнения реакций, с помощью которых можно осуществить указанные превращения.

1) _____

2) _____

3) _____

Для выполнения заданий 11–13 используйте вещества, структурные формулы которых приведены в перечне:



11

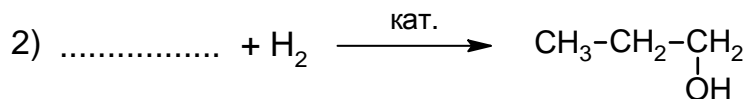
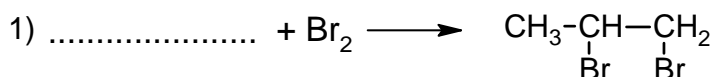
Из приведённого перечня выберите вещества, которые соответствуют указанным в таблице классам/группам органических соединений. Запишите в таблицу номера, под которыми указаны эти соединения.



Алкин	Карбоновая кислота

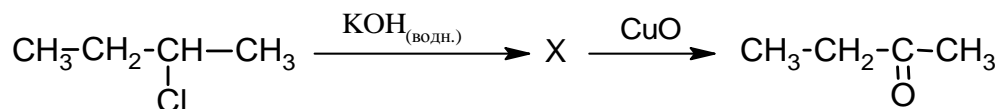
12

В предложенные схемы химических реакций впишите структурные формулы пропущенных веществ, выбрав их из приведённого выше перечня. Расставьте коэффициенты в полученных схемах, чтобы получились уравнения химических реакций.



13

Бутанон – бесцветная жидкость с характерным запахом, широко применяется в качестве растворителя лаков, красок, клеев, некоторых полимеров и т.п. Бутанон можно получить в соответствии с приведённой схемой превращений:



Впишите в заданную схему превращений структурную формулу вещества X, выбрав его из предложенного выше перечня. Запишите уравнения двух реакций, с помощью которых можно осуществить эти превращения. При написании уравнений реакций используйте структурные формулы органических веществ.



Ответ:

1) _____

2) _____

Запишите название вещества X.

Ответ: _____

14

Одним из важных понятий в экологии и химии является «предельно допустимая концентрация» (ПДК). ПДК – это такая концентрация вредного вещества в окружающей среде, присутствуя в которой постоянно, данное вещество не оказывает прямого или косвенного неблагоприятного влияния на настоящее или будущее поколение в течение всей жизни, не снижает работоспособности человека, не ухудшает его самочувствия и условий жизни.

ПДК хлора в воде плавательных бассейнов составляет $0,5 \text{ мг/м}^3$.

Для хлорирования воды в бассейне глубиной 2 м, шириной 15 м и длиной 25 м использовали 450 мг хлора. Определите и подтвердите расчётами, превышает ли концентрация хлора в воде данного бассейна значение ПДК. Предложите способ, позволяющий снизить концентрацию хлора в воде.

Ответ: _____

15

Для отбеливания древесины используют раствор щавелевой кислоты. Для приготовления раствора смешали 50 кг воды и 3 кг щавелевой кислоты. Рассчитайте, какую массу раствора при этом получили и массовую долю щавелевой кислоты в образовавшемся растворе. Запишите подробное решение задачи.

Ответ: _____

