

ВСЕРОССИЙСКАЯ ПРОВЕРОЧНАЯ РАБОТА**ХИМИЯ
11 КЛАСС****Вариант 1****Инструкция по выполнению работы**

Проверочная работа включает в себя 15 заданий. На выполнение работы по химии отводится 1 час 30 минут (90 минут).

Оформляйте ответы в тексте работы согласно инструкциям к заданиям. В случае записи неверного ответа зачеркните его и запишите рядом новый.

При выполнении работы разрешается использовать следующие дополнительные материалы:

- Периодическая система химических элементов Д.И. Менделеева;
- таблица растворимости солей, кислот и оснований в воде;
- электрохимический ряд напряжений металлов;
- непрограммируемый калькулятор.

При выполнении заданий Вы можете использовать черновик. Записи в черновике проверяться и оцениваться не будут.

Советуем выполнять задания в том порядке, в котором они даны. Для экономии времени пропускайте задание, которое не удаётся выполнить сразу, и переходите к следующему. Если после выполнения всей работы у Вас останется время, Вы сможете вернуться к пропущенным заданиям.

Баллы, полученные Вами за выполненные задания, суммируются. Постарайтесь выполнить как можно больше заданий и набрать наибольшее количество баллов.

Желаем успеха!

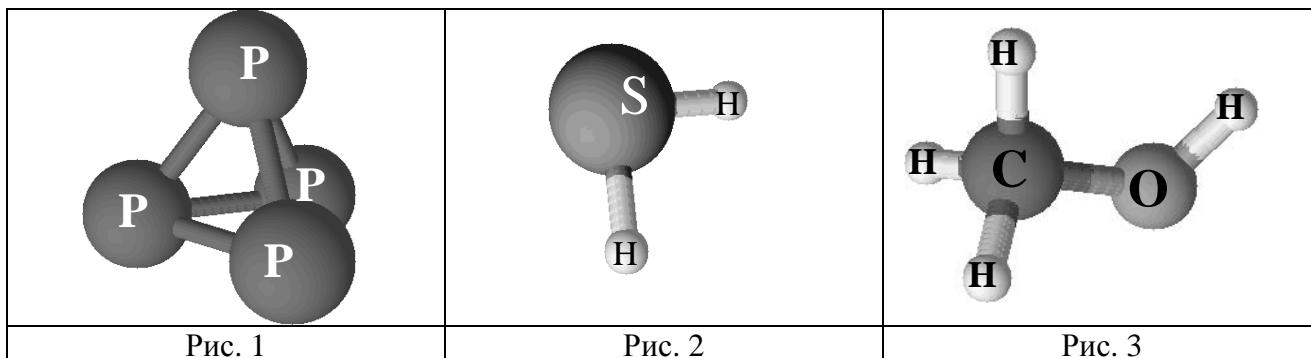
Таблица для внесения баллов участника

Номер задания	1	2	3	4	5	6	7	8	9	10	11	12	13	14	15	Сумма баллов	Отметка за работу
Баллы																	

1

Одним из научных методов познания веществ и химических явлений является моделирование. Так, модели молекул дают представление о взаимосвязи между строением и свойствами веществ.

На рисунках 1–3 изображены модели молекул трёх веществ.



Проанализируйте данные модели молекул веществ и определите вещество, которое:

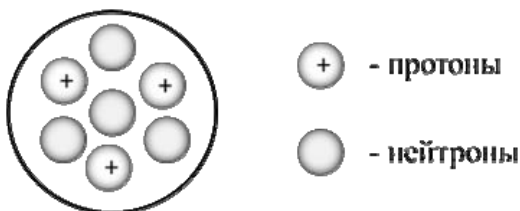
- 1) образовано двумя химическими элементами;
- 2) содержит химический элемент, который проявляет валентность равную IV.

Запишите в таблицу номера рисунков и химические формулы данных веществ.

Вещество	Номер рисунка	Химическая формула
Образовано двумя химическими элементами		
Содержит химический элемент, который проявляет валентность IV		

2

На рисунке изображена модель строения ядра атома некоторого химического элемента.



Ознакомьтесь с предложенной моделью и выполните следующие задания:

- 1) запишите символ химического элемента, которому соответствует данная модель атома;
- 2) запишите число электронов в атоме этого элемента и номер группы в Периодической системе химических элементов Д.И. Менделеева, в которой расположен этот элемент;
- 3) определите, к металлам или неметаллам относится простое вещество, которое образует этот элемент.

Ответы запишите в таблицу.

Символ химического элемента	Число электронов	№ группы	Простое вещество

3

2019 год объявлен Международным годом Периодической таблицы химических элементов Д.И. Менделеева. Мировое научное сообщество отметит 150-летие открытия Периодического закона химических элементов Д.И. Менделеевым в 1869 году.

Периодическая система химических элементов Д.И. Менделеева – богатое хранилище информации о химических элементах, их свойствах и свойствах их соединений. Так, например, известно, что с увеличением порядкового номера химического элемента кислотные свойства высших гидроксидов (кислот) в периодах усиливаются, а в группах ослабевают.

Учитывая эти закономерности, расположите в порядке ослабления кислотных свойств их высших гидроксидов следующие элементы: углерод, бериллий, азот. В ответе запишите символы элементов в нужной последовательности.

Ответ: _____

4

В приведённой ниже таблице перечислены характерные свойства веществ, которые имеют молекулярное и ионное строение.

Характерные свойства веществ	
Молекулярного строения	Ионного строения
<ul style="list-style-type: none"> • при обычных условиях могут находиться в жидком, либо в газообразном, либо в твёрдом агрегатных состояниях; • имеют низкие значения температур кипения и плавления; • имеют низкую теплопроводность; • могут обладать запахом 	<ul style="list-style-type: none"> • при обычных условиях, как правило, твёрдые; • хрупкие; • тугоплавкие; • нелетучие; • в расплавах и растворах проводят электрический ток; • не обладают запахом

Используя данную информацию, определите, какое строение имеют вещества этанол C_2H_5OH и оксид кальция CaO .

1) этанол C_2H_5OH _____

2) оксид кальция CaO _____

Прочитайте следующий текст и выполните задания 5–7.

Простое вещество барий представляет собой серебристо-белый ковкий металл, легко раскалывающийся при резком ударе. На воздухе барий быстро окисляется, образуя смесь оксида бария (BaO) и нитрида бария (Ba_3N_2) а при незначительном нагревании воспламеняется. Барий активно взаимодействует с различными неметаллами (P , S , Cl_2), кислотами. При взаимодействии металлического бария с водой образуется гидроксид бария ($\text{Ba}(\text{OH})_2$) и выделяется водород.

Оксид и гидроксид бария проявляют основной характер и взаимодействуют с кислотными оксидами (SO_3 , P_2O_5) и кислотами (HNO_3 , HCl) с образованием соответствующих солей.

Многие соли бария нерастворимы или малорастворимы в воде: сульфат бария BaSO_4 , карбонат бария BaCO_3 , фосфат бария $\text{Ba}_3(\text{PO}_4)_2$. Их можно легко получить, действуя на растворимые соли бария сульфатами, карбонатами или фосфатами щелочных металлов.

При работе с растворимыми солями бария следует соблюдать осторожность, поскольку они высокотоксичны. В тоже время его нерастворимые соли, например сульфат бария, токсичностью не обладают, что дает возможность использовать их в медицине. Так нерастворимый и нетоксичный BaSO_4 , применяется в качестве рентгеноконтрастного вещества при медицинском обследовании желудочно-кишечного тракта.

5

Сложные неорганические вещества условно можно распределить, то есть классифицировать, по четырём группам, как показано на схеме. В эту схему для каждой из четырёх групп *впишите* по одной химической формуле веществ, из тех, о которых говорится в приведённом выше тексте.



6

1. Составьте уравнение реакции бария с азотом.

Ответ: _____

2. Укажите, к какому типу (соединения, разложения, замещения, обмена) относится эта реакция.

Ответ: _____

7

1. Составьте молекулярное уравнение реакции между гидроксидом бария и азотной кислотой.

Ответ: _____

2. Укажите, является ли эта реакция окислительно-восстановительной или протекает без изменения степеней окисления.

Ответ: _____

8

В составе минеральной воды были обнаружены следующие анионы: SO_4^{2-} , HCO_3^- , Cl^- . Для проведения качественного анализа к этой воде добавили раствор HNO_3 .

1. Укажите, какое изменение можно наблюдать в растворе при проведении данного опыта, учитывая, что концентрация веществ является достаточной для проведения анализа.

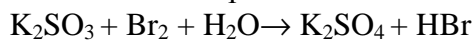
Ответ: _____

2. Запишите сокращённое ионное уравнение произошедшей химической реакции.

Ответ: _____

9

Дана схема окислительно-восстановительной реакции.



1. Составьте электронный баланс этой реакции.

Ответ: _____

2. Укажите окислитель и восстановитель.

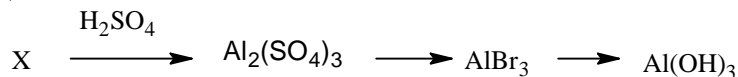
Ответ: _____

3. Расставьте коэффициенты в уравнении реакции.

Ответ: _____

10

Дана схема превращений:



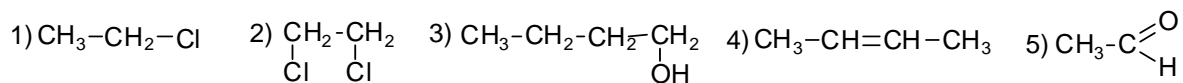
Напишите молекулярные уравнения реакций, с помощью которых можно осуществить указанные превращения.

1) _____

2) _____

3) _____

Для выполнения заданий 11–13 используйте вещества, структурные формулы которых приведены в перечне:



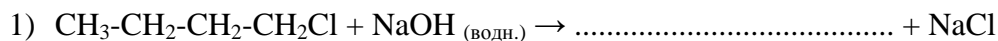
11

Из приведённого перечня выберите дигалогеналкан и альдегид. Запишите в таблицу номера этих веществ.

Дигалогеналкан	Альдегид

12

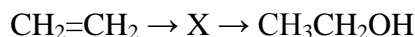
Составьте уравнения реакций: в предложенные схемы химических реакций впишите структурные формулы пропущенных веществ, выбрав их из приведённого выше перечня, и расставьте коэффициенты.



13

Этиловый спирт используется как топливо, как наполнитель в спиртовых термометрах и как дезинфицирующее средство.

Этанол можно получить различными способами, в том числе, в соответствии с приведённой схемой превращений:



Определите вещество X, выбрав его из предложенного выше перечня веществ. Запишите уравнения двух реакций, с помощью которых можно осуществить эти превращения. Запишите название вещества X.

При написании уравнений реакций используйте структурные формулы органических веществ.

1) _____

2) _____

3) _____

14

Одним из важных понятий в экологии и химии является «предельно допустимая концентрация» (ПДК). ПДК — это такая концентрация вещества в окружающей среде, которая при повседневном воздействии в течение длительного времени не оказывает прямого или косвенного неблагоприятного влияния на настоящее или будущее поколение, не снижает работоспособности человека, не ухудшает его самочувствия и условий жизни.

ПДК угарного газа в воздухе жилых помещений составляет 3 мг/м^3 .

В помещении с камином площадью 24 м^2 и высотой потолка $2 \text{ м } 80 \text{ см}$ из-за неполного сгорания дров в воздух выделилось $235,2 \text{ мг}$ угарного газа. Определите и подтвердите расчётами, превышает ли концентрация угарного газа в воздухе данного помещения значение ПДК. Предложите способ, позволяющий снизить концентрацию угарного газа в помещении.

Ответ: _____

15

При отравлении фторидами в медицине используют раствор хлорида кальция с массовой долей соли 10%. Рассчитайте массу хлорида кальция и массу воды, необходимых для приготовления 70 г такого раствора. Запишите подробное решение задачи.

Ответ: _____
