

ВСЕРОССИЙСКАЯ ПРОВЕРОЧНАЯ РАБОТА**ХИМИЯ
11 КЛАСС****Вариант 2****Инструкция по выполнению работы**

Проверочная работа включает в себя 15 заданий. На выполнение работы по химии отводится 1 час 30 минут (90 минут).

Оформляйте ответы в тексте работы согласно инструкциям к заданиям. В случае записи неверного ответа зачеркните его и запишите рядом новый.

При выполнении работы разрешается использовать следующие дополнительные материалы:

- Периодическая система химических элементов Д.И. Менделеева;
- таблица растворимости солей, кислот и оснований в воде;
- электрохимический ряд напряжений металлов;
- непрограммируемый калькулятор.

При выполнении заданий Вы можете использовать черновик. Записи в черновике проверяться и оцениваться не будут.

Советуем выполнять задания в том порядке, в котором они даны. Для экономии времени пропускайте задание, которое не удаётся выполнить сразу, и переходите к следующему. Если после выполнения всей работы у Вас останется время, Вы сможете вернуться к пропущенным заданиям.

Баллы, полученные Вами за выполненные задания, суммируются. Постарайтесь выполнить как можно больше заданий и набрать наибольшее количество баллов.

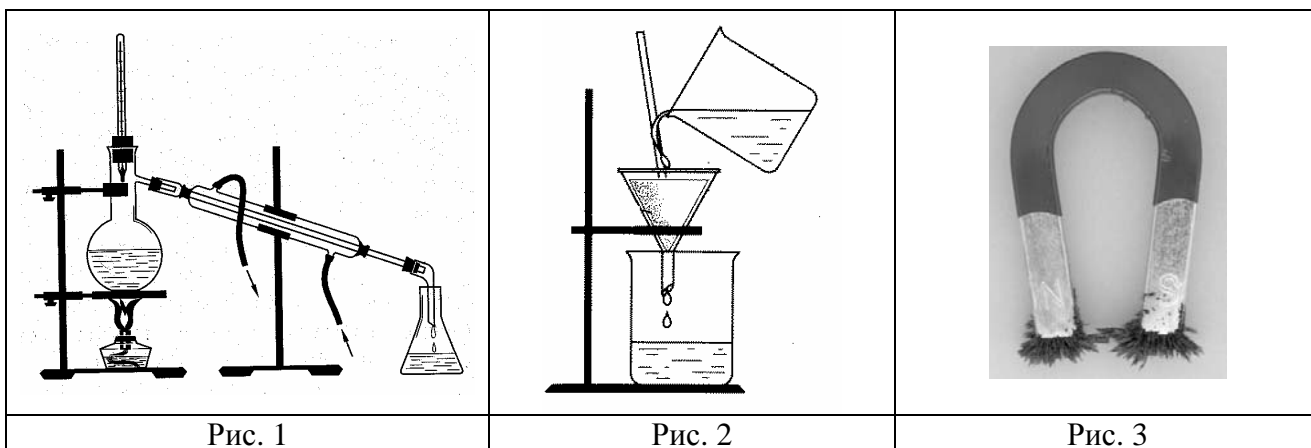
Желаем успеха!

Таблица для внесения баллов участника

Номер задания	1	2	3	4	5	6	7	8	9	10	11	12	13	14	15	Сумма баллов	Отметка за работу
Баллы																	

1

Из курса химии Вам известны следующие **способы** разделения смесей: *отстаивание, фильтрование, дистилляция (перегонка), действие магнитом, выпаривание, кристаллизация*. На рис. 1–3 изображены примеры использования некоторых из перечисленных способов.



Определите, какие из способов разделения смесей, изображённых на рисунке, можно применить для разделения:

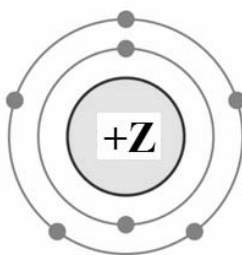
- 1) крупы и попавших в неё железных опилок;
- 2) воды и растворённых в ней солей.

Запишите в таблицу номер рисунка и название соответствующего способа разделения смеси.

Смесь	Номер рисунка	Способ разделения смеси
Крупа и попавшие в неё железные опилки		
Вода и растворённые в ней соли		

2

На рисунке изображена модель электронного строения атома некоторого химического элемента.



Ознакомьтесь с предложенной моделью и выполните следующие задания:

- 1) определите заряд ядра атома химического элемента, атом которого имеет такое электронное строение;
- 2) укажите номер периода и номер группы в Периодической системе химических элементов Д.И. Менделеева, в которых расположен этот элемент;
- 3) определите, к какому классу (кислоты, основания или амфотерные гидроксиды) относится высший гидроксид этого химического элемента.

Ответы запишите в таблицу.

Заряд ядра	№ периода	№ группы	Гидроксид

3

2019 год объявлен Международным годом Периодической таблицы химических элементов Д.И. Менделеева. Мировое научное сообщество отметит 150-летие открытия Периодического закона химических элементов Д.И. Менделеевым в 1869 году.

Периодическая система химических элементов Д.И. Менделеева – богатое хранилище информации о химических элементах, их свойствах и свойствах их соединений. Так, например, известно, что с увеличением порядкового номера химического элемента способность атомов принимать электроны – электроотрицательность – в периодах усиливается, а в группах ослабевает.

Учитывая эти закономерности, расположите в порядке уменьшения электроотрицательности следующие элементы: азот, кислород, бор. В ответе запишите символы элементов в нужной последовательности.

Ответ: _____

4

В приведённой ниже таблице дана некоторая информация о видах химической связи: ковалентной и ионной.

Химическая связь	
Ковалентная	Ионная
Образована атомами одного и того же элемента-неметалла или атомами различных неметаллов	Образована атомами металла и неметалла

Используя данную информацию, определите вид химической связи: 1) в бромиде бария (BaBr_2); 2) в хлориде фосфора(III) (PCl_3).

1) В бромиде бария _____

2) В хлориде фосфора(III) _____

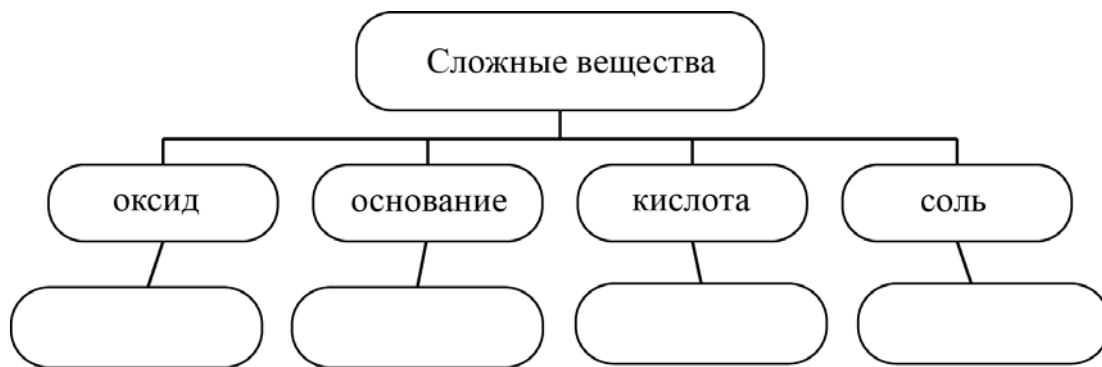
Прочитайте следующий текст и выполните задания 5–7.

Азотная кислота (HNO_3) – одно из важнейших неорганических соединений. Её получают, растворяя в воде под давлением оксид азота(IV) (NO_2) в присутствии кислорода (O_2). В водном растворе азотная кислота полностью диссоциирует на ионы.

Как и все кислоты, азотная кислота реагирует с металлами, оксидами и гидроксидами металлов, основаниями, солями. Так, при действии азотной кислоты на гидроксид калия (KOH) получают нитрат калия (KNO_3) (калийную селитру, ценное минеральное удобрение). При нагревании нитрата калия получают нитрит калия (KNO_2) и кислород (O_2).

В химической лаборатории вы можете растворить в азотной кислоте мел (CaCO_3), оксид меди (CuO), оксид кальция (CaO) или гидроксид кальция (Ca(OH)_2) – во всех этих случаях образуются соли азотной кислоты – нитраты.

5) Сложные неорганические вещества условно можно распределить, то есть классифицировать, по четырём группам, как показано на схеме. В эту схему для каждой из четырёх групп *впишите* по одной химической формуле веществ из тех, о которых говорится в приведённом выше тексте.



6) 1) Составьте оговорённое в тексте молекулярное уравнение реакции азотной кислоты с гидроксидом калия.

Ответ: _____



2) Укажите, к какому типу кислот (сильным или слабым) относится азотная кислота.

Ответ: _____

7) 1) Составьте молекулярное уравнение упомянутой в тексте реакции между азотной кислотой и оксидом кальция.

Ответ: _____



2) Укажите, к какому типу реакций (обмена, соединения, разложения, замещения) относится данная реакция.

Ответ: _____

8

В сероводородной минеральной воде Мацеста были обнаружены следующие анионы: F^- , Br^- , Cl^- . Для проведения качественного анализа к этой воде добавили раствор $Ca(NO_3)_2$.

1. Укажите, какое изменение можно наблюдать в растворе при проведении данного опыта, учитывая, что концентрация веществ является достаточной для проведения анализа.

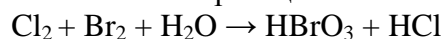
Ответ: _____

2. Запишите сокращённое ионное уравнение произошедшей химической реакции.

Ответ: _____

9

Дана схема окислительно-восстановительной реакции.



1. Составьте электронный баланс этой реакции.

Ответ: _____

2. Укажите окислитель и восстановитель.

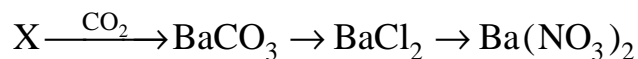
Ответ: _____

3. Расставьте коэффициенты в уравнении реакции.

Ответ: _____

10

Дана схема превращений:



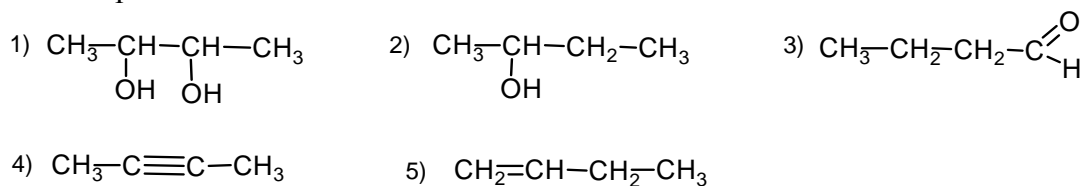
Напишите молекулярные уравнения реакций, с помощью которых можно осуществить указанные превращения.

1) _____

2) _____

3) _____

Для выполнения заданий 11–13 используйте вещества, структурные формулы которых приведены в перечне:



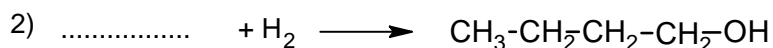
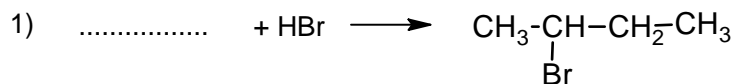
11

Из приведённого перечня выберите алкин и двухатомный спирт. Запишите в таблицу номера выбранных веществ.

Алкин	Двухатомный спирт

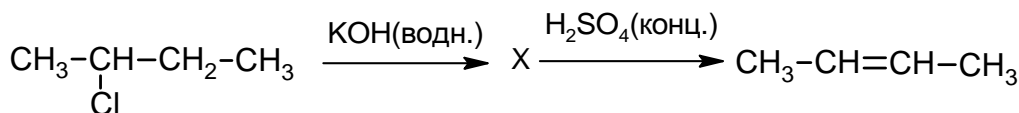
12

Составьте уравнения реакций: в предложенные схемы химических реакций впишите структурные формулы пропущенных веществ и расставьте коэффициенты.



13

Бутен-2 используют для синтеза бутадиена, в производстве бензина и каучуков. Этот углеводород применяется также в качестве топлива в составе газовых смесей при газокислородной сварке и резке металлов. Бутен-2 можно получить в соответствии с приведённой схемой превращений:



Определите вещество X, выбрав его из предложенного выше перечня веществ. Запишите уравнения двух реакций, с помощью которых можно осуществить эти превращения. Запишите название вещества X.

При написании уравнений реакций используйте структурные формулы органических веществ.

- 1) _____
- 2) _____
- 3) _____

14

Одним из важных понятий в экологии и химии является «предельно допустимая концентрация» (ПДК). ПДК – это такая концентрация вредного вещества в окружающей среде, присутствуя в которой постоянно, данное вещество не оказывает прямого или косвенного неблагоприятного влияния на настоящее или будущее поколение в течение всей жизни, не снижает работоспособности человека, не ухудшает его самочувствия и условий жизни.

ПДК хлора в воде бассейнов составляет $0,5 \text{ мг/м}^3$.

Для хлорирования воды в бассейне аквапарка глубиной 1,5 м, шириной 10 м и длиной 30 м использовали 180 мг хлора. Определите и подтвердите расчётами, превышает ли концентрация хлора в воде данного бассейна значение ПДК. Предложите способ, позволяющий снизить концентрацию хлора в воде.

Ответ: _____

15

Для маринования грибов используют маринад с массовой долей соли 7,5%. Рассчитайте массу соли и массу воды, необходимых для приготовления для приготовления 800 г такого раствора. Запишите подробное решение задачи.

Ответ: _____

