

ВСЕРОССИЙСКАЯ ПРОВЕРОЧНАЯ РАБОТА**БИОЛОГИЯ
11 КЛАСС****Вариант 2****Инструкция по выполнению работы**

Проверочная работа состоит из одной части и включает в себя 14 заданий. На выполнение работы по биологии отводится 1 час 30 минут (90 минут).

Ответом к заданиям является последовательность цифр, число, слово (словосочетание) или короткий свободный ответ, который записывается в отведённом для этого месте работы. В случае записи неверного ответа зачеркните его и запишите рядом новый.

При выполнении заданий Вы можете пользоваться черновиком. Записи в черновике не учитываются при оценивании работы. Советуем выполнять задания в том порядке, в котором они даны. Для экономии времени пропускайте задание, которое не удаётся выполнить сразу, и переходите к следующему. Если после выполнения всей работы у Вас останется время, Вы сможете вернуться к пропущенным заданиям.

Баллы, полученные Вами за выполненные задания, суммируются.

Постарайтесь выполнить как можно больше заданий и набрать наибольшее количество баллов.

Желаем успеха!

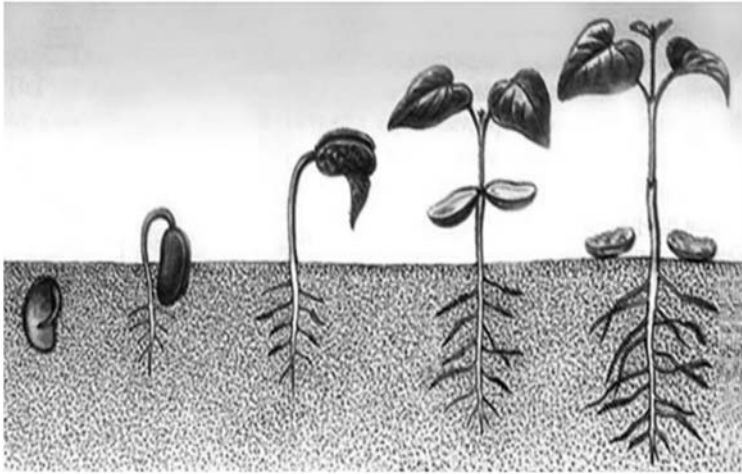
Таблица для внесения баллов участника

Номер задания	1.1	1.2	2.1	2.2	2.3	3	4	5	6.1	6.2	7	8	9	10.1	10.2	11.1	11.2	12.1	12.2
Баллы																			

Номер задания	12.3	13	14	Сумма баллов	Отметка за работу
Баллы					

1

На рисунке изображена фасоль обыкновенная в разный период времени.



1.1. Какое свойство живых систем иллюстрирует данное природное явление?

Ответ: _____

1.2. Приведите пример процесса, иллюстрирующего подобное свойство у животных.

Ответ: _____

2 Изучите фрагмент экосистемы, представленный на рисунке, и выполните задания.



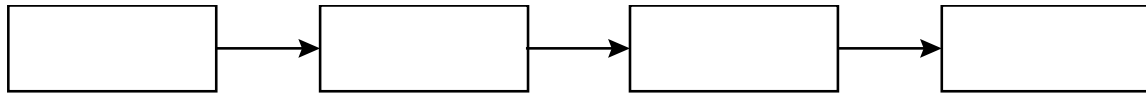
2.1. Выберите из приведённого ниже списка два понятия или термина, которые можно использовать для **экологического описания мыши** в экосистеме.

- 1) плотоядное животное
- 2) консумент
- 3) фитофаг
- 4) детритофаг
- 5) паразит

Ответ:

--	--

2.2. Составьте пищевую цепь из четырёх организмов, в которую входит лесная дикая кошка. В ответе запишите последовательность букв.



2.3. Правило гласит: «только 10% энергии поступает от каждого предыдущего трофического уровня к последующему». Рассчитайте количество энергии (в кДж), которое перейдёт на уровень змеи при первичной годовой продукции экосистемы 49000 кДж. Объясните свои расчёты.

Ответ: _____

3

Рассмотрите рисунок, на котором представлена схема круговорота азота в природе. Название какого вещества должно быть написано на месте вопросительного знака?

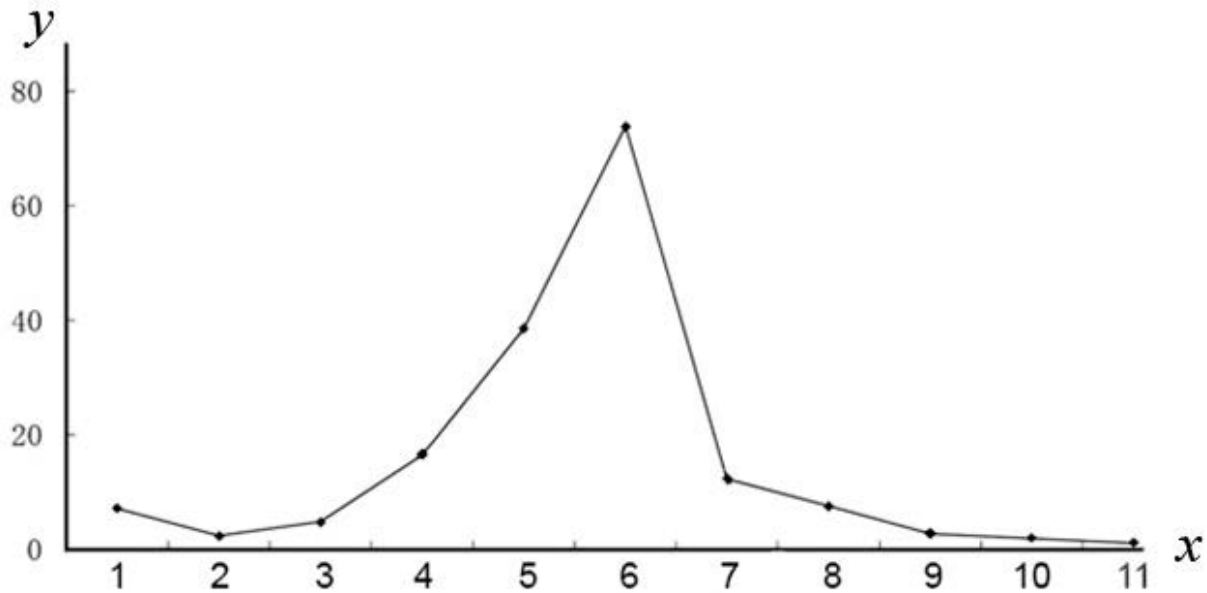


□

Ответ: _____

4

Ангелина в течение вегетационного периода развешивала липкие ловушки на растениях банана и анализировала число особей древооточца, которые были таким образом пойманы. По результатам эксперимента Ангелина построила график (по оси x отложено время (в месяцах), а по оси y – численность древооточцев (особей)).



Опишите зависимость численности древооточцев, пойманных на растении, от времени.

Ответ: _____

5

Установите последовательность соподчинения элементов биологических систем, начиная с наибольшего.

Элементы:

- 1) комплекс Гольджи
- 2) головной мозг
- 3) углевод
- 4) речной рак
- 5) клетка
- 6) эпителий кожи

Запишите в таблицу соответствующую последовательность цифр.

Ответ:

--	--	--	--	--	--	--

6

6.1. Натрий – важный макроэлемент, обеспечивающий нормальную работу организма: он необходим для нормального водного обмена между клетками, поддержания кислотно-щелочного баланса в организме, передачи нервных импульсов, обеспечения сокращения мышц, регуляции работы выделительной системы. Для того чтобы организм не испытывал проблем, человеку в сутки необходимо примерно 400 мг натрия.

Продукты	Содержание натрия, мг/100 г продукта	Продукты	Содержание натрия, мг/100 г продукта
Мясо курицы	110	Масло сливочное	81
Колбаса варёная	1000	Крупа рисовая	26
Треска	78	Крупа гречневая	0
Молоко	50	Картофель	28
Сметана (10%-ной жирности)	50	Кабачки	2
Творог (нежирный)	44	Капуста	13
Сыр российский	1000	Морковь	21
Хлеб белый	370	Мороженое	50

Используя данные таблицы, рассчитайте количество натрия, которое человек получил во время завтрака, если в его рационе было 160 г рисовой крупы, 10 г сливочного масла и 160 г молока. Ответ округлите до целых.

 Ответ: _____

6.2. По каким сосудам в организме человека течёт кровь к сердцу?

 Ответ: _____

7

Определите происхождение болезней, приведённых в списке. Запишите номер названия каждой болезни из списка в соответствующую ячейку таблицы. В ячейках таблицы может быть записано несколько номеров.

Список болезней человека:

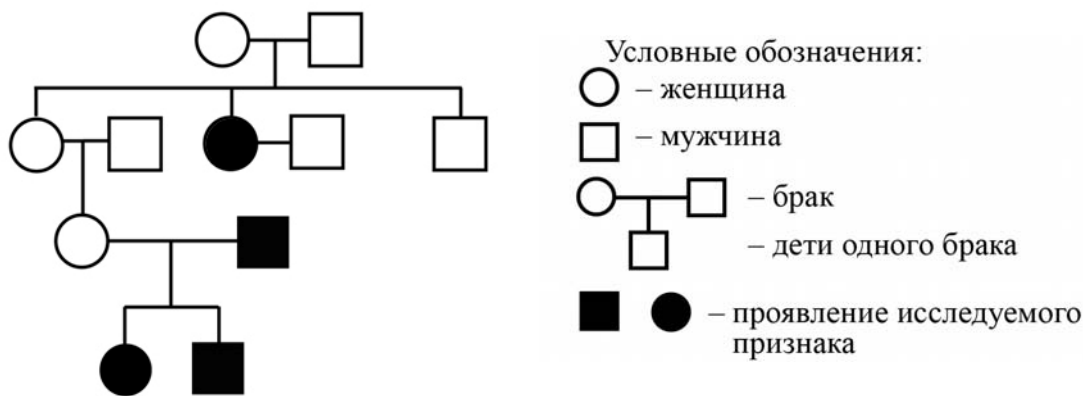
- 1) СПИД
- 2) ветряная оспа
- 3) серповидноклеточная анемия
- 4) стенокардия
- 5) холера

Наследственное заболевание	Приобретённое заболевание	
	Инфекционное	Неинфекционное

8

В медицинской генетике широко используется **генеалогический метод**. Он основан на составлении родословной человека и изучении наследования того или иного признака. В подобных исследованиях используются определённые обозначения. Изучите фрагмент родословного древа одной семьи, у некоторых членов которой альбинизм.

Фрагмент родословного древа семьи



Используя предложенную схему, определите, доминантным или рецессивным является данный признак, и сцеплен ли он с половыми хромосомами.

Ответ: _____

9

Селекционер скрестил растения чистой линии кукурузы с нормальными междоузлиями и растения чистой линии кукурузы с укороченными междоузлиями. В результате скрещивания получилось гибридное потомство с нормальными междоузлиями. Определите генотипы исходных растений и полученного гибридного потомства по указанному признаку.

Ответы занесите в таблицу.

Генотип исходного растения с нормальными междоузлиями	Генотип исходного растения с укороченными междоузлиями	Генотип полученного гибридного потомства с нормальными междоузлиями

10

Александра решила сдать кровь в качестве донора. При заборе крови ей определили группу, и выяснилось, что у Александры первая группа. Александра знает, что у её отца третья группа крови.

		Группа крови отца				
		I (0)	II (A)	III (B)	IV (AB)	
Группа крови матери	I (0)	I (0)	I (0) II (A)	I (0) III (B)	II (A) III (B)	Группа крови ребенка
	II (A)	I (0) II (A)	I (0) II (A)	любая	II (A) III (B) IV (AB)	
	III (B)	I (0) III (B)	любая	I (0) III (B)	II (A) III (B) IV (AB)	
	IV (AB)	II (A) III (B)	II (A) III (B) IV (AB)	II (A) III (B) IV (AB)	II (A) III (B) IV (AB)	

10.1. Какой группы может быть кровь у матери Александры?



Ответ: _____

10.2. Руководствуясь правилами переливания крови, определите, может ли Александра быть донором крови для своей матери.

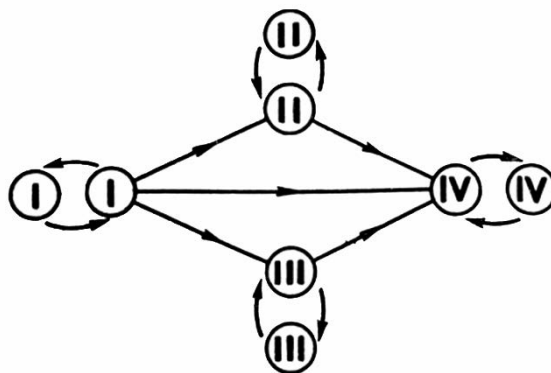


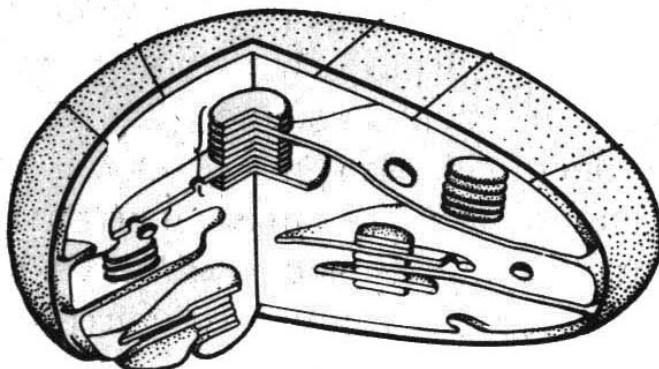
Рис. Правила переливания крови



Ответ: _____

11

На рисунке изображён органоид эукариотической клетки.



11.1. Как называется органоид, изображённый на рисунке?

Ответ: _____

11.2. Какой тип питания клетки (организма) обеспечивает органоид, изображённый на рисунке? Какая энергия инициирует процессы типа питания, в котором участвует изображённый на рисунке органоид?

Ответ: _____

12

Фрагмент транскрибируемой цепи молекулы ДНК имеет следующую последовательность:

ААГААТГГГГТАГЦГ

Определите последовательность участка иРНК, матрицей для синтеза которого послужил этот фрагмент ДНК, и аминокислотную последовательность белка, которая кодируется этим фрагментом ДНК. При выполнении задания воспользуйтесь правилом комплементарности и таблицей генетического кода.

Таблица генетического кода (и-РНК)

Первое основание	Второе основание				Третье основание
	У	Ц	А	Г	
У	Фен	Сер	Тир	Цис	У
	Фен	Сер	Тир	Цис	Ц
	Лей	Сер	—	—	А
	Лей	Сер	—	Три	Г
Ц	Лей	Про	Гис	Арг	У
	Лей	Про	Гис	Арг	Ц
	Лей	Про	Глн	Арг	А
	Лей	Про	Глн	Арг	Г
А	Иле	Тре	Асн	Сер	У
	Иле	Тре	Асн	Сер	Ц
	Иле	Тре	Лиз	Арг	А
	Мет	Тре	Лиз	Арг	Г
Г	Вал	Ала	Асп	Гли	У
	Вал	Ала	Асп	Гли	Ц
	Вал	Ала	Глу	Гли	А
	Вал	Ала	Глу	Гли	Г

Правила пользования таблицей

Первый нуклеотид в триплете берётся из левого вертикального ряда, второй – из верхнего горизонтального ряда и третий – из правого вертикального. Там, где пересекутся линии, идущие от всех трёх нуклеотидов, и находится искомая аминокислота.

Ответ:

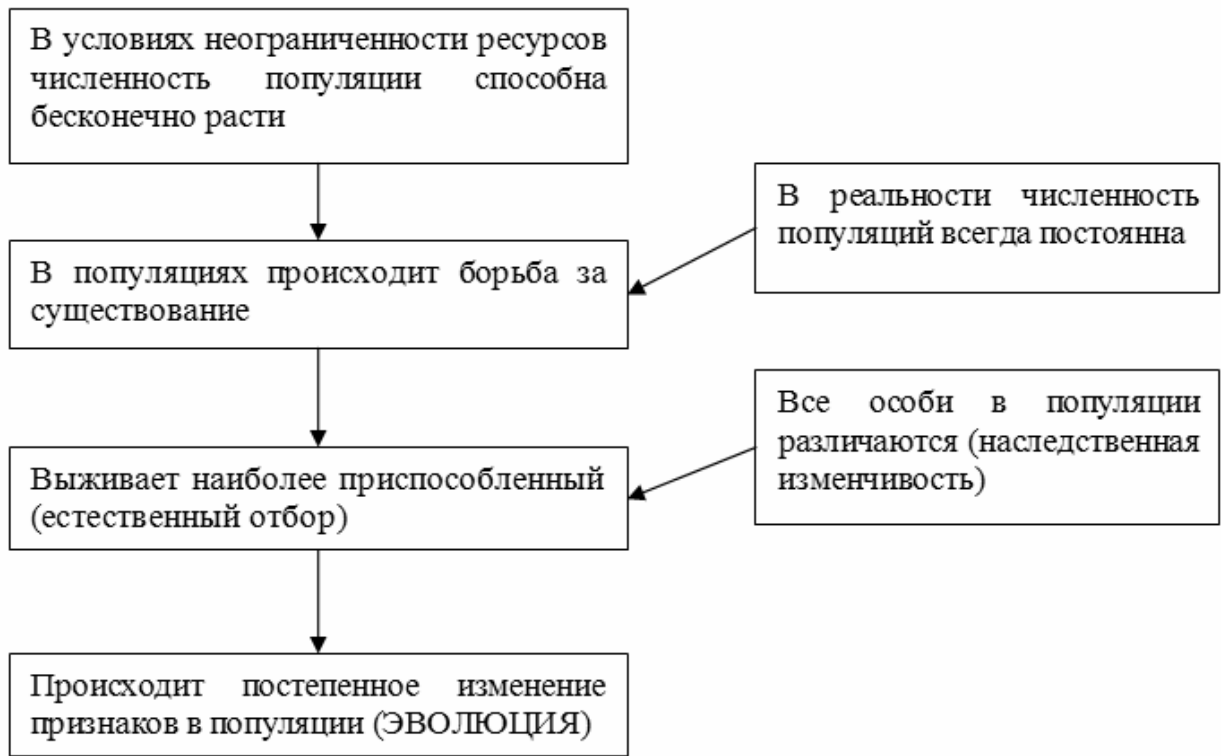
12.1 иРНК:

12.2 Белок:

12.3. При расшифровке генома ржи было установлено, что во фрагменте молекулы ДНК доля аденина составляет 30%. Пользуясь правилом Чаргаффа, описывающим количественные соотношения между различными типами азотистых оснований в ДНК ($A = T$, $G = C$), рассчитайте количество (в %) в этой пробе нуклеотидов с гуанином.

Ответ:

13 Современную эволюционную теорию можно представить в виде следующей схемы.




Объясните, руководствуясь этой схемой, формирование липких подушечек (присосок) на лапках мух.



Ответ: _____

14

На рисунке изображён трилобит – вымершее животное, обитавшее 430–250 млн лет назад.



Используя фрагмент геохронологической таблицы, установите эру и периоды, в которые обитал данный организм, а также установите родственную ему группу животных среди ныне живущих.

Геохронологическая таблица

ЭРА		Период и продолжитель- ность (в млн лет)	Животный и растительный мир
Название и продолжи- тельность (в млн лет)	Начало (млн лет назад)		
Кайнозойская, 67	67	Антропоген, 1,5	Появление и развитие человека. Формирование существующих растительных сообществ. Животный мир принял современный облик
		Неоген, 23,5	Господство млекопитающих и птиц
		Палеоген, 42	Появление хвостатых лемуринов, позднее – парапитеков, дриопитеков. Бурный расцвет насекомых. Продолжается вымирание крупных пресмыкающихся. Исчезают многие группы головоногих моллюсков. Господство покрытосеменных растений
Мезозойская, 163	230	Мел, 70	Появление высших млекопитающих и настоящих птиц, хотя зубастые птицы ещё распространены. Преобладают костистые рыбы. Сокращение многообразия папоротников и голосеменных растений. Появление и распространение покрытосеменных растений
		Юра, 58	Появление первых птиц, примитивных млекопитающих, расцвет динозавров. Господство голосеменных. Процветание головоногих моллюсков
		Триас, 35	Начало расцвета пресмыкающихся. Появление костистых рыб

Палеозойская, 295	Нет точных данных	Пермь, 55	Вымирание трилобитов. Возникновение зверозубых пресмыкающихся. Исчезновение каменноугольных лесов
		Карбон, 63	Расцвет земноводных. Появление первых пресмыкающихся. Характерно разнообразие насекомых. Расцвет гигантских хвощей, плаунов, древовидных папоротников
		Девон, 60	Быстрая эволюция рыб. В позднем девоне многие группы древних рыб вымерли. Суша подверглась нашествию множества членистоногих. Появились первые земноводные. Появились споровые хвощи и плауны
		Силур, 25	Происходит активное рифостроительство. Распространены ракоскорпионы. Растения заселяют берега водоёмов
		Ордовик, 42	Множество бесчелюстных рыб. Появляются различные виды водорослей. В конце появляются первые наземные растения
		Кембрий, 56	В ходе грандиозного эволюционного взрыва возникло большинство современных типов животных. В океанах и морях многообразие водорослей

Эра: _____

Периоды: _____



Ближайшие родственники среди современных животных: _____