

**ВСЕРОССИЙСКАЯ ПРОВЕРОЧНАЯ РАБОТА****БИОЛОГИЯ  
11 КЛАСС****Вариант 1****Инструкция по выполнению работы**

Проверочная работа состоит из одной части и включает в себя 14 заданий. На выполнение работы по биологии отводится 1 час 30 минут (90 минут).

Ответом к заданиям является последовательность цифр, число, слово (словосочетание) или короткий свободный ответ, который записывается в отведённом для этого месте работы. В случае записи неверного ответа зачеркните его и запишите рядом новый.

При выполнении заданий Вы можете пользоваться черновиком. Записи в черновике не учитываются при оценивании работы. Советуем выполнять задания в том порядке, в котором они даны. Для экономии времени пропускайте задание, которое не удаётся выполнить сразу, и переходите к следующему. Если после выполнения всей работы у Вас останется время, Вы сможете вернуться к пропущенным заданиям.

Баллы, полученные Вами за выполненные задания, суммируются.

Постарайтесь выполнить как можно больше заданий и набрать наибольшее количество баллов.

***Желаем успеха!***

Таблица для внесения баллов участника

Номер задания	1.1	1.2	2.1	2.2	2.3	3	4	5	6.1	6.2	7	8	9	10.1	10.2	11.1	11.2	12.1	12.2	
Баллы																				

Номер задания	12.3	13	14	Сумма баллов	Отметка за работу
Баллы					

1

На рисунке схематично изображена связь животной клетки с окружающей средой.



1.1. Какое общее свойство живых систем иллюстрируют эти связи?

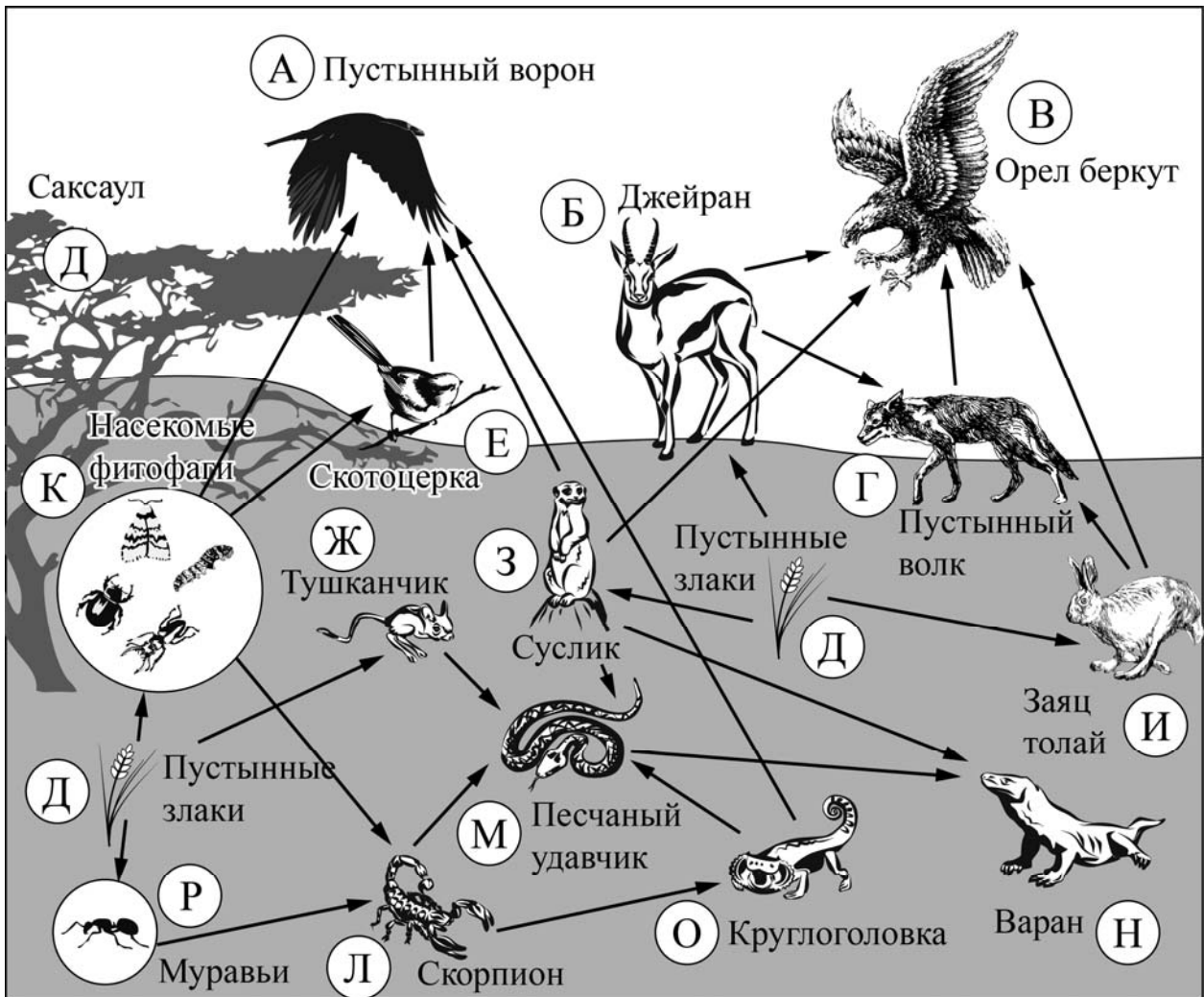
Ответ: \_\_\_\_\_

1.2. Приведите пример процесса, иллюстрирующего подобное явление у растений.

Ответ: \_\_\_\_\_

2

Изучите фрагмент экосистемы пустыни, представленный на рисунке, и выполните задания.



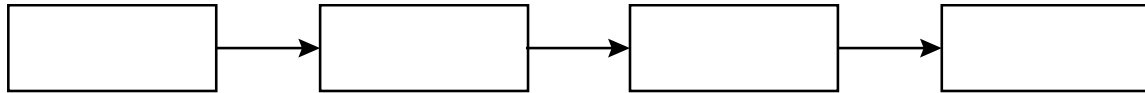
**2.1.** Выберите из приведённого ниже списка два понятия, которые можно использовать для экологического описания саксаула.

- 1) редуцент
- 2) консумент
- 3) первый трофический уровень
- 4) первичная биологическая продукция
- 5) второй трофический уровень

Ответ:

--	--

**2.2.** Составьте пищевую цепь из четырёх организмов, в которую входит тушканчик, начиная с продуцентов. В ответе запишите последовательность букв.



**2.3.** Правило гласит: «Не более 10% энергии поступает от каждого предыдущего трофического уровня к последующему». Рассчитайте величину энергии (в кДж), которая переходит на уровень насекомых-фитофагов при чистой годовой первичной продукции экосистемы, составляющей 300 000 кДж. Поясните свои расчёты.

Ответ:

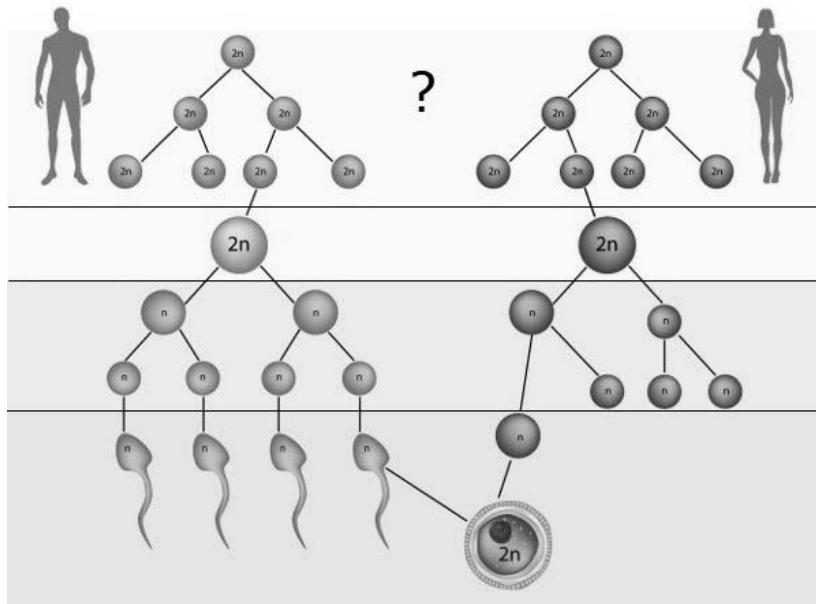
---

---

---

3

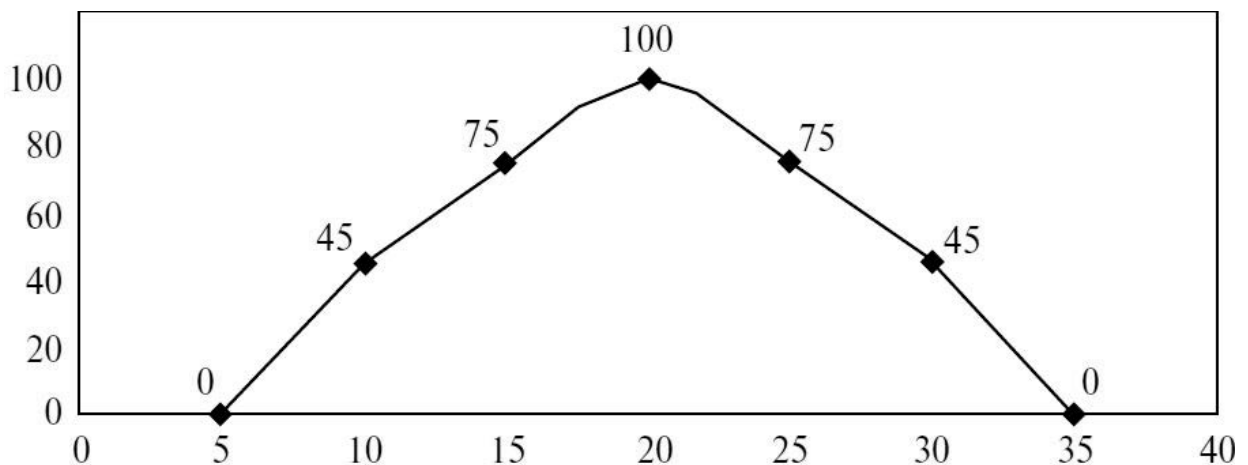
Рассмотрите рисунок, на котором представлены схемы формирования половых клеток у человека. Название какого типа деления клетки должно быть написано на месте вопросительного знака?



Ответ: \_\_\_\_\_

4

Светлана изучала зависимость выживаемости инфузорий от температуры среды. Она помещала инфузорий в чашку Петри с нагретой средой и измеряла, какая часть инфузорий останется жива после 1 часа пребывания в нагретой среде. По результатам исследования Светлана построила график (по оси  $x$  отложена температура среды (в  $^{\circ}\text{C}$ ), а по оси  $y$  – доля выживших инфузорий (в %)).



При какой температуре инфузории имели выживаемость 45%?

Ответ: \_\_\_\_\_

5

Установите последовательность соподчинения элементов биологических систем, начиная с наибольшего.

Элементы:

- 1) клетка эпителия
- 2) хромосома
- 3) ядро
- 4) поджелудочная железа
- 5) железистый эпителий
- 6) ДНК

Запишите в таблицу соответствующую последовательность цифр.

Ответ:

--	--	--	--	--	--

6

**6.1.** Кальций – распространенный макроэлемент в организме человека. В сбалансированной диете человека около 80% кальция поступает с молочными продуктами. Наибольшая часть кальция в организме находится в скелете человека и в зубах. Ионы кальция участвуют в процессах свёртывания крови, регулируют секрецию гормонов, нейромедиаторов. Для того чтобы организм не испытывал проблем, человеку в сутки необходимо примерно 800 мг кальция.

Продукты	Содержание кальция, мг/100 г продукта	Продукты	Содержание кальция, мг/100 г продукта
Мясо курицы	16	Масло сливочное	24
Колбаса варёная	10	Крупа рисовая	24
Треска	39	Крупа гречневая	70
Молоко	121	Картофель	10
Сметана (10%-ной жирности)	90	Кабачки	15
Творог (нежирный)	176	Капуста	48
Сыр российский	1000	Морковь	51
Хлеб белый	25	Мороженое	148

Используя данные таблицы, рассчитайте количество кальция, которое человек получил во время полдника, если в его рационе было 160 г гречневой крупы, 110 г молока и 20 г сливочного масла. Ответ округлите до целых.

Ответ: \_\_\_\_\_

**6.2.** В каком отделе уха располагается орган равновесия (вестибулярный аппарат)?

Ответ: \_\_\_\_\_

7

Определите принадлежность примеров, приведённых в списке, видам иммунитета. Запишите номер каждого из примеров в списке в соответствующую ячейку таблицы. В ячейках таблицы может быть записано несколько номеров.

Список примеров:

- 1) создаётся с целью уберечь человека от заражения полиомиелитом
- 2) появляется при действии лечебной сыворотки
- 3) введение готовых антител при столбняке
- 4) переболев корью в детстве, люди, как правило, не заболевают ею повторно
- 5) возбудитель собачьей чумы не заражает человека

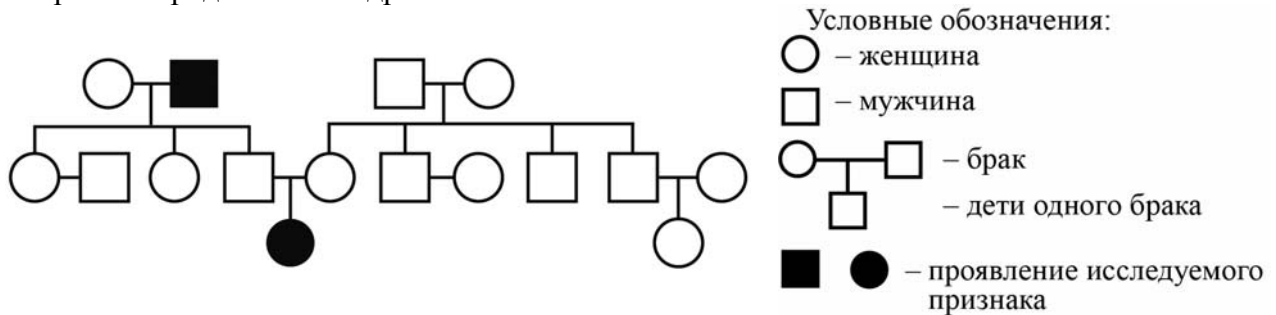
□

Искусственный иммунитет	Естественный иммунитет	
	Врождённый	Приобретённый

8

В медицинской генетике широко используется **генеалогический метод**. Он основан на составлении родословной человека и изучении наследования того или иного признака. В подобных исследованиях используются определённые обозначения. Изучите фрагмент родословного дерева одной семьи, у некоторых членов которой светлая кожа.

Фрагмент родословного дерева семьи



Используя предложенную схему, определите, доминантным или рецессивным является данный признак, и сцеплен ли он с половыми хромосомами.

□

Ответ: \_\_\_\_\_

9

Селекционер скрестил самку кролика с чёрной шерстью и самца кролика с чёрной шерстью. В результате скрещивания в потомстве присутствовали особи с белой шерстью. Определите генотипы исходных самки и самца кроликов и полученного потомства по указанному признаку.

Ответы занесите в таблицу.

□

Генотип самки кролика с чёрной шерстью	Генотип самца кролика с чёрной шерстью	Генотип потомства с белой шерстью

10

Костя решил сдать кровь в качестве донора. При заборе крови ему определили группу, и выяснилось, что у Кости четвёртая группа. Костя знает, что у его матери вторая группа крови.

		Группа крови отца				
		I (0)	II (A)	III (B)	IV (AB)	
Группа крови матери	I (0)	I (0)	I (0) II (A)	I (0) III (B)	II (A) III (B)	Группа крови ребенка
	II (A)	I (0) II (A)	I (0) II (A)	любая	II (A) III (B) IV (AB)	
	III (B)	I (0) III (B)	любая	I (0) III (B)	II (A) III (B) IV (AB)	
	IV (AB)	II (A) III (B)	II (A) III (B) IV (AB)	II (A) III (B) IV (AB)	II (A) III (B) IV (AB)	

10.1. Какой группы может быть кровь у отца Кости?

Ответ: \_\_\_\_\_

10.2. Руководствуясь правилами переливания крови, определите, может ли Костя быть донором крови для своего друга, если у него третья группа крови.

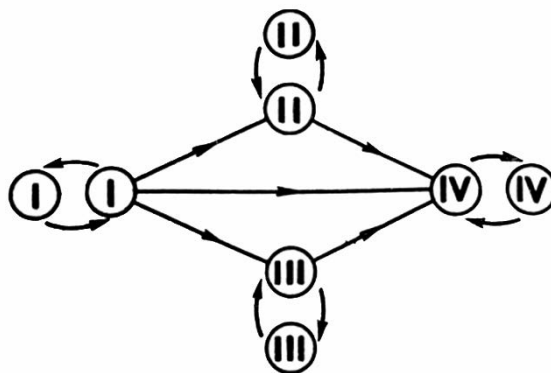


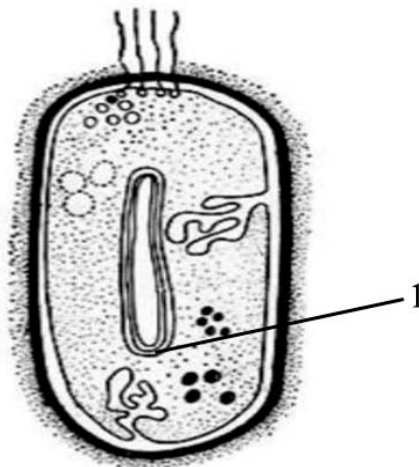
Рис. Правила переливания крови

Ответ: \_\_\_\_\_



11

На рисунке изображена клетка, имеющая мелкие рибосомы, способная к спорообразованию, размножающаяся прямым делением надвое.



11.1. Как называется структура клетки, обозначенная на рисунке цифрой 1?

Ответ: \_\_\_\_\_

11.2. Назовите надцарство организмов, к которому относят изображённую на рисунке клетку. Ответ поясните.

Ответ: \_\_\_\_\_

\_\_\_\_\_  
\_\_\_\_\_

12

Фрагмент иРНК имеет следующую последовательность:

ГУГГАГГГУГЦУЦА

Определите последовательность участка ДНК, послужившего матрицей для синтеза этой молекулы РНК, и последовательность белка, которая кодируется этим фрагментом иРНК. При выполнении задания воспользуйтесь правилом комплементарности и таблицей генетического кода.

Таблица генетического кода (и-РНК)

Первое основание	Второе основание				Третье основание
	У	Ц	А	Г	
У	Фен	Сер	Тир	Цис	У
	Фен	Сер	Тир	Цис	Ц
	Лей	Сер	—	—	А
	Лей	Сер	—	Три	Г
Ц	Лей	Про	Гис	Арг	У
	Лей	Про	Гис	Арг	Ц
	Лей	Про	Глн	Арг	А
	Лей	Про	Глн	Арг	Г
А	Иле	Тре	Асн	Сер	У
	Иле	Тре	Асн	Сер	Ц
	Иле	Тре	Лиз	Арг	А
	Мет	Тре	Лиз	Арг	Г
Г	Вал	Ала	Асп	Гли	У
	Вал	Ала	Асп	Гли	Ц
	Вал	Ала	Глу	Гли	А
	Вал	Ала	Глу	Гли	Г

Правила пользования таблицей

Первый нуклеотид в триплете берётся из левого вертикального ряда, второй – из верхнего горизонтального ряда и третий – из правого вертикального. Там, где пересекутся линии, идущие от всех трёх нуклеотидов, и находится искомая аминокислота.

Ответ:

**12.1** ДНК:

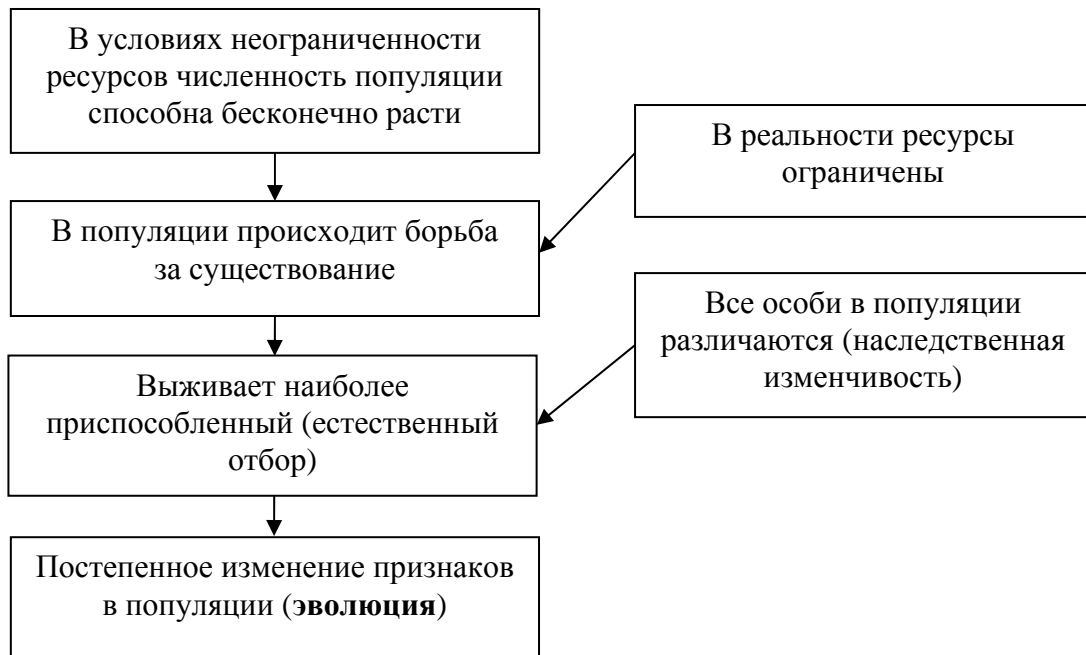
**12.2** Белок:

**12.3.** При расшифровке генома кукурузы было установлено, что во фрагменте молекулы ДНК доля нуклеотидов с тиминном составляет 25%. Пользуясь правилом Чаргаффа, описывающим количественные соотношения между различными типами азотистых оснований в ДНК ( $G + T = A + C$ ), рассчитайте количество (в %) в этой пробе нуклеотидов с гуанином.

Ответ:

13

Современную эволюционную теорию, согласно учению Дарвина, можно представить в виде следующей схемы.



Объясните, руководствуясь этой схемой, образование цветков с редуцированным околоцветником (без лепестков) у предковых форм ветроопыляемых растений.

Ответ: \_\_\_\_\_  
 \_\_\_\_\_  
 \_\_\_\_\_  
 \_\_\_\_\_

14

На рисунке изображён представитель рода вымерших меганевров, обитавших 303,4–298,9 млн лет назад.



Используя фрагмент геохронологической таблицы, определите эру и период, в который обитал данный организм, а также родственный ему класс современных животных.

**Геохронологическая таблица**

ЭРА		Период и продолжительность (в млн лет)	Животный и растительный мир
Название и продолжительность (в млн лет)	Начало (млн лет назад)		
Кайнозойская, 67	67	Антропоген, 1,5	Появление и развитие человека. Формирование существующих растительных сообществ. Животный мир принял современный облик
		Неоген, 23,5	Господство млекопитающих и птиц
		Палеоген, 42	Появление хвостатых лемуринов, позднее – парапитеков, дриопитеков. Бурный расцвет насекомых. Продолжается вымирание крупных пресмыкающихся. Исчезают многие группы головоногих моллюсков. Господство покрытосеменных растений
Мезозойская, 163	230	Мел, 70	Появление высших млекопитающих и настоящих птиц, хотя зубастые птицы ещё распространены. Преобладают костистые рыбы. Сокращение многообразия папоротников и голосеменных растений. Появление и распространение покрытосеменных растений
		Юра, 58	Появление первых птиц, примитивных млекопитающих, расцвет динозавров. Господство голосеменных. Процветание головоногих моллюсков
		Триас, 35	Начало расцвета пресмыкающихся. Появление костистых рыб

Палеозойская, 295	Нет точных данных	Пермь, 55	Вымирание трилобитов. Возникновение зверозубых пресмыкающихся. Исчезновение каменноугольных лесов
		Карбон, 63	Расцвет земноводных. Появление первых пресмыкающихся. Характерно разнообразие насекомых. Расцвет гигантских хвощей, плаунов, древовидных папоротников
		Девон, 40	Быстрая эволюция рыб. В позднем девоне многие группы древних рыб вымерли. Суша подверглась нашествию множества членистоногих. Появились первые земноводные. Появились споровые хвощи и плауны
		Силур, 25	Происходит активное рифостроительство. Распространены ракоскорпионы. Растения заселяют берега водоёмов
		Ордовик, 42	Множество бесчелюстных рыб. Появляются различные виды водорослей. В конце появляются первые наземные растения
		Кембрий, 56	В ходе грандиозного эволюционного взрыва возникло большинство современных типов животных. В океанах и морях многообразие водорослей

Эра: \_\_\_\_\_

Период: \_\_\_\_\_

 Родственный класс современных животных: \_\_\_\_\_