



## НОМЕР КИМ

### Инструкция по выполнению работы

Работа состоит из двух частей, включающих в себя 15 заданий. Часть 1 содержит 10 заданий с кратким ответом; часть 2 содержит 5 заданий, которые необходимо выполнить на компьютере.

На выполнение работы по информатике отводится 2 часа 30 минут (150 минут). Вы можете самостоятельно определять время, которое отводите на выполнение заданий, но рекомендуемое время на выполнение заданий части 1 – 30 минут, на выполнение заданий части 2 – 2 часа (120 минут).

Ответы к заданиям 1–12 записываются в виде числа, слова, последовательности букв или цифр. Ответ запишите в поле ответа в тексте работы, а затем перенесите в бланк ответов № 1.

Результатом выполнения каждого из заданий 13–15 является отдельный файл. Формат файла, его имя и каталог для сохранения Вам сообщат организаторы экзамена.

Все бланки заполняются яркими чёрными чернилами. Допускается использование гелевой или капиллярной ручки.

При выполнении заданий можно пользоваться черновиком. **Записи в черновике, а также в тексте контрольных измерительных материалов не учитываются при оценивании работы.**

Баллы, полученные Вами за выполненные задания, суммируются. Постарайтесь выполнить как можно больше заданий и набрать наибольшее количество баллов.

После завершения работы проверьте, чтобы ответ на каждое задание в бланке ответов № 1 был записан под правильным номером.

*Желаем успеха!*

### Часть 1

*Ответами к заданиям 1–10 являются число, слово, последовательность букв или цифр. Ответы укажите сначала в тексте работы, а затем перенесите в БЛАНК ОТВЕТОВ № 1 справа от номера соответствующего задания, начиная с первой клеточки, без пробелов, запятых и других дополнительных символов. Каждый символ пишите в отдельной клеточке в соответствии с приведёнными в бланке образцами.*

1

В кодировке КОИ-8 каждый символ кодируется 8 битами. Вова написал текст (в нём нет лишних пробелов):

«Личи, гуава, дуриан, кумкват, тамаринд, мангустин, джаботикаба – экзотические фрукты».

Ученик вычеркнул из списка название одного фрукта. Заодно он вычеркнул ставшие лишними запятую и пробел – два пробела не должны идти подряд. При этом размер нового предложения в данной кодировке оказался на 7 байт меньше, чем размер исходного предложения. Напишите в ответе вычеркнутое название экзотического фрукта.

Ответ: \_\_\_\_\_.

2

Валя шифрует русские слова, записывая вместо каждой буквы её код. Коды букв даны в таблице.

А	В	Д	О	Р	У
01	011	100	111	010	001

Некоторые кодовые цепочки можно расшифровать несколькими способами. Например, 00101001 может означать не только УРА, но и УАУ.

Даны три кодовые цепочки:

01001001

0100100101

111011111100

Найдите среди них ту, которая имеет только одну расшифровку, и запишите в ответе расшифрованное слово.

Ответ: \_\_\_\_\_.

3

Напишите натуральное число  $x$ , для которого ЛОЖНО высказывание:  $(x < 4)$  ИЛИ НЕ  $(x < 5)$ .

Ответ: \_\_\_\_\_.



- 4 Между населёнными пунктами А, В, С, D, Е построены дороги, протяжённость которых (в километрах) приведена в таблице.

	А	В	С	D	Е
А		5	3		
В	5		1	4	
С	3	1		6	
D		4	6		1
Е				1	

Определите длину кратчайшего пути между пунктами А и Е. Передвигаться можно только по дорогам, протяжённость которых указана в таблице. Каждый пункт можно посетить только один раз.

Ответ: \_\_\_\_\_.

- 5 У исполнителя Программист две команды, которым присвоены номера:

- вычти 3
- умножь на 4

Первая из них уменьшает число на экране на 3, вторая увеличивает число в 4 раза.

Составьте алгоритм получения из числа 1 числа 49, содержащий не более 5 команд. В ответе запишите только номера команд.

(Например, 21212 – это алгоритм:

умножь на 4

вычти 3

умножь на 4

вычти 3

умножь на 4,

который преобразует число 2 в 68.)

Если таких алгоритмов более одного, то запишите любой из них.

Ответ: \_\_\_\_\_.

- 6 Ниже приведена программа, записанная на пяти языках программирования.

Алгоритмический язык	Паскаль
<pre> алг нач цел s, t, A ввод s ввод t ввод A если s &gt; 10 или t &gt; A то вывод "YES" иначе вывод "NO" все кон </pre>	<pre> var s, t, A: integer; begin   readln(s);   readln(t);   readln(A);   if (s &gt; 10) or (t &gt; A)     then writeln("YES")     else writeln("NO") end. </pre>
Бейсик	Python
<pre> DIM s, t, A AS INTEGER INPUT s INPUT t INPUT A IF s &gt; 10 OR t &gt; A THEN   PRINT "YES" ELSE   PRINT "NO" ENDIF </pre>	<pre> s = int(input()) t = int(input()) A = int(input()) if (s &gt; 10) or (t &gt; A):   print("YES") else:   print("NO") </pre>
C++	
<pre> #include &lt;iostream&gt; using namespace std;  int main(){   int s, t, A;   cin &gt;&gt; s;   cin &gt;&gt; t;   cin &gt;&gt; A;   if (s &gt; 10) or (t &gt; A)     cout &lt;&lt; "YES" &lt;&lt; endl;   else     cout &lt;&lt; "NO" &lt;&lt; endl;   return 0; } </pre>	

Было проведено 9 запусков программы, при которых в качестве значений переменных  $s$  и  $t$  вводились следующие пары чисел:

(1, 2); (11, 2); (1, 12); (11, 12); (-11, -12); (-11, 12); (-12, 11); (10, 10); (10, 5).

Укажите количество целых значений параметра  $A$ , при которых для указанных входных данных программа напечатает «NO» два раза.

Ответ: \_\_\_\_\_.



7 Доступ к файлу **txt.com**, находящемуся на сервере **net.ru**, осуществляется по протоколу **http**. Фрагменты адреса файла закодированы цифрами от 1 до 7. Запишите последовательность этих цифр, кодирующую адрес указанного файла в сети Интернет.

- 1) /
- 2) net
- 3) .com
- 4) //
- 5) .ru
- 6) http
- 7) txt

Ответ:

--	--	--	--	--	--	--	--

8 В языке запросов поискового сервера для обозначения логической операции «ИЛИ» используется символ «|», а для обозначения логической операции «И» – символ «&».

В таблице приведены запросы и количество найденных по ним страниц некоторого сегмента сети Интернет.

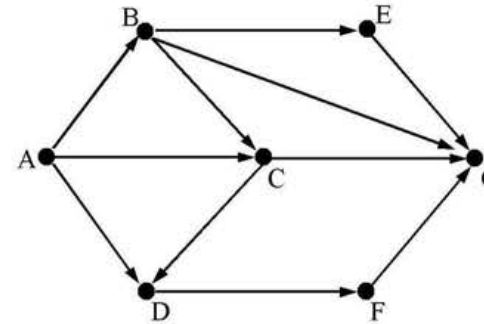
Запрос	Найдено страниц (в тысячах)
<i>Онегин &amp; Ленский</i>	200
<i>Онегин &amp; (Татьяна   Ленский)</i>	470
<i>Онегин &amp; Татьяна</i>	355

Какое количество страниц (в тысячах) будет найдено по запросу  
*Онегин & Татьяна & Ленский*?

Считается, что все запросы выполнялись практически одновременно, так что набор страниц, содержащих все искомые слова, не изменялся за время выполнения запросов.

Ответ: \_\_\_\_\_.

9 На рисунке – схема дорог, связывающих города А, В, С, D, E, F, G. По каждой дороге можно двигаться только в одном направлении, указанном стрелкой. Сколько существует различных путей из города А в город G?



Ответ: \_\_\_\_\_.

10 Некоторое число в двоичной системе счисления записывается как 101101. Определите это число и запишите его в ответе в десятичной системе счисления.

Ответ: \_\_\_\_\_.

## Часть 2

*Задания этой части (11–15) выполняются на компьютере. Ответами к заданиям 11, 12 являются слово или число, которые следует записать в БЛАНК ОТВЕТОВ № 1 справа от номера соответствующего задания, начиная с первой клеточки. Каждый символ пишете в отдельной клеточке в соответствии с приведёнными в бланке образцами. Результатом выполнения заданий 13–15 является отдельный файл (для одного задания – один файл). Формат файла, его имя и каталог для сохранения Вам сообщат организаторы экзамена.*

- 11 В одном из произведений А.С. Пушкина, текст которого приведён в подкаталоге каталога **Проза**, есть персонаж по фамилии Берестов. С помощью поисковых средств операционной системы и текстового редактора или браузера выясните, как называется имя, в котором живёт этот человек.

Ответ: \_\_\_\_\_.

- 12 Сколько файлов объёмом не менее 625 000 байт каждый содержится в подкаталогах каталога **ДЕМО-12**? В ответе укажите только число.

Ответ: \_\_\_\_\_.



*Не забудьте перенести все ответы на задания 1–12 в бланк ответов № 1 в соответствии с инструкцией по выполнению работы. Проверьте, чтобы каждый ответ был записан в строке с номером соответствующего задания.*

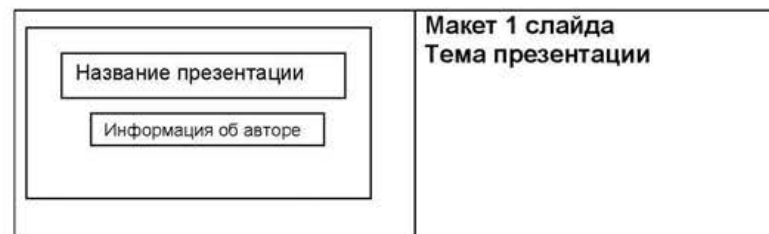


**Выберите ОДНО из предложенных ниже заданий: 13.1 или 13.2.**

- 13.1 Используя информацию и иллюстративный материал, содержащийся в каталоге DEMO-13, создайте презентацию из трёх слайдов на тему «Бордер-колли». В презентации должны содержаться краткие иллюстрированные сведения о внешнем виде, истории породы, темпераменте собак породы бордер-колли. Все слайды должны быть выполнены в едином стиле, каждый слайд должен быть озаглавлен. Презентацию сохраните в файле, имя которого Вам сообщат организаторы экзамена.

#### Требования к оформлению работы

1. Ровно три слайда без анимации. Параметры страницы (слайда): экран (16:9), ориентация альбомная.
2. Содержание, структура, форматирование шрифта и размещение изображений на слайдах:
  - первый слайд – титульный слайд с названием презентации, в подзаголовке титульного слайда в качестве информации об авторе презентации указывается идентификационный номер участника экзамена;
  - второй слайд – основная информация в соответствии с заданием, размещённая по образцу на рисунке макета слайда 2:
    - заголовок слайда;
    - два изображения;
    - два блока текста;
  - третий слайд – дополнительная информация по теме презентации, размещённая по образцу на рисунке макета слайда 3:
    - заголовок слайда;
    - три изображения;
    - три блока текста.





	<p><b>Макет 2 слайда</b> <b>Основная информация по теме презентации</b></p>
	<p><b>Макет 3 слайда</b> <b>Дополнительная информация по теме презентации</b></p>

В презентации должен использоваться единый тип шрифта.

Размер шрифта для названия презентации на титульном слайде – 40 пунктов, для подзаголовка на титульном слайде и заголовков слайдов – 24 пункта, для подзаголовков на втором и третьем слайдах и для основного текста – 20 пунктов.

Текст не должен перекрывать основные изображения и сливаться с фоном.

**13.2** Создайте в текстовом редакторе документ и напишите в нём следующий текст, точно воспроизведя всё оформление текста, имеющееся в образце.

Данный текст должен быть набран шрифтом размером 14 пунктов обычного начертания. Отступ первой строки первого абзаца основного текста – 1 см. Расстояние между строками текста не менее высоты одинарного, но не более полуторного междустрочного интервала. Основной текст выровнен по ширине; заголовок и текст в ячейках второго столбца таблицы – по центру. Текст в ячейках первого столбца таблицы выровнен по левому краю. В основном тексте и таблице есть слова, выделенные полужирным шрифтом и курсивом или подчёркиванием. Ширина таблицы меньше ширины основного текста. Таблица выровнена на странице по центру.

При этом допустимо, чтобы ширина Вашего текста отличалась от ширины текста в примере, поскольку ширина текста зависит от размеров страницы и полей. В этом случае разбиение текста на строки должно соответствовать стандартной ширине абзаца.

Интервал между текстом и таблицей не менее 12 пунктов, но не более 24 пунктов.

Текст сохраните в файле, имя которого Вам сообщат организаторы.

### **ВАРЕНЬЕ ИЗ ЖИМОЛОСТИ**

<i><b>Ингредиенты</b></i>	<i><b>Количество</b></i>
Ягоды жимолости	1 кг
Сахар	1 кг
Вода	200 мл
Лимонная кислота	0,5 ч. л.

Помыть 1 кг спелых ягод и немного помять их. Из 250 г сахарного песка и 200 мл воды приготовить сироп. *Жимолость* выложить в кастрюлю, залить сиропом и довести до кипения, всыпать ещё 250 г сахара, перемешать. Добавить ещё два стакана песка и перемешивать массу, пока сахар не растворится. Затем 3 минуты прокипятить и снять образовавшуюся пену.

Десерт остудить, разложить по стерилизованным банкам и укупорить их прокипяченными крышками.

- 14 В электронную таблицу занесли данные о тестировании учеников. Ниже приведены первые пять строк таблицы.

	<b>А</b>	<b>В</b>	<b>С</b>	<b>Д</b>
<b>1</b>	округ	код ученика	любимый предмет	балл
<b>2</b>	С	Ученик 1	обществознание	246
<b>3</b>	В	Ученик 2	немецкий язык	530
<b>4</b>	Ю	Ученик 3	русский язык	576
<b>5</b>	СВ	Ученик 4	обществознание	304

В столбце А записан округ, в котором учится ученик; в столбце В – код ученика; в столбце С – любимый предмет; в столбце Д – тестовый балл. Всего в электронную таблицу были занесены данные по 1000 учеников.

**Выполните задание.**

Откройте файл с данной электронной таблицей (расположение файла Вам сообщат организаторы экзамена). На основании данных, содержащихся в этой таблице, ответьте на два вопроса.

1. Сколько учеников в Центральном округе (Ц) выбрали в качестве любимого предмета английский язык? Ответ на этот вопрос запишите в ячейку Н2 таблицы.
2. Каков средний тестовый балл у учеников Восточного округа (В)? Ответ на этот вопрос запишите в ячейку Н3 таблицы с точностью не менее двух знаков после запятой.
3. Постройте круговую диаграмму, отображающую соотношение числа участников из округов с кодами «З», «ЮЗ» и «Ц». Левый верхний угол диаграммы разместите вблизи ячейки G6. В поле диаграммы должны присутствовать легенда (обозначение, какой сектор диаграммы соответствует каким данным) и числовые значения данных, по которым построена диаграмма.

Полученную таблицу необходимо сохранить под именем, указанным организаторами экзамена.



**Выберите ОДНО из предложенных ниже заданий: 15.1 или 15.2.**

- 15.1 Исполнитель Робот умеет перемещаться по лабиринту, начерченному на плоскости, разбитой на клетки. Между соседними (по сторонам) клетками может стоять стена, через которую Робот пройти не может. У Робота есть девять команд. Четыре команды – это команды-приказы:

**вверх вниз влево вправо**

При выполнении любой из этих команд Робот перемещается на одну клетку соответственно: вверх ↑, вниз ↓, влево ←, вправо →. Если Робот получит команду передвижения сквозь стену, то он разрушится.

Также у Робота есть команда **закрасить**, при которой закрашивается клетка, в которой Робот находится в настоящий момент.

Ещё четыре команды – это команды проверки условий. Эти команды проверяют, свободен ли путь для Робота в каждом из четырёх возможных направлений:

**сверху свободно снизу свободно слева свободно справа свободно**

Эти команды можно использовать вместе с условием «если», имеющим следующий вид:

**если условие то  
последовательность команд  
все**

Здесь *условие* – одна из команд проверки условия.

*Последовательность команд* – это одна или несколько любых команд-приказов.

Например, для передвижения на одну клетку вправо, если справа нет стенки и закрашивания клетки, можно использовать такой алгоритм:

**если справа свободно то  
вправо  
закрасить  
все**

В одном условии можно использовать несколько команд проверки условий, применяя логические связки **и**, **или**, **не**, например:

**если (справа свободно) и (не снизу свободно) то  
вправо  
все**

Для повторения последовательности команд можно использовать цикл «пока», имеющий следующий вид:

**нц пока условие  
последовательность команд  
кц**

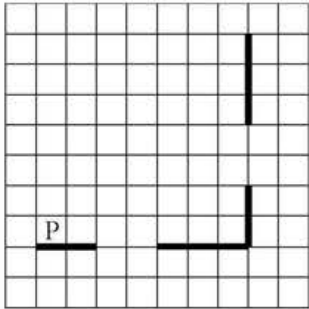
Например, для движения вправо, пока это возможно, можно использовать следующий алгоритм:

**нц пока справа свободно  
вправо  
кц**

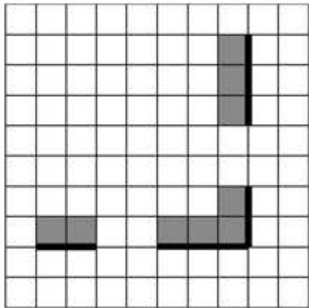
**Выполните задание.**

На бесконечном поле есть горизонтальная и вертикальная стены. Правый конец горизонтальной стены соединён с нижним концом вертикальной стены. Длины стен неизвестны. В каждой стене есть ровно один проход, точное место прохода и его ширина неизвестны. Робот находится в клетке, расположенной непосредственно над горизонтальной стеной у её левого конца.

На рисунке указан один из возможных способов расположения стен и Робота (Робот обозначен буквой «Р»).



Напишите для Робота алгоритм, закрашивающий все клетки, расположенные непосредственно выше горизонтальной стены и левее вертикальной стены. Проходы должны остаться незакрашенными. Робот должен закрасить только клетки, удовлетворяющие данному условию. Например, для приведённого выше рисунка Робот должен закрасить следующие клетки (см. рисунок).



При исполнении алгоритма Робот не должен разрушиться, выполнение алгоритма должно завершиться. Конечное расположение Робота может быть произвольным.

Алгоритм должен решать задачу для любого допустимого расположения стен и любого расположения и размера проходов внутри стен.

Алгоритм может быть выполнен в среде формального исполнителя или записан в текстовом редакторе.

Сохраните алгоритм в формате программы Кумир или в текстовом файле. Название файла и каталог для сохранения Вам сообщат организаторы экзамена.

**15.2** Напишите программу, которая в последовательности натуральных чисел находит наименьшее число, кратное 3. Программа получает на вход целые числа, количество введённых чисел неизвестно, последовательность чисел заканчивается числом 0 (0 – признак окончания ввода, не является членом последовательности).

Количество чисел не превышает 1000. Введённые числа не превышают 30000. Гарантируется, что в последовательности есть хотя бы одно число, кратное 3.

Программа должна вывести наименьшее число, кратное 3.

**Пример работы программы:**

Входные данные	Выходные данные
45	9
10	
9	
0	

Номер дополнительного материала, используемого при  
проведении экзамена по ИНФОРМАТИКЕ

№ КИМ	№ дополнительного материала	№ места участника <i>(заполняется вручную)</i>
	<b>421</b>	