

Пробник



СМИТАП

Задание №1. Установите соответствие между событиями и годами: к каждой позиции первого столбца подберите соответствующую позицию из второго столбца.

СОБЫТИЯ:

- А) Отмена кормлений
- Б) Разгром печенегов под Киевом войском князя Ярослава Мудрого
- В) Присоединение к Российской империи Финляндии

ГОДЫ:

- 1) 1036 г.
- 2) 1238 г.
- 3) 1556 г.
- 4) 1721 г.
- 5) 1809 г.

Ответ:

Задание №2. Расположите в хронологической последовательности исторические события. Запишите цифры, которыми обозначены исторические события, в правильной последовательности.

- 1) Разгром Хазарского каганата
- 2) Поход Тохтамыша на Москву
- 3) Ледовое побоище
- 4) Стояние на Угре (с Большой Ордой)

Ответ:

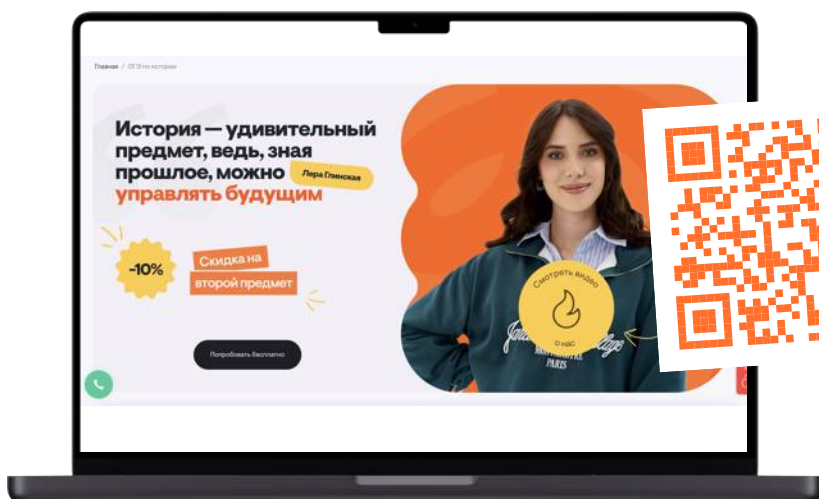
Задания

подготовила

Лера Глинская



Подготовка к ОГЭ по истории:



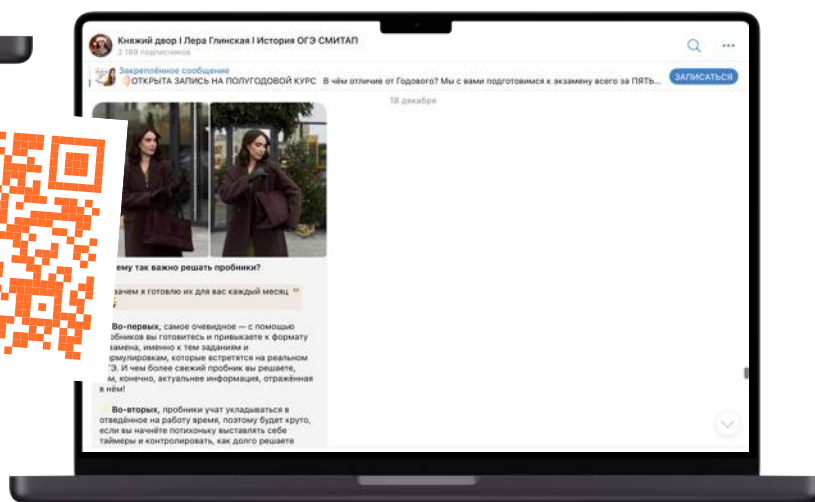
Подробнее
о СМИАП:

Смотреть



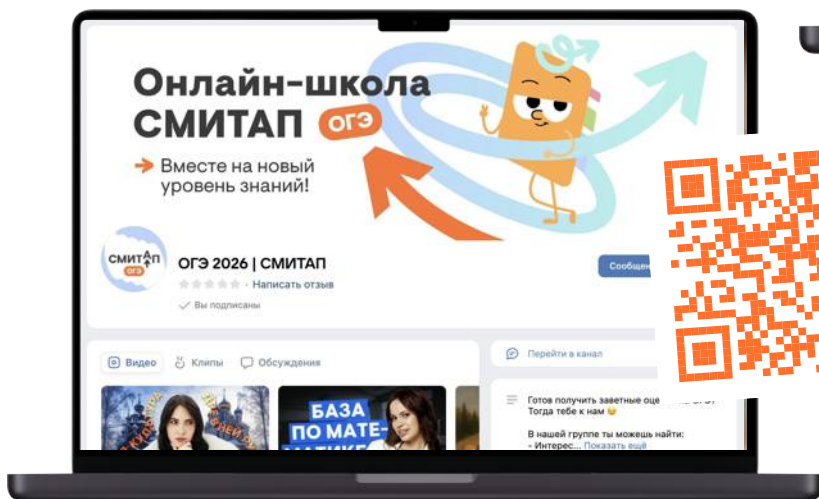
Подписывайся
на Telegram-канал:

Смотреть



Забирай полезный
материал в группе
ВКонтакте:

Смотреть



Задание №3. Запишите термин, о котором идет речь.

«Созданные в начале XIX в. органы центрального управления, имевшие единоличных руководителей, подчинявшихся непосредственно императору».

Ответ:

Задание №4. Какие из перечисленных мероприятий относятся к политике «просвещенного абсолютизма» Екатерины II? Найдите в приведенном ниже списке два мероприятия и запишите цифры, под которыми они указаны.

- 1) Созыв Уложенной комиссии
- 2) Учреждение министерств
- 3) Упразднение патриаршества
- 4) Создание военных поселений
- 5) Издание жалованной грамоты городам

Ответ:

Задание №5. Ниже приведен перечень названий. Все они, за исключением одного, обозначают название государственных органов Российской империи в XVIII–XIX вв.

- 1) Правительствующий сенат;
- 2) Верховный тайный совет;
- 3) Государственная дума;
- 4) Государственный совет;
- 5) Военная коллегия

Найдите и запишите порядковый номер термина, «выпадающего» из данного ряда.

Ответ:

Задание №6. Перед Вами четыре предложения. Два из них являются тезисами (положениями, которые требуется аргументировать). Другие два содержат факты, которые могут послужить для аргументации этих тезисов. Подберите для каждого из тезисов соответствующий ему факт.

- 1) Даниил Александрович отвоевал у рязанского князя город Коломну, захватил рязанские земли до Серпухова.
- 2) Московские князья оказались дальновидными политиками, наладив хорошие отношения с Золотой Ордой.
- 3) Целью первых московских князей было расширение своих владений.
- 4) Иван Калита исправно выплачивал ордынский выход, щедро одаривал хана Узбека, его жен и знатных людей.

Ответ:

Задание №7. Используя данные статистической таблицы, завершите представленные ниже суждения, соотнесите их начала и варианты завершения.

Рост продукции основных отраслей (в млн пудов)

Год	Нефть	Чугун	Сталь	Каменный уголь
1861	0,2	19,5	12,4	23,5
1881	40,4	28,7	21,2	213,3

НАЧАЛО СУЖДЕНИЯ:

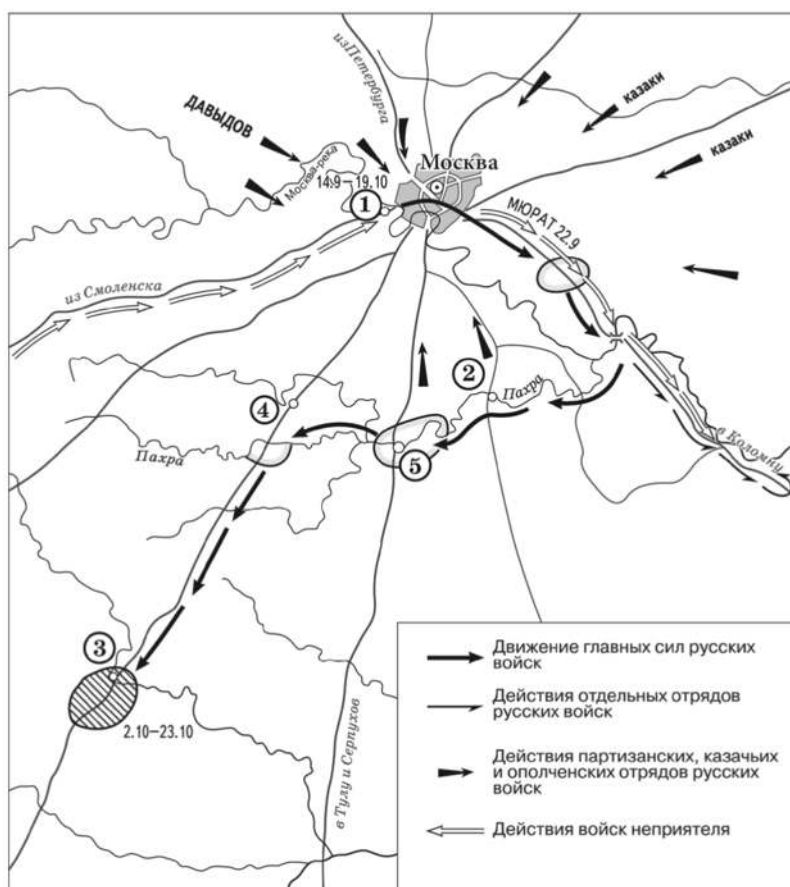
- А) В 1861 г. объемы добычи нефти
- Б) В 1861 г. объемы выплавки стали
- В) В период 1861–1881 гг. объемы добычи каменного угля

ВАРИАНТЫ ЗАВЕРШЕНИЯ СУЖДЕНИЯ:

- 1) составляли менее 1% от уровня 1881 г.
- 2) увеличились примерно в 9 раз
- 3) составляли около 60% от уровня 1881 г.
- 4) увеличились на 90%
- 5) составляли около 90% от уровня 1881 г.

Ответ:

Рассмотрите схему и выполните задания.



Задание №8. Назовите российского монарха, в годы правления которого произошли события, отраженные на схеме.

Ответ:

Задание №9. Заполните пропуск в предложении.

«Перемещение главных сил русских войск к населенному пункту, обозначенному на схеме цифрой «3», вошло в историю под названием «_____ маневр».

Ответ:

Задание №10. Прочитайте отрывок из сочинения историка и укажите цифру, обозначающую на схеме населенный пункт, название которого дважды пропущено в данном отрывке.

«1(13) сентября русская армия подошла к Москве и расположилась на позиции, выбранной Беннигсеном. Правый фланг позиции упирался в изгиб Москвы-реки у деревни _____, центр позиции находился впереди села Троицкое, а левый фланг примыкал к Воробьевым горам. Позицию стали деятельно готовить к предстоящей битве. Но, по мнению Барклая де Толли и некоторых других генералов, позиция была крайне неудобной для сражения. Решимость Кутузова дать второе сражение «Великой армии» Наполеона была поколеблена. 1(13) сентября был собран военный совет, который был должен решить судьбу Москвы. В _____ собрались военный министр Барклай де Толли, начальник Главного штаба 1-й Западной армии Ермолов, генерал-квартирмейстер Толь, генералы Беннингсен, Дохтуров, Уваров, Остерман-Толстой, Коновницын, Раевский, Кайсаров. Кутузов поднял вопрос о том, стоит ли ожидать врага на позиции и дать ему сражение или отдать Москву без боя».

Ответ:

Рассмотрите иллюстрацию и ответьте на вопрос.



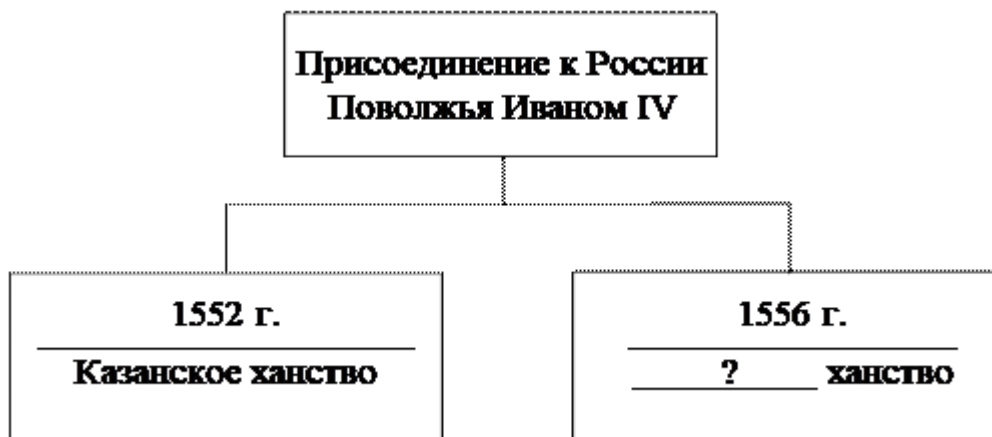
СМИТАП
↑
История

Задание №11. Где происходила битва, которую иллюстрирует данное изображение?

- 1) На реке Калке
- 2) На реке Сити
- 3) На Чудском озере
- 4) На реке Воже

Ответ:

Задание №12. Запишите слово, пропущенное на схеме.



Ответ:

Ознакомьтесь с перечнем и изображениями памятников культуры и выполните задание.

- 1) Краснокирпичные стены Московского Кремля
- 2) «Слово о полку Игореве»
- 3) «Житие протопопы Аввакума»



4)



5)

Задание №13. Какие из приведенных памятников культуры были созданы в XII веке? Выберите два памятника культуры и запишите, под которыми они указаны.

Ответ:

Задание №14. В создании какого из приведенных памятников культуры принимал участие Аристотель Фиораванти? Укажите порядковый номер этого памятника культуры.

Ответ:

Прочитайте перечень событий, процессов из истории зарубежных стран и выполните задания.

- 1) Объединение Китая в III в. до н. э.
- 2) Крестовые походы
- 3) Великие географические открытия
- 4) Объединение Италии

Задание №15. Участником какого из перечисленных событий, процессов был Цинь Шихуан? Укажите порядковый номер этого события или процесса.

Ответ:

Задание №16. В ходе какого из перечисленных событий, процессов произошла осада Иерусалима? Укажите порядковый номер этого события или процесса.

Ответ:

Задание №17. К какому событию или процессу имеет непосредственное отношение данный исторический источник? Укажите порядковый номер этого события, процесса.

«Посланные мною в Милан для принятия оружия встретили у арсеналов королевских карабинеров, запретивших им взять хотя бы одно ружье. Распоряжение было отдано Кавуром. Это препятствие, конечно, расстроило и задержало нас, но все же не отвратило от нашего намерения. Мы старались добыть оружие в другом месте, и это нам, вероятно, удалось бы. В это время Ла-Фарина предложил нам 100 ружей и 8000 лир, которые я принял без всяких задних мыслей. Скаредная щедрость высокопоставленных лиц! Мои товарищи по битвам расскажут, с каким жалким оружием они должны были сражаться против неприятелей — Бурбонов, вооруженных прекрасными карабинами».

Ответ:

Прочитайте отрывок из исторического источника.

«В лето 6731 по грехам нашим пришли народы неизвестные при Мстиславе князе Романовиче в десятое лето княжения его в Киеве. Пришла неслыханная рать, безбожные моавитяне, называемые монголы, их же никто ясно не знает, кто они и откуда пришли, и каков язык их, и какого племени они, и что за вера их... Мы слышали, что многие страны попленили [они]: ясов, обезов, касогов — и половцев безбожных избил множество. А Котян, князь половецкий, с иными князьями и с остатком половцев прибежали к тому месту, что называется вал половецкий, а другие половцы многие убежали в Русскую землю. Этот Котян был тесть Мстиславу Мстиславичу Галицкому. И пришел он с князьями половецкими в Галич с поклоном к князю Мстиславу, к зятю, и ко всем князьям русским. И дары принес многие: коней, и верблюдов, и буйволов, и невольниц — и одарил князей русских, и сказал так: „Нашу землю монголы отняли сегодня, а вашу завтра возьмут. Приходите, обороните нас. Если не поможете нам, то мы нынче иссечены будем, а вы – завтра...” И долго думали князья, и сотворили совет в городе в Киеве такой: „Лучше нам встретить их на чужой земле, нежели на своей”.

И начали князья собирать воинов каждый в своей волости. Тогда был Мстислав в Киеве, а Мстислав Козельский в Чернигове, а Мстислав Торопецкий в Галиче. То были старшие князья в Русской земле. Князья же великого Юрия Суздальского не было на совете том».

Задание №18. Укажите век, когда произошли описываемые события. Назовите сражение, о подготовке к которому повествует автор.

Ответ:

Задание №19. Какое предостережение, согласно тексту летописи, использовал половецкий князь, чтобы сделать свою просьбу о помощи более убедительной для русских князей? Какое решение приняли русские князья в ответ на эту просьбу?

Ответ:

Задание №20. Укажите один любой итог сражения, о подготовке к которому идет речь. Укажите отчество упомянутого в отрывке суздальского князя.

Ответ:

Задание №21. Что из перечисленного стало одной из причин (предпосылок) поражения русской армии под Нарвой в 1700 г.?

- Недостаточное снабжение
- Введение подушной подати
- Наемные командиры
- Строительство Санкт-Петербурга

Объясните, как выбранное вами положение связано с началом поражением русской армии под Нарвой в 1700 г.

Ответ:

Задание №22. Прочитайте текст, который содержит две фактические ошибки.

Круг приближенных к Ивану IV людей, составивших неофициальное правительство Российского государства в конце 40-х и в 50-х гг. XVI в., вошел в историю под названием Негласный комитет. В него предположительно входили глава Челобитного приказа А.Ф. Адашев, глава Посольского приказа И.М. Висковатый, князь А.М. Курбский, митрополит Макарий, протопоп Сильвестр. При их участии были осуществлены преобразования, которые способствовали централизации государства, вели к социальному компромиссу, укрепили внутренний порядок, обеспечили внешнеполитические успехи России в 1550-х гг. Среди важнейших нововведений созыв первого в истории Государственного совета — представительного органа, который участвовал в решении наиболее важных для государства вопросов.

Найдите фактические ошибки и исправьте их.

Ответ:

Положение текста, в котором допущена ошибка	Исправленное положение текста

Задание №23. Существует точка зрения, что, несмотря на наличие общих черт, положение государственных и частновладельческих крестьян в XVIII веке имело различия. **Приведите не менее двух различий.**

Ответ:

Задание №24. В начале 1730-го года в широких кругах московского дворянства шло активное обсуждение сложившейся политической ситуации в стране, составлялись проекты переустройства, дворяне выражали императрице свою поддержку, а основным их требованием была ликвидация государственного органа, созданного четырьмя годами ранее.

- 1) Назовите императрицу, о которой идет речь.
- 2) Назовите государственный орган, ликвидации которого требовало рядовое дворянство.
- 3) Почему рядовое дворянство требовало ликвидации данного государственного органа? Назовите одну любую причину.

Ответ: