

**Проверочная работа
по ИСТОРИИ**

8 класс

Вариант 1

Инструкция по выполнению работы

На выполнение проверочной работы по истории отводится один урок (не более 45 минут). Работа включает в себя 9 заданий по истории России XVIII в., истории зарубежных стран (история Нового времени) и 1 задание, посвящённое памяти народа России о Великой Отечественной войне или важнейшим событиям истории нашей страны в XXI в.

Ответы на задания запишите в поля ответов в тексте работы. В случае записи неверного ответа зачеркните его и запишите рядом новый.

При выполнении работы не разрешается пользоваться учебниками, рабочими тетрадями, справочным материалом.

При необходимости можно пользоваться черновиком. Записи в черновике проверяться и оцениваться не будут.

Советуем выполнять задания в том порядке, в котором они даны. В целях экономии времени пропускайте задание, которое не удаётся выполнить сразу, и переходите к следующему. Если после выполнения всей работы у Вас останется время, то Вы сможете вернуться к пропущенным заданиям.

Желаем успеха!

*Таблица для внесения баллов участника**

Номер задания	1	2	3	4	5	6	7	8	9	10	Сумма баллов	Отметка за работу
Баллы												

* *Обратите внимание:* в случае, если какие-либо задания не могли быть выполнены целым классом по причинам, связанным с особенностями организации учебного процесса, в форме сбора результатов ВПР всем обучающимся класса за данные задания вместо баллов выставляется значение «Тема не пройдена». В соответствующие ячейки таблицы заполняется н/п.

1

Расположите в хронологической последовательности исторические события. Запишите цифры, которыми обозначены исторические события, в правильной последовательности в таблицу.

- 1) поражение русских войск под Нарвой
- 2) разработка Наказа Уложенной комиссии
- 3) начало войны за австрийское наследство

Ответ:

--	--	--

2

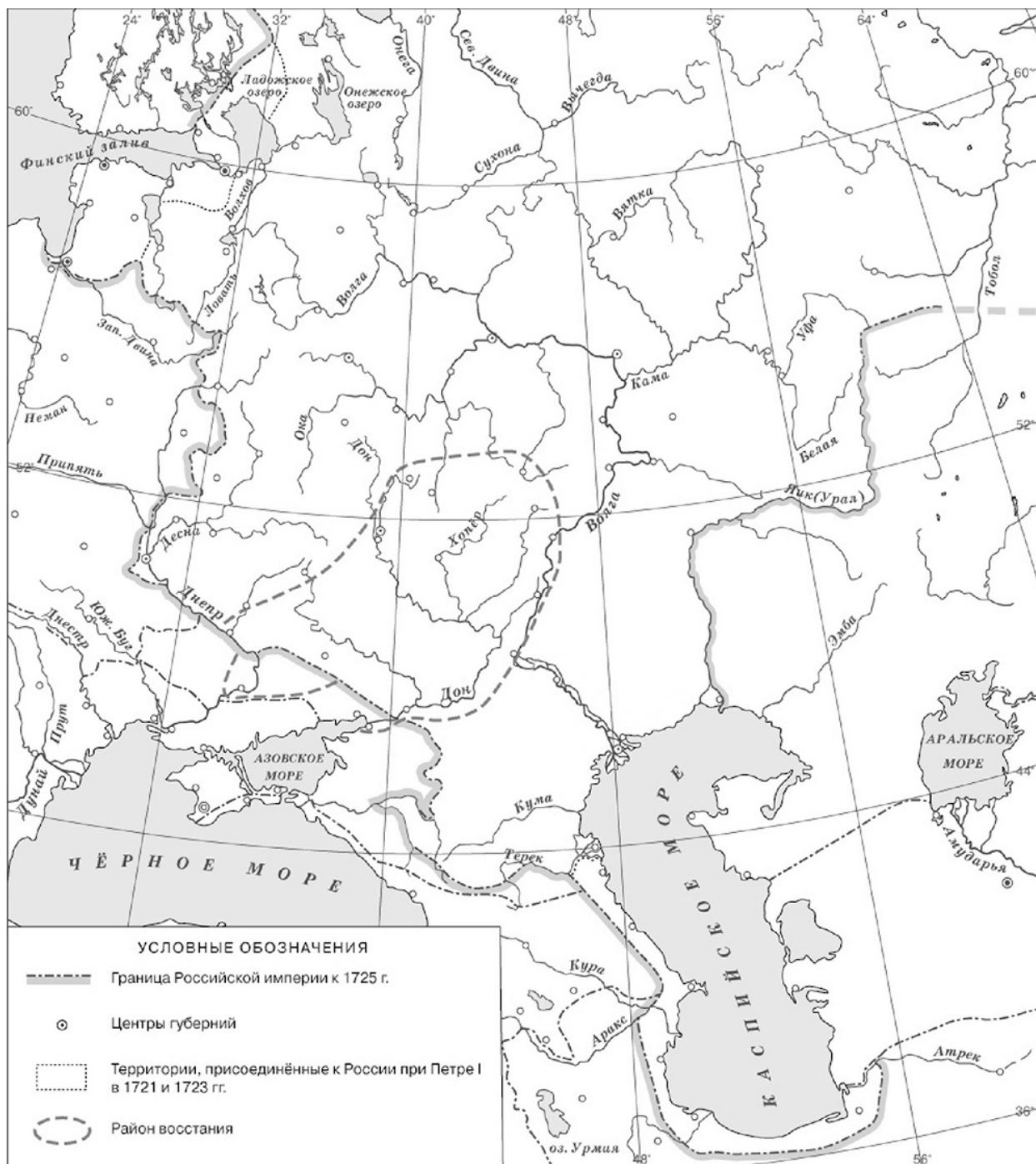
Рассмотрите изображение.



Укажите с точностью до десятилетия период, когда произошли изображённые на картине события.

Ответ: _____

Рассмотрите карту и выполните задания 3, 4.



3 Укажите фамилию предводителя восстания, район которого обозначен на карте.

⋯ Ответ: _____.

4 Подпишите на карте города Москву и Санкт-Петербург.

⋯

Прочтите отрывок из исторического источника и выполните задания 5, 6.

«Великий князь, казалось, был рад приезду моей матери и моему. Мне шёл пятнадцатый год; в течение первых десяти дней он был очень занят мною; тут же и в течение этого короткого промежутка времени я увидела и поняла, что он не очень ценит народ, над которым ему суждено было царствовать, что он держался лютеранства, не любил своих приближённых и был очень ребячлив. Я молчала и слушала, чем снискала его доверие; помню, он мне сказал, между прочим, что ему больше всего нравится во мне то, что я его троюродная сестра, и что в качестве родственника он может говорить со мной по душе, после чего сказал, что влюблён в одну из фрейлин императрицы, которая была удалена тогда от двора ввиду несчастья её матери, некоей Лопухиной, сосланной в Сибирь; что ему хотелось бы на ней жениться, но что он покоряется необходимости жениться на мне, потому что его тётка, императрица Елизавета Петровна, того желает».

5

Назовите автора воспоминаний.

Ответ: _____

Каким событием закончилось правление великого князя, о котором идёт речь в отрывке?



Ответ: _____

6

Чем снискала доверие великого князя автор отрывка, по её словам? Как, со слов автора отрывка, великий князь относился к народу?

Ответ: _____

Ознакомьтесь с приведённым перечнем и изображениями памятников культуры и выполните задания 7, 8.

- 1) «Гистория Свейской войны»
- 2) «Сказание об осаде Троице-Сергиева монастыря»
- 3) «Хождение за три моря»
- 4)  5) 

7

Какие из приведённых памятников культуры были созданы в XVIII в.? Выберите **два** памятника культуры и запишите в таблицу цифры, под которыми они указаны.

Ответ:

--	--

8

В создании какого из приведённых памятников культуры принимал участие Д. Трезини? Укажите порядковый номер этого памятника культуры.

Ответ:

--

9

Какой из приведённых исторических фактов можно использовать для аргументации следующей точки зрения: «Верховный тайный совет стремился ограничить императорскую власть»? Укажите порядковый номер этого факта в списке.

- 1) отмена указа о единонаследии
- 2) составление Кондиций
- 3) введение Табели о рангах

Ответ:

--

Объясните, как с помощью выбранного Вами факта можно аргументировать данную точку зрения.

Ответ: _____

10

Рассмотрите изображение и выполните задание.



Укажите год, когда произошло событие, которому посвящён указанный на данной афише праздничный концерт. Чем была обусловлена необходимость действий России в ходе данного события?

Ответ: _____
