

**Проверочная работа
по БИОЛОГИИ**

6 КЛАСС

Вариант 2

Инструкция по выполнению работы

На выполнение работы по биологии отводится 45 минут. Работа включает в себя 10 заданий.

Ответы на задания запишите в поля ответов в тексте работы. В случае записи неверного ответа зачеркните его и запишите рядом новый.

При выполнении работы не разрешается пользоваться учебником, рабочими тетрадями и другим справочным материалом. Разрешается использовать линейку.

При необходимости можно пользоваться черновиком. Записи в черновике проверяться и оцениваться не будут.

Советуем выполнять задания в том порядке, в котором они даны. В целях экономии времени пропускайте задание, которое не удаётся выполнить сразу, и переходите к следующему. Если после выполнения всей работы у Вас останется время, то Вы сможете вернуться к пропущенным заданиям.

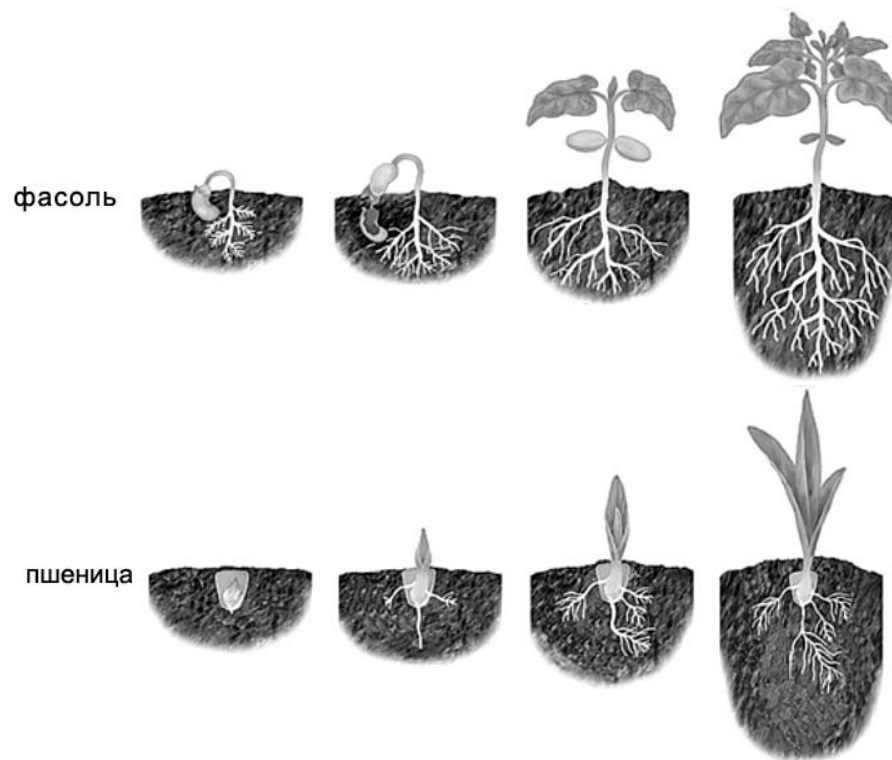
Желаем успеха!

Таблица для внесения баллов участника

Номер задания	1.1	1.2	1.3	2.1	2.2	3.1	3.2	3.3	3.4	4	5.1	5.2	5.3	6	7	8.1	8.2	8.3	
Баллы																			
Номер задания	9	10.1	10.2	Сумма баллов	Отметка за работу														
Баллы																			

1

На представленном ниже рисунке ученик увидел один из процессов жизнедеятельности растений. Рассмотрите рисунок и ответьте на вопросы.



1.1. Как называют данный процесс?

Ответ. _____

1.2. Знание в области какой ботанической науки позволит ученику изучить данный процесс?

Ответ. _____

1.3. Какая корневая система сформируется у пшеницы?

Ответ. _____

2

В приведённой ниже таблице между позициями первого и второго столбцов имеется взаимосвязь.

Целое	Часть
Образовательная ткань	Камбий
...	Ситовидные трубки

2.1. Какое понятие следует вписать на место пропуска в этой таблице?

- 1) механическая ткань
- 2) проводящая ткань
- 3) покровная ткань
- 4) запасаящая ткань

Ответ.

2.2. Какую функцию выполняют сосуды, расположенные в стебле у растений?

Ответ. _____

3

3.1. Рассмотрите рисунок растительной клетки (рис. 1). Какая структура клетки обозначена на рисунке буквой А?

Ответ. _____

3.2. Каково значение этой структуры в жизнедеятельности клетки?

Ответ. _____

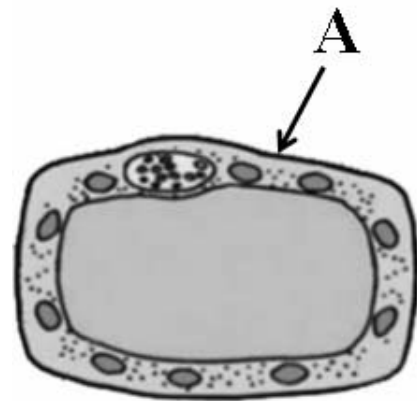


Рис. 1

3.3. Ольга рассмотрела кожицу листа одуванчика под микроскопом и сделала рисунок (рис. 2). Что она изобразила на рисунке под цифрой 1?

Ответ. _____

3.4. К какому типу ткани относятся изображённые на рис. 2 клетки?

Ответ. _____

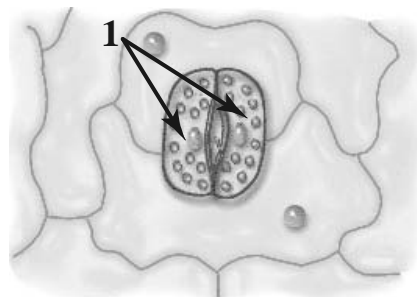


Рис. 2

4

Выберите из предложенного списка и вставьте в текст пропущенные слова, используя для этого их цифровые обозначения. Впишите номера выбранных слов на места пропусков в тексте.

СЕМЯ ФАСОЛИ

В сформированном зародыше фасоли хорошо различаются первые настоящие листья, корешок и верхушка побега – _____(А). В состав зародыша входит _____(Б) толстые семядоли, в которых отложены _____(В) вещества, необходимые для прорастания семени. Семядоли – это первые листья растения.

Список слов:

- 1) цветок
- 2) почечка
- 3) три
- 4) минеральное
- 5) органическое
- 6) два

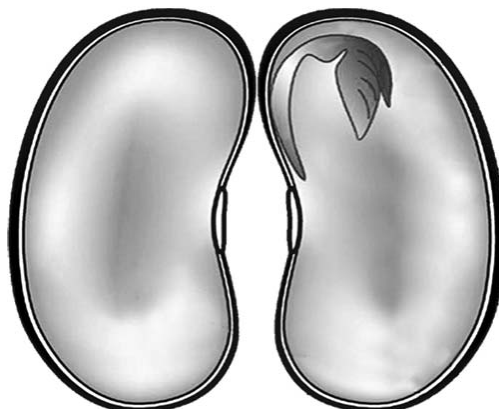
Запишите в таблицу выбранные цифры под соответствующими буквами.

Ответ.

А	Б	В

5

Рассмотрите изображение семени в разрезе и выполните задания.



5.1. Покажите стрелками и подпишите на рисунке *семенную кожуру, семядоли, зародышевый стебелёк*.

5.2. Какую функцию выполняет семенная кожура?

Ответ. _____

5.3. Какое вещество используют для доказательства наличия в семенах крахмала?

Ответ. _____

6

Как называют горизонтальные тонкие ползучие побеги без листьев с вытянутыми междоузлиями?

- 1) клубни
- 2) столоны (усы)
- 3) луковицы
- 4) черенки

Ответ.

7

Используя приведённую ниже таблицу, ответьте на вопросы.

Содержание минеральных веществ в растениях, мг/100 г

Растение	Калий	Кальций	Магний	Фосфор	Железо
Баклажан	238	15	9	34	0,4
Фасоль	240	50	44	59	0,47
Капуста брокколи	316	47	21	66	0,73
Сельдерей	430	72	50	77	1,3

Какое растение из перечисленных в таблице содержит меньше всего магния?

Ответ. _____

Какое растение следует включить в свой рацион питания человеку, у которого в организме недостаток калия?


Ответ. _____

По содержанию каких двух минеральных веществ из перечисленных в таблице сходны баклажан и фасоль?

Ответ. _____

8

Известно, что в прорастающих семенах происходит активный обмен веществ. Антон решил выяснить роль одного из таких условий, проведя следующий опыт. Он взял две прозрачные стеклянные банки. Одну банку он наполнил на 1/3 уже набухшими семенами гороха, а другую – сухими. Обе банки он закрыл стеклянными крышками. Через сутки Антон убрал стеклянные крышки и внёс в банку с сухими семенами горящую свечу. Свеча продолжала гореть. Когда же он внёс свечу в банку с набухшими семенами, она погасла.



8.1. Какой процесс, происходящий в семенах при их прорастании, изучал Антон?



Ответ. _____

8.2. Для чего в своём опыте Антон накрыл банки стеклянными крышками?



Ответ. _____

8.3. Какой вывод об изменении состава воздуха в банке при прорастании семян можно сделать по результату опыта, проведённого Антоном? Обоснуйте свой ответ.




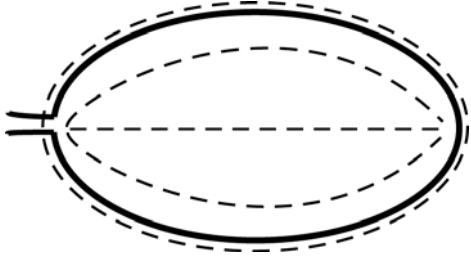


Ответ. _____


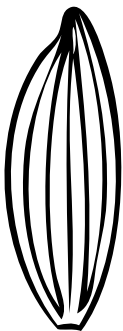


- 9) Рассмотрите изображение листа брусники и опишите его по следующему плану: форма листа, жилкование листа, тип листа по соотношению длины и ширины листовой пластинки (без черешка) и по расположению наиболее широкой части. Используйте при выполнении задания линейку и карандаш.



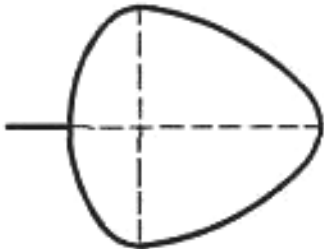
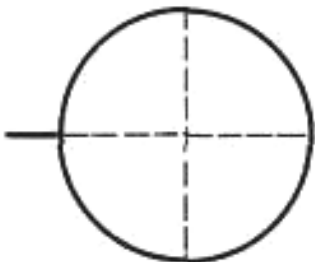
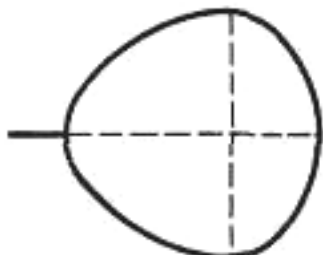
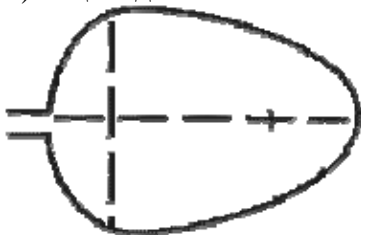
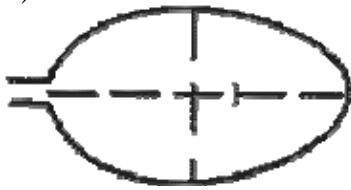

А. Форма листа

1) перисто-лопастная 	2) перисто-раздельная 
3) перисто-рассечённая 	4) цельная 

Б. Жилкование листа

			
1) параллельное	2) дуговидное	3) пальчатое	4) перисто-сетчатое

В. Тип листа по соотношению длины и ширины листовой пластинки (без черешка) и по расположению наиболее широкой части

Длина равна ширине или немного её превышает.		
1) широкояйцевидный 	2) округлый 	3) обратно-широкояйцевидный 
Длина превышает ширину в 1,5–2 раза.		
4) яйцевидный 	5) овальный 	6) обратно-яйцевидный 

Впишите в таблицу **номера** выбранных ответов под соответствующими буквами.

Ответ.













А	Б	В

10

Растения по-разному относятся к свету, теплу и влаге, и это учитывается цветоводами при разведении различных растений.





10.1. Опишите особенности растений бегонии и замиокулькаса, которые необходимо учитывать при их разведении в домашних условиях, используя для этого таблицу условных обозначений.

Условные обозначения:

1) Выносливость			3) Требуемый режим полива				
	выносливое	капризное		сухая земля	увлажнённая земля	постоянно влажная земля	вода в поддоне
2) Требуемая влажность воздуха			4) Отношение к свету				
	не требует опрыскивания	регулярное опрыскивание		прямые лучи	рассеянный свет	полутень	тень

Характеристики:



1)	2)	3)	4)
			

Бегония:





1) _____

 2) _____

 3) _____

 4) _____



1)	2)	3)	4)
			

Замиокулькас:

1) _____

 2) _____

 3) _____

 4) _____

10.2. По каким позициям из приведённых в описании эти растения имеют одинаковые характеристики?

Ответ. _____
