

10

В магазине продаётся кофе разных сортов. В таблице даны масса упаковки кофе и её цена. Нужно купить 1 кг кофе одного сорта. Сколько будет стоить самая дешёвая покупка? Ответ дайте в рублях.

| Сорт кофе | Масса, г | Цена, руб. |
|-----------|----------|------------|
| «Арабика» | 500 | 670 |
| «Илли» | 100 | 160 |
| «Робуста» | 250 | 340 |
| «Мокка» | 200 | 240 |

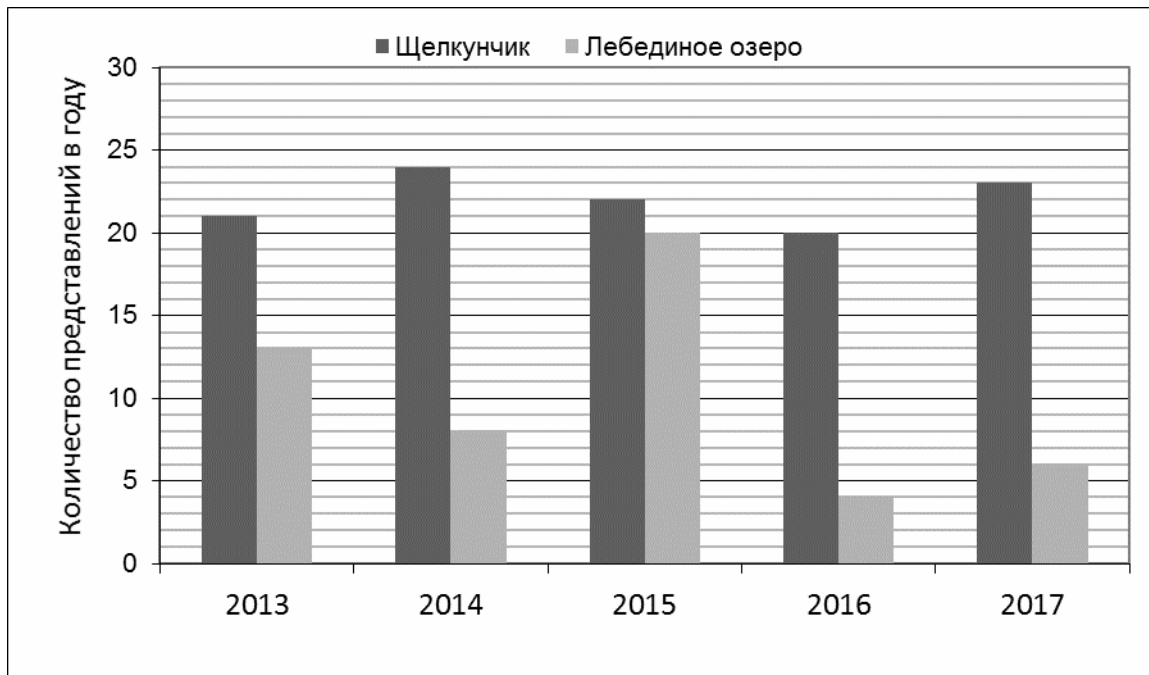
Запишите решение и ответ.

Решение.

Ответ:

11

На диаграмме показано, сколько раз в Большом театре шли балеты «Щелкунчик» и «Лебединое озеро» в течение пяти лет.



1) В каком году в Большом театре балет «Щелкунчик» шёл меньше раз, чем в другие годы?

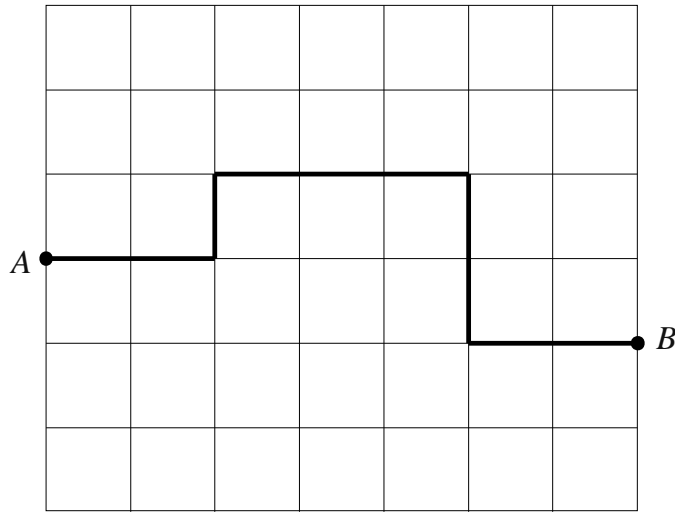
| | |
|--------|--|
| Ответ: | |
|--------|--|

2) Сколько всего раз шёл балет «Лебединое озеро» в Большом театре в течение трёх лет, с 2014 по 2016 год?

| | |
|--------|--|
| Ответ: | |
|--------|--|

12

План местности разбит на квадраты. Сторона квадрата равна 15 м.




1) На рисунке изображён путь из точки *A* в точку *B*. Найдите длину этого пути. Ответ дайте в метрах.



| | |
|--------|--|
| Ответ: | |
| | |

2) Изобразите какой-нибудь путь из точки *A* в точку *B* длиной 270 м.



13

Деревянный брус размером $10\text{ см} \times 10\text{ см} \times 500\text{ см}$ распилили на одинаковые пластины для паркета. Каждая пластина имеет размер $1\text{ см} \times 10\text{ см} \times 50\text{ см}$. Сколько пластин получилось из этого бруса?



| | |
|--------|--|
| Ответ: | |
| | |

14

У трёх мальчиков было поровну наклеек с футболистами, причём всего у них было больше 70, но меньше 80 наклеек. Когда в их класс пришёл новый ученик, мальчики подарили ему четверть своих наклеек. Сколько наклеек получил новенький?

Запишите решение и ответ.

Решение.

Ответ: