

Часть 1

В этой части работы даны задания по истории Древнего мира.

Прочтите перечень из четырёх тем и выполните задания, относящиеся к этому перечню.

Перечень тем

А) Древний Египет

Б) Древняя Греция

В) Персидская держава

Г) Древний Китай

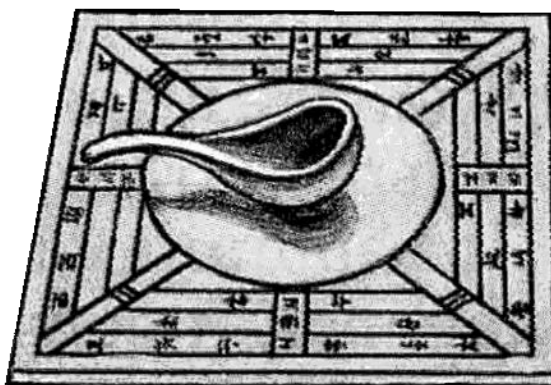
1

Каждая из иллюстраций, приведённых ниже, относится к одной из указанных в перечне тем. Установите соответствие между темами и иллюстрациями: к каждой теме подберите по одной иллюстрации.


1)



2)



3)



4)



Запишите в таблицу выбранные цифры под соответствующими буквами.

Ответ:

А	Б	В	Г

Перечень тем

А) Древний Египет

Б) Древняя Греция

В) Персидская держава

Г) Древний Китай

2

Прочитайте отрывок из исторического источника и определите, к какой из данных тем он относится. В ответе напишите букву, которой обозначена эта тема.

«Говоря коротко, я утверждаю, что всё наше государство – центр просвещения Эллады; каждый человек может, мне кажется, приспособиться у нас к многочисленным родам деятельности, и, выполняя своё дело с изяществом и ловкостью, всего лучше может добиться для себя независимого положения... Действительно, из нынешних государств только одно наше выдерживает испытание, чтобы стать выше толков о нём; только одно наше государство не возбуждает негодования в нападающих на него неприятелях в случае поражения их такими людьми (как мы), не вызывает упрека в подчинённых, что они будто бы покоряются людям, не достойным владычествовать. Создав могущество, подкреплённое ясными доказательствами и достаточно засвидетельствованное, мы послужим предметом удивления для современников и потомства, и нам нет никакой нужды ни в панегиристе Гомере, ни в ком другом, доставляющем минутное наслаждение своими песнями, в то время как истина, основанная на фактах, разрушит вызванное этими песнями представление».

Ответ:

Выберите одну тему из перечня, а затем выполните относящиеся к этому перечню задания только по выбранной Вами теме. Перед выполнением каждого из относящихся к перечню заданий укажите букву, которой обозначена выбранная тема. Указанные в заданиях буквы должны быть одинаковыми.

3

Выбранная тема: (укажите букву в перечне).

Прочитайте список слов (словосочетаний) и напишите слово (словосочетание), относящееся к выбранной Вами теме.

Ниневия, Анубис, суд Соломона, «царство стран», Хуанхэ, лаконичная речь.

Ответ: _____

Объясните, что обозначает это слово (словосочетание).

Ответ: _____

Перечень тем

А) Древний Египет

Б) Древняя Греция

В) Персидская держава

Г) Древний Китай

4

Выбранная тема: (укажите букву в перечне).

Прочитайте список событий (явлений, процессов) и напишите событие (явление, процесс), которое относится к выбранной Вами теме.

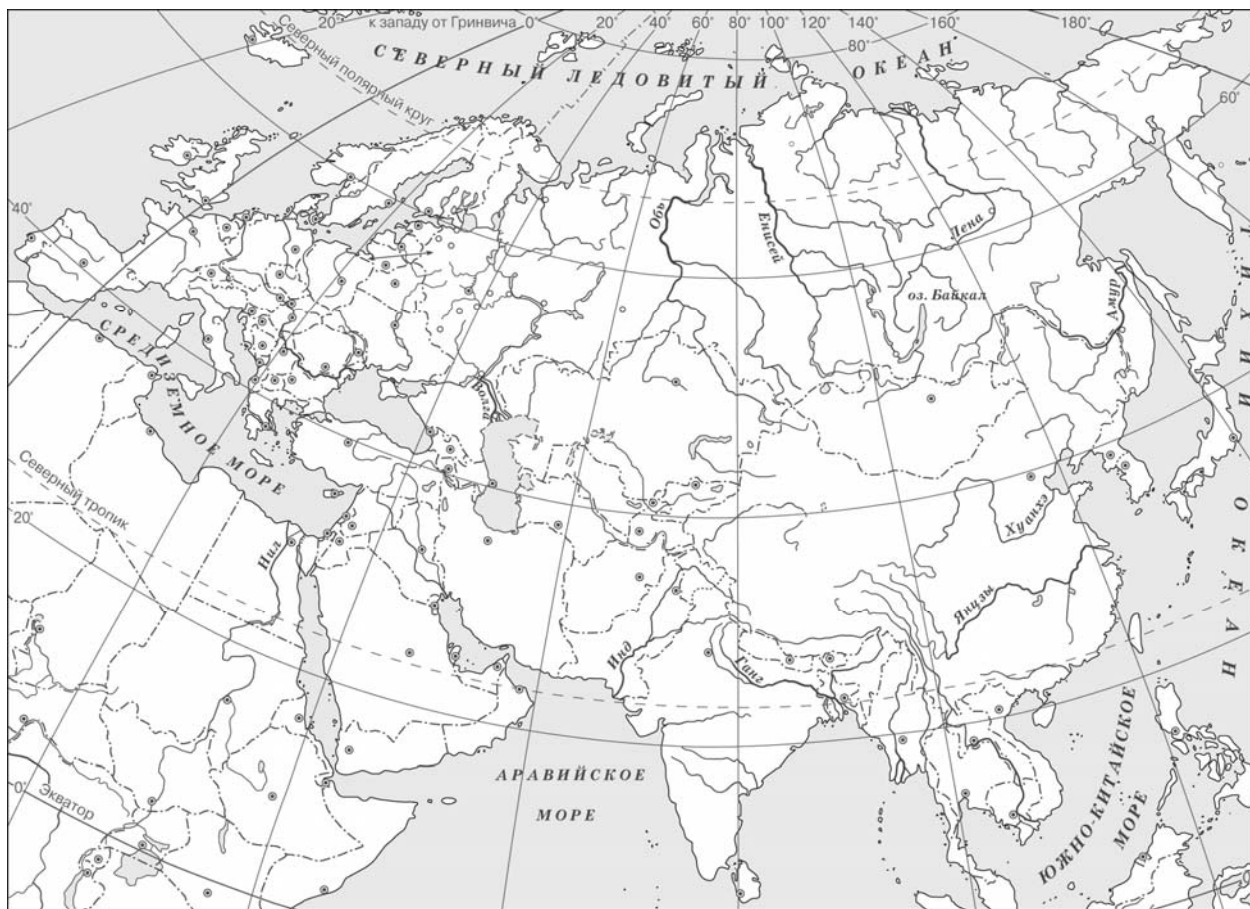
Спартанское воспитание, правление Эхнатона, правление царя Ашоки, Правление Цинь Шихуана, правление Хаммурапи, завоевания Кира Великого.

Ответ: _____

Используя знания по истории, расскажите об этом событии (явлении, процессе). Ваш рассказ должен содержать не менее двух исторических фактов.

5

Заштрихуйте на контурной карте один четырёхугольник, образованный градусной сеткой (параллелями и меридианами), в котором полностью или частично расположена страна, где существовала варна брахманов.



6

Используя знания исторических фактов, объясните, как природно-климатические условия повлияли на занятия жителей страны, где существовала варна брахманов.

Ответ: _____

Часть 2

Вспомните важнейшие события истории Вашего региона или населённого пункта и выполните задания 7 и 8.

7 Укажите одно любое название населённого пункта или улицы в вашем регионе, в котором отразилось какое-либо историческое событие (явление, процесс).

Ответ: _____

8 Какое значение имело событие (явление, процесс), отражённое в указанном Вами названии, для Вашего региона, или населённого пункта, или нашей страны, или мира в целом?

