

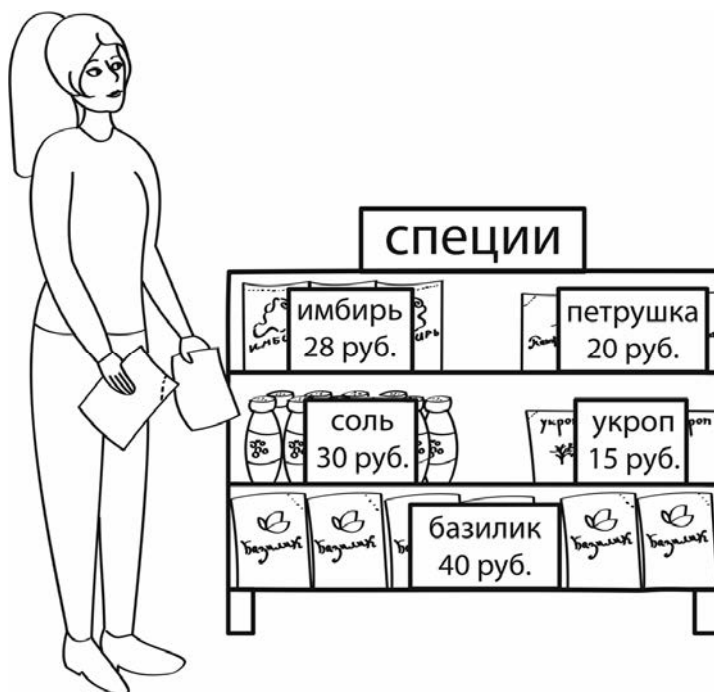
1 Вычисли: $72 : 2$.

□	Ответ:	
---	--------	--

2 Вычисли: $15 + (27 + 8) : 5$.

□	Ответ:	
---	--------	--

3 Рассмотрй рисунок и ответь на вопрос: сколько рублей нужно будет заплатить, если купить один пакет базилика и два пакета укропа?



Запиши решение и ответ.

□	Решение.	
□	Ответ:	

8

Железнодорожный состав перевозит 1220 т щебня. В составе 7 новых вагонов, в каждом из которых 80 т щебня, остальные вагоны — старые, в них по 60 т щебня. Сколько в составе старых вагонов?

Запиши решение и ответ.

Решение.

 Ответ:

9

Машины на стоянке стоят в семь рядов: в первом ряду четыре машины, во втором три, в третьем снова четыре, в четвёртом снова три и так далее.

1) Сколько на стоянке рядов по три машины?

 Ответ:

2) Сколько всего машин стоит на стоянке?

 Ответ:

10

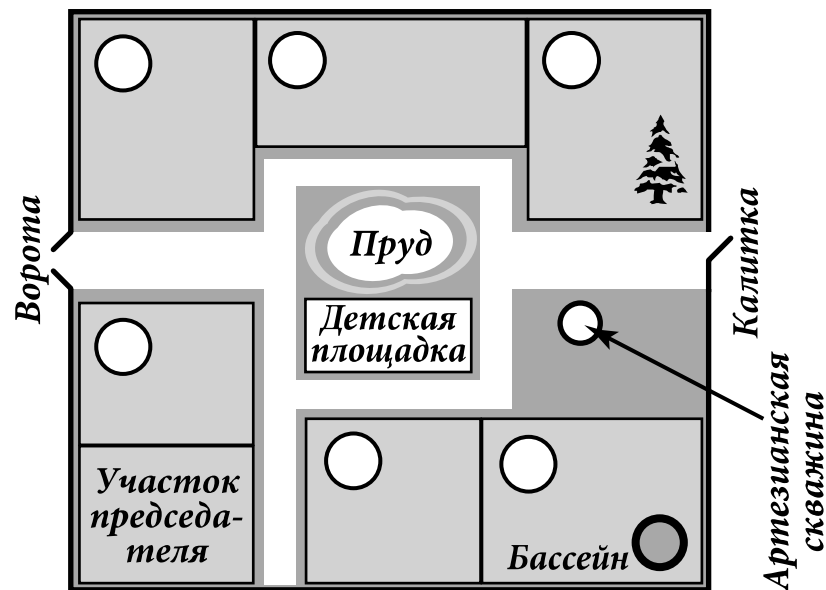
Марина написала сочинение «Наш дачный посёлок».

Мы в школе недавно проходили, что такое артезианская скважина. Это когда из земли бьёт фонтан воды. Но в нашем посёлке из артезианской скважины вода бьёт не фонтаном, а маленьким фонтанчиком — даже ведро не наполнишь. Если встать около скважины лицом к пруду, то справа будет большая ель на участке Семёна Львовича. Он живёт на даче круглый год. А около самого пруда живёт сосед Семёна Львовича дядя Миша. Отчества дяди Миши я не знаю. Спрошу у бабушки. Наш дом ближе всех к детской площадке, когда я была маленькая, я там играла и качалась на качелях. Наш сосед Иван Михайлович у себя на участке устроил бассейн, и иногда мы туда ходим купаться, когда жарко.

Если въехать в наш посёлок через ворота, то справа у ворот дача Елены Сергеевны. Она раньше была актрисой в театре, а теперь на пенсии. Слева от ворот, напротив дома Елены Сергеевны, дача, где живёт Алексей Михайлович. Его участок граничит с дачей дяди Миши, но они почему-то не дружат и часто ссорятся. Мы с бабушкой ни с кем не ссоримся. Мою бабушку все в посёлке уважают. Она врач, и, если что-нибудь случится, все соседи к нам приходят за помощью.

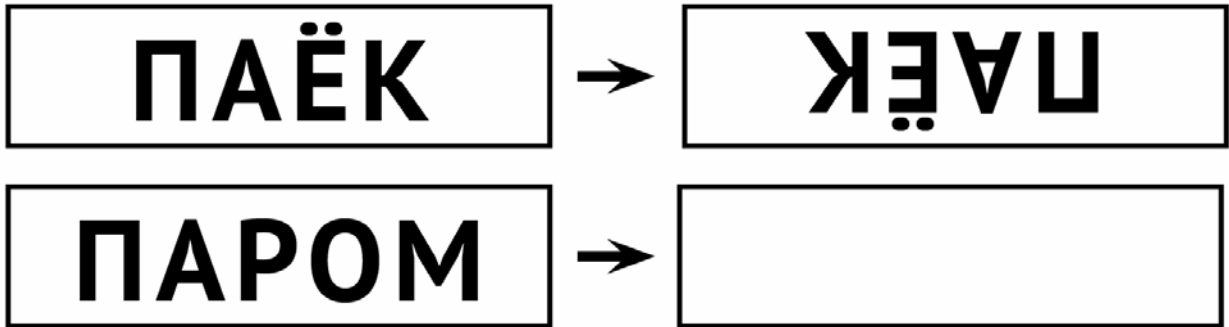
Рассмотри план дачного посёлка и, пользуясь описанием, которое дала Марина, обозначь цифрами на плане шесть участков.

1. Участок, где живёт автор сочинения Марина.
2. Участок Семёна Львовича.
3. Участок, где живёт дядя Миша.
4. Участок Ивана Михайловича.
5. Участок Елены Сергеевны.
6. Участок Алексея Михайловича.



11

Поверни слово по образцу:



12

В коробке лежат синие, красные и зелёные карандаши. Всего их 18 штук. Синих карандашей в 6 раз больше, чем зелёных, а красных меньше, чем синих. Сколько в коробке красных карандашей?

Запиши решение и ответ.

Решение.

 Ответ: