

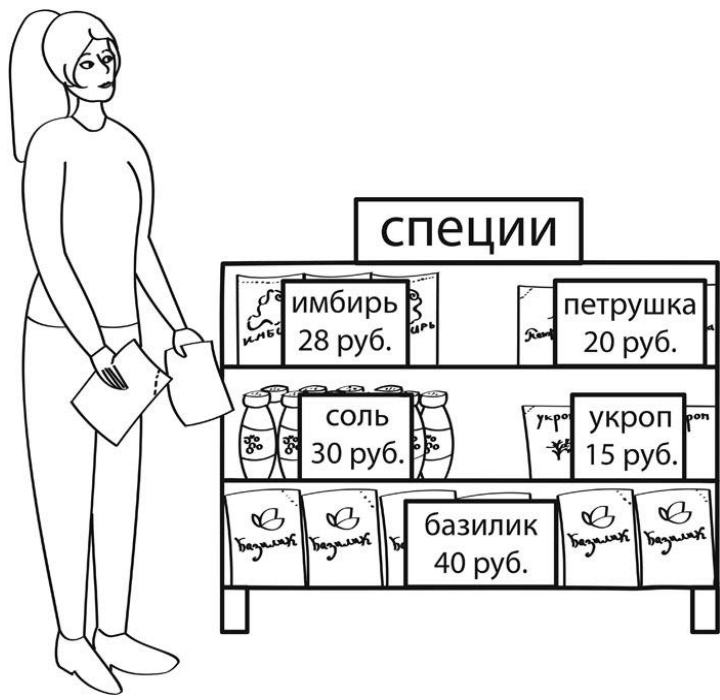
1 Вычисли: $20 \cdot 23$.

Ответ:	
--------	--

2 Вычисли: $95 - (62 - 58) \cdot 7$.

Ответ:	
--------	--

3 Рассмотри рисунок и ответь на вопрос: сколько рублей сдачи получит покупатель, расплатившись за один пакет имбиря и один пакет петрушки купюрой в 100 руб.?



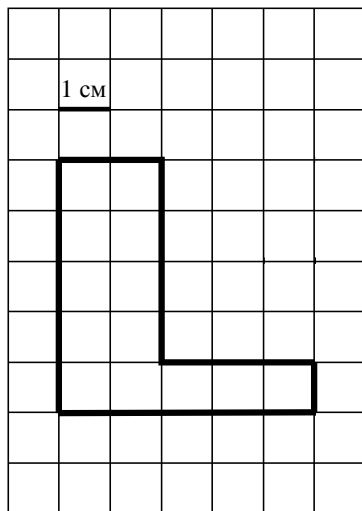
Запиши решение и ответ.

Решение.	
Ответ:	

4 Второе отделение концерта началось в 20 часов 5 минут и закончилось в 21 час 20 минут. Сколько времени продолжалось второе отделение?

□	Ответ:
---	--------


5 На клетчатой бумаге нарисована фигура. Сторона клетки равна 1 см.



1) Найди периметр этой фигуры. Ответ дай в сантиметрах.

□	Ответ:
---	--------

2) Нарисуй по клеточкам квадрат, периметр которого равен периметру этой фигуры.



□

8

На пошив одного жилета уходит 70 см ткани, а на пошив одной юбки — 80 см. Из 3 м ткани сшили два жилета и несколько юбок. Сколько сшили юбок?

Запиши решение и ответ.

Решение.

 Ответ:

9

Вова, Саша и Игорь ловили окуней. Вова поймал 12 окуней, Игорь поймал на 4 окуня меньше, чем Вова и Саша вместе. Один из троих ребят поймал 7 окуней.

1) Сколько окуней поймал Саша?

 Ответ:

2) Сколько всего окуней поймали ребята?

 Ответ:

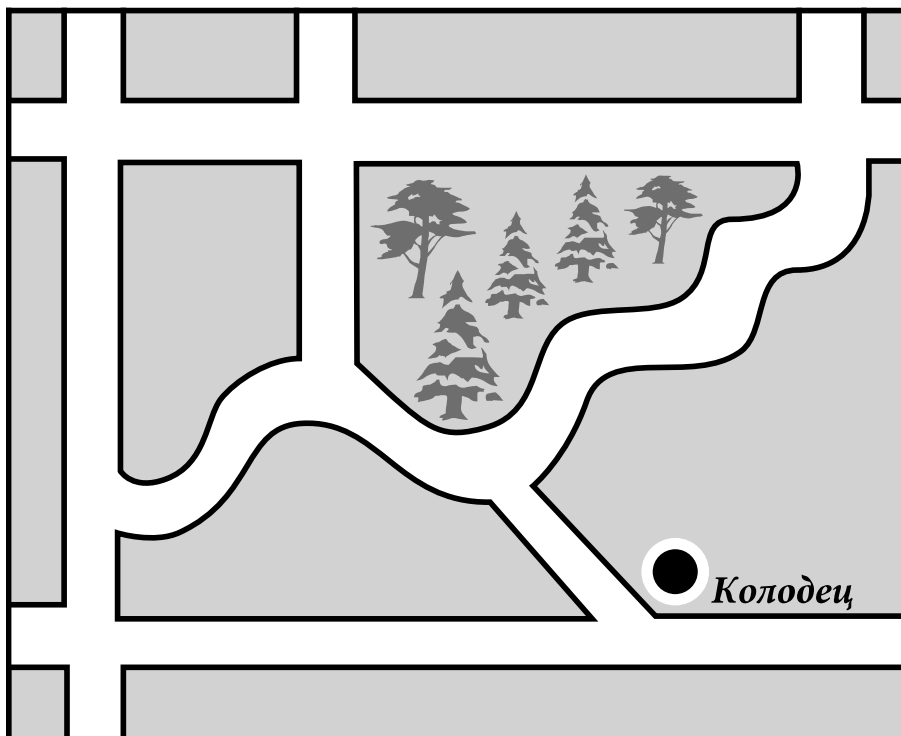
10

Миша написал сочинение «Мой посёлок».

Я живу в очень красивом месте. У нас небольшой уютный домик, а крыльцо выходит на улицу со смешным названием Змейка. Потому что она извивается, как змейка. Я однажды видел настоящую змею: она была серая и узкая. Даже похожа на нашу улицу, когда асфальт мокрый. Вы легко найдёте наш дом — он с оранжевой крышей на перекрёстке Змейки и короткого Лесного проезда. Лесной проезд ведёт наискосок от нашего дома мимо колодца к Еловой улице. Сейчас колодцем уже почти никто не пользуется, но он действует, и вода в нём вкусная.

Напротив нашего дома — парк, а за ним улица Большая. На самом деле она не очень большая. Самая обычная. Из парка можно выйти не только на Большую, но ещё на улицу Вешнюю. Если с Вешней повернуть к нам на Змейку, то совсем рядом опять наш дом. Мы с сестрой часто ходим к бабушке с бабушкой. Это недалеко. Нужно пройти по Змейке, но не поворачивать на Вешнюю, а пройти ещё немного до перекрёстка с улицей Гагарина. Тут нужно повернуть налево и пройти по улице Гагарина ещё чуть-чуть к Еловой (про Еловую я уже писал). Дедушкин дом как раз на перекрёстке.


Прочти сочинение и рассмотри план. Пользуясь описанием, которое дал Миша, надпиши названия всех улиц и проезда на плане.



11

Водитель видит в наружном зеркале заднего вида автомобиль, идущий сзади. Номер автомобиля тоже отражается в зеркале.

Какой номер у этого автомобиля, если смотреть на него не в зеркало?



Ответ:

12

Коля вырезал из бумаги несколько шестиугольников и семиугольников. Всего у вырезанных фигурок 40 вершин. Сколько шестиугольников вырезал Коля?

Запиши решение и ответ.

Решение.

Ответ: