





**Степень и логарифм**

Свойства степени при  $a > 0, b > 0$

$$a^{-n} = \frac{1}{a^n}$$

$$a^n \cdot a^m = a^{n+m}$$

$$\frac{a^n}{a^m} = a^{n-m}$$

$$(a^n)^m = a^{nm}$$

$$(ab)^n = a^n \cdot b^n$$

$$\left(\frac{a}{b}\right)^n = \frac{a^n}{b^n}$$

Свойства логарифма при  $a > 0, a \neq 1, b > 0, x > 0, y > 0$

$$a^{\log_a b} = b$$

$$\log_a a = 1$$

$$\log_a 1 = 0$$

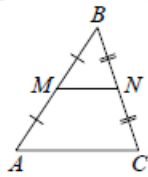
$$\log_a (xy) = \log_a x + \log_a y$$

$$\log_a \left(\frac{x}{y}\right) = \log_a x - \log_a y$$

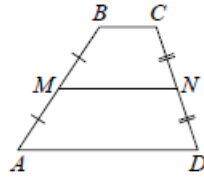
$$\log_a b^k = k \log_a b$$

**Геометрия**

Средняя линия треугольника и трапеции

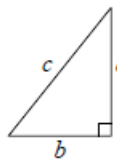


$MN$  — ср. лин.  
 $MN \parallel AC$   
 $MN = \frac{AC}{2}$



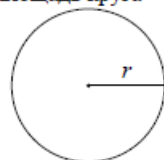
$BC \parallel AD$   
 $MN$  — ср. лин.  
 $MN \parallel AD$   
 $MN = \frac{BC + AD}{2}$

Теорема Пифагора



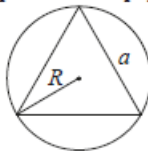
$$a^2 + b^2 = c^2$$

Длина окружности  
Площадь круга

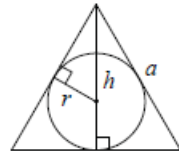


$C = 2\pi r$   
 $S = \pi r^2$

Правильный треугольник



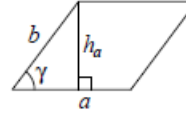
$R = \frac{a\sqrt{3}}{3}$   
 $S = \frac{a^2\sqrt{3}}{4}$



$r = \frac{a\sqrt{3}}{6}$   
 $h = \frac{a\sqrt{3}}{2}$

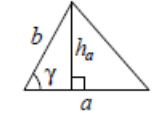
**Площади фигур**

Параллелограмм



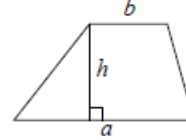
$S = ah_a$   
 $S = ab \sin \gamma$

Треугольник



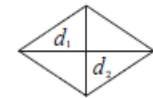
$S = \frac{1}{2} ah_a$   
 $S = \frac{1}{2} ab \sin \gamma$

Трапеция



$S = \frac{a+b}{2} \cdot h$

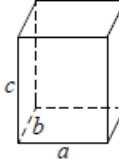
Ромб



$d_1, d_2$  — диагонали  
 $S = \frac{1}{2} d_1 d_2$

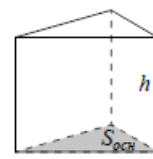
**Площади поверхностей и объёмы тел**

Прямоугольный параллелепипед



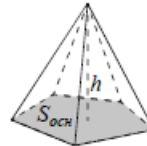
$V = abc$

Прямая призма



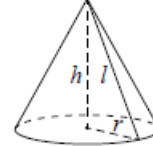
$V = S_{осн} h$

Пирамида



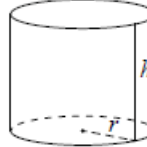
$V = \frac{1}{3} S_{осн} h$

Конус



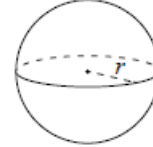
$V = \frac{1}{3} \pi r^2 h$   
 $S_{бок} = \pi r l$

Цилиндр



$V = \pi r^2 h$   
 $S_{бок} = 2\pi r h$

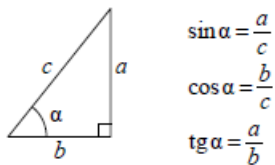
Шар



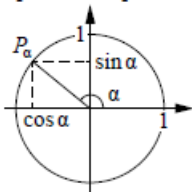
$V = \frac{4}{3} \pi r^3$   
 $S = 4\pi r^2$

**Тригонометрические функции**

Прямоугольный треугольник



Тригонометрическая окружность



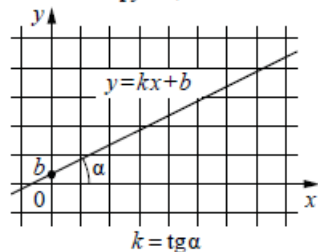
Основное тригонометрическое тождество:  $\sin^2 \alpha + \cos^2 \alpha = 1$

Некоторые значения тригонометрических функций

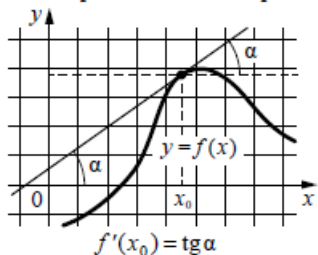
$\alpha$	радианы	0	$\frac{\pi}{6}$	$\frac{\pi}{4}$	$\frac{\pi}{3}$	$\frac{\pi}{2}$	$\pi$	$\frac{3\pi}{2}$	$2\pi$
	градусы	$0^\circ$	$30^\circ$	$45^\circ$	$60^\circ$	$90^\circ$	$180^\circ$	$270^\circ$	$360^\circ$
$\sin \alpha$		0	$\frac{1}{2}$	$\frac{\sqrt{2}}{2}$	$\frac{\sqrt{3}}{2}$	1	0	-1	0
$\cos \alpha$		1	$\frac{\sqrt{3}}{2}$	$\frac{\sqrt{2}}{2}$	$\frac{1}{2}$	0	-1	0	1
$\operatorname{tg} \alpha$		0	$\frac{\sqrt{3}}{3}$	1	$\sqrt{3}$	—	0	—	0

**Функции**

Линейная функция



Геометрический смысл производной



Ответом к каждому заданию является конечная десятичная дробь, или целое число, или последовательность цифр. Ответ сначала запишите в поле ответа в тексте работы, а затем перенесите в БЛАНК ОТВЕТОВ № 1 справа от номера соответствующего задания. Каждую цифру, знак «минус» и запятую пишите в отдельной клеточке в соответствии с приведёнными в бланке образцами. Единицы измерений писать не нужно.

- Найдите значение выражения  $(\frac{11}{5} - \frac{13}{6}) \cdot \frac{1}{90}$ .  
 Ответ: \_\_\_\_\_.
- Сырок стоит 18 рублей. Какой наибольшее число сырков можно купить на 170 рублей?  
 Ответ: \_\_\_\_\_.
- Установите соответствие между величинами и их возможными значениями: к каждому элементу первого столбца подберите соответствующий элемент из второго столбца.

**ВЕЛИЧИНЫ**

- А) масса двухлитрового пакета сока
- Б) масса взрослого кита
- В) масса косточки персика
- Г) масса таблетки лекарства

**ЗНАЧЕНИЯ**

- 1) 130 т
- 2) 2 кг
- 3) 400 мг
- 4) 8 г

В таблице под каждой буквой, соответствующей величине, укажите номер её возможного значения.

Ответ:

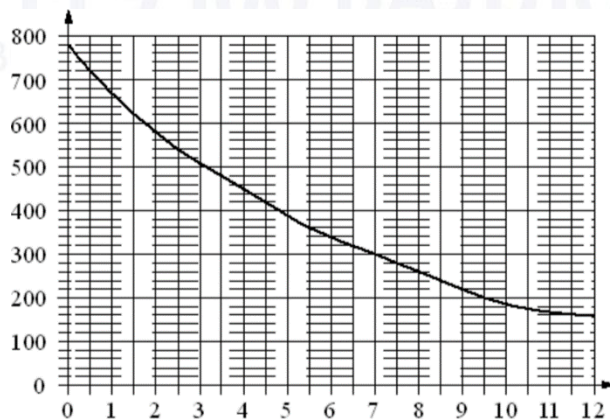
А	Б	В	Г



ТРЕНИРОВОЧНЫЙ КИМ № 211011

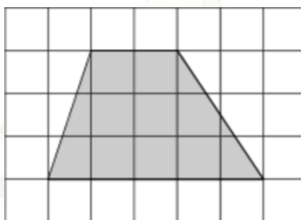


- 4 На графике изображена зависимость атмосферного давления (в миллиметрах ртутного столба) от высоты над уровнем моря (в километрах). Определите по графику, на какой высоте (в километрах) летит воздушный шар, если барометр, находящийся в корзине шара, показывает давление 580 миллиметров ртутного столба.



Ответ: \_\_\_\_\_.

- 5 План местности разбит на клетки. Каждая клетка обозначает квадрат 1 м × 1 м. Найдите площадь участка, выделенного на плане. Ответ дайте в квадратных метрах.



Ответ: \_\_\_\_\_.

- 6 Товар на распродаже уценили на 50%, при этом он стал стоить 570 рублей. Сколько рублей стоил товар до распродажи?

Ответ: \_\_\_\_\_.

- 7 Найдите значение выражения

$$(\sqrt{17} - 3)(\sqrt{17} + 3).$$

Ответ: \_\_\_\_\_.

- 8 Площадь треугольника вычисляется по формуле  $S = \frac{1}{2}bc \sin \alpha$ , где  $b$  и  $c$  — две стороны треугольника, а  $\alpha$  — угол между ними. Пользуясь этой формулой, найдите площадь  $S$ , если  $b = 18$ ,  $c = 16$  и  $\sin \alpha = \frac{1}{3}$ .

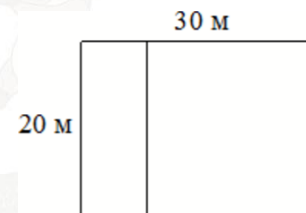
Ответ: \_\_\_\_\_.

- 9 Найдите корень уравнения

$$\log_3(2x + 4) - \log_3 2 = \log_3 5.$$

Ответ: \_\_\_\_\_.

- 10 Дачный участок имеет форму прямоугольника со сторонами 20 метров и 30 метров. Хозяин планирует обнести его забором и разделить таким же забором на две части, одна из которых имеет форму квадрата. Найдите суммарную длину забора в метрах.



Ответ: \_\_\_\_\_.

- 11 На борту самолёта 23 места рядом с запасными выходами и 22 места за перегородками, разделяющими салоны. Остальные места неудобны для пассажира высокого роста. Пассажир Л. высокого роста. Найдите вероятность того, что на регистрации при случайном выборе места пассажиру Л. достанется удобное место, если всего в самолёте 300 мест.

Ответ: \_\_\_\_\_.



- 12** В городском парке имеется пять аттракционов: карусель, колесо обозрения, автодром, «Ромашка» и «Весёлый тир». В кассах продаётся шесть видов билетов, каждый из которых позволяет посетить один или два аттракциона. Сведения о стоимости билетов представлены в таблице.

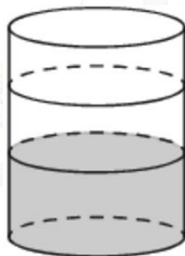
Номер билета	Набор аттракционов	Стоимость (руб.)
1	«Весёлый тир», автодром	300
2	Колесо обозрения, «Весёлый тир»	400
3	Автодром, «Ромашка»	400
4	Колесо обозрения	150
5	Карусель, «Ромашка»	300
6	Карусель, колесо обозрения	350

Какие билеты должен купить Андрей, чтобы посетить все пять аттракционов и затратить не более 750 рублей?

В ответе укажите какой-нибудь один набор номеров билетов без пробелов, запятых и других дополнительных символов.

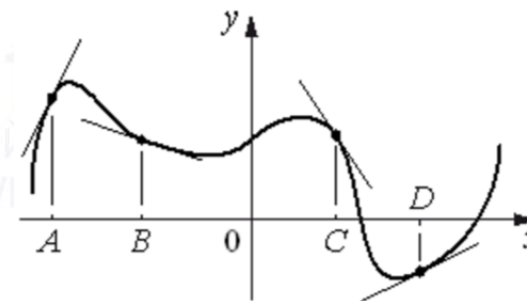
Ответ: \_\_\_\_\_.

- 13** В бак, имеющий форму цилиндра, налито 5 л воды. После полного погружения в воду детали уровень воды в баке поднялся в 1,2 раза. Найдите объём детали. Ответ дайте в кубических сантиметрах, зная, что в одном литре 1000 кубических сантиметров.



Ответ: \_\_\_\_\_.

- 14** На рисунке изображены график функции и касательные, проведённые к нему в точках с абсциссами  $A$ ,  $B$ ,  $C$  и  $D$ .



В правом столбце указаны значения производной функции в точках  $A$ ,  $B$ ,  $C$  и  $D$ . Пользуясь графиком, поставьте в соответствие каждой точке значение производной функции в ней.

<u>ТОЧКИ</u>	<u>ЗНАЧЕНИЯ ПРОИЗВОДНОЙ</u>
$A$	1) $-1,5$
$B$	2) $0,5$
$C$	3) $2$
$D$	4) $-0,3$

В таблице под каждой буквой укажите соответствующий номер.

Ответ:

$A$	$B$	$C$	$D$



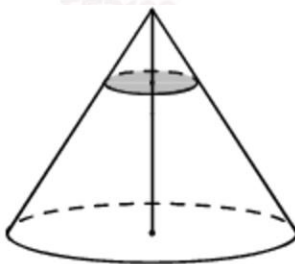


- 15 Найдите площадь прямоугольного треугольника, если его гипотенуза равна  $\sqrt{17}$ , а один из катетов равен 1.



Ответ: \_\_\_\_\_.

- 16 Объем конуса равен 27. Через точку, делящую высоту конуса в отношении 1:2, считая от вершины, проведена плоскость, параллельная основанию. Найдите объем конуса, отсекаемого от данного конуса проведенной плоскостью.



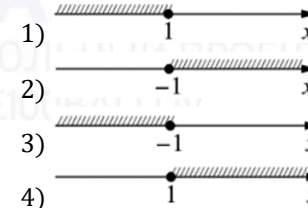
Ответ: \_\_\_\_\_.

- 17 Каждому из четырех неравенств в левом столбце соответствует одно из решений в правом столбце. Установите соответствие между неравенствами и их решениями.

**НЕРАВЕНСТВА**

- А)  $2^x \geq 2$
- Б)  $0,5^x \geq 2$
- В)  $0,5^x \leq 2$
- Г)  $2^x \leq 2$

**РЕШЕНИЯ**



Впишите в приведенную в ответе таблицу под каждой буквой соответствующий решению номер.

Ответ:

А	Б	В	Г

- 18 Каждый раз, когда Надя приезжает в деревню к бабушке в гости, бабушка заплетает ей косички. Также Надя заплетает себе косички всегда, когда идет на физкультуру. Выберите утверждения, которые верны при приведенных условиях.

- 1) Каждый раз, когда у Нади заплетены косички, она находится в деревне.
- 2) Если Надя без косичек, значит, она не у бабушки в гостях.
- 3) Если Надя без косичек, значит, сегодня физкультура.
- 4) Когда Надя сдаёт норматив по бегу на физкультуре, она с косичками.

В ответе запишите номера выбранных утверждений без пробелов, запятых и других дополнительных символов.

Ответ: \_\_\_\_\_.

vk.com/ege100ballov



- 19 Найдите натуральное число, большее 1340, но меньше 1640, которое делится на каждую свою цифру и все цифры которого различны и не равны нулю. В ответе укажите какое-нибудь одно такое число.

Ответ: \_\_\_\_\_.

- 20 Плиточник должен уложить  $240 \text{ м}^2$  плитки. Если он будет укладывать на  $6 \text{ м}^2$  в день больше, чем запланировал, то закончит работу на 9 дней раньше. Сколько квадратных метров плитки в день планирует укладывать плиточник?

Ответ: \_\_\_\_\_.

- 21 В таблице три столбца и несколько строк. В каждую клетку таблицы вписали по натуральному числу так, что сумма всех чисел в первом столбце равна 103, во втором – 97, в третьем – 93, а сумма чисел в каждой строке больше 21, но меньше 24. Сколько всего строк в таблице?

Ответ: \_\_\_\_\_.

**Не забудьте перенести все ответы в бланк ответов № 1 в соответствии с инструкцией по выполнению работы. Проверьте, чтобы каждый ответ был записан в строке с номером соответствующего задания.**

#### О проекте «Пробный ЕГЭ каждую неделю»

Данный ким составлен командой всероссийского волонтерского проекта «ЕГЭ 100баллов» <https://vk.com/ege100ballov> и безвозмездно распространяется для любых некоммерческих образовательных целей.

#### Нашли ошибку в варианте?

**Напишите нам, пожалуйста, и мы обязательно её исправим!**

Для замечаний и пожеланий: [https://vk.com/topic-10175642\\_47937899](https://vk.com/topic-10175642_47937899)










































(также доступны другие варианты для скачивания)

СОСТАВИТЕЛЬ ВАРИАНТА:	
<b>ФИО:</b>	Евгений Пифагор
<b>Предмет:</b>	Математика
<b>Стаж:</b>	10 лет готовлю к ЕГЭ и ОГЭ
<b>Регалии:</b>	Набрал 98 баллов на ЕГЭ по математике (профиль) <a href="#">55 учеников</a> набрали 90-100 баллов на ЕГЭ 2021 Высшее образование (ТГУ, 2009-2014) Победитель трёх олимпиад по высшей математике
<b>Аккаунт и группа ВК:</b>	<a href="https://vk.com/eugene10">https://vk.com/eugene10</a> <a href="https://vk.com/shkolapifagora">https://vk.com/shkolapifagora</a>
<b>Ютуб и инстаграм:</b>	<a href="https://www.youtube.com/user/ShkolaPifagora">https://www.youtube.com/user/ShkolaPifagora</a> <a href="https://www.instagram.com/shkola_pifagora/">https://www.instagram.com/shkola_pifagora/</a>




**Система оценивания экзаменационной работы по математике  
(базовый уровень)**

Правильное решение каждого из заданий 1–21 оценивается 1 баллом. Задание считается выполненным верно, если экзаменуемый дал правильный ответ в виде целого числа или конечной десятичной дроби, или последовательности цифр.

Номер задания	Правильный ответ	Текстовое решение	Видео решение
1	3		
2	9		
3	2143		
4	2		
5	10,5		
6	1140		
7	8		
8	48		
9	3		
10	120		
11	0,15		
12	145		
13	1000		
14	3412		
15	2		
16	1		
17	4321		
18	24		
19	1362 или 1368 или 1395 или 1632		
20	10		
21	13		

ЕГЭ 100 БАЛЛОВ  
ВСЕРОССИЙСКИЙ ШКОЛЬНЫЙ ПРОЕКТ  
VK.COM/EGE100BALLOV



vk.com/ege100ballov

