

**Всероссийская проверочная работа**  
**ДЛЯ ОЦЕНКИ МЕТАПРЕДМЕТНЫХ РЕЗУЛЬТАТОВ ОБУЧЕНИЯ**  
**в соответствии с федеральным государственным образовательным**  
**стандартом среднего общего образования**  
**для обучающихся по программам среднего профессионального образования,**  
**завершивших в предыдущем учебном году освоение общеобразовательных предметов,**  
**проходящих обучение по очной форме на базе основного общего образования.**

**Вариант 28637**

**Инструкция по выполнению работы**

Проверочная работа включает в себя 22 задания.

На выполнение диагностической работы отводится 2 часа (120 минут).

Ответами к заданиям 1, 2, 5, 6, 8, 9–12, 17–21 являются цифра, последовательность цифр или слово (словосочетание).

Задания 3, 4, 7, 13–16, 22 требуют полного ответа (дать объяснение, описание или обоснование; высказать и аргументировать собственное мнение). В случае записи неверного ответа зачеркните его и запишите рядом новый.

При выполнении работы не разрешается пользоваться учебниками, рабочими тетрадями и другими справочными материалами.

При выполнении заданий Вы можете пользоваться черновиком. Записи в черновике проверяться и оцениваться не будут.

Советуем выполнять задания в том порядке, в котором они даны. В целях экономии времени пропускайте задание, которое не удаётся выполнить сразу, и переходите к следующему. Если после выполнения всей работы у Вас останется время, то Вы сможете вернуться к пропущенным заданиям.

Баллы, полученные Вами за выполненные задания, суммируются. Постарайтесь выполнить как можно больше заданий и набрать наибольшее количество баллов.

***Желаем успеха!***

*Таблица для внесения баллов участника*

Номер задания	1	2	3	4	5	6	7	8	9	10	11	12	13	14
Баллы														
Номер задания	15(1)	15(2)	16	17	18	19	20	21	22	Сумма баллов	Отметка за работу			
Баллы														

1

Установите соответствие между историческими деятелями и информацией, относящейся к ним: к каждой позиции первого столбца подберите соответствующую позицию из второго столбца.

## ИСТОРИЧЕСКИЕ ДЕЯТЕЛИ

- А) М.В. Фрунзе  
Б) Л.И. Брежнев  
В) В.В. Талалихин

## ИНФОРМАЦИЯ

- 1) Генеральный секретарь ЦК КПСС  
2) военачальник Красной армии во время Гражданской войны  
3) министр иностранных дел СССР, заключивший пакт о ненападении с Германией в 1939 г.  
4) лётчик, совершивший в 1941 г. ночной таран

Запишите в таблицу выбранные цифры под соответствующими буквами.

Ответ:

А	Б	В

2

Прочитайте четыре предложения. Два из них содержат события, процессы, явления, являющиеся причинами (предпосылками). Другие два содержат последствия этих событий, процессов, явлений. Подберите для каждой из причин (предпосылок) соответствующее ей последствие. Номера соответствующих предложений запишите в таблицу.

- 1) Произошло временное потепление отношений между СССР и США.  
2) Началась массовая реабилитация жертв сталинского режима.  
3) Н.С. Хрущёв выступил на XX съезде КПСС с докладом «О культе личности и его последствиях».  
4) Карибский кризис был преодолен.

	Номер предложения, содержащего			
	причину (предпосылку) 1	последствие 1	причину (предпосылку) 2	последствие 2
Ответ:				

3

Рассмотрите изображение и выполните задание.



Укажите название государства, вопрос о сохранении которого решался в ходе голосования, отражённого на данном плакате.

Ответ: \_\_\_\_\_  
\_\_\_\_\_

Объясните, почему распад этого государства был важен а) для нашей страны, б) для всего человечества.

Ответ: \_\_\_\_\_  
\_\_\_\_\_  
\_\_\_\_\_  
\_\_\_\_\_  
\_\_\_\_\_  
\_\_\_\_\_  
\_\_\_\_\_  
\_\_\_\_\_  
\_\_\_\_\_  
\_\_\_\_\_



4

Прочтите отрывок из книги руководителя СССР и выполните задание.

«Придя на XXVII съезде к концепции противоречивого, но взаимосвязанного, взаимозависимого, по сути дела, целостного мира, мы стали на этой основе выстраивать и свою внешнюю политику.

Надо мыслить и действовать по-новому. Причём история торопит, не даёт времени на раскачку. Завтра может быть поздно. А послезавтрашний день может и не наступить вовсе.

Единственный путь к безопасности – это путь политических решений... Подлинная, равная безопасность в наш век гарантируется всё более низким уровнем стратегического баланса, из которого необходимо полностью исключить ядерное и другие виды оружия массового уничтожения. Новое политическое мышление столь же категорично диктует характер военных доктрин. Они должны быть строго оборонительными...

Основа всеобщей безопасности в наше время – это признание за каждым народом права выбора собственного пути социального развития, это отказ от вмешательства во внутренние дела других государств, это уважение к другим в сочетании с объективным, самокритичным взглядом на собственное общество. Народ может выбрать и капитализм, и социализм. Это его суверенное право».

Укажите десятилетие, к которому относятся изменения во внешней политике СССР, описываемые в отрывке. Что, по словам автора, является принципиальной основой всеобщей безопасности в наше время?

Назовите одну любую инициативу СССР в рамках внешнеполитической концепции, упоминаемой в отрывке.

□

Ответ: \_\_\_\_\_  
\_\_\_\_\_  
\_\_\_\_\_  
\_\_\_\_\_  
\_\_\_\_\_  
\_\_\_\_\_  
\_\_\_\_\_  
\_\_\_\_\_  
\_\_\_\_\_  
\_\_\_\_\_  
\_\_\_\_\_  
\_\_\_\_\_  
\_\_\_\_\_  
\_\_\_\_\_

**Ознакомьтесь с перечнем и изображениями памятников культуры и выполните задания 5 и 6.**

- 1) роман «Анна Каренина»;
- 2) роман «Живые и мёртвые»;

3)



4)



5

Какие из приведённых памятников культуры были созданы в XX в.? Выберите два памятника культуры и запишите в таблицу цифры, под которыми они указаны.

Ответ:

--	--

6

Одним из создателей какого из приведённых памятников культуры является К.М. Симонов? Укажите порядковый номер этого памятника культуры.

Ответ:

--

7

Рассмотрите изображение и выполните задание.



Укажите год, когда был создан данный плакат. Какой смысл имеет изображение на плакате разорванного международного договора?

Ответ: \_\_\_\_\_

\_\_\_\_\_

\_\_\_\_\_

\_\_\_\_\_

\_\_\_\_\_

\_\_\_\_\_

\_\_\_\_\_

\_\_\_\_\_

\_\_\_\_\_

\_\_\_\_\_

\_\_\_\_\_

\_\_\_\_\_

\_\_\_\_\_

\_\_\_\_\_

\_\_\_\_\_

\_\_\_\_\_

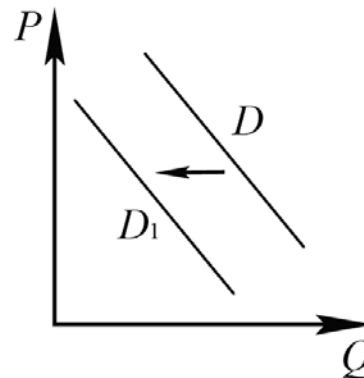
\_\_\_\_\_

\_\_\_\_\_

\_\_\_\_\_

\_\_\_\_\_

8 На рисунке отражено изменение спроса на модель телевизора на соответствующем рынке: линия спроса  $D$  переместилась в новое положение –  $D_1$ . ( $P$  – цена;  $Q$  – количество.)



Какие из перечисленных факторов могут вызвать такое изменение? Запишите цифры, под которыми они указаны.

- 1) появление негативных отзывов о данной модели в Интернете
- 2) наличие более дешёвых моделей со сходными характеристиками
- 3) проведение удачной рекламной кампании
- 4) появление моды на другие модели телевизоров
- 5) увеличение числа покупателей телевизоров

□ Ответ: \_\_\_\_\_.

9 Установите соответствие между примерами и видами налогов и сборов согласно Налоговому кодексу РФ: к каждой позиции, данной в первом столбце, подберите соответствующую позицию из второго столбца.

ПРИМЕРЫ

ВИДЫ НАЛОГОВ И СБОРОВ В РФ

- |  |  |
|--|--|
| <p>А) налог на доходы физических лиц<br/>         Б) торговый сбор<br/>         В) налог на добавленную стоимость<br/>         Г) земельный налог<br/>         Д) транспортный налог</p> | <p>1) федеральные<br/>         2) региональные<br/>         3) местные</p> |
|--|--|

Запишите в таблицу выбранные цифры под соответствующими буквами.

□ Ответ:

А	Б	В	Г	Д

10 Какие из перечисленных позиций относятся к основам конституционного строя РФ? Запишите цифры, под которыми они указаны.

- 1) наличие официальной идеологии
- 2) признание равноправия различных форм собственности
- 3) единство экономического пространства
- 4) социальное государство
- 5) приоритет законодательной власти

□ Ответ: \_\_\_\_\_.

11

Установите соответствие между полномочиями и субъектами государственной власти РФ, реализующими эти полномочия: к каждой позиции, данной в первом столбце, подберите соответствующую позицию из второго столбца.

## ПОЛНОМОЧИЯ

- А) подписание и обнародование федеральных законов
- Б) осуществление помилования
- В) управление федеральной собственностью
- Г) заслушивание ежегодных отчётов Центрального банка Российской Федерации
- Д) обеспечение исполнения федерального бюджета

СУБЪЕКТЫ  
ГОСУДАРСТВЕННОЙ ВЛАСТИ  
РФ

- 1) Президент РФ
- 2) Правительство РФ
- 3) Государственная Дума

Запишите в таблицу выбранные цифры под соответствующими буквами.

Ответ:

А	Б	В	Г	Д

12

Накануне официальной регистрации брака совершеннолетние граждане РФ Нина и Олег решили заключить брачный договор. Найдите в приведённом списке позиции, связанные с формой и возможным содержанием брачного договора, и запишите **цифры**, под которыми они указаны.

- 1) распределение домашних обязанностей
- 2) нотариальное удостоверение
- 3) занятость и трудоустройство супругов
- 4) письменное оформление договора
- 5) способы участия в доходах друг друга
- 6) место жительства детей в случае развода родителей

Ответ: \_\_\_\_\_.



13

Совершеннолетний гражданин России Карасёв работает главным инженером на химическом комбинате. Уставный капитал предприятия разделён на определённое количество ценных бумаг, владельцы которых, в том числе Карасёв, ежегодно получают часть прибыли в виде дивидендов.

- 1) Какова организационно-правовая форма данного предприятия? (Укажите конкретный вид (тип) хозяйственного общества.)
- 2) Как владельцы ценных бумаг несут риск убытков, связанных с деятельностью данного предприятия?
- 3) Отвечают ли они по обязательствам данного предприятия?
- 4) Какие обязанности возложены на Карасёва как работника данного предприятия? (Назовите любые две обязанности работника в соответствии с Трудовым кодексом РФ.)

Ответ на первый вопрос: \_\_\_\_\_

\_\_\_\_\_

Ответ на второй вопрос: \_\_\_\_\_

\_\_\_\_\_

Ответ на третий вопрос: \_\_\_\_\_

\_\_\_\_\_

Ответ на четвёртый вопрос: \_\_\_\_\_

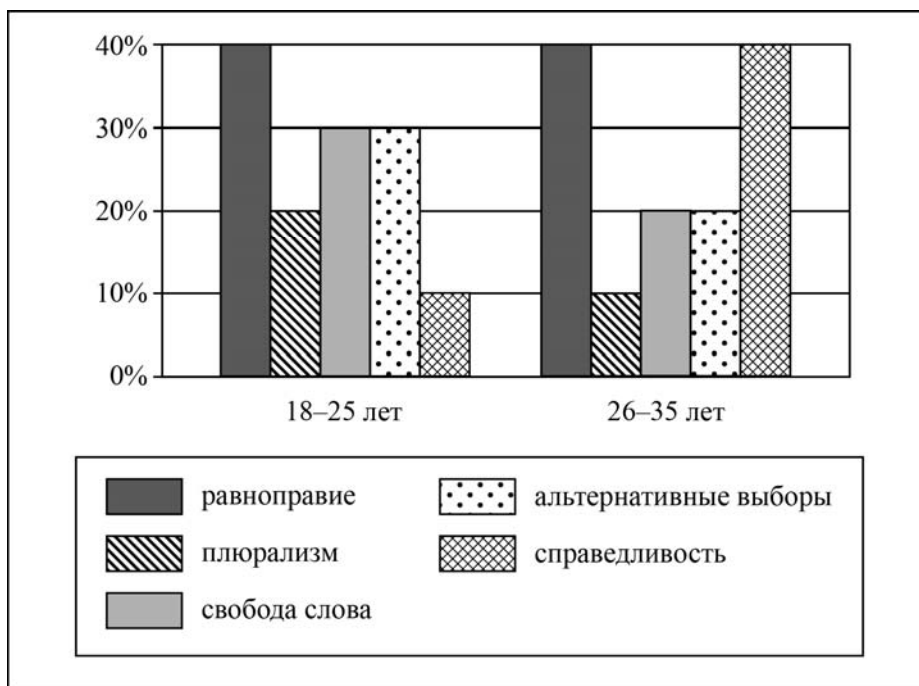
\_\_\_\_\_

\_\_\_\_\_



14

В ходе социологического опроса граждан страны Z им задавали вопрос: «Какие демократические ценности вы считаете наиболее важными?» (можно было дать несколько ответов). Результаты опроса (в % от числа отвечавших) представлены в виде диаграммы.



Сформулируйте по одному выводу: а) о сходстве; б) о различии в позициях групп опрошенных. Выскажите предположение о том, чем объясняются указанные Вами: а) сходство; б) различие.

Ответ: \_\_\_\_\_

\_\_\_\_\_

\_\_\_\_\_

\_\_\_\_\_

\_\_\_\_\_

\_\_\_\_\_

\_\_\_\_\_

\_\_\_\_\_

\_\_\_\_\_

\_\_\_\_\_

\_\_\_\_\_

\_\_\_\_\_

\_\_\_\_\_

\_\_\_\_\_

\_\_\_\_\_

\_\_\_\_\_

\_\_\_\_\_

\_\_\_\_\_

\_\_\_\_\_

\_\_\_\_\_

\_\_\_\_\_

\_\_\_\_\_

15

Назовите не менее четырёх действий, которые гражданин должен выполнить в случае, если на улице он стал свидетелем аварии на магистрали горячего водоснабжения, и есть пострадавшие

Ответ: \_\_\_\_\_

---

---

---

---

---

---

---

---

---

---

16

Вы находитесь в горах. Внезапно начался камнепад. Камнепады представляют опасность для здоровья человека. Объясните, в чём состоит опасность.

Назовите не менее двух действий, которые нужно предпринять, если человек попал в камнепад.

Ответ: \_\_\_\_\_

---

---

---

---

---

---

---

---

---

---

17

Определите город России по его краткому описанию.

Этот город, находящийся на границе Европы и Азии, был заложен в первой половине XVIII в., в пойме реки Исеть, в самой пониженной части гор, «посередине всех заводов». До начала XX в. город был центром горнозаводского дела, в том числе обработки камня (яшмы, малахита, орлеца и др.). Сейчас это город-миллионер с мощной промышленностью, крупный центр образования, науки и культуры. Название этого города не совпадает с названием области, административным центром которой он является.

Ответ: \_\_\_\_\_.

18

Прочитайте приведённый ниже текст, в котором пропущен ряд слов (аббревиатур). Выберите из предлагаемого списка слова (аббревиатуры), которые необходимо вставить на места пропусков.

### Географические особенности хозяйства Восточной Сибири

Восточная Сибирь выделяется среди географических районов России большими объёмами производства продукции \_\_\_\_\_ (А) металлургии. Многие предприятия этой отрасли ориентируются не только на места добычи сырья, но и на источники электроэнергии, которая здесь производится в основном на \_\_\_\_\_ (Б). Положение Восточной Сибири преимущественно в зоне тайги способствовало здесь широкому развитию \_\_\_\_\_ (В) промышленности. В хозяйстве Восточной Сибири большую роль играет военно-промышленный комплекс.

Выбирайте последовательно одно слово (аббревиатуру) за другим, мысленно вставляя на места пропусков слова (аббревиатуры) из списка в нужной форме. Обратите внимание на то, что слов (аббревиатур) в списке больше, чем Вам потребуется для заполнения пропусков. Каждое слово (аббревиатура) может быть использовано только один раз.

Список слов (аббревиатур):

- 1) цветная
- 2) чёрная
- 3) ТЭС
- 4) ГЭС
- 5) лесная
- 6) пищевая

В данной ниже таблице приведены буквы, обозначающие пропущенные слова (аббревиатуры). Запишите в таблицу под каждой буквой номер выбранного Вами слова (аббревиатуры).

Ответ:

А	Б	В

19

Установите соответствие между субъектом РФ и его административным центром: к каждому элементу первого столбца подберите соответствующий элемент из второго столбца.

### СУБЪЕКТ РФ

- А) Чувашская Республика
- Б) Республика Коми
- В) Свердловская область

### АДМИНИСТРАТИВНЫЙ ЦЕНТР

- 1) Екатеринбург
- 2) Чебоксары
- 3) Петрозаводск
- 4) Сыктывкар

Запишите в таблицу выбранные цифры под соответствующими буквами.

Ответ:

А	Б	В

20

Потенциал российских регионов для развития туризма огромен. Каждый из них имеет рекреационные ресурсы, способные привлечь тысячи туристов из России и зарубежных стран. Определите субъект Российской Федерации по описанию его рекреационного потенциала.

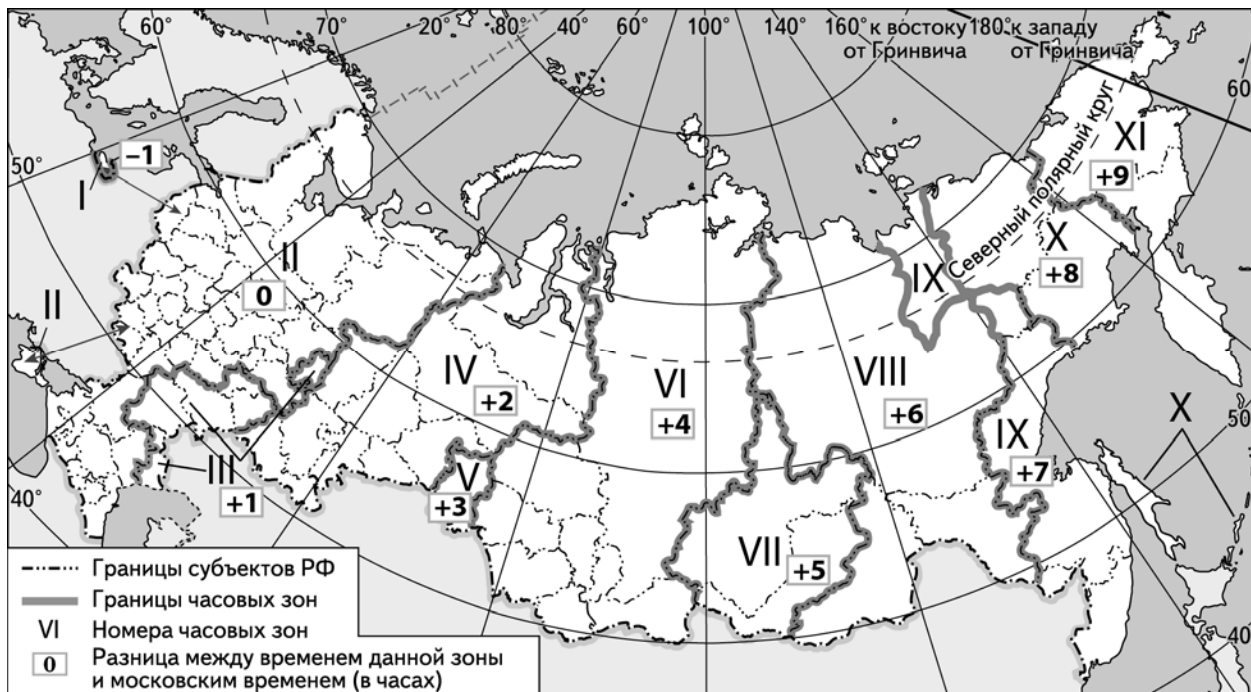
«На территории этого региона расположено множество объектов культурно-познавательного туризма, среди которых мемориальный музей-усадьба Н.А. Римского-Корсакова и музей-усадьба М.П. Мусоргского, а также Изборский природно-архитектурный заповедник, в котором сохранились памятники древнерусской архитектуры и уникальные природные объекты – обнажения девонских пород, овраги, карстовые и оползневые формы рельефа, озёра, водопады, болота. Здесь же находится государственный мемориальный историко-литературный и природно-ландшафтный музей-заповедник А.С. Пушкина "Михайловское". В регионе проводятся праздники и фестивали: всероссийский Пушкинский праздник поэзии, ежегодный "Международный чемпионат по воздухоплаванию" в городе Великие Луки, военно-исторический фестиваль "Ледовое побоище".»

Ответ: \_\_\_\_\_

21

Ежегодно выпускники 9-го класса по окончании обучения сдают обязательный Основной государственный экзамен по русскому языку. Время начала экзамена 10 часов по местному времени. Продолжительность экзамена составляет 3 часа 55 минут.

Используя карту, определите, в каких из перечисленных регионов в 10 часов по московскому времени экзамен уже завершится. Запишите цифры, под которыми указаны эти регионы.



- 1) Челябинская область
- 2) Омская область
- 3) Тюменская область
- 4) Новосибирская область
- 5) Республика Коми
- 6) Республика Тыва

Ответ: \_\_\_\_\_.

22

Портал «Госуслуги» (<https://www.gosuslugi.ru>) является одним из самых востребованных интернет-сервисов для решения вопросов, связанных с обращением в органы государственной власти Российской Федерации, различные ведомства и организации.

На портале возможны три уровня регистрации:

**упрощённый** – указываются контактные данные, доступ к услугам ограничен;

**стандартный** – указываются персональные данные, доступ к услугам ограничен;

**подтверждённый** – помимо указания персональных данных требуется процедура подтверждения личности.

Пользователю с подтверждённым уровнем регистрации доступен наиболее широкий набор услуг, включая выдачу различных персональных документов и справок.

Ответьте на следующие вопросы, связанные с использованием портала «Госуслуги».

1) Какие сведения (персональные данные) помимо ФИО должен указать гражданин при регистрации? Приведите не менее 4 различных позиций.

Ответ: \_\_\_\_\_

\_\_\_\_\_

\_\_\_\_\_

\_\_\_\_\_

2) Каких рисков позволяет избежать ограничение по набору доступных услуг, введённое для пользователей со стандартным уровнем регистрации?

Ответ: \_\_\_\_\_

\_\_\_\_\_

\_\_\_\_\_

\_\_\_\_\_

3) В чём удобство загрузки и хранения всех персональных данных на портале «Госуслуги» для гражданина, получившего подтверждённый уровень регистрации?

Ответ: \_\_\_\_\_

\_\_\_\_\_

\_\_\_\_\_

\_\_\_\_\_

4) В чём удобство электронного способа получения справки по сравнению с очным визитом в соответствующее учреждение?

Ответ: \_\_\_\_\_

\_\_\_\_\_

\_\_\_\_\_

\_\_\_\_\_

