

Всероссийская проверочная работа
по профильному учебному предмету «МАТЕМАТИКА»
для обучающихся первых курсов по очной форме обучения по образовательным
программам среднего профессионального образования на базе основного общего
образования

Вариант 23060

Инструкция по выполнению работы

На выполнение работы по математике отводится 2 часа (120 минут). Работа включает в себя 15 заданий.

Ответы на задания запишите в поля ответов в тексте работы. В случае записи неверного ответа зачеркните его и запишите рядом новый.

При выполнении работы не разрешается пользоваться учебниками, рабочими тетрадями, справочниками, калькулятором.

При необходимости можно пользоваться черновиком. Записи в черновике проверяться и оцениваться не будут.

Советуем выполнять задания в том порядке, в котором они даны. Для экономии времени пропускайте задание, которое не удаётся выполнить сразу, и переходите к следующему. Если после выполнения всей работы у Вас останется время, то Вы сможете вернуться к пропущенным заданиям.

Баллы, полученные Вами за выполненные задания, суммируются. Постарайтесь выполнить как можно больше заданий и набрать наибольшее количество баллов.

Желаем успеха!

Таблица для внесения баллов участника

Номер задания	1	2	3	4	5	6	7	8	9	10	11	12	13	14	15	Сумма баллов	Отметка за работу
Баллы																	

Прочитайте внимательно текст и выполните задания 1–5.

Хозяин дачного участка строит баню с парным отделением. Парное отделение имеет размеры: длина 3,5 м, ширина 2,2 м, высота 2 м. Окон в парном отделении нет, для доступа внутрь планируется дверь шириной 60 см, высота дверного проёма 1,8 м. Для прогрева парного отделения можно использовать электрическую или дровяную печь. В таблице представлены характеристики трёх печей.

Номер печи	Тип	Объём помещения (куб. м)	Масса (кг)	Стоимость (руб.)
1	дровяная	8–12	40	18 000
2	дровяная	10–16	48	19 500
3	электрическая	9–15,5	15	15 000

Для установки дровяной печи дополнительных затрат не потребуется. Установка электрической печи потребует подведения специального кабеля, что обойдётся в 6500 руб.

- 1 Установите соответствие между стоимостями и номерами печей. Запишите в таблицу номера печей под соответствующей стоимостью.

	Стоимость (руб.)	15 000	19 500	18 000
	Номер печи			

- 2 Найдите суммарную площадь стен парного отделения строящейся бани (без площади двери). Ответ дайте в квадратных метрах.

Ответ: _____.

- 3 Во сколько рублей обойдётся покупка дровяной печи, подходящей по объёму парного отделения, с доставкой, если доставка печи до дачного участка будет стоить 1200 рублей?

Ответ: _____.

- 4 Доставка любой печи из магазина до участка стоит 1000 рублей. При покупке печи стоимостью больше 17 000 рублей магазин делает скидки 5% на товар и 25% на доставку. Сколько рублей будет стоить покупка печи номер 1 с доставкой на этих условиях?

Ответ: _____.

- 5 Хозяин выбрал дровяную печь (рис. 1). Чертёж передней панели печи показан на рисунке 2.

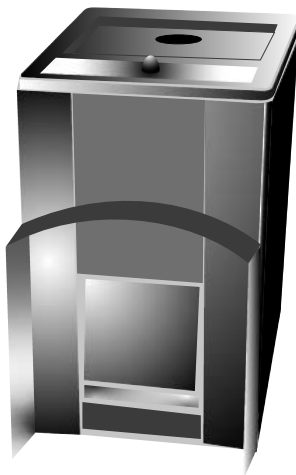


Рис. 1

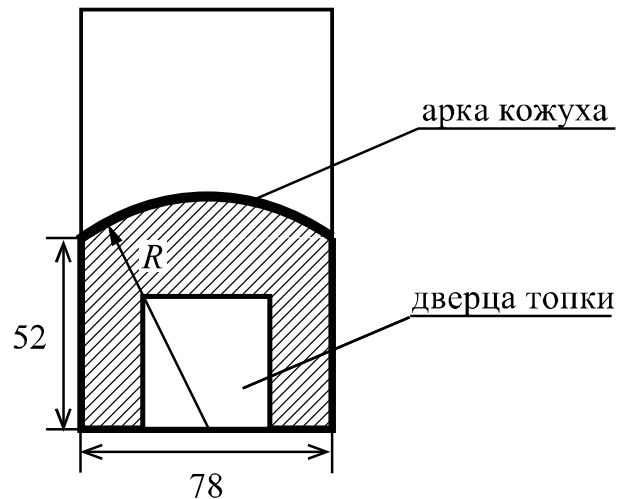


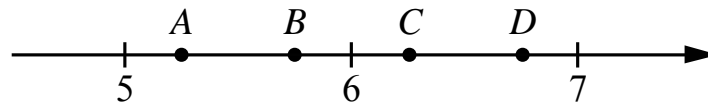
Рис. 2

Печь снабжена кожухом вокруг дверцы топки. Верхняя часть кожуха выполнена в виде арки, приваренной к передней стенке печки по дуге окружности с центром в середине нижней части кожуха (рис. 2). Для установки печки хозяину понадобилось узнать радиус закругления арки R . Размеры кожуха в сантиметрах показаны на рисунке. Найдите радиус закругления арки в сантиметрах.

Ответ: _____.

6

На координатной прямой отмечены точки A , B , C и D .



Одна из них соответствует числу $\frac{63}{11}$. Какая это точка?

- 1) точка A 2) точка B 3) точка C 4) точка D

Ответ.

7

Родительский комитет закупил 10 пазлов для подарков детям в связи с окончанием учебного года, из них 2 с машинами и 8 с видами городов. Подарки распределяются случайным образом между 10 детьми, среди которых есть Андрюша. Найдите вероятность того, что Андрюше достанется пазл с машиной.

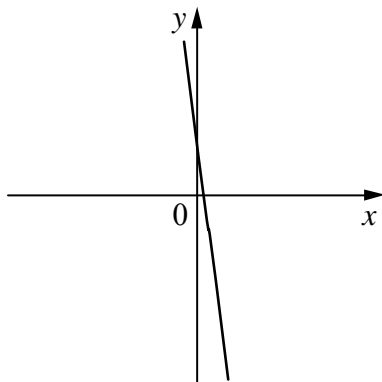
Ответ: _____.

8

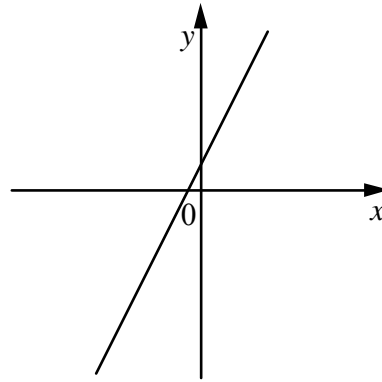
На рисунках изображены графики функций вида $y = kx + b$. Установите соответствие между графиками функций и знаками коэффициентов k и b .

ГРАФИКИ

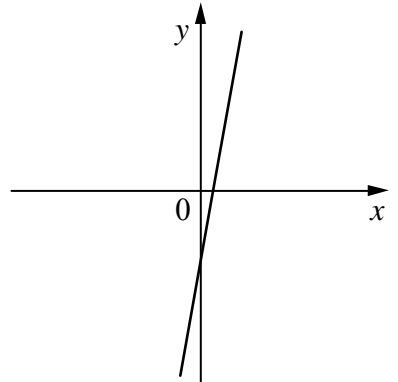
А)



Б)



В)



КОЭФФИЦИЕНТЫ

1) $k > 0, b > 0$

2) $k < 0, b > 0$

3) $k > 0, b < 0$

В таблице под каждой буквой укажите соответствующий номер.

Ответ:

А	Б	В

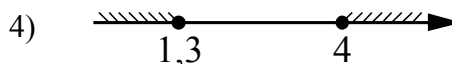
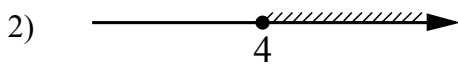
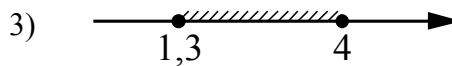
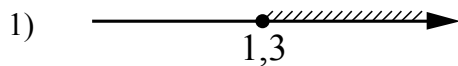
9

В фирме «Эх, прокачу!» стоимость поездки на такси (в рублях) длительностью более 5 минут рассчитывается по формуле $C = 150 + 11(t - 5)$, где t — длительность поездки (в минутах). Пользуясь этой формулой, рассчитайте стоимость 15-минутной поездки. Ответ дайте в рублях.

Ответ: _____.

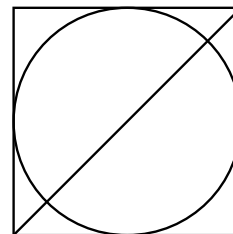
10) Укажите решение системы неравенств

$$\begin{cases} x - 4 \geq 0, \\ x - 0,3 \geq 1. \end{cases}$$



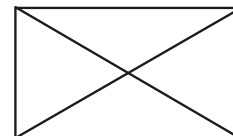
Ответ.

11) Радиус вписанной в квадрат окружности равен $22\sqrt{2}$. Найдите диагональ этого квадрата.



Ответ: _____.

12) Диагональ прямоугольника образует угол 63° с одной из его сторон. Найдите острый угол между диагоналями этого прямоугольника. Ответ дайте в градусах.



Ответ: _____.

14

Постройте график функции

$$y = \begin{cases} x^2 - 8x + 14 & \text{при } x \geq 3, \\ x - 2 & \text{при } x < 3. \end{cases}$$

Определите, при каких значениях m прямая $y = m$ имеет с графиком ровно две общие точки.

Решение.

 Ответ:

- 15 Окружность с центром на стороне AC треугольника ABC проходит через вершину C и касается прямой AB в точке B . Найдите диаметр окружности, если $AB = 9$, $AC = 12$.

Решение.

Ответ: