

Всероссийская проверочная работа
по профильному учебному предмету «ХИМИЯ»
для обучающихся первых курсов по очной форме обучения по образовательным
программам среднего профессионального образования на базе основного общего
образования

Вариант 31398

Инструкция по выполнению работы

На выполнение работы по химии отводится 2 часа (120 минут). Работа включает в себя 22 задания.

Ответы на задания запишите в поля ответов в тексте работы. В случае записи неверного ответа зачеркните его и запишите рядом новый.

При выполнении работы разрешается использовать следующие дополнительные материалы:

- Периодическая система химических элементов Д.И. Менделеева;
- таблица растворимости кислот, солей и оснований в воде;
- ряд активности металлов / электрохимический ряд напряжений;
- непрограммируемый калькулятор.

При необходимости можно пользоваться черновиком. Записи в черновике проверяться и оцениваться не будут.

Советуем выполнять задания в том порядке, в котором они даны. Для экономии времени пропускайте задание, которое не удаётся выполнить сразу, и переходите к следующему. Если после выполнения всей работы у Вас останется время, то Вы сможете вернуться к пропущенным заданиям.

Баллы, полученные Вами за выполненные задания, суммируются. Постарайтесь выполнить как можно больше заданий и набрать наибольшее количество баллов.

Желаем успеха!

Таблица для внесения баллов участника

Номер задания	1	2	3	4	5	6	7	8	9	10	11	12	13	14	15	16
Баллы																
Номер задания	17	18	19	20	21	22	Сумма баллов	Отметка за работу								
Баллы																

Периодическая система химических элементов Д.И. Менделеева

		Г р у п п ы																		
		I	II	III	IV	V	VI	VII	VIII											
П е р и о д ы	1	H 1,008 Водород																He 4,00 Гелий		
	2	Li 6,94 Литий	Be 9,01 Бериллий	5	6	7	8	9	F 19,00 Фтор										Ne 20,18 Неон	
	3	Na 22,99 Натрий	Mg 24,31 Магний	13	14	15	16	17	Cl 35,45 Хлор											Ar 39,95 Аргон
	4	K 39,10 Калий	Ca 40,08 Кальций	21	22	23	24	25	Mn 54,94 Марганец	26	27	28								Ni 58,69 Никель
	5	Rb 85,47 Рубидий	Sr 87,62 Стронций	37	38	39	40	41	Tc 98,91 Технеций	42	43	44	45	46						Pd 106,42 Палладий
	6	Cs 132,91 Цезий	Ba 137,33 Барий	55	56	57	72	73	Re 186,21 Рений	74	75	76	77	78						Pt 195,08 Платина
	7	Fr [223] Франций	Ra 226 Радий	87	88	89	104	105	At [210] Астат	106	107	108	109	110						Ds [271] Дармштадтий
		Rg [280] Рентгений	Cn [285] Коперниций	111	112	113	114	115	Ts [294] Теннесси	116	117									Og [294] Оганесон

* Лантаноиды

58	Ce 140 Церий	59	Pr 141 Празеодим	60	Nd 144 Неодим	61	Pm [145] Прометий	62	Sm 150 Самарий	63	Eu 152 Европий	64	Gd 157 Гадолиний	65	Tb 159 Тербий	66	Dy 162,5 Диспрозий	67	Ho 165 Гольмий	68	Er 167 Эрбий	69	Tm 169 Тулий	70	Yb 173 Иттербий	71	Lu 175 Лютеций
----	------------------------	----	----------------------------	----	-------------------------	----	-----------------------------	----	--------------------------	----	--------------------------	----	----------------------------	----	-------------------------	----	------------------------------	----	--------------------------	----	------------------------	----	------------------------	----	---------------------------	----	--------------------------

** АКТИНОИДЫ

90	Th 232 Торий	91	Pa 231 Протактиний	92	U 238 Уран	93	Np 237 Нептуний	94	Pu [244] Плутоний	95	Am [243] Америций	96	Cm [247] Кюрий	97	Bk [247] Берклий	98	Cf [251] Калифорний	99	Es [252] Эйнштейний	100	Fm [257] Фермий	101	Md [258] Менделеевий	102	No [259] Нобелий	103	Lr [262] Лоуренсий
----	------------------------	----	------------------------------	----	----------------------	----	---------------------------	----	-----------------------------	----	-----------------------------	----	--------------------------	----	----------------------------	----	-------------------------------	----	-------------------------------	-----	---------------------------	-----	--------------------------------	-----	----------------------------	-----	------------------------------

РЯД АКТИВНОСТИ МЕТАЛЛОВ / ЭЛЕКТРОХИМИЧЕСКИЙ РЯД НАПРЯЖЕНИЙ

Li Rb K Ba Sr Ca Na Mg Al Mn Zn Cr Fe Cd Co Ni Sn Pb (H) Sb Bi Cu Hg Ag Pt Au



активность металлов уменьшается

РАСТВОРИМОСТЬ КИСЛОТ, СОЛЕЙ И ОСНОВАНИЙ В ВОДЕ

	H ⁺	Li ⁺	K ⁺	Na ⁺	NH ₄ ⁺	Ba ²⁺	Ca ²⁺	Mg ²⁺	Sr ²⁺	Al ³⁺	Cr ³⁺	Fe ²⁺	Fe ³⁺	Ni ²⁺	Co ²⁺	Mn ²⁺	Zn ²⁺	Ag ⁺	Hg ²⁺	Pb ²⁺	Sn ²⁺	Cu ²⁺	
OH ⁻		Р	Р	Р	Р	Р	М	Н	М	Н	Н	Н	Н	Н	Н	Н	Н	Н	-	-	Н	Н	Н
F ⁻	Р	М	Р	Р	Р	М	Н	Н	Н	М	Н	Н	Н	Р	Р	Р	Р	Р	Р	-	Н	Р	Р
Cl ⁻	Р	Р	Р	Р	Р	Р	Р	Р	Р	Р	Р	Р	Р	Р	Р	Р	Р	Р	Н	Р	М	Р	Р
Br ⁻	Р	Р	Р	Р	Р	Р	Р	Р	Р	Р	Р	Р	Р	Р	Р	Р	Р	Р	Н	М	М	Р	Р
I ⁻	Р	Р	Р	Р	Р	Р	Р	Р	Р	Р	?	Р	?	Р	Р	Р	Р	Р	Н	Н	Н	М	?
S ²⁻	Р	Р	Р	Р	Р	-	-	-	Н	-	-	Н	-	Н	Н	Н	Н	Н	Н	Н	Н	Н	Н
HS ⁻	Р	Р	Р	Р	Р	Р	Р	Р	Р	?	?	?	?	?	?	?	?	?	?	?	?	?	?
SO ₃ ²⁻	Р	Р	Р	Р	Р	Н	Н	М	Н	?	-	Н	?	Н	Н	?	М	Н	Н	Н	Н	?	?
HSO ₃ ⁻	Р	?	Р	Р	Р	Р	Р	Р	Р	?	?	?	?	?	?	?	?	?	?	?	?	?	?
SO ₄ ²⁻	Р	Р	Р	Р	Р	Н	М	Р	Н	Р	Р	Р	Р	Р	Р	Р	Р	М	-	-	Н	Р	Р
HSO ₄ ⁻	Р	Р	Р	Р	Р	?	?	?	-	?	?	?	?	?	?	?	?	?	?	?	?	?	?
NO ₃ ⁻	Р	Р	Р	Р	Р	Р	Р	Р	Р	Р	Р	Р	Р	Р	Р	Р	Р	Р	Р	Р	Р	-	Р
NO ₂ ⁻	Р	Р	Р	Р	Р	Р	Р	Р	Р	?	?	?	?	?	?	?	?	?	М	?	?	?	?
PO ₄ ³⁻	Р	Н	Р	Р	-	Н	Н	Н	Н	Н	Н	Н	Н	Н	Н	Н	Н	Н	Н	Н	Н	Н	Н
HPO ₄ ²⁻	Р	?	Р	Р	Р	Н	Н	М	Н	?	?	Н	?	?	?	?	?	?	?	?	М	Н	?
H ₂ PO ₄ ⁻	Р	Р	Р	Р	Р	Р	Р	Р	Р	?	?	Р	?	?	?	?	Р	Р	Р	?	-	?	?
CO ₃ ²⁻	Р	Р	Р	Р	Р	Н	Н	Н	Н	?	?	Н	-	Н	Н	Н	Н	Н	Н	Н	Н	?	Н
HCO ₃ ⁻	Р	Р	Р	Р	Р	Р	Р	Р	Р	?	?	Р	?	?	?	?	?	?	?	?	?	?	?
CH ₃ COO ⁻	Р	Р	Р	Р	Р	Р	Р	Р	Р	-	Р	Р	-	Р	Р	Р	Р	Р	Р	Р	Р	-	Р
SiO ₃ ²⁻	Н	Н	Р	Р	?	Н	Н	Н	Н	?	?	Н	?	?	?	?	Н	Н	?	?	Н	?	?

“Р” – растворяется (> 1 г на 100 г H₂O)

“М” – мало растворяется (от 0,1 г до 1 г на 100 г H₂O)

“Н” – не растворяется (меньше 0,01 г на 1000 г воды)

“-” – в водной среде разлагается

“?” – нет достоверных сведений о существовании соединений

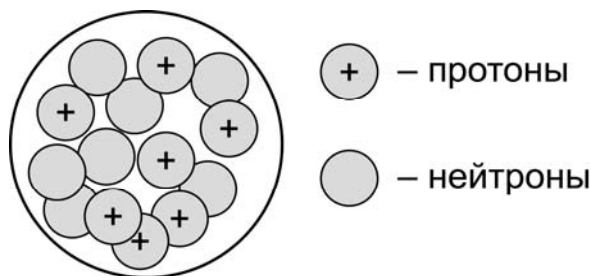
1 Выберите два утверждения, в которых говорится о натрии как о простом веществе.

- 1) Как и все щелочные металлы, натрий является сильным восстановителем.
- 2) Натрий входит в состав поваренной соли.
- 3) Плотность натрия примерно равна плотности воды.
- 4) Натрий – важный компонент питания растений.
- 5) В морской воде много натрия.

Запишите номера выбранных ответов.

Ответ:

2 На рисунке изображена модель строения ядра атома некоторого химического элемента.



Запишите в таблицу число электронов во внешнем электронном слое данного атома (X) и номер периода (Y), в котором данный химический элемент расположен в Периодической системе Д.И. Менделеева. (Для записи ответа используйте арабские цифры.)

Ответ:

X	Y

3 Расположите химические элементы –

- 1) сера 2) кремний 3) фосфор

в порядке увеличения неметаллических свойств образуемых ими простых веществ. Запишите указанные номера элементов в соответствующем порядке.

Ответ: → →

4

Установите соответствие между формулой соединения и степенью окисления углерода в этом соединении: к каждой позиции, обозначенной буквой, подберите соответствующую позицию, обозначенную цифрой.

ФОРМУЛА СОЕДИНЕНИЯ

СТЕПЕНЬ ОКИСЛЕНИЯ
УГЛЕРОДА

- А) CH_3OH
 Б) HCOOH
 В) Al_4C_3

- 1) -4
 2) -2
 3) $+2$
 4) $+4$

Запишите в таблицу выбранные цифры под соответствующими буквами.

Ответ:

А	Б	В

5

Из предложенного перечня выберите два вещества с ионной связью.

- 1) KCl
 2) N_2O
 3) Na_2S
 4) SF_6
 5) CaO

Запишите номера выбранных ответов.

Ответ.

6

Какие два утверждения верны для характеристики как углерода, так и кремния?

- 1) На внешнем энергетическом уровне в атоме находится четыре электрона.
 2) Соответствующее простое вещество является металлом.
 3) В соединениях проявляет только положительную степень окисления.
 4) Значение электроотрицательности больше, чем у кислорода.
 5) Химический элемент образует высший оксид состава ЭO_2 .

Запишите номера выбранных ответов.

Ответ.

7

Из предложенного перечня веществ выберите кислоту и амфотерный гидроксид.

- 1) H_2S 2) ZnO 3) CO_2 4) Al(OH)_3 5) Fe(OH)_2

Запишите в поле ответа сначала номер кислоты, а затем номер амфотерного гидроксида.

Ответ.

8) Какие два из перечисленных веществ вступают в реакцию с оксидом лития?

- 1) CaO
- 2) K₂CO₃
- 3) P₂O₅
- 4) Mg(OH)₂
- 5) Al₂O₃

Запишите номера выбранных ответов.

Ответ:

--	--

9) Установите соответствие между реагирующими веществами и продуктом(-ами) их взаимодействия: к каждой позиции, обозначенной буквой, подберите соответствующую позицию, обозначенную цифрой.

РЕАГИРУЮЩИЕ ВЕЩЕСТВА

- А) CuO и CO
- Б) Fe₂O₃ и H₂SO₄ (p-p)
- В) Fe и H₂SO₄ (p-p)

ПРОДУКТ(Ы)
ВЗАИМОДЕЙСТВИЯ

- 1) Fe₂(SO₄)₃ и H₂O
- 2) CuCO₃
- 3) Cu и CO₂
- 4) FeSO₄ и H₂
- 5) FeSO₄ и H₂O

Запишите в таблицу выбранные цифры под соответствующими буквами.

Ответ:

А	Б	В

10) Установите соответствие между веществом и реагентами, с каждым из которых оно может вступать в реакцию: к каждой позиции, обозначенной буквой, подберите соответствующую позицию, обозначенную цифрой.

ВЕЩЕСТВО

- А) C
- Б) Cl₂
- В) Fe

РЕАГЕНТЫ

- 1) HCl, CuSO₄
- 2) KOH, H₂
- 3) Al₂O₃, NaCl
- 4) ZnO, O₂

Запишите в таблицу выбранные цифры под соответствующими буквами.

Ответ:

А	Б	В

11

Из предложенного перечня выберите две пары веществ, между которыми протекает реакция обмена.

- 1) калий и вода
- 2) оксид серы(VI) и оксид железа(III)
- 3) гидроксид меди(II) и азотная кислота
- 4) алюминий и гидроксид калия
- 5) гидроксид калия и нитрат магния

Запишите номера выбранных ответов.

Ответ.

12

Установите соответствие между реагирующими веществами и признаком протекающей между ними реакции: к каждой позиции, обозначенной буквой, подберите соответствующую позицию, обозначенную цифрой.

РЕАГИРУЮЩИЕ ВЕЩЕСТВА

- А) CuO и HNO_3 (р-р)
- Б) Zn и HNO_3 (конц.)
- В) CuO и HCl (р-р)

ПРИЗНАК РЕАКЦИИ

- 1) растворение твёрдого вещества без выделения газа
- 2) растворение твёрдого вещества и выделение бесцветного газа
- 3) растворение твёрдого вещества и выделение бурого газа
- 4) видимые признаки реакции отсутствуют

Запишите в таблицу выбранные цифры под соответствующими буквами.

Ответ:

А	Б	В
<input type="text"/>	<input type="text"/>	<input type="text"/>

13

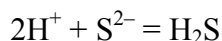
Из предложенного перечня выберите два вещества, при полной диссоциации 1 моль которых образуется 3 моль ионов?

- 1) карбонат натрия
- 2) нитрат калия
- 3) гидроксид лития
- 4) хлорид магния
- 5) сульфат алюминия

Запишите номера выбранных ответов.

Ответ.

- 14) Выберите два исходных вещества, взаимодействию которых соответствует сокращённое ионное уравнение реакции



- 1) HCl
- 2) CuS
- 3) S
- 4) HF
- 5) K₂S
- 6) Al₂S₃

Запишите номера выбранных ответов.

Ответ:

--	--

- 15) Установите соответствие между схемой процесса, происходящего в окислительно-восстановительной реакции, и названием этого процесса: к каждой позиции, обозначенной буквой, подберите соответствующую позицию, обозначенную цифрой.

СХЕМА ПРОЦЕССА	НАЗВАНИЕ ПРОЦЕССА
А) $\text{Si}^{+4} \rightarrow \text{Si}^{-4}$	1) окисление
Б) $\text{Al}^0 \rightarrow \text{Al}^{+3}$	2) восстановление
В) $\text{C}^{+4} \rightarrow \text{C}^{+2}$	

Запишите в таблицу выбранные цифры под соответствующими буквами.

Ответ:

А	Б	В

- 16) Из перечисленных суждений о чистых веществах и смесях выберите верное(-ые) суждение(-я).

- 1) Свежевыжатый и отфильтрованный яблочный сок является чистым веществом.
- 2) Азотно-кислородная смесь, применяемая в аквалангах, является однородной.
- 3) Смесь бензина и воды можно разделить методом фильтрования.
- 4) С помощью выпаривания можно разделить смесь хлорида кальция и воды.

Запишите в поле ответа номер(а) верного(-ых) суждения(-й).

Ответ: _____.

17

Установите соответствие между двумя веществами и реактивом, с помощью которого можно различить эти вещества: к каждой позиции, обозначенной буквой, подберите соответствующую позицию, обозначенную цифрой.

ВЕЩЕСТВА

- А) NH_3 и N_2
 Б) MgO и ZnO
 В) HNO_3 и H_3PO_4

РЕАКТИВ

- 1) Cu
 2) NaOH
 3) Na_2SO_4
 4) фенолфталеин

Запишите в таблицу выбранные цифры под соответствующими буквами.

Ответ:

А	Б	В

Задания 18 и 19 выполняются с использованием следующего текста.

Калиевая селитра (нитрат калия, KNO_3) – широко используемое калийное и азотное удобрение. При подкормках цветочных культур в почву вносят 10 г калия на 1 м².

18

Вычислите массовую долю (в процентах) калия в нитрате калия. Запишите число с точностью до десятых.

Ответ: _____ %.

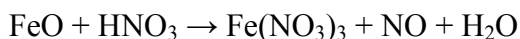
19

Вычислите массу (в килограммах) калиевой селитры, которую надо внести в почву на участке площадью 100 м². Запишите число с точностью до десятых.

Ответ: _____ кг.

20

Используя метод электронного баланса, расставьте коэффициенты в уравнении реакции, схема которой



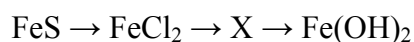
Определите окислитель и восстановитель.

Решение.



21

Дана схема превращений:



Напишите молекулярные уравнения реакций, с помощью которых можно осуществить указанные превращения. Для последней реакции составьте сокращённое ионное уравнение.

Решение.



22

Вычислите массу осадка, образовавшегося в результате пропускания углекислого газа через 370 г раствора гидроксида кальция с массовой долей щёлочи 0,2%.

В ответе запишите уравнение реакции, о которой идёт речь в условии задачи, и приведите все необходимые вычисления (указывайте единицы измерения искомых физических величин).

Решение.

Ответ: