

**Проверочная работа
по ИСТОРИИ**

7 класс

Вариант 2

Инструкция по выполнению работы

На выполнение работы по истории даётся 60 минут. Работа включает в себя 12 заданий. Часть 1 работы посвящена истории России и истории зарубежных стран (история Нового времени), в части 2 предложено задание по истории Вашего родного края.

Ответы на задания запишите в поля ответов в тексте работы. В случае записи неверного ответа зачеркните его и запишите рядом новый.

При необходимости можно пользоваться черновиком. Записи в черновике проверяться и оцениваться не будут.

Советуем выполнять задания в том порядке, в котором они даны. В целях экономии времени пропускайте задание, которое не удаётся выполнить сразу, и переходите к следующему. Если после выполнения всей работы у Вас останется время, то Вы сможете вернуться к пропущенным заданиям.

Желаем успеха!

Таблица для внесения баллов участника

| Номер задания | 1 | 2 | 3 | 4 | 5 | 6 | 7 | 8 | 9 | 10 | 11 | 12 | Сумма баллов | Отметка за работу |
|---------------|---|---|---|---|---|---|---|---|---|----|----|----|--------------|-------------------|
| Баллы | | | | | | | | | | | | | | |

Часть 1

В этой части работы даны задания по истории России и истории зарубежных стран в Новое время.

1

Установите соответствие между событиями (процессами) и их участниками: к каждой позиции первого столбца подберите соответствующую позицию из второго столбца.

СОБЫТИЯ (ПРОЦЕССЫ)

- А) борьба с набегами хана Девлет-Гирея
 Б) деятельность Долгого парламента
 В) деятельность Второго ополчения

УЧАСТНИКИ

- 1) Кузьма Минин
 2) М.И. Воротынский
 3) Карл I Стюарт
 4) М.В. Скопин-Шуйский
 5) Вильгельм I Оранский

Запишите в таблицу выбранные цифры под соответствующими буквами.

Ответ:

| А | Б | В |
|---|---|---|
| | | |

2

Запишите термин, о котором идёт речь.

Период в истории Российского государства с 1565 по 1572 г., для которого характерно проведение царём политики террора, направленной на укрепление его власти.

Ответ: _____.

Прочтите отрывок из исторического источника и выполните задание 3.

«Что касается общественных и правительственных должностей в государстве, то здесь нет ни одного наследственного звания, как бы ни было оно высоко или низко, и, напротив, определение к той или другой должности зависит непосредственно от самого царя, так что даже дьяки в каждом главном городе большей частью назначаются им самим. Но царь Фёдор, чтобы свободнее предаваться благочестию, предоставил все такого рода дела, относящиеся к управлению государством, в полное распоряжение шурина своего, боярина _____».

3

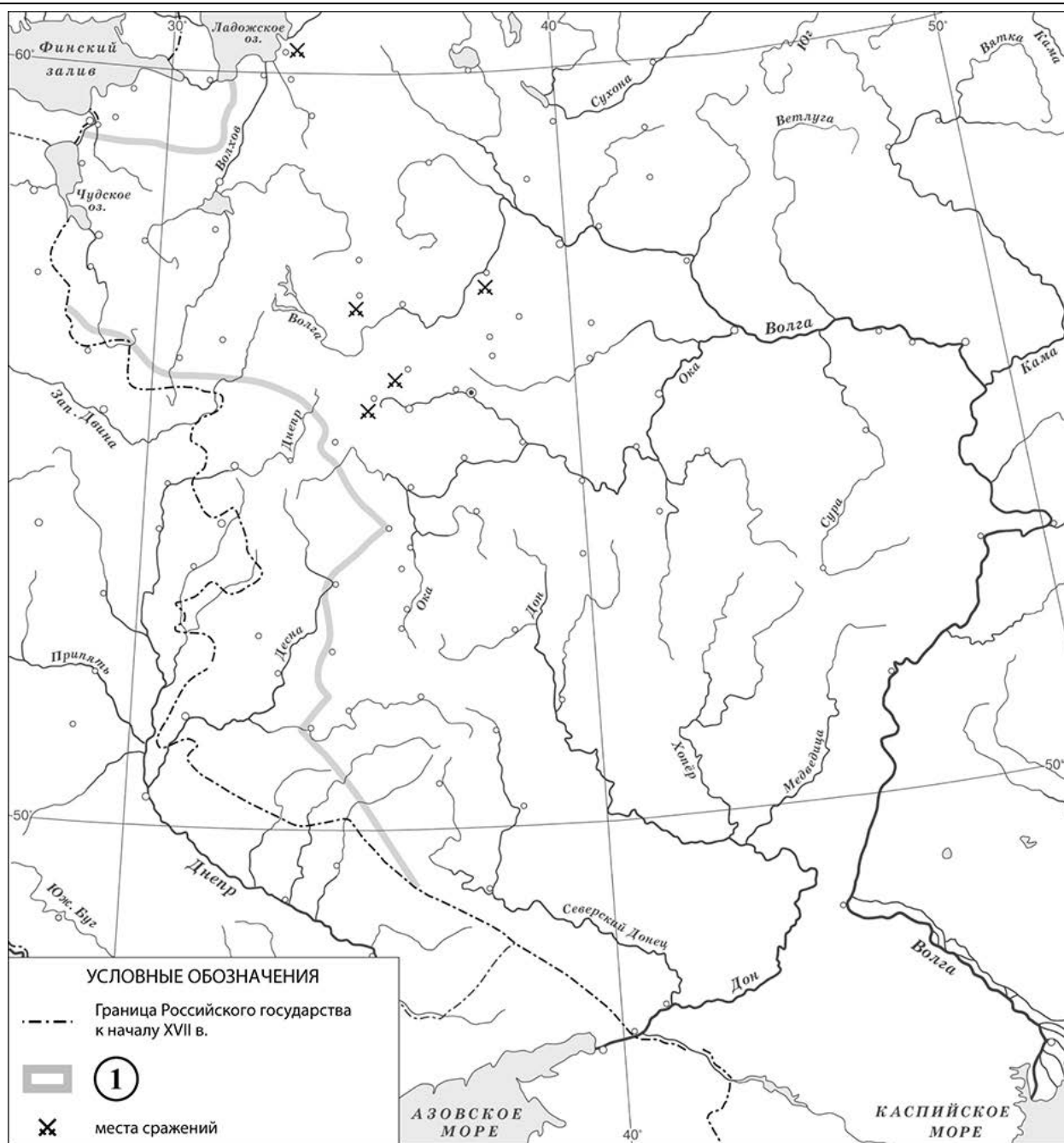
Назовите боярина, имя которого пропущено в тексте.

Ответ: _____

Назовите одну любую внешнеполитическую меру (мероприятие), осуществлённую в период правления названного в тексте царя.

Ответ: _____

Рассмотрите карту и выполните задания 4, 5.



4 Назовите российского монарха в период, когда были подписаны договоры, по которым установилась граница России, обозначенная на схеме цифрой «1».



Ответ: _____.

5 Подпишите на карте города Смоленск и Москву.



Ознакомьтесь с приведённым перечнем и изображениями памятников культуры и выполните задания 6, 7.

- 1) парсуна М.В. Скопина-Шуйского
- 2) «Домострой»



6 Какие из приведённых памятников культуры были созданы в XVI в.? Выберите два памятника культуры и запишите в таблицу цифры, под которыми они указаны.

Ответ:

| | |
|--|--|
| | |
|--|--|

7 Создателем какого из приведённых памятников культуры является Алевиз Новый (Алевиз Фрязин)? Укажите порядковый номер этого памятника культуры.

Ответ:

| |
|--|
| |
|--|

8 Укажите время с точностью до половины века, когда в России были отменены кормления. Укажите одно любое событие (процесс) из истории зарубежных стран, относящееся к той же половине века. Не следует указывать событие (процесс) из истории международных отношений, одной из сторон которых была Россия.

Время с точностью до половины века: _____

Событие из истории зарубежных стран: _____

9

Какой из приведённых исторических фактов можно использовать для аргументации следующей точки зрения: «Положение крестьян ухудшилось в последней четверти XVI в.»? Укажите порядковый номер этого факта в списке.

- 1) введение правила Юрьева дня
- 2) введение заповедных лет
- 3) отмена урочных лет

Ответ:

Объясните, как с помощью выбранного Вами факта можно аргументировать данную точку зрения.

Ответ:

10

Укажите с точностью до десятилетия время, когда началось регентство Елены Глинской. Укажите монарха, формально правившего в России в этот период. Приведите один любой факт, характеризующий это регентство Елены Глинской.

Время:

Монарх:

Факт:

11

Используя знание исторических фактов, объясните, почему регентство Елены Глинской имело большое значение (важные последствия) в истории нашей страны.

Ответ:
