

Система оценивания проверочной работы

Полный правильный ответ на каждое из заданий 1.3, 1.4, 3.1, 4.1, 4.3, 6.3, 7.2, 8.1 и 8.2 оценивается 1 баллом. Если в ответе допущена хотя бы одна ошибка (один из элементов ответа записан неправильно или не записан), выставляется 0 баллов.

Полный правильный ответ на каждое из заданий 1.2, 4.2 и 5.1 оценивается 2 баллами. Если в ответе допущена одна ошибка или перепутаны местами две цифры в ответах на задания 4.2 и 5.1, выставляется 1 балл; если допущено две или более ошибки – 0 баллов.

1

1.1.

Содержание верного ответа и указания по оцениванию	Баллы
Правильный ответ должен содержать следующие <u>элементы</u> : 1) указание <u>путешественника</u> : Афанасий Никитин; 2) подпись <u>названия материка на карте</u> : Евразия	
Правильно указан путешественник, подписан материк	2
Правильно указан путешественник; название материка на карте не подписано / подписано неправильно	1
Путешественник не указан / указан неправильно независимо от подписи названия материка на карте. ИЛИ Ответ неправильный	0
<i>Максимальный балл</i>	2

1.2	А – Красное море Б – Атлантический океан В – Северный полярный круг Г – Индийский океан
1.3	39° с. ш. 50° в. д. (допускается погрешность в 1°)
1.4	Каспийское море

2

2.1.

Содержание верного ответа и указания по оцениванию	Баллы
Правильный ответ должен содержать <u>три элемента</u> : 1) <u>значение параллели</u> : 0° (экватор); 2) <u>протяжённость материка в градусах</u> : 30° (допускается погрешность $\pm 2^\circ$); 3) <u>протяжённость материка в километрах</u> : 3339 км	
Правильно указаны значение параллели, протяжённость материка в градусах и протяжённость материка в километрах	2
Правильно указаны значение параллели и протяжённость материка в градусах; протяжённость материка в километрах не указана / указана неправильно	1
Правильно указано только значение параллели; протяжённость материка в градусах и протяжённость материка в километрах не указаны / указаны неправильно. ИЛИ Ответ неправильный	0
<i>Максимальный балл</i>	2

2.2.

Содержание верного ответа и указания по оцениванию	Баллы
Правильный ответ должен содержать <u>следующие элементы</u> : 1) <u>название формы рельефа</u> : горы Анды; 2) <u>абсолютная высота территории</u> : 6000 м	
Правильно названа форма рельефа и определена абсолютная высота территории	2
Правильно названа форма рельефа; абсолютная высота территории не определена / определена неправильно	1
Форма рельефа не названа / названа неправильно независимо от определения абсолютной высоты территории. ИЛИ Ответ неправильный	0
<i>Максимальный балл</i>	2

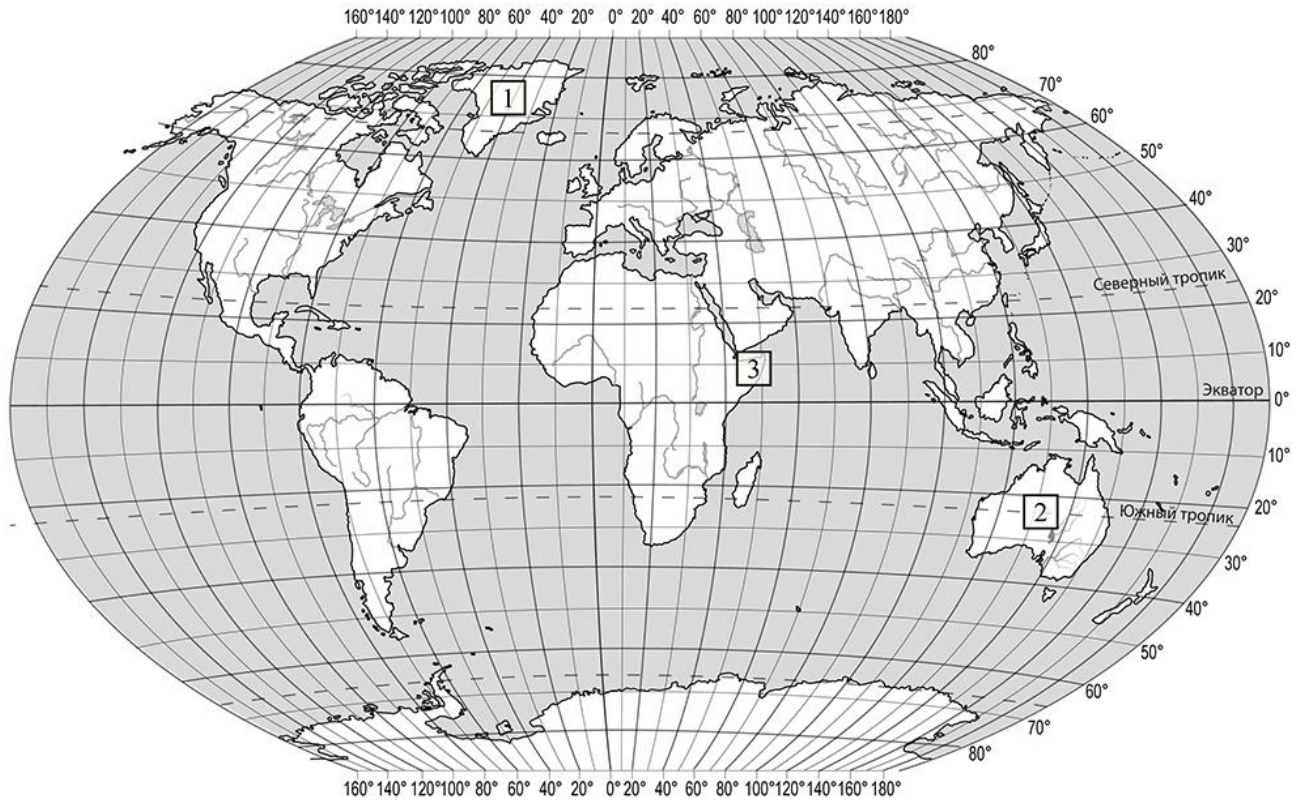
2.3.

Содержание верного ответа и указания по оцениванию	Баллы								
Правильный ответ должен содержать таблицу с внесёнными в неё значками полезных ископаемых:									
<table border="1" style="width: 100%; text-align: center;"> <tr> <td>Платина</td> <td>Золото</td> <td>Нефть</td> <td>Каменный уголь</td> </tr> <tr> <td></td> <td></td> <td></td> <td></td> </tr> </table>	Платина	Золото	Нефть	Каменный уголь					
Платина	Золото	Нефть	Каменный уголь						
									
Правильно заполнены четыре ячейки таблицы	2								
Правильно заполнены три ячейки таблицы	1								
Правильно заполнены одна-две ячейки таблицы. ИЛИ Все ячейки таблицы заполнены неправильно / не заполнены	0								
<i>Максимальный балл</i>	2								

3

3.1	1 – арктический 2 – тропический 3 – субэкваториальный
------------	---

3.2.



Содержание верного ответа и указания по оцениванию	Баллы
Правильный ответ должен содержать запись трёх номеров климатограмм в пустые квадраты на карте	
Правильно вписаны три номера климатограмм	1
Правильно вписан только один номер климатограммы. ИЛИ Ответ неправильный	0
<i>Максимальный балл</i>	<i>1</i>

3.3.

Содержание верного ответа и указания по оцениванию	Баллы
Правильный ответ должен содержать <u>следующие элементы</u> : 1) <u>название природной зоны</u> : саванны и редколесья; 2) <u>номер климатограммы</u> : 3	
Правильно указаны название природной зоны и номер климатограммы	2
Правильно указано название природной зоны; номер климатограммы не указан / указан неправильно	1
Название природной зоны не указано независимо от указания номера климатограммы. ИЛИ Ответ неправильный	0
<i>Максимальный балл</i>	2

3.4.

Содержание верного ответа и указания по оцениванию	Баллы												
Правильный ответ должен содержать заполненную таблицу:													
<table border="1" style="width: 100%; text-align: center;"> <thead> <tr> <th colspan="2">Средняя температура воздуха, °С</th> <th rowspan="2">Годовая амплитуда температур, °С</th> <th rowspan="2">Годовое количество осадков, мм</th> <th rowspan="2">Месяц, на который приходится наибольшее количество осадков</th> </tr> <tr> <th>в январе</th> <th>в июле</th> </tr> </thead> <tbody> <tr> <td>+18</td> <td>+28</td> <td>10</td> <td>529</td> <td>май</td> </tr> </tbody> </table>	Средняя температура воздуха, °С		Годовая амплитуда температур, °С	Годовое количество осадков, мм	Месяц, на который приходится наибольшее количество осадков	в январе	в июле	+18	+28	10	529	май	
Средняя температура воздуха, °С		Годовая амплитуда температур, °С				Годовое количество осадков, мм	Месяц, на который приходится наибольшее количество осадков						
в январе	в июле												
+18	+28	10	529	май									
Правильно заполнены все ячейки таблицы	2												
В таблице допущена одна ошибка	1												
В таблице допущено две или более ошибки. ИЛИ Ответ неправильный	0												
<i>Максимальный балл</i>	2												

4


4.1	столкновение океанической и континентальной/материковой литосферных плит
4.2	41352 <i>Если за выполнение задания 4.1 выставлено 0 баллов, результат выполнения данного задания не засчитывается</i>
4.3	горы Анды и Перуанско-Чилийский глубоководный жёлоб <i>Если за выполнение задания 4.1 выставлено 0 баллов, результат выполнения данного задания не засчитывается</i>

5

5.1

112122

5.2.


Содержание верного ответа и указания по оцениванию	Баллы
<p>Правильный ответ должен содержать заполненную схему с вписанными в неё названием материка, типами и названиями географических объектов.</p>  <pre> graph TD A["Материк Африка"] --- B["горы"] A --- C["реки"] A --- D["озёра"] B --- E["Атлас Капские"] C --- F["Лимпопо Нил"] D --- G["Чад Виктория"] </pre>	
Схема заполнена правильно	3
В заполнении схемы допущена одна ошибка	2
В заполнении схемы допущено две ошибки	1
В заполнении схемы допущено три или более ошибки. ИЛИ Ответ неправильный	0
<i>Максимальный балл</i>	3

6

6.1.



Содержание верного ответа и указания по оцениванию	Баллы
Правильный ответ должен содержать <u>выделение на карте двух стран</u> : Мексики и Испании	
Правильно выделены две страны	1
Правильно выделена только одна любая страна; вторая страна не выделена / выделена неправильно. ИЛИ Страны не выделены / выделены неправильно	0
<i>Максимальный балл</i>	<i>1</i>

6.2.



Время по Гринвичу

12:00 (полдень)

*Мадрид*1 ноября
13:00*Мехико*1 ноября
06:00

Содержание верного ответа и указания по оцениванию	Баллы
Правильный ответ должен содержать <u>подписи названий двух городов</u> : Мадрида (столицы Испании) и Мехико (столицы Мексики)	
Правильно подписаны названия двух городов	1
Правильно подписано название только одного любого города; название второго города не подписано / подписано неправильно. ИЛИ Названия городов не подписаны / подписаны неправильно	0
<i>Максимальный балл</i>	<i>1</i>

6.3

12:30

7

7.1.

Содержание верного ответа и указания по оцениванию	Баллы
Правильный ответ должен содержать <u>подпись на карте названия страны</u> : Шри-Ланка	
Страна на карте подписана правильно	1
Страна на карте не подписана / подписана неправильно	0
<i>Максимальный балл</i>	<i>1</i>

7.2

3142

8

8.1	в Мексике
8.2	В <i>Если за выполнение задания 8.1 выставлено 0 баллов, результат выполнения данного задания не засчитывается</i>

8.3.

Содержание верного ответа и указания по оцениванию	Баллы																
<p>Правильный ответ должен содержать <u>ответы на семь вопросов</u>.</p> <table border="1" style="width: 100%;"> <thead> <tr> <th style="text-align: center;">Вопрос</th> <th style="text-align: center;">Ответ</th> </tr> </thead> <tbody> <tr> <td>1. На каком материке расположена твоя страна?</td> <td><i>На материке Северная Америка</i></td> </tr> <tr> <td>2. Какие океаны омывают берега твоей страны?</td> <td><i>Атлантический и Тихий</i></td> </tr> <tr> <td>3. Какие полуострова занимает твоя страна?</td> <td><i>Калифорния и Юкатан</i></td> </tr> <tr> <td>4. Какие горы есть в твоей стране?</td> <td><i>Кордильеры</i></td> </tr> <tr> <td>5. Какие полезные ископаемые добывают в твоей стране?</td> <td><i>Нефть, природный газ, золото, серебряные и полиметаллические руды</i></td> </tr> <tr> <td>6. Какую религию исповедует большинство жителей твоей страны?</td> <td><i>Христианство/католицизм</i></td> </tr> <tr> <td>7. Какие культурно-исторические и природные достопримечательности привлекают туристов в твою страну?</td> <td><i>Пирамиды Теотihuакан, кафедральный собор Мехико, Чичен-Ица (древний город Майя), подземные реки, каньоны, пляжи на побережье Мексиканского и Калифорнийского заливов</i></td> </tr> </tbody> </table> <p>Ответы на вопросы могут быть даны в иных, близких по смыслу формулировках. В ответах, предполагающих указание нескольких объектов, при оценивании может быть засчитано указание одного объекта. <i>Если в ответе на задание 8.1 название страны не указано / указано неправильно, то результат выполнения данного задания не засчитывается</i></p>	Вопрос	Ответ	1. На каком материке расположена твоя страна?	<i>На материке Северная Америка</i>	2. Какие океаны омывают берега твоей страны?	<i>Атлантический и Тихий</i>	3. Какие полуострова занимает твоя страна?	<i>Калифорния и Юкатан</i>	4. Какие горы есть в твоей стране?	<i>Кордильеры</i>	5. Какие полезные ископаемые добывают в твоей стране?	<i>Нефть, природный газ, золото, серебряные и полиметаллические руды</i>	6. Какую религию исповедует большинство жителей твоей страны?	<i>Христианство/католицизм</i>	7. Какие культурно-исторические и природные достопримечательности привлекают туристов в твою страну?	<i>Пирамиды Теотihuакан, кафедральный собор Мехико, Чичен-Ица (древний город Майя), подземные реки, каньоны, пляжи на побережье Мексиканского и Калифорнийского заливов</i>	
Вопрос	Ответ																
1. На каком материке расположена твоя страна?	<i>На материке Северная Америка</i>																
2. Какие океаны омывают берега твоей страны?	<i>Атлантический и Тихий</i>																
3. Какие полуострова занимает твоя страна?	<i>Калифорния и Юкатан</i>																
4. Какие горы есть в твоей стране?	<i>Кордильеры</i>																
5. Какие полезные ископаемые добывают в твоей стране?	<i>Нефть, природный газ, золото, серебряные и полиметаллические руды</i>																
6. Какую религию исповедует большинство жителей твоей страны?	<i>Христианство/католицизм</i>																
7. Какие культурно-исторические и природные достопримечательности привлекают туристов в твою страну?	<i>Пирамиды Теотihuакан, кафедральный собор Мехико, Чичен-Ица (древний город Майя), подземные реки, каньоны, пляжи на побережье Мексиканского и Калифорнийского заливов</i>																
Правильно даны ответы на все вопросы	3																
Правильно даны ответы на пять-шесть любых вопросов; в ответах на один-два вопроса допущены ошибки / ответы на один-два вопроса не представлены	2																
Правильно даны ответы на три-четыре любых вопроса; в ответах на другие три-четыре вопроса допущены ошибки / ответы на другие три-четыре вопроса не представлены	1																
Правильно даны ответы только на один-два вопроса. ИЛИ Ответ неправильный	0																
<i>Максимальный балл</i>	3																

Система оценивания выполнения всей работы

Максимальный балл за выполнение работы – 37.

Рекомендации по переводу первичных баллов в отметки по пятибалльной шкале

Отметка по пятибалльной шкале	«2»	«3»	«4»	«5»
Первичные баллы	0 – 10	11 – 25	26 – 32	33 – 37