

**Проверочная работа
по МАТЕМАТИКЕ**

6 класс

Вариант 1

Инструкция по выполнению работы

На выполнение работы по математике даётся 60 минут. Работа содержит 13 заданий.
В заданиях, после которых есть поле со словом «Ответ», запишите ответ в указанном месте.

В задании 12 нужно сделать чертёж или рисунок.

В заданиях, после которых есть поле со словами «Решение» и «Ответ», запишите решение и ответ в указанном месте.

Если Вы хотите изменить ответ, зачеркните его и запишите рядом новый.

При выполнении работы нельзя пользоваться учебниками, рабочими тетрадями, справочниками, калькулятором.

При необходимости можно пользоваться черновиком. Записи в черновике проверяться и оцениваться не будут.

Советуем выполнять задания в том порядке, в котором они даны. Для экономии времени пропускайте задание, которое не удаётся выполнить сразу, и переходите к следующему. Постарайтесь выполнить как можно больше заданий.

Желаем успеха!

Таблица для внесения баллов участника

Номер задания	1	2	3	4	5	6	7	8	9	10	11	12	13	Сумма баллов	Отметка за работу
Баллы															

1 Вычислите: $-43+11 \cdot 8$.

Ответ:

2 Вычислите: $1-\frac{3}{7}:\frac{9}{14}$.

Ответ:

3 Задумали число. От этого числа отняли 313 и получили число, которое на 71 меньше половины задуманного числа. Найдите задуманное число.

Ответ:

4 Вычислите: $0,1 \cdot (-3,24+6,2)$.

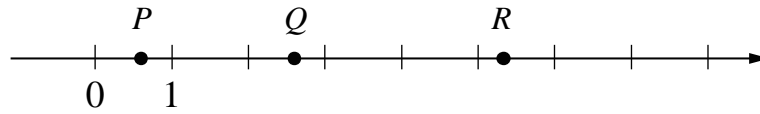
Ответ:

5 На рисунке изображены здание и стоящее рядом дерево. Высота здания равна 21 м. Какова примерная высота дерева? Ответ дайте в метрах.



Ответ:

8 Даны числа: $5\frac{1}{3}$, $\frac{3}{5}$, $3\frac{1}{5}$, $2\frac{3}{5}$ и $\frac{5}{3}$. Три из них отмечены на координатной прямой точками P , Q и R .



Установите соответствие между точками и числами.

- | | ТОЧКИ | | ЧИСЛА |
|--------|-------|-------------------|-------|
| A) P | | 1) $5\frac{1}{3}$ | |
| B) Q | | 2) $\frac{3}{5}$ | |
| B) R | | 3) $3\frac{1}{5}$ | |
| | | 4) $2\frac{3}{5}$ | |
| | | 5) $\frac{5}{3}$ | |

В таблице для каждой точки укажите номер соответствующего числа.

□	Ответ:	А	Б	В
---	--------	---	---	---

9 Вычислите: $\frac{35}{36} \cdot \left(\frac{1}{2} + \frac{5}{14}\right) - \frac{5}{6} : \frac{10}{27}$.

Запишите решение и ответ.

Решение.	
Ответ:	

12

На рисунке 1 показаны фигуры, симметричные относительно точки O . На рисунке 2 показаны фигура и точка O . Нарисуйте фигуру, симметричную данной фигуре относительно точки O , на рисунке 2.

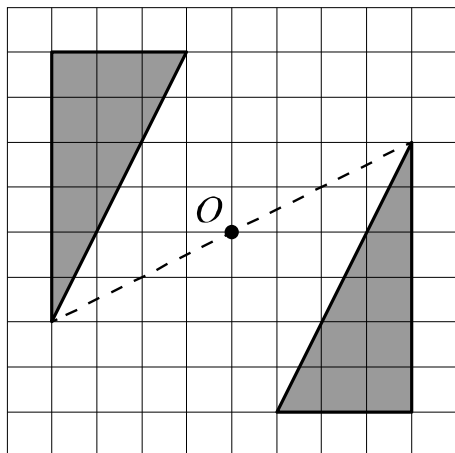


Рис. 1

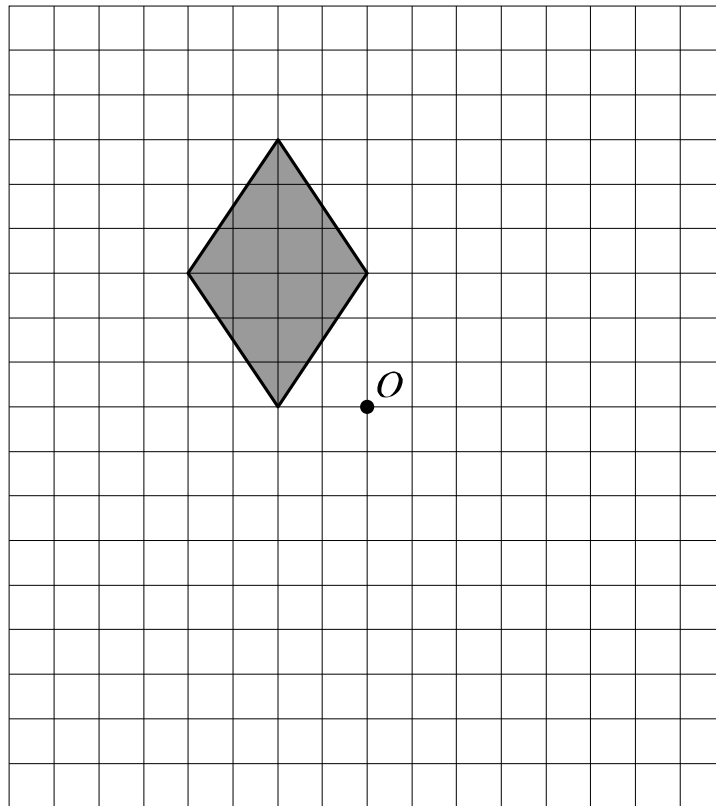


Рис. 2



13

В пяти ящиках лежат красные, синие и белые шары. Число синих шаров в каждом ящике равно общему числу белых шаров во всех остальных ящиках. А число белых шаров в каждом ящике равно общему числу красных шаров во всех остальных ящиках. Сколько всего шаров лежит в ящиках, если известно, что их количество чётно, больше 100 и меньше 130?

Запишите решение и ответ.

Решение.

Ответ: