

**Проверочная работа
по ИСТОРИИ**

6 класс

Вариант 2

Инструкция по выполнению работы

На выполнение работы по истории даётся 60 минут. Работа включает в себя 10 заданий. Часть 1 работы посвящена истории России и истории зарубежных стран (история Средних веков), в части 2 предложены задания по истории Вашего родного края.

Ответы на задания запишите в поля ответов в тексте работы. В случае записи неверного ответа зачеркните его и запишите рядом новый.

При необходимости можно пользоваться черновиком. Записи в черновике проверяться и оцениваться не будут.

Советуем выполнять задания в том порядке, в котором они даны. В целях экономии времени пропускайте задание, которое не удаётся выполнить сразу, и переходите к следующему. Если после выполнения всей работы у Вас останется время, то Вы сможете вернуться к пропущенным заданиям.

Желаем успеха!

Таблица для внесения баллов участника

Номер задания	1	2	3	4	5	6(1)	6(2)	7	8	9	10(1)	10(2)	Сумма баллов	Отметка за работу
Баллы														

Часть 1

В этой части работы даны задания по истории России и истории зарубежных стран (история Средних веков).

Прочтите перечень из четырёх событий (процессов) и выполните задания, относящиеся к этому перечню.


Перечень событий (процессов)

- А) формирование территории Древнерусского государства в IX в.
- Б) образование Испанского королевства
- В) борьба за первенство в Северо-Восточной Руси в первой половине XIV в.
- Г) крещение Руси


1

Каждая из иллюстраций, приведённых ниже, относится к одному из указанных в перечне событий (процессов). Установите соответствие между событиями (процессами) и иллюстрациями: к каждому событию (процессу) подберите по одной иллюстрации.

1)



2)



3)



4)



Запишите в таблицу выбранные цифры под соответствующими буквами.

Ответ:

А	Б	В	Г

Перечень событий (процессов)

- | | |
|--|---------------------------------------|
| А) формирование территории Древнерусского государства в IX в. | Б) образование Испанского королевства |
| В) борьба за первенство в Северо-Восточной Руси в первой половине XIV в. | Г) крещение Руси |

2

Прочтите отрывок из исторического источника и определите, к какому из данных событий (процессов) он относится. В ответе напишите букву, которой обозначено это событие (процесс).

«Выступил в поход <...>, взяв с собою много воинов: варягов, чудь, славян, мерю, весь, кривичей, и пришёл к Смоленску с кривичами, и принял власть в городе, и посадил в нём своих мужей. Оттуда отправился вниз, и взял Любеч, и также посадил своих мужей. И пришли к горам Киевским, и узнал <...>, что княжат тут Аскольд и Дир. Спрятал он одних воинов в ладьях, а других оставил позади, и сам отправился к ним вместе с младенцем. И подплыл к Угорской горе, спрятав своих воинов; и послал к Аскольду и Диру. Когда же Аскольд и Дир пришли, все спрятанные воины выскочили из ладей, и сказал он Аскольду и Диру: "Не князья вы и не княжеского рода, но я княжеского рода", а когда вынесли Игоря, добавил: "Вот он сын Рюрика". И убили Аскольда и Дира. И сел <...>, княжа, в Киеве, и сказал: "Да будет Киев матерью городам русским"».

Ответ:

3

С каким из данных событий (процессов) связано слово «Реконкиста»? Запишите букву, которой обозначено данное событие (процесс).

Ответ:

Объясните смысл слова «Реконкиста».

Ответ: _____

4

Укажите две исторические личности, которые были непосредственно связаны с развитием Северо-Восточной Руси в XII в.

Укажите одно любое действие каждой из этих личностей, в значительной степени повлиявшее на развитие Северо-Восточной Руси в XII в.

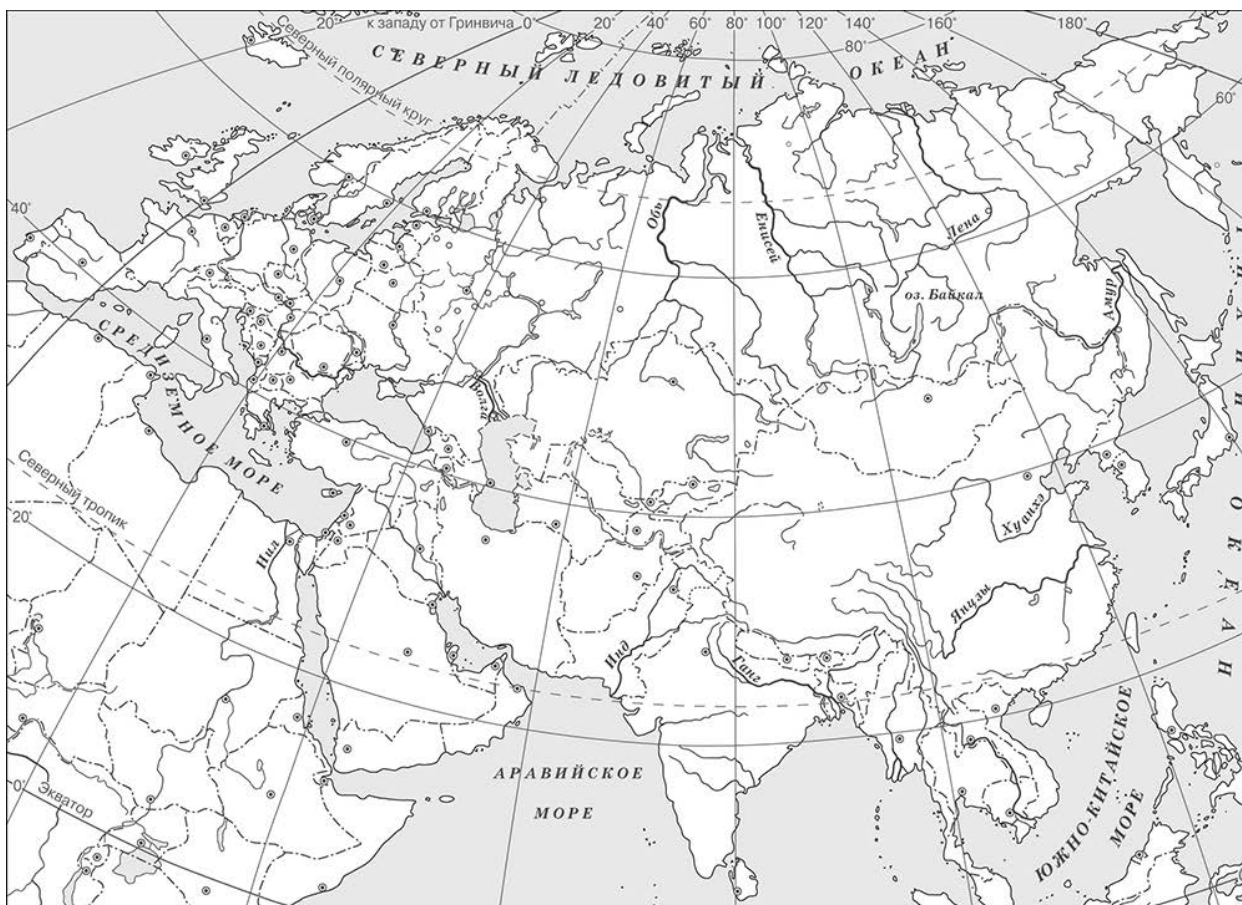
Ответ запишите в таблицу.

Ответ:

Личности	Действия
1.	
2.	

5

Заштрихуйте на контурной карте один четырёхугольник, образованный градусной сеткой, в котором находилась столица Арабского халифата – город Багдад.



6

Запишите название любого географического объекта (города, населённого пункта, реки или др.), который непосредственно связан с первой битвой русских войск против монголов.

Объясните, как указанный Вами географический объект (город, населённый пункт, река или др.) связан с первой битвой русских войск против монголов.

Ответ (название объекта): _____


Объяснение: _____

7

Используя знание исторических фактов, объясните, почему битва на Калке имела большое значение (важные последствия) для истории нашей страны.

Ответ: _____

Рассмотрите изображения



8) На каких двух изображениях представлены памятники культуры России, а на каких – памятники культуры зарубежных стран? Запишите в таблицу порядковые номера соответствующих изображений.

Памятники культуры России	Памятники культуры зарубежных стран

9) Как называется жанр церковной литературы, распространённый в Древней Руси, в котором описывается жизнь и деяния святых?

Ответ: _____

Часть 2

Вспомните важнейшие события истории Вашего региона или населённого пункта и выполните задание.

10

Укажите название улицы в любом населённом пункте Вашего региона, которое связано с деятельностью какой-либо исторической личности.

Ответ: _____

Почему деятельность этой исторической личности важна для развития Вашего региона, или населённого пункта, или нашей страны, или мира в целом?

Ответ: _____

