

**Проверочная работа
по ГЕОГРАФИИ**

6 КЛАСС

Вариант 2

Инструкция по выполнению работы


На выполнение работы по географии даётся 60 минут. Работа включает в себя 10 заданий.

Ответы на задания запишите в поля ответов в тексте работы. В случае записи неверного ответа зачеркните его и запишите рядом новый.

При выполнении работы не разрешается пользоваться учебником, рабочими тетрадями, атласом и другим справочным материалом.

При необходимости можно пользоваться черновиком. Записи в черновике проверяться и оцениваться не будут. Для выполнения заданий с использованием карт Вам потребуются линейка и карандаш.

Советуем выполнять задания в том порядке, в котором они даны. В целях экономии времени пропускайте задание, которое не удаётся выполнить сразу, и переходите к следующему. Если после выполнения всей работы у Вас останется время, то Вы сможете вернуться к пропущенным заданиям.

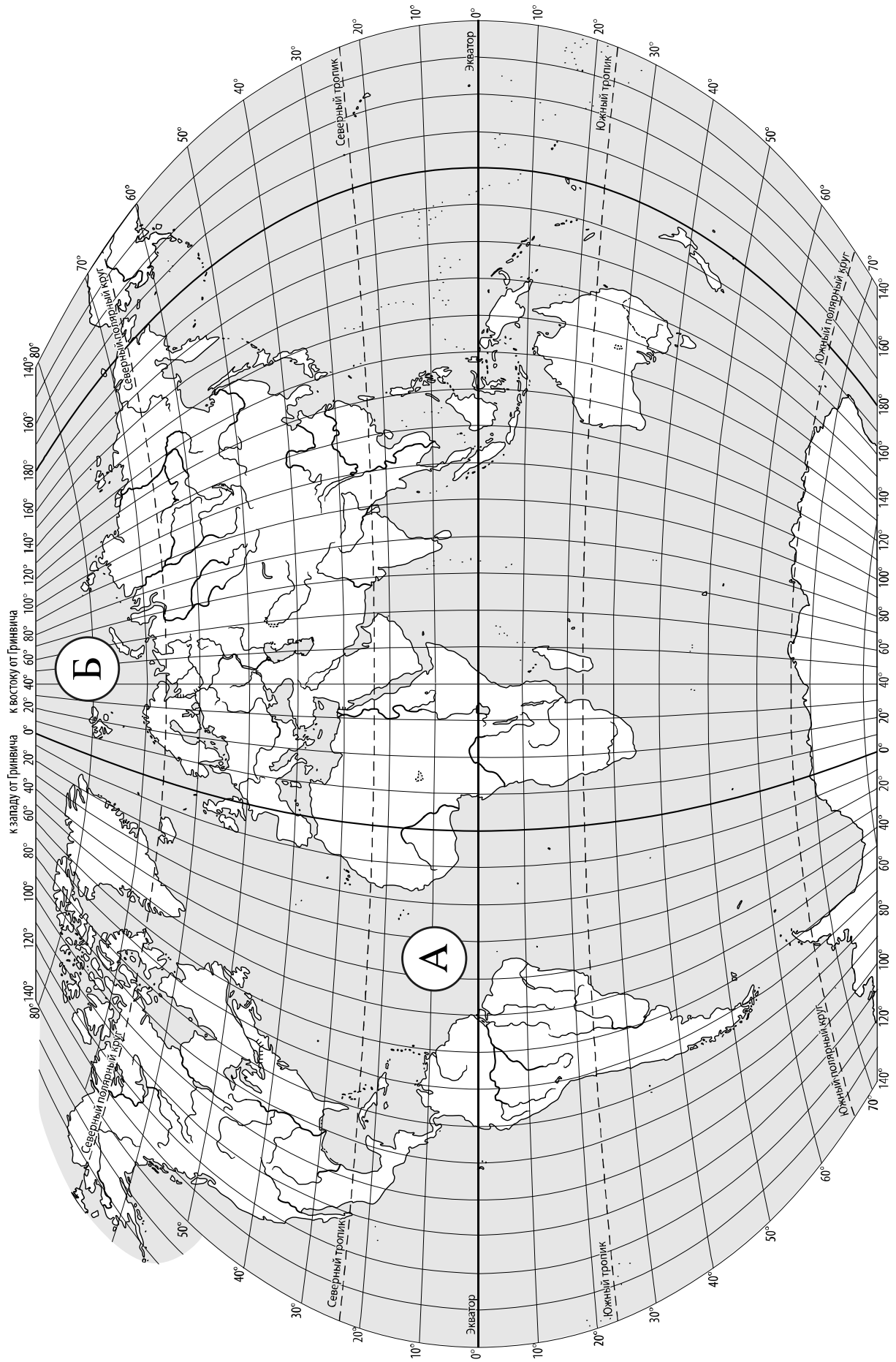
Значком  отмечены задания, ответы на которые записываются на карте, приведённой на странице 2.

Желаем успеха!

Таблица для внесения баллов участника

Номер задания	1.1	1.2	2.1К1	2.1К2	2.2	3.1	3.2	3.3	4.1	4.2	4.3	5.1	5.2	6.1	6.2К1	6.2К2
Баллы																

Номер задания	7	8.1	8.2	9К1	9К2	9К3	10.1	10.2К1	10.2К2	Сумма баллов	Отметка за работу
Баллы											



Задание 1 выполняется с использованием карты мира, приведённой на странице 2.

1

Рассмотрите карту мира. На ней буквами А и Б отмечены два океана.

1.1. Запишите названия океанов в соответствующее поле.

Название океана (А) :

Название океана (Б) :



1.2. С каким из названных Вами океанов связаны открытия путешественников и первооткрывателей, изображённых на портретах? Укажите название океана.



И.Д. Папанин



Фритьоф Нансен

Ответ: _____



Подпишите на карте материка, берега которых омывают воды указанного Вами океана.



Задание 2 выполняется с использованием карты мира, приведённой на странице 2.

2

2.1. Поставьте точки на карте по приведённым ниже координатам. Обозначьте эти точки соответственно цифрами 1 и 2.



Точка 1 – 40° с. ш. 135° в. д.



Точка 2 – 40° с. ш. 4° з. д.

В каком направлении от точки 1 расположена точка 2?



Ответ. _____

2.2. Точка 2 расположена на территории крупного географического объекта. Прочитайте текст, рассмотрите фотографию и космический снимок и укажите название этого географического объекта.

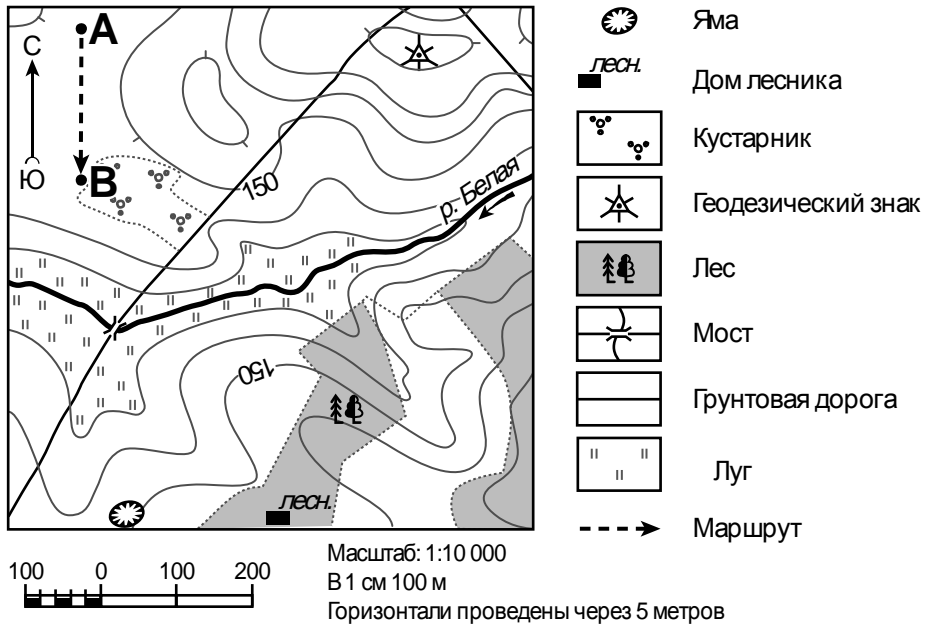
Полуостров на юго-западе Европы, входящий в десятку крупнейших полуостровов, площадью около 600 тыс. км². Своё название полуостров получил по названию гор, окаймляющих его на северо-востоке. Этот полуостров также называют Иберийским по названию народа иберов, живших на его территории. Берега полуострова омываются водами Атлантического океана, Средиземного моря и Бискайского залива, на юге он отделён от Африки Гибралтарским проливом. Здесь, на его южной окраине, находится Британская заморская территория Гибралтар. Основную часть полуострова занимают два крупных европейских государства: Испания и Португалия. Исторические достопримечательности этих стран и удивительная природа полуострова привлекают сюда тысячи туристов.



Ответ. _____

Задание 3 выполняется с использованием приведённого ниже фрагмента топографической карты.

3



3.1. На каком берегу реки Белой находятся заросли кустарника?

Ответ. _____

В каком направлении от геодезического знака расположена яма?

Ответ. _____

3.2. Какова протяжённость проложенного на карте маршрута А–В? Для выполнения задания используйте линейку. Расстояние измеряйте по центрам точек.

Ответ. _____

3.3. Какой из изображённых на фотографиях объектов может быть сооружён на территории, по которой проходит маршрут А – В? Запишите в ответе **номер** фотографии. Обоснуйте свой ответ.



1 – вертолётная площадка



2 – лыжный подъёмник

Ответ. Объект: _____


4

4.1. Разница во времени между городами Курском и Ангарском составляет **+5 часов**. На рисунках представлены показания часов в этих городах в тот момент, когда в Курске **10 часов утра**. Запишите под каждым рисунком, как отображается то же самое время на электронных часах в этих городах.

КУРСК



АНГАРСК



4.2. Артём живёт в Курске. Что он делает в указанное Вами время? Используйте для ответа приведённый режим дня школьника.

Ответ. _____

4.3. Что в это же время делает его сверстница Дина, которая живёт в Ангарске, если она соблюдает тот же режим дня, что и Артём?

Ответ. _____

Обоснуйте свой ответ. Укажите, чем обусловлена разница во времени в разных частях Земли.

Ответ. _____

РЕЖИМ ДНЯ ШКОЛЬНИКА

7.00	<i>Подъём</i>
7.05 – 7.20	<i>Утренняя зарядка</i>
7.20 – 7.30	<i>Гигиенические процедуры</i>
7.30 – 8.00	<i>Завтрак</i>
8.00 – 8.15	<i>Дорога в школу</i>
8.30 – 13.10	<i>Уроки в школе</i>
13.10 – 13.30	<i>Дорога домой</i>
13.45 – 14.15	<i>Обед</i>
14.15 – 16.15	<i>Занятия в кружках/секциях</i>
16.30 – 16.45	<i>Полдник</i>
16.45 – 18.15	<i>Выполнение домашних заданий</i>
18.15 – 19.15	<i>Прогулка на свежем воздухе</i>
19.30 – 20.00	<i>Ужин</i>
20.00 – 21.30	<i>Свободное время (чтение книг, просмотр телепередач, настольные игры)</i>
21.30 – 22.00	<i>Гигиенические процедуры и подготовка ко сну</i>
22.00 – 7.00	<i>Ночной сон</i>

5

5.1. Установите соответствие между географическими особенностями и природными зонами, для которых они характерны: для этого к каждой позиции первого столбца подберите соответствующую позицию из второго столбца.

ГЕОГРАФИЧЕСКИЕ ОСОБЕННОСТИ

ПРИРОДНЫЕ ЗОНЫ

- | | |
|---|-------------------|
| А) произрастание ели, сосны, берёзы, осины, дуба | 1) степь |
| Б) продолжительное засушливое лето, малоснежная зима с позёмками и метелями | 2) смешанные леса |
| В) безлесное пространство, покрытое травянистой растительностью | |
| Г) умеренно холодная, снежная зима и тёплое лето | |
| Д) преобладание плодородных почв – чернозёмов | |
| Е) переходная зона от тайги к зоне широколиственных лесов | |

Запишите в таблицу выбранные цифры под соответствующими буквами.

Ответ.

А	Б	В	Г	Д	Е

5.2. Определите, в какой из указанных природных зон могла быть сделана каждая фотография. Подпишите названия природных зон.

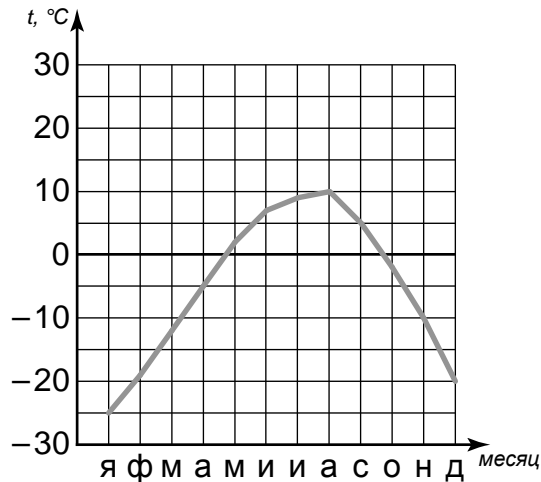


А – _____

Б – _____

6

На метеорологической станции города N в течение года наблюдали за температурой воздуха. По результатам наблюдений метеорологи построили график годового хода температуры. Рассмотрите график годового хода температуры и ответьте на вопросы.



6.1. Какой месяц был самым холодным в году?

Ответ. _____

Какова годовая амплитуда температур?

Ответ. _____

6.2. На каком рисунке знаками отображена погода в тот день, когда шёл дождь? Укажите букву, которой обозначен этот рисунок. Составьте описание погоды в этот день по условным обозначениям на указанном Вами рисунке.

А				-22 °C	76%
Б				+11 °C	64%
В				+5 °C	85%

Ответ. Рисунок: _____

7

Прочитайте текст и выполните задание.

(1)Тайга – самая крупная по площади природная зона, расположенная в умеренных широтах Северного полушария. (2)В растительном покрове преобладают хвойные деревья: ель, пихта, лиственница, сосна, все они, кроме лиственницы, являются вечнозелёными. (3)Зима в тайге продолжительная и холодная, температура в разных частях тайги колеблется от -10 до -25 °C. (4)Зимой в тайге выпадает много снега, и снежный покров сохраняется в течение всех зимних месяцев, летом часты дожди. (5)Большая часть территории тайги лежит в зоне многолетней мерзлоты, много озёр и болот. (6)Заболоченность во многом связана с довольно большим количеством осадков и недостаточным испарением вследствие низких температур.

По каким предложениям можно составить представление о климате тайги? Запишите номера предложений.

Ответ. _____

8

8.1. Используя приведённую ниже таблицу, выполните задания.

Численность и показатели рождаемости и смертности населения, 2016 г.

№	Страна	Численность населения, млн человек	Показатели рождаемости и смертности, на 1000 жителей	
			рождаемость	смертность
1	Индия	1353	22	7
2	США	325	12	8
3	Италия	61	8	11
4	Китай	1387	12	7

Расположите страны в порядке **уменьшения** численности населения, начиная со страны с самой большой численностью. Запишите в ответе последовательность порядковых номеров этих стран.

Ответ. _____

В какой стране показатель рождаемости меньше, чем показатель смертности? Запишите в ответе название страны.

Ответ. _____

В каких странах показатели рождаемости одинаковы? Запишите в ответе названия стран.

Ответ. _____



8.2. На photographиях изображены достопримечательности стран, указанных в таблице. Запишите под каждой фотографией название соответствующей **страны**.



А – _____



Б – _____



В – _____



Г – _____



9

Рассмотрите фотографию с изображением последствий опасного явления природы. Запишите его название.



Ответ. Природное явление – _____

Составьте краткое описание этого природного явления. Поясните, чем опасно это явление для людей.

Ответ. _____

10

10.1. Запишите название региона: республики, или области, или края, или автономного округа, или города федерального значения, в котором Вы живёте.

Ответ. _____

Как называется главный город Вашего региона? / Как называется / округ / муниципальный район города, в котором Вы живёте или расположена Ваша школа?

Ответ. _____

10.2. Какие крупные водоёмы есть на территории Вашего региона? Опишите виды хозяйственной деятельности людей, связанные с этими водоёмами.

Ответ. _____