

**Проверочная работа
по БИОЛОГИИ**

6 КЛАСС

Вариант 2

Инструкция по выполнению работы

На выполнение работы по биологии отводится 45 минут. Работа включает в себя 10 заданий.

Ответы на задания запишите в поля ответов в тексте работы. В случае записи неверного ответа зачеркните его и запишите рядом новый.

При выполнении работы не разрешается пользоваться учебником, рабочими тетрадями и другим справочным материалом. Разрешается использовать линейку.

При необходимости можно пользоваться черновиком. Записи в черновике проверяться и оцениваться не будут.

Советуем выполнять задания в том порядке, в котором они даны. В целях экономии времени пропускайте задание, которое не удаётся выполнить сразу, и переходите к следующему. Если после выполнения всей работы у Вас останется время, то Вы сможете вернуться к пропущенным заданиям.

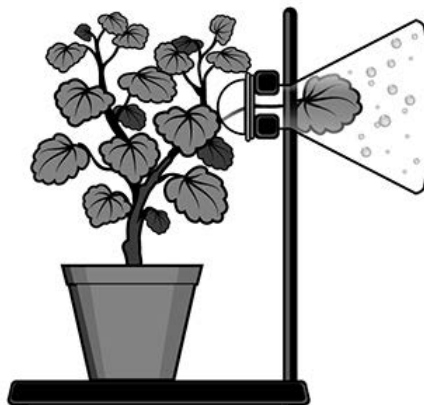
Желаем успеха!

Таблица для внесения баллов участника

Номер задания	1.1	1.2	1.3	2.1	2.2	3.1	3.2	3.3	3.4	4	5.1	5.2	5.3	6	7	8.1	8.2	8.3	
Баллы																			
Номер задания	9	10.1	10.2	Сумма баллов	Отметка за работу														
Баллы																			

1

На представленном ниже рисунке ученик увидел один из процессов жизнедеятельности растений. Рассмотрите рисунок и ответьте на вопросы.



1.1. Как называют данный процесс?

Ответ. _____

1.2. Знание в области какой ботанической науки позволит ученику изучить данный процесс?

Ответ. _____

1.3. Какие структуры покровной ткани листа выводят пары воды на поверхность?

Ответ. _____

2

В приведённой ниже таблице между позициями первого и второго столбцов имеется взаимосвязь.

Целое	Часть
...	Камбий
Покровная ткань	Кожица

2.1. Какое понятие следует вписать на место пропуска в этой таблице?

- 1) образовательная ткань
- 2) проводящая ткань
- 3) механическая ткань
- 4) запасная ткань

Ответ.

2.2. Какую функцию выполняют устьица у растений?

Ответ. _____

3

3.1. Рассмотрите рисунок растительной клетки (рис. 1). Какая структура клетки обозначена на рисунке буквой А?

Ответ. _____

3.2. Каково значение этой структуры в жизнедеятельности клетки?

Ответ. _____

3.3. Артём рассмотрел под микроскопом кончик корешка лука и сделал микрофотографию (рис. 2). Что он обозначил на фотографии цифрой 1?

Ответ. _____

3.4. Какую ткань защищает структура, обозначенная цифрой 1?

Ответ. _____

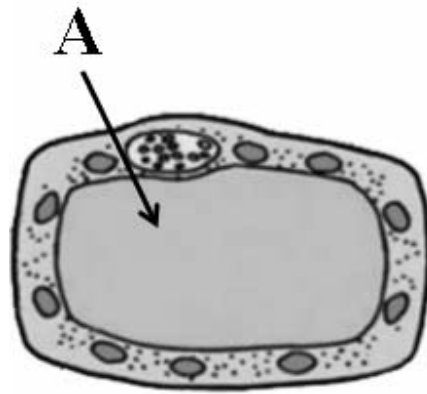


Рис. 1

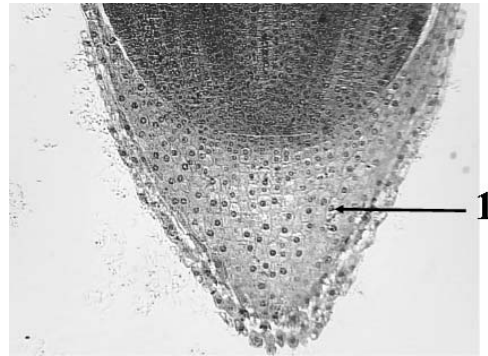


Рис. 2

4

Выберите из предложенного списка и вставьте в текст пропущенные слова (словосочетание), используя для этого их цифровые обозначения. Впишите номера выбранных слов на места пропусков в тексте.

СЕМЯЗАЧАТОК

Семязачаток образуется в _____ (А) пестика. Снаружи он снабжён покровами, внутри находится _____ (Б), состоящий из нескольких клеток. Одна из его клеток – женская половая клетка – _____ (В). В центре расположена клетка, которую называют центральной. Она тоже участвует в процессе двойного оплодотворения.

Список слов (словосочетание):

- 1) зародышевый мешок
- 2) завязь
- 3) столбик
- 4) эндосперм
- 5) спермий
- 6) яйцеклетка

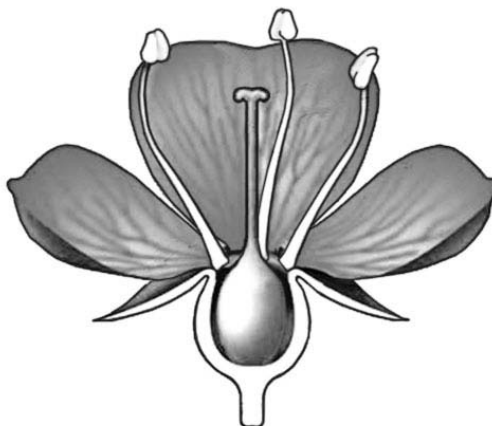
Запишите в таблицу выбранные цифры под соответствующими буквами.

Ответ.

А	Б	В

5

Рассмотрите изображение цветка и выполните задания.



5.1. Покажите стрелками и подпишите на рисунке *лепесток*, *столбик*, *завязь*.

5.2. Какую функцию в цветке выполняет *завязь*?

Ответ. _____

5.3. Что, кроме зародыша и семенной кожуры, может находиться в семени?

Ответ. _____

6

У какого из перечисленных растений сложные листья?

- 1) рябина
- 2) берёза
- 3) клён
- 4) дуб

Ответ.

7

Используя приведённую ниже таблицу, ответьте на вопросы.

Сроки хранения и схожести семян, глубина их заделки в почву

Растение	Срок хранения, годы	Максимальный срок всхожести, дни	Глубина заделки семян, см
Бобы	5–6	10	5–6
Лук	3–4	12	1–2
Перец	3–4	15	1–2
Редис	4–5	7	2–4

Семена каких двух растений из перечисленных в таблице сохраняют жизнеспособность меньше всего?

Ответ. _____

Семена какого растения из перечисленных в таблице заделывают на наибольшую глубину?

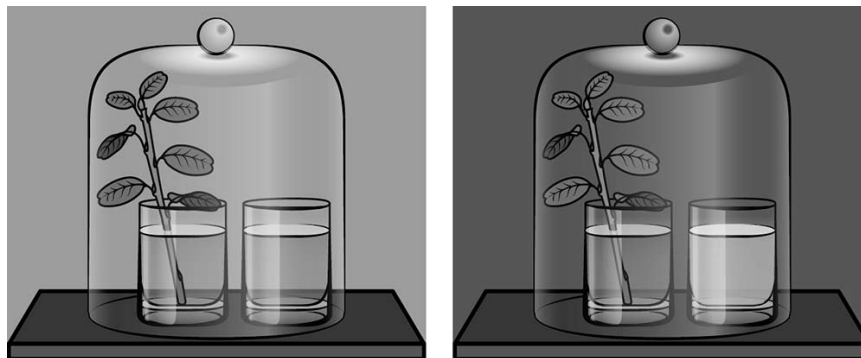
Ответ. _____

Семена какого растения из перечисленных в таблице прорастут на 7-й день после посева?

Ответ. _____

8

Известно, что растения дышат. Николай решил убедиться в этом, проведя следующий опыт. Он поместил побег комнатного растения с листьями в стакан с водой. Рядом поставил другой стакан с прозрачной известковой водой. Затем закрыл растение и стакан с известковой водой стеклянным колпаком и поместил в тёмный шкаф на сутки. На следующий день Николай обратил внимание на то, что в стакане раствор помутнел.



8.1. Какую задачу ставил Николай, помещая растение и стакан с известковой водой под стеклянный колпак?

Ответ. _____

8.2. Почему Николай поместил растение в тёмный шкаф?


Ответ. _____

8.3. Можно ли утверждать, что если в стакан налить раствор поваренной соли, а не известковую воду, то он помутнеет? Обоснуйте свой ответ.

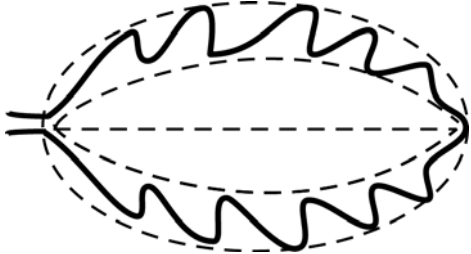


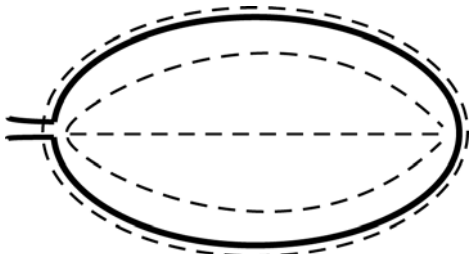
Ответ. _____

9


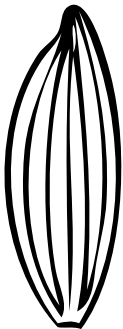


Рассмотрите изображение листа груши и опишите его по следующему плану: форма листа, жилкование листа, тип листа по соотношению длины и ширины листовой пластинки (без черешка) и по расположению наиболее широкой части. Используйте при выполнении задания линейку и карандаш.



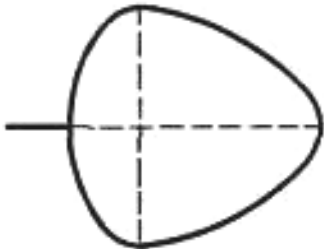
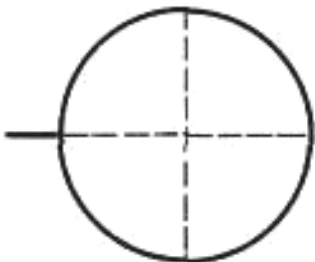
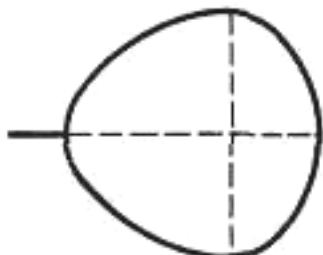
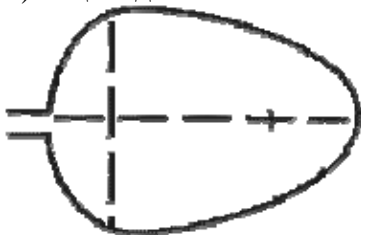
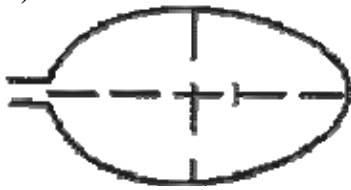

А. Форма листа

<p>1) перисто-лопастная</p> 	<p>2) перисто-раздельная</p> 
<p>3) перисто-рассечённая</p> 	<p>4) цельная</p> 

Б. Жилкование листа

			
1) параллельное	2) дуговидное	3) пальчатое	4) перисто-сетчатое

В. Тип листа по соотношению длины и ширины листовой пластинки (без черешка) и по расположению наиболее широкой части

Длина равна ширине или немного её превышает.		
1) широкояйцевидный 	2) округлый 	3) обратно-широкояйцевидный 
Длина превышает ширину в 1,5–2 раза.		
4) яйцевидный 	5) овальный 	6) обратно-яйцевидный 

Впишите в таблицу **номера** выбранных ответов под соответствующими буквами.

Ответ.










А	Б	В

10

Растения по-разному относятся к свету, теплу и влаге, и это учитывается цветоводами при разведении различных растений.





10.1. Опишите особенности растений сингониума и молочая, которые необходимо учитывать при их разведении в домашних условиях, используя для этого таблицу условных обозначений.

Условные обозначения:

1) Выносливость			3) Требуемый режим полива				
	выносливое	капризное		сухая земля	увлажнённая земля	постоянно влажная земля	вода в поддоне
2) Требуемая влажность воздуха			4) Отношение к свету				
	не требует опрыскивания	регулярное опрыскивание		прямые лучи	рассеянный свет	полутень	тень

Характеристики:



1)	2)	3)	4)
			

Сингониум:





1) _____

 2) _____

 3) _____

 4) _____



1)	2)	3)	4)
			

Молочай:

1) _____

 2) _____

 3) _____

 4) _____

10.2. По каким позициям из приведённых в описании эти растения имеют одинаковые характеристики?

Ответ. _____
