

**Проверочная работа
по ФИЗИКЕ**

7 класс

Вариант 2

Инструкция по выполнению работы

На выполнение работы по физике даётся 45 минут. Работа содержит 11 заданий.

Ответом на каждое из заданий 1, 3-6, 8, 9 является число или несколько чисел. В заданиях 2 и 7 нужно написать текстовый ответ. В заданиях 10 и 11 нужно написать решения задач полностью. В случае записи неверного ответа зачеркните его и запишите рядом новый.

При выполнении работы можно пользоваться непрограммируемым калькулятором.

При необходимости можно пользоваться черновиком. Записи в черновике проверяться и оцениваться не будут.

Советуем выполнять задания в том порядке, в котором они даны. Для экономии времени пропускайте задание, которое не удаётся выполнить сразу, и переходите к следующему. Постарайтесь выполнить как можно больше заданий.

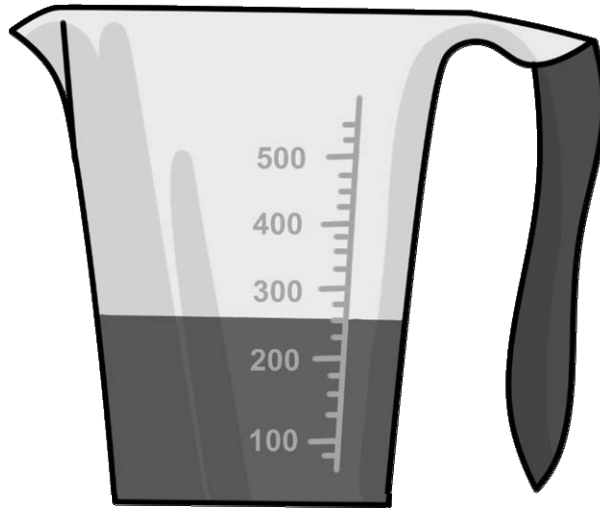
Желаем успеха!

Таблица для внесения баллов участника

Номер задания	1	2	3	4	5	6	7	8	9	10	11	Сумма баллов	Отметка за работу
Баллы													

1

Настя купила пакет сока и решила проверить, соответствует ли реальный объём сока значению, указанному на упаковке. На пакете было написано, что объём сока равен 275 мл. Настя перелила весь сок в мерный стакан. Определите разницу между указанным на упаковке и измеренным значениями объёма.



Ответ: _____ мл.

2

Для того, чтобы лучше сохранить цветные рисунки в старинных книгах, между их страницами кладут листы тонкой прозрачной бумаги. Замечено, что со временем на этой бумаге появляются бледные отпечатки рисунков. Назовите физическое явление, благодаря которому краска с рисунков переходит на бумагу. В чём состоит это физическое явление?

Ответ: _____

3

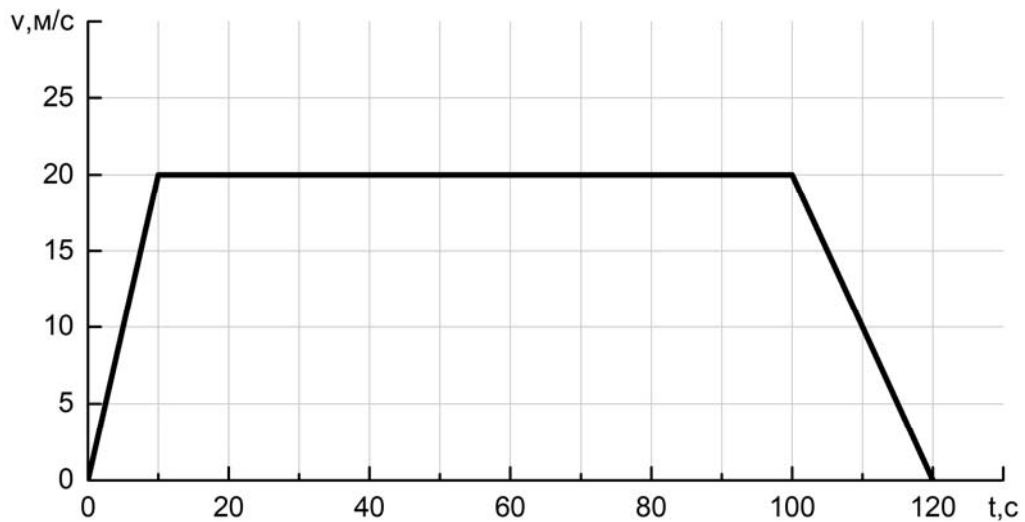
Петя посмотрел на этикетку, наклеенную на бутылку с подсолнечным маслом, и ему стало интересно, каково значение плотности этого масла. Найдите плотность масла, пользуясь данными с этикетки.



Ответ: _____ кг/м³.

4

На рисунке приведён график зависимости скорости электропоезда метро от времени при движении между двумя станциями. Сколько секунд поезд двигался с постоянной скоростью?



Ответ: _____ с.

5

Играя в кондитерский магазин, подружки взвешивали на рычажных весах две шоколадные плитки одинакового размера (без обёрток). Для того чтобы уравновесить первую плитку шоколада, им понадобились одна гирилка массой 50 грамм и две гирилки массами по 10 грамм каждая. Для взвешивания второй плитки им понадобились одна гирилка массой 50 грамм, одна массой 10 грамм и одна массой 5 грамм. Подружки сообразили, что один шоколад был пористым, а второй – более плотным. Чему была равна масса плитки пористого шоколада?

Ответ: _____ г.

6

Какое давление оказывает Андрей на горизонтальный пол, когда он ровно стоит, отвечая у доски, если масса Андрея 48 кг, а площадь подошвы одного его ботинка равна $0,016 \text{ м}^2$? Ускорение свободного падения 10 Н/кг .

Ответ: _____ кПа.

7

Известно, что солнечные лучи достигают Земли за 8 минут 20 секунд. Скорость света в вакууме 299 792 км/с. Пользуясь таблицей, определите, в каких средах свет пройдёт то же самое расстояние менее чем за 12 минут? Ответ кратко поясните.

Скорость света в различных средах	
Среда	Скорость, км/с
Воздух	299 704
Лёд	228 782
Вода	225 341
Стекло	199 803
Кедровое масло	197 174
Кварц	194 613
Рубин	170 386
Алмаз	123 845

□ Ответ: _____

8

Спортсмен, занимающийся дайвингом, погрузился в воду на глубину 90 метров. Определите, во сколько раз отличается давление, которое испытывает на себе спортсмен на этой глубине, от давления, испытываемого им на поверхности воды, если давление, создаваемое десятью метрами водяного столба, эквивалентно атмосферному давлению.

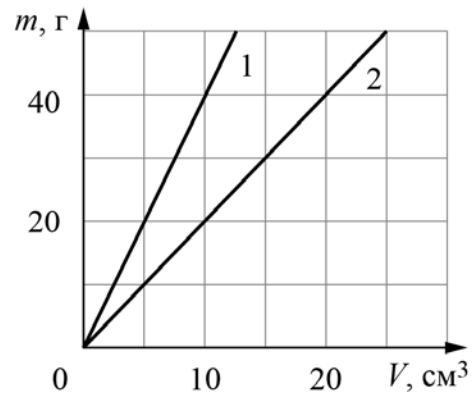
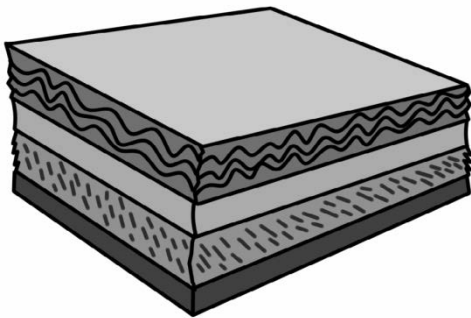
□ Ответ: в _____ раз(а).

9

Композитный материал – это неоднородный сплошной материал, состоящий из двух или более компонентов, свойства которых сильно различаются. Первое использование композитного материала относится примерно к 1500 году до нашей эры, когда в Египте и в Месопотамии для постройки зданий начали использовать перемешанные глину с соломой.

На рисунке показаны графики зависимости массы от объема для двух компонентов композитного материала. В некотором образце этого композитного материала объем первого компонента равен 30 см^3 , а объем второго компонента – 20 см^3 .

- 1) Определите массу первого компонента в образце композитного материала.
- 2) Определите среднюю плотность образца композитного материала, если объем образца равен сумме объемов компонентов.



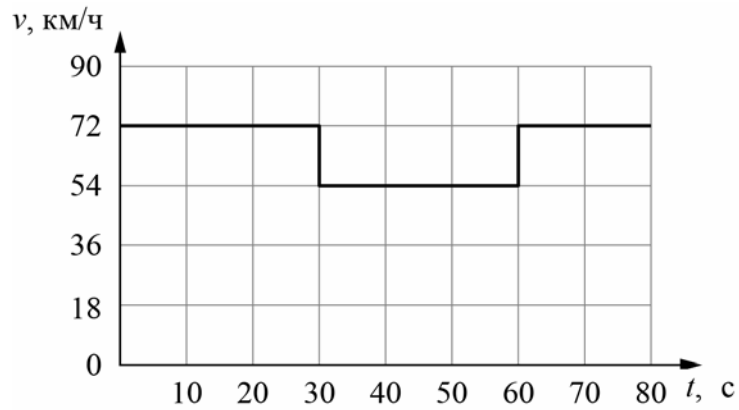
Ответ: 1) _____ г;

2) _____ г/см³.

10

Согласно инструкции для машинистов, если локомотив или хотя бы один вагон поезда движется по мосту, скорость поезда не должна превышать 60 км/ч. Машинист вёл поезд, строго выполняя инструкцию. На рисунке показан график зависимости скорости v движения поезда от времени t .

- 1) Сколько времени машинист ехал по мосту?
 - 2) Определите длину поезда, если длина состава равна длине моста.
 - 3) Сколько вагонов было в составе, если длина локомотива и каждого вагона поезда $l = 25$ м?
- Ответы на вопросы обоснуйте соответствующими рассуждениями или решением задачи.



Решение:	
<div style="border: 1px solid black; width: 20px; height: 20px; display: inline-block; margin-right: 5px;"></div> Ответ:	

11

Семиклассника Мишу попросили определить объём одной монетки и выдали для этого 24 одинаковых монеты и мерный цилиндр. Для проведения опыта Миша налил в цилиндр воду до уровня 56 мл, а затем стал кидать туда монетки, отмечая уровень воды и соответствующее количество монеток. Опустив в стакан 5 монеток, Миша заметил, что уровень воды расположился между отметками в 60 и 61 миллилитров; при 13 монетках – между 67 и 68 мл, а при 24 монетках – между 76 и 77 мл. На основании полученных Мишей результатов ответьте на следующие вопросы.

- 1) По результатам каждого измерения определите объём монетки и оцените погрешность определения объёма монетки.
- 2) В каком из трёх экспериментов точность определения объёма монетки будет наибольшей?
- 3) Пользуясь результатами того из трёх измерений, которое позволяет определить объём монетки с наибольшей точностью, найдите массу одной монетки и оцените её погрешность. Считайте, что плотность монетки равна $6,8 \text{ г/см}^3$ точно.

Решение:

 Ответ: