

**Проверочная работа  
по ИСТОРИИ****5 класс****Вариант 1****Инструкция по выполнению работы**

На выполнение работы по истории даётся 45 минут. Работа состоит из двух частей и включает в себя 8 заданий. Часть 1 работы содержит задания по истории Древнего мира, в части 2 предложены задания по истории родного края.

Ответы на задания запишите в поля ответов в тексте работы. В случае записи неверного ответа зачеркните его и запишите рядом новый.

При выполнении работы не разрешается пользоваться учебником, рабочими тетрадями и другими справочными материалами.

При необходимости можно пользоваться черновиком. Записи в черновике проверяться и оцениваться не будут.

Советуем выполнять задания в том порядке, в котором они даны. В целях экономии времени пропускайте задание, которое не удаётся выполнить сразу, и переходите к следующему. Если после выполнения всей работы у Вас останется время, то Вы сможете вернуться к пропущенным заданиям.

***Желаем успеха!****Таблица для внесения баллов участника*

Номер задания	1	2	3	4	5	6	7	8	Сумма баллов	Отметка за работу
Баллы										

## Часть 1

**В этой части работы даны задания по истории Древнего мира.**

**Прочтите перечень из четырёх тем и выполните задания, относящиеся к этому перечню.**

## Перечень тем

А) Древняя Греция

Б) Древняя Индия

В) Древний Египет

Г) шумерские города-государства


1

Каждая из иллюстраций, приведённых ниже, относится к одной из указанных в перечне тем. Установите соответствие между темами и иллюстрациями: к каждой теме подберите по одной иллюстрации.


1)



2)



3)



4)



Запишите в таблицу выбранные цифры под соответствующими буквами.

Ответ:

А	Б	В	Г

## Перечень тем

А) Древняя Греция

Б) Древняя Индия

В) Древний Египет

Г) шумерские города-государства

2

Прочтите отрывок из исторического источника и определите, к какой из данных тем он относится. В ответе напишите букву, которой обозначена эта тема.

«В противоположность большинству греков, счёл Ликург необходимым и следующее. В остальных государствах каждый распоряжается сам своими детьми, рабами и имуществом; а Ликург, желая устроить так, чтобы граждане не вредили друг другу, а приносили пользу, предоставил каждому одинаково распоряжаться как своими детьми, так и чужими: ведь если всякий будет знать, что перед ним находятся отцы тех детей, которыми он распоряжается, то неизбежно он будет ими распоряжаться так, как он хотел бы, чтобы относились к его собственным детям. Если мальчик, побитый кем-нибудь посторонним, жалуется отцу, считается постыдным, если отец не побьёт сына ещё раз. Так спартанцы уверены в том, что никто из них не приказывает мальчикам ничего постыдного».

Ответ:

**Выберите одну тему из перечня, а затем выполните относящиеся к этому перечню задания только по выбранной Вами теме. Перед выполнением каждого из относящихся к перечню заданий укажите букву, которой обозначена выбранная тема. Указанные в заданиях буквы должны быть одинаковыми.**

3

Выбранная тема:  (укажите букву в перечне).

Прочтите список слов и напишите слово, относящееся к выбранной Вами теме.

*Мемфис, Поднебесная, «Рамаяна», Гильгамеш, минотавр, Песеполь.*

Ответ: \_\_\_\_\_

Объясните смысл этого слова (словосочетания).

Ответ: \_\_\_\_\_

## Перечень тем

## А) Древняя Греция

## Б) Древняя Индия

## В) Древний Египет

### Г) шумерские города-государства

4

Выбранная тема:  (укажите букву в перечне).

Прочтите список событий (явлений, процессов) и напишите событие (явление, процесс), которое относится к выбранной Вами теме.

Создание первого алфавита, легенда о принце Гаутаме, реформы Солона, военные походы фараонов, внутренняя политика Дария I, возникновение первых государств в Двуречье.

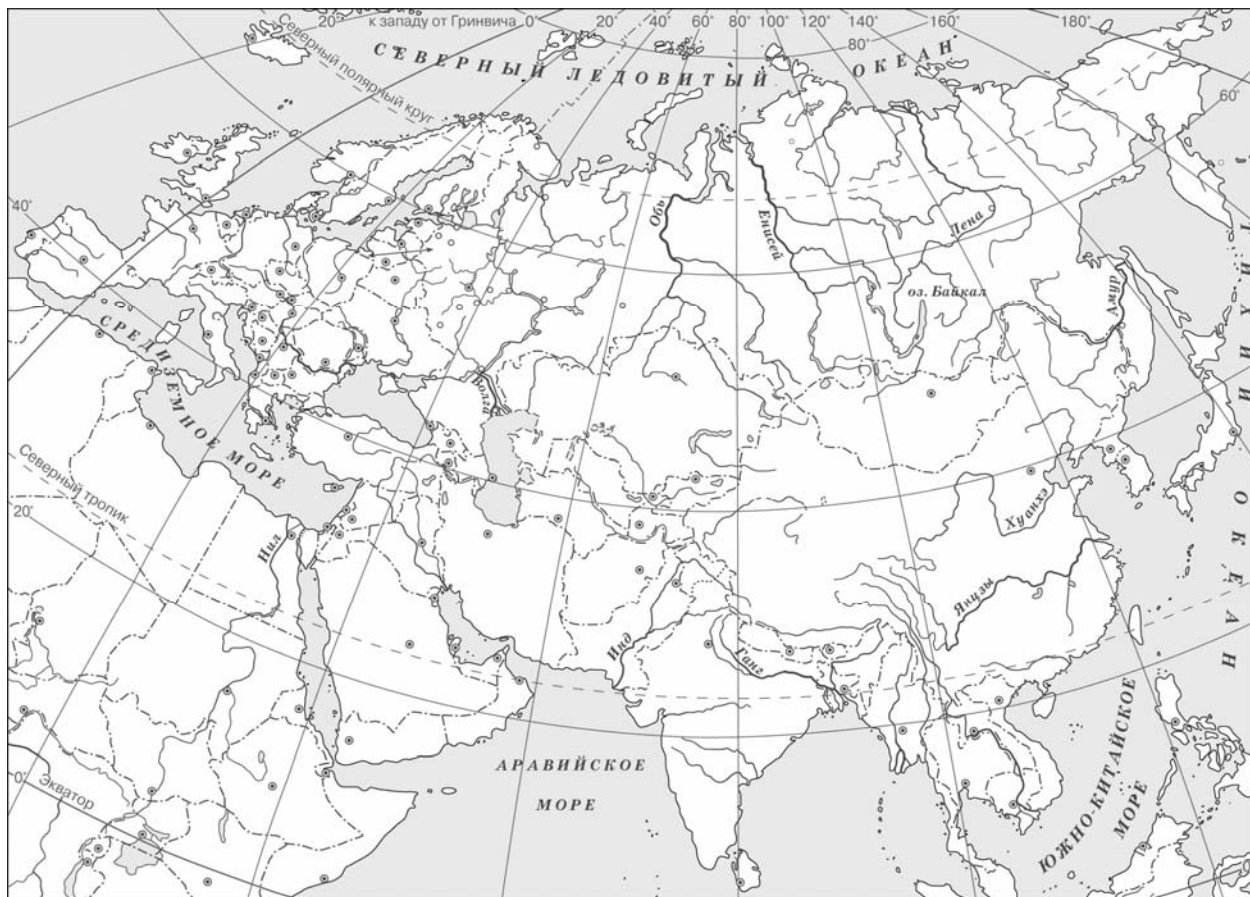
ОТВЕТ:

Используя знания по истории, расскажите об этом событии (явлении, процессе). Ваш рассказ должен содержать не менее двух исторических фактов.

This image shows a blank sheet of white paper with horizontal ruling lines. The lines are evenly spaced and run across the width of the page. There are no margins, text, or other markings on the paper.

5

Заштрихуйте на контурной карте четырёхугольник, образованный градусной сеткой (параллелями и меридианами), в котором расположен город Иерусалим.



6

Используя знания исторических фактов, объясните, как природно-климатические условия повлияли на занятия жителей страны, в которой расположен город Иерусалим.

Ответ: \_\_\_\_\_

\_\_\_\_\_

\_\_\_\_\_

\_\_\_\_\_

## Часть 2

**Вспомните важнейшие события истории Вашего региона или населённого пункта и выполните задания 7 и 8.**

7

Назовите один факт из истории Вашего региона, благодаря которому Ваш регион стал известен всей стране.

Ответ:

8

Какое значение имеет этот исторический факт для истории Вашего региона, или нашей страны, или мира в целом?