

**Проверочная работа
по ИСТОРИИ**

5 класс

Вариант 1

Инструкция по выполнению работы

На выполнение работы по истории даётся 45 минут. Работа состоит из двух частей и включает в себя 8 заданий. Часть 1 работы содержит задания по истории Древнего мира, в части 2 предложены задания по истории родного края.

Ответы на задания запишите в поля ответов в тексте работы. В случае записи неверного ответа зачеркните его и запишите рядом новый.

При выполнении работы не разрешается пользоваться учебником, рабочими тетрадями и другими справочными материалами.

При необходимости можно пользоваться черновиком. Записи в черновике проверяться и оцениваться не будут.

Советуем выполнять задания в том порядке, в котором они даны. В целях экономии времени пропускайте задание, которое не удаётся выполнить сразу, и переходите к следующему. Если после выполнения всей работы у Вас останется время, то Вы сможете вернуться к пропущенным заданиям.

Желаем успеха!

Таблица для внесения баллов участника

Номер задания	1	2	3	4	5	6	7	8	Сумма баллов	Отметка за работу
Баллы										

Часть 1




В этой части работы даны задания по истории Древнего мира.

Прочтите перечень из четырёх тем и выполните задания, относящиеся к этому перечню.

- Перечень тем**
- | | |
|----------------------|-------------------|
| А) Древняя Палестина | Б) Древняя Греция |
| В) Древний Египет | Г) Древняя Индия |

1

Каждая из иллюстраций, приведённых ниже, относится к одной из указанных в перечне тем. Установите соответствие между темами и иллюстрациями: к каждой теме подберите по одной иллюстрации.



Запишите в таблицу выбранные цифры под соответствующими буквами.

□

Ответ:

А	Б	В	Г

Перечень тем

А) Древняя Палестина

Б) Древняя Греция

В) Древний Египет

Г) Древняя Индия

2

Прочтите отрывок из исторического источника и определите, к какой из данных тем он относится. В ответе напишите букву, которой обозначена эта тема.

«I-93. Вследствие происхождения из наилучшей части тела [Брахмы], вследствие первородства, знания Веды, брахман по праву господин всего этого творения.

I-96. Из живых существ наилучшими считаются одушевлённые, между одушевлёнными – разумные, между разумными – люди, между людьми – брахманы.

X-3. Вследствие своей исключительности, превосходства происхождения, соблюдения ограничительных правил и особенности посвящения брахман – владыка варн.

X-4. Брахманы, кшатрии и вайшьи – три варны дважды рождённых, четвёртая же шудры – рождённые один раз, пятой же нет».

Ответ:

Выберите одну тему из перечня, а затем выполните относящиеся к этому перечню задания только по выбранной Вами теме. Перед выполнением каждого из относящихся к перечню заданий укажите букву, которой обозначена выбранная тема. Указанные в заданиях буквы должны быть одинаковыми.

3

Выбранная тема: (укажите букву в перечне).

Прочтите список слов (словосочетаний) и напишите слово (словосочетание), относящееся к выбранной Вами теме.

Санскрит, акрополь, десять заповедей, патрици, клинопись, Мемфис.

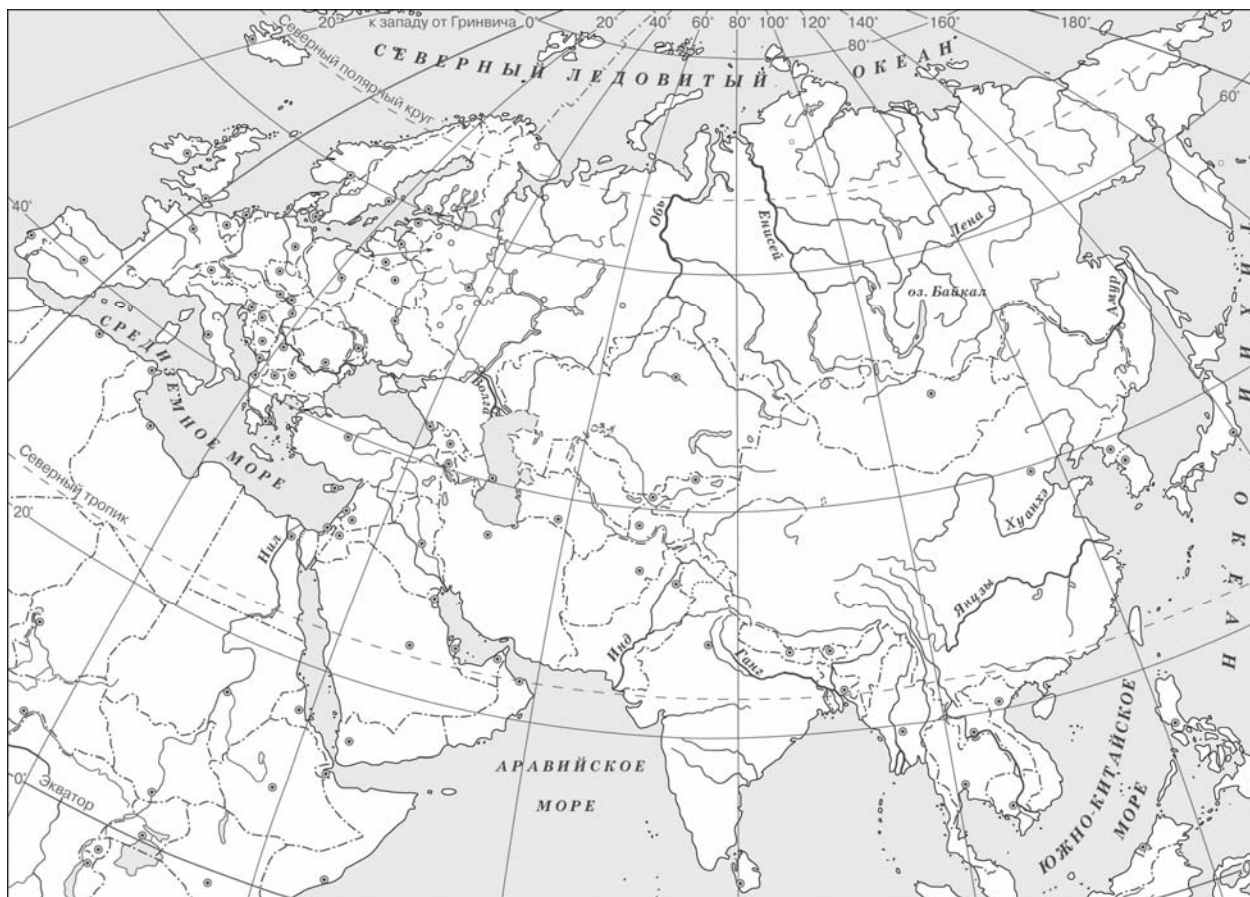
Ответ: _____

Объясните смысл этого слова (словосочетания).

Ответ: _____

5

Заштрихуйте на контурной карте четырёхугольник, образованный градусной сеткой (параллелями и меридианами), в котором были расположены шумерские города-государства Ур, Урук, Лагаш.



6

Используя знания исторических фактов, объясните, как природно-климатические условия повлияли на занятия жителей территории, на которой были расположены шумерские города-государства Ур, Урук, Лагаш.

□

Ответ: _____

Часть 2

Вспомните важнейшие события истории Вашего региона или населённого пункта и выполните задания 7 и 8.

7 Назовите одно любое историческое событие (явление, процесс), имевшее большое значение для Вашего региона или населённого пункта.

Ответ: _____

8 Какое значение имело названное Вами событие (явление, процесс) для Вашего региона или населённого пункта?

