

**Проверочная работа
по ИСТОРИИ**

8 класс

Вариант 1

Инструкция по выполнению работы

На выполнение работы по истории даётся 90 минут. Работа включает в себя 13 заданий. Часть 1 работы посвящена истории России и истории зарубежных стран (история Нового времени), в части 2 предложено задание по истории Вашего родного края.

Ответы на задания запишите в поля ответов в тексте работы. В случае записи неверного ответа зачеркните его и запишите рядом новый.

При необходимости можно пользоваться черновиком. Записи в черновике проверяться и оцениваться не будут.

Советуем выполнять задания в том порядке, в котором они даны. В целях экономии времени пропускайте задание, которое не удаётся выполнить сразу, и переходите к следующему. Если после выполнения всей работы у Вас останется время, то Вы сможете вернуться к пропущенным заданиям.

Желаем успеха!

Таблица для внесения баллов участника

Номер задания	1	2	3	4	5	6	7	8	9	10	11	12	13	Сумма баллов	Отметка за работу
Баллы															

Часть 1

В этой части работы даны задания по истории России и истории зарубежных стран в Новое время.

1

Расположите в хронологической последовательности исторические события. Запишите цифры, которыми обозначены исторические события, в правильной последовательности в таблицу.

- 1) составление «Кондиций верховников»
- 2) учреждение Правительствующего сената
- 3) учреждение первых Дворянских собраний

Ответ:

--	--	--

2

Запишите название, о котором идёт речь.

Законодательный акт Петра I, по которому отец мог передать недвижимое имущество только одному из сыновей или дочери (если нет сына), а при отсутствии детей – одному из своих родственников, но непременно той же фамилии.

Ответ: _____.

Рассмотрите изображение и выполните задания 3, 4.



3

Укажите название войны, в ходе которой произошло изображённое на медали сражение.

Ответ: _____.

4

Укажите основного противника России в этой войне.

Ответ: _____.

Прочтите отрывок из исторического источника и выполните задание 5.

«Когда она увидела себя единственной обладательницей короны, то правила с возможно большей осторожностью и умеренностью и оказывала то же доверие, которое имел её покойный муж, к князю Меншикову, который стал её первым министром; а когда был заключён Венский трактат, то она присоединилась к нему, за что император так почитал её, что уговорил короля, нашего государя, направить посла ко двору её царского величества, чтобы он находился там. Мне пришлось (невзирая на мои слабые способности) быть первым испанским послом, который отправился в страну, столь далёкую от нашей. Царица была немало исполнена тщеславия от того, что король посылает к ней официальное посольство, а в качестве посла – человека с моим происхождением. Но Богу не угодно было, чтобы я имел удовольствие и удовлетворение познакомиться с этой великой государыней. Она умерла 17 мая, спустя два месяца после моего отъезда из Мадрида».

5

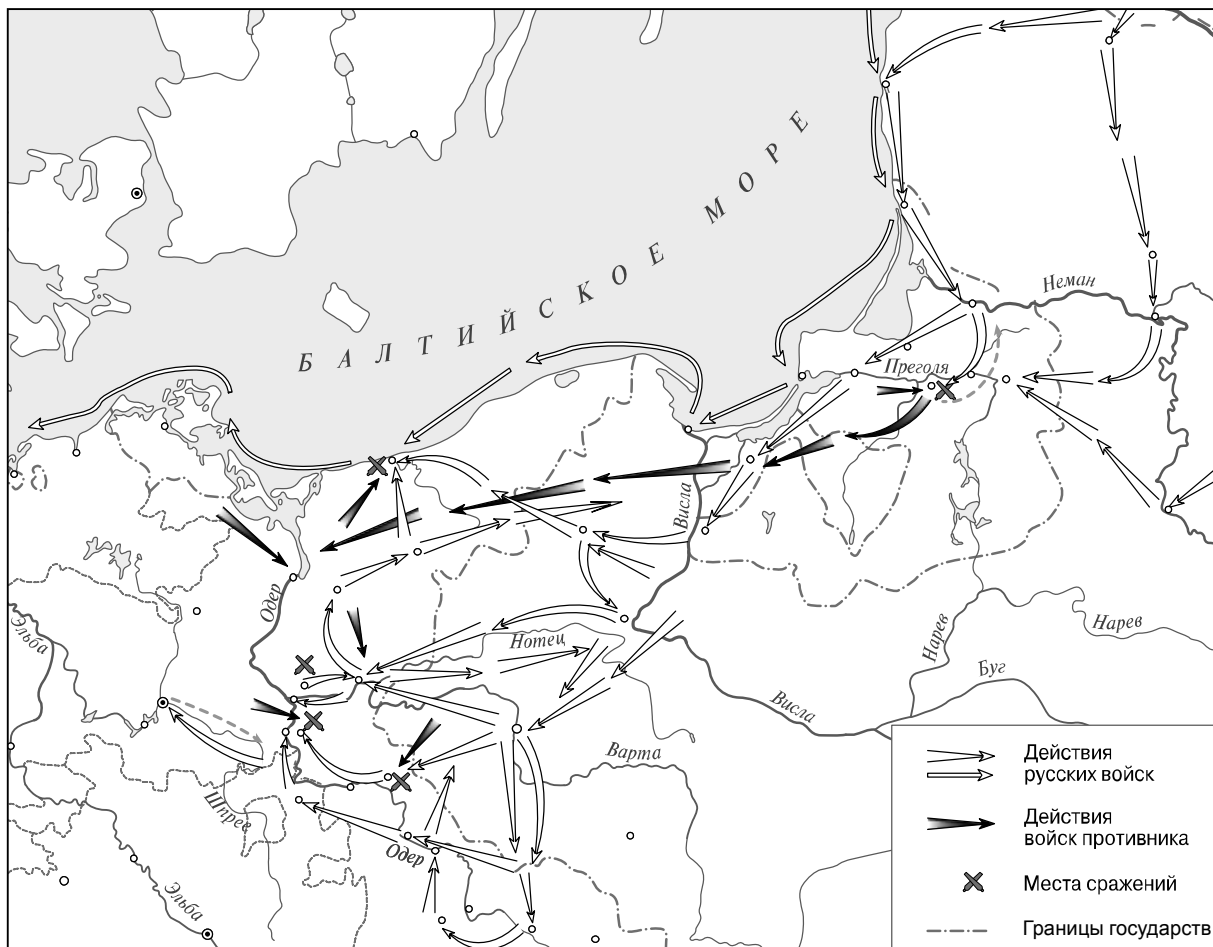
Назовите государыню, о которой идёт речь.

Ответ: _____

Укажите название высшего совещательного государственного учреждения Российской империи, созданного в период правления этой государыни.

Ответ: _____

Рассмотрите карту и выполните задания 6, 7.



6

Назовите российского монарха, при котором Россия подписала договор с противником, военные действия против которого обозначены на карте, и вернула ему все занятые русскими войсками территории.

□



Ответ: _____.

7

Подпишите на карте город Кёнигсберг и территорию Речи Посполитой.

□

Ознакомьтесь с приведённым перечнем и изображениями памятников культуры и выполните задания 8, 9.

- 1) «Ода блаженной памяти Государыне Императрице Анне Иоанновне на победу над турками и на взятие Хотина»
- 2) «Сказание об осаде Троице-Сергиева монастыря от поляков и литвы и о бывших потом в России мятежах»
- 3) «Хожение за три моря»
- 4) 
- 5) 

8

Какие из приведённых памятников культуры были созданы в XVIII в.? Выберите **два** памятника культуры и запишите в таблицу цифры, под которыми они указаны.

Ответ:

--	--

9

Создателем какого из приведённых памятников культуры является М.В. Ломоносов? Укажите порядковый номер этого памятника культуры.

Ответ:

--

10

Какой из приведённых исторических фактов можно использовать для аргументации следующей точки зрения: «Недовольные преобразованиями Петра I были в его ближайшем окружении»? Укажите порядковый номер этого факта в списке.

- 1) восстание под предводительством К.А. Булавина
- 2) «дело царевича Алексея»
- 3) Астраханское восстание

Ответ:

Объясните, как с помощью выбранного Вами факта можно аргументировать данную точку зрения.

Ответ: _____

В приведённом ниже списке указаны фамилии четырёх исторических деятелей. Выберите из них ОДНОГО исторического деятеля, а затем выполните задания 11, 12. Перед выполнением каждого из заданий 11, 12 укажите букву, которой выбранный исторический деятель обозначен в списке. Указанные в заданиях 11, 12 буквы должны быть одинаковыми.

Список исторических деятелей

А) Ф.Ф. Ушаков

Б) Ф.Я. Лефорт

В) Е.Р. Дашкова

Г) Наполеон Бонапарт

11 Выбранный исторический деятель: (укажите букву в перечне).

Укажите одно любое историческое событие (процесс), в котором участвовал исторический деятель. Приведите два исторических факта, связанных с участием выбранного Вами исторического деятеля в этом событии (процессе).

Событие (процесс): _____

Факты, связанные с участием в событии (процессе) исторического деятеля: _____

12 Выбранный исторический деятель: (укажите букву в перечне).

Используя знание исторических фактов, объясните, почему событие (процесс), в котором участвовал этот исторический деятель, имело большое значение (важные последствия) для истории нашей страны и/или истории зарубежных стран.

Ответ: _____

Часть 2

Вспомните важнейшие события истории Вашего региона или населённого пункта и выполните задание.

13

Напишите небольшой рассказ на тему «История моего региона в названиях населённых пунктов и улиц». В рассказе необходимо указать не менее двух названий улиц или населённых пунктов Вашего региона и охарактеризовать связь этих названий с историческими процессами (событиями, явлениями), происходившими в Вашем регионе.

Ответ: _____

