

**Проверочная работа
по ХИМИИ**

8 класс

Вариант 1

Инструкция по выполнению работы

Проверочная работа включает в себя девять заданий. На её выполнение отводится 90 минут.

При выполнении работы разрешается использовать следующие дополнительные материалы:

- Периодическая система химических элементов Д.И. Менделеева;
- таблица растворимости кислот, солей и оснований в воде;
- ряд активности металлов / электрохимический ряд напряжений;
- непрограммируемый калькулятор.

Оформляйте ответы в тексте работы в соответствии с инструкциями, приведёнными к каждому заданию. В случае записи неверного ответа зачеркните его и запишите рядом новый.

При выполнении заданий Вы можете использовать черновик. Записи в черновике проверяться и оцениваться не будут.

Советуем выполнять задания в том порядке, в котором они даны. Для экономии времени пропускайте задание, которое не удаётся выполнить сразу, и переходите к следующему. Если после выполнения всей работы у Вас останется время, Вы сможете вернуться к пропущенным заданиям.

Баллы, полученные Вами за выполненные задания, суммируются. Постарайтесь выполнить как можно больше заданий и набрать наибольшее количество баллов.

Желаем успеха!

Таблица для внесения баллов участника

Номер задания	1.1	1.2	2.1	2.2	3.1	3.2	4.1	4.2	4.3	4.4	5.1	5.2	6.1	6.2	6.3	6.4	6.5
Баллы																	

Номер задания	7.1	7.2	7.3 (1)	7.3 (2)	8	9	Сумма баллов	Отметка за работу
Баллы								

Периодическая система химических элементов Д.И. Менделеева

		Г р у п п ы									
		I	II	III	IV	V	VI	VII	VIII		
П е р и о д ы	1	H 1,008 Водород								He 4,00 Гелий	
	2	Li 6,94 Литий	Be 9,01 Бериллий	B 10,81 Бор	C 12,01 Углерод	N 14,00 Азот	O 16,00 Кислород	F 19,00 Фтор		Ne 20,18 Неон	
	3	Na 22,99 Натрий	Mg 24,31 Магний	Al 26,98 Алюминий	Si 28,09 Кремний	P 30,97 Фосфор	S 32,06 Сера	Cl 35,45 Хлор		Ar 39,95 Аргон	
	4	K 39,10 Калий	Ca 40,08 Кальций	Sc 44,96 Скандий	Ti 47,90 Титан	V 50,94 Ванадий	Cr 52,00 Хром	Mn 54,94 Марганец	Fe 55,85 Железо	Co 58,93 Кобальт	Ni 58,69 Никель
		Cu 63,55 Медь	Zn 65,39 Цинк	Ga 69,72 Галлий	Ge 72,59 Германий	As 74,92 Мышьяк	Se 78,96 Селен	Br 79,90 Бром			Kr 83,80 Криптон
	5	Rb 85,47 Рубидий	Sr 87,62 Стронций	Y 88,91 Иттрий	Zr 91,22 Цирконий	Nb 92,91 Ниобий	Mo 95,94 Молибден	Tc 98,91 Технеций	Ru 101,07 Рутений	Rh 102,91 Родий	Pd 106,42 Палладий
		Ag 107,87 Серебро	Cd 112,41 Кадмий	In 114,82 Индий	Sn 118,69 Олово	Sb 121,75 Сурьма	Te 127,60 Теллур	I 126,90 Иод			Xe 131,29 Ксенон
	6	Cs 132,91 Цезий	Ba 137,33 Барий	La* 138,91 Лантан	Hf 178,49 Гафний	Ta 180,95 Тантал	W 183,85 Вольфрам	Re 186,21 Рений	Os 190,2 Осмий	Ir 192,22 Иридий	Pt 195,08 Платина
		Au 196,97 Золото	Hg 200,59 Ртуть	Tl 204,38 Таллий	Pb 207,2 Свинец	Bi 208,98 Висмут	Po [209] Полоний	At [210] Астат			Rn [222] Радон
	7	Fr [223] Франций	Ra 226 Радий	Ac** [227] Актиний	Rf [261] Резерфордий	Db [262] Дубний	Sg [266] Сиборгий	Bh [264] Борий	Hs [269] Хассий	Mt [268] Мейтнерий	Ds [271] Дармштадтий
		Rg [280] Рентгений	Cn [285] Коперниций	Nh [286] Нихоний	Fl [289] Флеровий	Mc [290] Московский	Lv [293] Ливерморий	Ts [294] Теннесси			Og [294] Оганесон

* Лантаноиды

58	Ce 140 Церий	59	Pr 141 Празеодим	60	Nd 144 Неодим	61	Pm [145] Прометий	62	Sm 150 Самарий	63	Eu 152 Европий	64	Gd 157 Гадолиний	65	Tb 159 Тербий	66	Dy 162,5 Диспрозий	67	Ho 165 Гольмий	68	Er 167 Эрбий	69	Tm 169 Тулий	70	Yb 173 Иттербий	71	Lu 175 Лютеций
----	------------------------	----	----------------------------	----	-------------------------	----	-----------------------------	----	--------------------------	----	--------------------------	----	----------------------------	----	-------------------------	----	------------------------------	----	--------------------------	----	------------------------	----	------------------------	----	---------------------------	----	--------------------------

** АКТИНОИДЫ

90	Th 232 Торий	91	Pa 231 Протактиний	92	U 238 Уран	93	Np 237 Нептуний	94	Pu [244] Плутоний	95	Am [243] Америций	96	Cm [247] Кюрий	97	Bk [247] Берклий	98	Cf [251] Калифорний	99	Es [252] Эйнштейний	100	Fm [257] Фермий	101	Md [258] Менделеевий	102	No [259] Нобелий	103	Lr [262] Лоуренсий
----	------------------------	----	------------------------------	----	----------------------	----	---------------------------	----	-----------------------------	----	-----------------------------	----	--------------------------	----	----------------------------	----	-------------------------------	----	-------------------------------	-----	---------------------------	-----	--------------------------------	-----	----------------------------	-----	------------------------------

РЯД АКТИВНОСТИ МЕТАЛЛОВ / ЭЛЕКТРОХИМИЧЕСКИЙ РЯД НАПРЯЖЕНИЙ

Li Rb K Ba Sr Ca Na Mg Al Mn Zn Cr Fe Cd Co Ni Sn Pb (H) Sb Bi Cu Hg Ag Pt Au



активность металлов уменьшается

РАСТВОРИМОСТЬ КИСЛОТ, СОЛЕЙ И ОСНОВАНИЙ В ВОДЕ

	H ⁺	Li ⁺	K ⁺	Na ⁺	NH ₄ ⁺	Ba ²⁺	Ca ²⁺	Mg ²⁺	Sr ²⁺	Al ³⁺	Cr ³⁺	Fe ²⁺	Fe ³⁺	Ni ²⁺	Co ²⁺	Mn ²⁺	Zn ²⁺	Ag ⁺	Hg ²⁺	Pb ²⁺	Sn ²⁺	Cu ²⁺	
OH ⁻		Р	Р	Р	Р	Р	М	Н	М	Н	Н	Н	Н	Н	Н	Н	Н	Н	-	-	Н	Н	Н
F ⁻	Р	М	Р	Р	Р	М	Н	Н	Н	М	Н	Н	Н	Р	Р	Р	Р	Р	Р	-	Н	Р	Р
Cl ⁻	Р	Р	Р	Р	Р	Р	Р	Р	Р	Р	Р	Р	Р	Р	Р	Р	Р	Р	Н	Р	М	Р	Р
Br ⁻	Р	Р	Р	Р	Р	Р	Р	Р	Р	Р	Р	Р	Р	Р	Р	Р	Р	Р	Н	М	М	Р	Р
I ⁻	Р	Р	Р	Р	Р	Р	Р	Р	Р	Р	?	Р	?	Р	Р	Р	Р	Р	Н	Н	Н	М	?
S ²⁻	Р	Р	Р	Р	Р	-	-	-	Н	-	-	Н	-	Н	Н	Н	Н	Н	Н	Н	Н	Н	Н
HS ⁻	Р	Р	Р	Р	Р	Р	Р	Р	Р	?	?	?	?	?	Н	?	?	?	?	?	?	?	?
SO ₃ ²⁻	Р	Р	Р	Р	Р	Н	Н	М	Н	?	-	Н	?	Н	Н	?	М	Н	Н	Н	Н	?	?
HSO ₃ ⁻	Р	?	Р	Р	Р	Р	Р	Р	Р	?	?	?	?	?	?	?	?	?	?	?	?	?	?
SO ₄ ²⁻	Р	Р	Р	Р	Р	Н	М	Р	Н	Р	Р	Р	Р	Р	Р	Р	Р	М	М	-	Н	Р	Р
HSO ₄ ⁻	Р	Р	Р	Р	Р	?	?	?	-	?	?	?	?	?	?	?	?	?	?	?	?	?	?
NO ₃ ⁻	Р	Р	Р	Р	Р	Р	Р	Р	Р	Р	Р	Р	Р	Р	Р	Р	Р	Р	Р	Р	Р	-	Р
NO ₂ ⁻	Р	Р	Р	Р	Р	Р	Р	Р	Р	?	?	?	?	Р	М	?	?	?	М	?	?	?	?
PO ₄ ³⁻	Р	Н	Р	Р	-	Н	Н	Н	Н	Н	Н	Н	Н	Н	Н	Н	Н	Н	Н	Н	Н	Н	Н
HPO ₄ ²⁻	Р	?	Р	Р	Р	Н	Н	М	Н	?	?	Н	?	?	?	?	?	?	?	?	М	Н	?
H ₂ PO ₄ ⁻	Р	Р	Р	Р	Р	Р	Р	Р	Р	?	?	Р	?	?	?	?	?	?	Р	?	-	?	?
CO ₃ ²⁻	Р	Р	Р	Р	Р	Н	Н	Н	Н	?	?	Н	-	Н	Н	Н	Н	Н	Н	Н	Н	?	Н
HCO ₃ ⁻	Р	Р	Р	Р	Р	Р	Р	Р	Р	?	?	Р	?	?	?	?	?	?	?	?	?	?	?
CH ₃ COO ⁻	Р	Р	Р	Р	Р	Р	Р	Р	Р	-	Р	Р	-	Р	Р	Р	Р	Р	Р	Р	Р	-	Р
SiO ₃ ²⁻	Н	Н	Р	Р	?	Н	Н	Н	Н	?	?	Н	?	?	?	?	Н	Н	?	?	Н	?	?

“Р” – растворяется (> 1 г на 100 г H₂O)

“М” – мало растворяется (от 0,1 г до 1 г на 100 г H₂O)

“Н” – не растворяется (меньше 0,01 г на 1000 г воды)

“-” – в водной среде разлагается

“?” – нет достоверных сведений о существовании соединений

1

Предметом изучения химии являются вещества.

1.1. Внимательно рассмотрите предложенные рисунки. Укажите номер рисунка, на котором изображён объект, содержащий индивидуальное химическое вещество.



Рис. 1



Рис. 2



Рис. 3

Индивидуальное химическое вещество содержится в объекте, изображённом на рисунке:

1.2. Какие вещества содержатся в объектах, изображённых на остальных рисунках? Приведите по ОДНОМУ примеру.

Для каждого вещества укажите его химическое название и формулу.

Рис. 1: _____ (название) _____ (формула).

Рис. 2: _____ (название) _____ (формула).

Рис. 3: _____ (название) _____ (формула).

2

Превращение одних веществ в другие называется химической реакцией.

2.1. Из представленных ниже рисунков выберите тот, на котором изображено протекание химической реакции.



Рис. 1

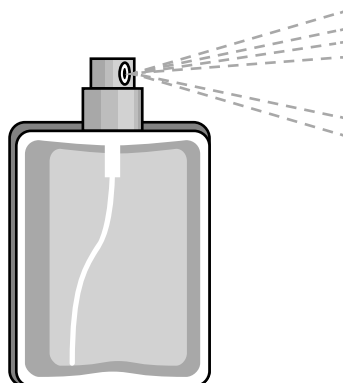


Рис. 2




Рис. 3

Протекание химической реакции изображено на рисунке:

Объясните сделанный Вами выбор: _____

2.2. Укажите один ЛЮБОЙ признак протекания этой химической реакции: _____

3

В таблице приведены названия и химические формулы некоторых газообразных веществ.

№	Название вещества	Формула	Молярная масса, г/моль
1	Неон	Ne	
2	Пропан	C ₃ H ₈	
3	Сернистый газ	SO ₂	

3.1. Используя предложенные Вам справочные материалы, вычислите молярные массы каждого из газов и запишите полученные данные в таблицу.

3.2. На весах уравновешены две одинаковые закрытые пробками колбы. Первую колбу заполнили углекислым газом CO₂. Каким из приведённых в таблице газов следует заполнить вторую колбу, чтобы вернуть весы в состояние равновесия? Укажите номер вещества.

Ответ:

Объясните свой выбор:

4

Даны два химических элемента: **А** и **Б**. Известно, что в атоме элемента **А** суммарно содержится 28 протонов и электронов, а в атоме элемента **Б** – 19 протонов.

4.1. Используя Периодическую систему химических элементов Д.И. Менделеева, определите химические элементы **А** и **Б**.

4.2. Укажите номер периода и номер группы в Периодической системе химических элементов Д.И. Менделеева, в которых расположен каждый элемент.

4.3. Установите, металлом или неметаллом являются простые вещества, образованные этими химическими элементами.

4.4. Составьте формулы высших оксидов, которые образуют элементы **А** и **Б**.

Ответы запишите в таблицу.

Элемент	Название химического элемента	Номер		Металл или неметалл	Формула высшего оксида
		периода	группы		
А					
Б					

5

Восьмиклассница Маша съела за чаем 50 г яблочного повидла.

5.1. Используя данные приведённой ниже таблицы, определите, какую массу углеводов получил при этом организм девушки. Ответ подтвердите расчётом.

Содержание некоторых компонентов в яблочном повидле

Компонент	Вода	Белки	Жиры	Углеводы
Массовая доля, %	32,9	0,4	нет	65,3

Решение: _____

Ответ: _____

5.2. Какую долю суточной физиологической нормы (400 г) составляет потреблённое Машей количество углеводов? Ответ подтвердите расчётом.

Решение: _____

Ответ: _____

6

Имеется следующий перечень химических веществ: оксид фосфора(V), вода, фосфорная кислота, хлорид меди(II), сероводород, сульфид меди(II), хлороводород. Используя этот перечень, выполните задания 6.1–6.5.

6.1. Напишите химические формулы каждого из указанных веществ.

Оксид фосфора(V) – _____ . Фосфорная кислота – _____ .

Хлорид меди(II) – _____ . Сероводород – _____ . Вода – _____ .

Сульфид меди(II) – _____ . Хлороводород – _____ .

6.2. Какое из веществ, упоминаемых в перечне, соответствует следующему описанию: «Бесцветный газ с неприятным запахом, выделяющийся из протухших куриных яиц»?

Ответ: _____

6.3. Из данного перечня выберите ЛЮБОЕ вещество, кроме воды. Запишите его химическую формулу и укажите, к какому классу неорганических соединений оно относится. Если Вы выбрали оксид, укажите, какие свойства – кислотные, основные или амфотерные – это вещество проявляет.

Вещество – _____ . Класс соединений – _____ .

6.4. Из приведённого перечня веществ выберите соединение, состоящее из атомов ТРЁХ элементов. Вычислите массовую долю кислорода в этом соединении.

Вещество – _____ .

Решение: _____

Ответ: _____

6.5. Вычислите массу 0,25 моль сероводорода.

Решение: _____

Ответ: _____

7

Ниже даны описания двух химических превращений с участием веществ, перечень которых был приведён в задании 6:

(1) оксид фосфора(V) + вода \rightarrow фосфорная кислота;

(2) хлорид меди(II) + сероводород \rightarrow сульфид меди(II) + хлороводород.

7.1. Составьте уравнения указанных реакций, используя химические формулы веществ из п. 6.1.

(1) _____

(2) _____

7.2. В зависимости от числа и состава веществ, вступающих в химическую реакцию и образующихся в результате неё, различают реакции соединения, разложения, замещения и обмена. Выберите ЛЮБУЮ реакцию (1) или (2) и укажите её тип.

Реакция:

Тип – _____.

Объясните свой ответ: _____

7.3. Из приборов, изображённых на рисунках, выберите тот, с помощью которого можно выделить сульфид меди(II) из его смеси с водой.



Рис. 1

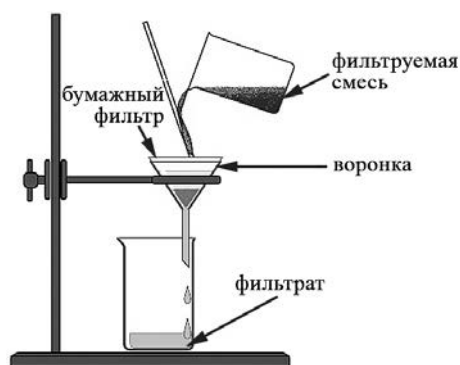


Рис. 2

Выделить сульфид меди(II) из его смеси с водой можно с помощью прибора, изображённого на рисунке:

Какой метод разделения веществ при этом используется?

Ответ: метод _____.

Почему прибор, изображённый на другом рисунке, не может быть использован для выделения сульфида меди(II)?

Объяснение: _____

8

Установите соответствие между названием химического вещества и областью его применения. К каждому элементу первого столбца подберите соответствующий элемент из второго столбца.

НАЗВАНИЕ ВЕЩЕСТВА

- А) оксид серы(IV)
 Б) магний
 В) хлорид натрия
 Г) хлороводород

ОБЛАСТЬ ПРИМЕНЕНИЯ

- 1) в авиации в составе лёгких сплавов
 2) газ-консервант на овощехранилищах
 3) жидкость для тушения пожаров
 4) пищевая добавка в кулинарии («соль»)
 5) основной компонент соляной кислоты

Запишите в таблицу выбранные цифры под соответствующими буквами.

Ответ:

А	Б	В	Г

9

Из приведённого списка выберите верные суждения о правилах поведения в химической лаборатории и обращения с химическими веществами в быту. В ответе запишите цифры, под которыми они указаны. (В задании может быть несколько верных суждений.)

- 1) Нельзя наклоняться над сосудом, в котором происходит нагревание жидкости.
 2) В отличие от лекарств, витамины можно употреблять в неограниченных количествах.
 3) Запрещается оставлять неубранными рассыпанные или разлитые реактивы.
 4) Производство цемента и других строительных материалов не относится к источникам загрязнения атмосферы.

Ответ: _____.