

Система оценивания проверочной работы

Полный правильный ответ на каждое из заданий 1.2, 5.1, 7.2, 7.3 оценивается 1 баллом. Если в ответе допущена хотя бы одна ошибка (один из элементов ответа записан неправильно или не записан), выставляется 0 баллов.

Полный правильный ответ на каждое из заданий 1.3, 2.1, 3.3, 5.3, 7.1 оценивается 2 баллами. Если в ответе допущена одна ошибка, или перепутаны местами две цифры/буквы в ответах на задания 1.3 и 7.1, выставляется 1 балл; если допущено две или более ошибки – 0 баллов.

1

1.1.

Финляндия

Украина

Норвегия

Азербайджан



1 – Хельсинки

2 – Киев

3 – Осло

4 – Баку



Содержание верного ответа и указания по оцениванию	Баллы
Правильный ответ должен содержать следующие элементы: 1) <u>подписи названий столиц стран</u> под рисунками: 1 – Хельсинки; 2 – Киев; 3 – Осло; 4 – Баку; 2) <u>вписанные номера стран на схеме</u>	
Правильно подписаны названия столиц четырёх стран, вписаны номера четырёх стран	3
Правильно подписаны названия столиц трёх стран; правильно вписаны номера трёх-четырёх стран. ИЛИ Правильно подписаны названия столиц трёх-четырёх стран; правильно вписаны номера двух стран / перепутаны местами номера двух стран	2
Правильно подписаны названия столиц двух стран; правильно вписаны номера этих двух стран. ИЛИ Правильно подписаны названия столиц трёх-четырёх стран; правильно вписан номер только одной страны / ни одного номера не вписано правильно	1
Правильно подписаны названия столиц двух стран; правильно вписан номер только одной страны/ номера стран не вписаны / вписаны неправильно. ИЛИ Правильно подписано название столицы только одной страны независимо от наличия/отсутствия вписанных номеров стран. ИЛИ Названия столиц не подписаны / подписаны неправильно независимо от наличия/отсутствия вписанных номеров стран. ИЛИ Ответ неправильный	0
<i>Максимальный балл</i>	3

1.2	Норвегия
1.3	4132 <i>Если за выполнение задания 1.1 выставлено 0 баллов, результат выполнения данного задания не засчитывается</i>

2

2.1	А – острова Новая Земля Б – Финский залив / Балтийское море В – Курильские острова Г – Каспийское море-озеро
-----	---

2.2.

Содержание верного ответа и указания по оцениванию	Баллы
Правильный ответ должен содержать следующие <u>элементы</u> : 1) <u>точку К</u> на карте (крайняя северная материковая точка России на меридиане 148° в.д.); 2) <u>координаты</u> точки К: 72° с.ш. 148° в.д.; 3) <u>расстояние</u> от точки N до точки К: 3005 км	
Правильно поставлена точка К на карте, определены её координаты, рассчитано расстояние. <i>При определении координат допускается погрешность в 1°. При расчёте расстояния допускается соответствующая погрешность в километрах</i>	2
Правильно поставлена точка К на карте, определены её координаты; расстояние не рассчитано / рассчитано неправильно	1
Правильно поставлена точка К на карте; координаты точки не определены / определены неправильно независимо от наличия/отсутствия расчёта расстояния. ИЛИ Точка К на карте не поставлена / поставлена неправильно независимо от наличия/отсутствия определения координат и расчёта расстояния	0
<i>Максимальный балл</i>	2

3

3.1.

Содержание верного ответа и указания по оцениванию	Баллы
<p>Правильный ответ должен содержать <u>заполненную схему</u> с вписанными в неё географическими названиями форм рельефа.</p> <div style="display: flex; justify-content: space-around; align-items: center;"> <div style="text-align: center;"> <div style="border: 1px solid black; padding: 5px; width: 150px;">нагорье</div> <div style="border: 1px solid black; padding: 5px; width: 150px; margin-top: 20px;"><i>Алданское</i></div> </div> <div style="text-align: center;"> <div style="border: 1px solid black; padding: 5px; width: 150px;">возвышенность</div> <div style="border: 1px solid black; padding: 5px; width: 150px; margin-top: 20px;"><i>Приволжская</i></div> </div> <div style="text-align: center;"> <div style="border: 1px solid black; padding: 5px; width: 150px;">горы</div> <div style="border: 1px solid black; padding: 5px; width: 150px; margin-top: 20px;"><i>Алтай</i></div> </div> </div>	
Схема заполнена правильно	2
При заполнении схемы допущена одна ошибка	1
При заполнении схемы допущены две или более ошибки. ИЛИ Ответ неправильный	0
<i>Максимальный балл</i>	2

3.2.

Содержание верного ответа и указания по оцениванию	Баллы
<p>Правильный ответ должен содержать следующие <u>элементы</u>:</p> <p>1) запись <u>названия географического объекта</u>: горы Алтай; 2) указание <u>цифры, обозначающей объект на карте</u>: 2</p>	
Правильно записано название географического объекта, указана цифра, обозначающая объект на карте	2
Правильно записано название географического объекта; цифра, обозначающая объект на карте, не указана / указана неправильно	1
Название географического объекта не записано / записано неправильно независимо от указания цифры, обозначающей объект на карте. ИЛИ Ответ неправильный	0
<i>Максимальный балл</i>	2

3.3	256 (в любой последовательности)
------------	-------------------------------------

4

4.1.

Содержание верного ответа и указания по оцениванию	Баллы
<p>Правильный ответ должен содержать текст с <u>заполненными</u> пропусками.</p> <p>Енисей – крупнейшая сибирская река, самая полноводная в России с годовым стоком <u>624 км³</u>. Протяжённость реки составляет <u>3487 км</u>. Начинаясь в горах Саяны на высоте <u>619 м</u> над уровнем моря и до впадения в <u>Карское море</u>, Енисей меняет характер своего течения: в верхнем течении он сравним с <u>горной</u> рекой, быстрый и шумный, а в нижнем течении становится могучей <u>равнинной</u> рекой, с шириной русла до 4 км. Общее падение Енисея составляет <u>619 м</u>, а уклон – <u>17,8 см/км</u>. В Енисей впадают такие крупные реки как Ангара, Подкаменная Тунгуска и Нижняя Тунгуска. По площади бассейна, равной <u>2580 тыс. км²</u>, он уступает только Оби. Для большей части Енисея характерно <u>весенне-летнее</u> половодье, которое начинается в мае и заканчивается в июле, а замерзает река в <u>октябре–ноябре</u>. В верхнем течении на Енисее построены две крупнейшие в стране гидроэлектростанции: <u>Саяно-Шушенская и Красноярская</u>. Для районов бассейна Енисея речной транспорт является основным видом транспорта. В летнее время по реке осуществляется сплав леса в плотках. Величественная природа Енисея привлекает туристов, по реке проходят речные круизы.</p>	
Все пропуски в тексте заполнены правильно	2
При заполнении пропусков допущены одна-две ошибки / один-два пропуска не заполнены	1
При заполнении пропусков допущены три или более ошибки / три или более пропуска не заполнены. ИЛИ Ответ неправильный	0
<i>Максимальный балл</i>	2

4.2.

Содержание верного ответа и указания по оцениванию	Баллы
Правильный ответ должен содержать <u>подписи на карте названий пяти водных объектов</u> : реки – Енисей, Ангара, Подкаменная Тунгуска, Нижняя Тунгуска; Карское море	
Правильно подписаны четыре-пять водных объектов	2
Правильно подписаны два-три любых водных объекта	1
Правильно подписан только один водный объект. ИЛИ Водные объекты не подписаны / подписаны неправильно	0
<i>Максимальный балл</i>	2

5

5.1	А – умеренный / резко континентальный Б – умеренный / умеренно континентальный
------------	---

5.2.

Содержание верного ответа и указания по оцениванию	Баллы												
<p>Правильный ответ должен содержать <u>следующие элементы</u>:</p> <p>1) <u>указание климатического пояса / типа климата</u>: умеренный / резко континентальный;</p> <p>2) <u>заполненную таблицу с климатическими показателями</u>:</p> <table border="1" style="width: 100%; text-align: center;"> <thead> <tr> <th colspan="2">Средняя температура воздуха, °С</th> <th rowspan="2">Годовая амплитуда температур, °С</th> <th rowspan="2">Годовое количество осадков, мм</th> <th rowspan="2">Месяц, на который приходится наибольшее количество осадков</th> </tr> <tr> <th>в январе</th> <th>в июле</th> </tr> </thead> <tbody> <tr> <td>-25</td> <td>+18</td> <td>43</td> <td>351</td> <td>июль</td> </tr> </tbody> </table> <p><i>При определении средних температур допускается погрешность в 1 °С</i></p>	Средняя температура воздуха, °С		Годовая амплитуда температур, °С	Годовое количество осадков, мм	Месяц, на который приходится наибольшее количество осадков	в январе	в июле	-25	+18	43	351	июль	
Средняя температура воздуха, °С		Годовая амплитуда температур, °С				Годовое количество осадков, мм	Месяц, на который приходится наибольшее количество осадков						
в январе	в июле												
-25	+18	43	351	июль									
Правильно указан климатический пояс / тип климата, заполнена таблица	2												
Правильно указан климатический пояс / тип климата; в таблице допущена одна ошибка	1												
Правильно указан климатический пояс / тип климата; в таблице допущены две или более ошибки / таблица не заполнена. ИЛИ Климатический пояс / тип климата не указан / указан неправильно независимо от заполнения таблицы. ИЛИ Ответ неправильный	0												
<i>Максимальный балл</i>	2												





5.3	146 (в любой последовательности)
------------	-------------------------------------

6

6.1.

Содержание верного ответа и указания по оцениванию				Баллы
Правильный ответ должен содержать <u>следующие</u> элементы: 1) указание в таблице субъектов Российской Федерации (РФ):				
Опорная точка маршрута	А	Б	В	
Субъект РФ	<i>Город Москва</i>	<i>Омская область</i>	<i>Ямало-Ненецкий автономный округ</i>	
2) подписи городов на карте: А – Москва; Б – Омск; В – Салехард				
Правильно указаны три субъекта РФ, подписаны три города				2
Правильно указаны три субъекта РФ; правильно подписаны один-два города. ИЛИ Правильно указаны два субъекта РФ; правильно подписаны два-три города				1
Правильно указаны два субъекта РФ; правильно подписан только один город. Правильно указаны два-три субъекта РФ; города подписаны неправильно / не подписаны. ИЛИ Правильно указан только один субъект РФ / субъекты РФ указаны неправильно / не указаны независимо от подписи городов. ИЛИ Ответ неправильный				0
<i>Максимальный балл</i>				2

6.2.

	
 город _____ <i>Москва</i>	 город _____ <i>Омск</i>
Время вылета – 10:00 Расчётное время полёта – 4 часа	Время прилёта – _____ <i>17:00</i>
	

Содержание верного ответа и указания по оцениванию	Баллы
Правильный ответ должен содержать изображение авиабилета с <u>заполненными пропусками</u>	
Правильно заполнены все пропуска	1
Правильно заполнены только один-два пропуска. ИЛИ Все пропуска заполнены неправильно / не заполнены	0
<i>Максимальный балл</i>	1

6.3.

Содержание верного ответа и указания по оцениванию	Баллы
Правильный ответ должен содержать <u>ответы на два вопроса</u>	
Ответ на первый вопрос	1
Природная зона: тайга	
Природная зона указана правильно	1
Природная зона не указана. ИЛИ Ответ неправильный	0
Ответ на второй вопрос	1
Виды хозяйственной деятельности: промышленное производство, распашка территории, добыча и транспортировка нефти, судоходство. <i>Ответ на второй вопрос может быть приведён в иной, близкой по смыслу формулировке</i>	
Правильно указано не менее трёх видов хозяйственной деятельности	1
Правильно указаны один-два вида хозяйственной деятельности. ИЛИ Ни одного вида хозяйственной деятельности не указано. ИЛИ Ответ неправильный	0
<i>Максимальный балл</i>	<i>2</i>

7

7.1	2431
7.2	Краснодарский край и Калининградская область ИЛИ 13 (в любой последовательности)
7.3	Пермский край ИЛИ 2

8

8.1.

Содержание верного ответа и указания по оцениванию	Баллы
Правильный ответ должен содержать следующие элементы: 1) <u>запись в таблице</u> названий региона (субъекта РФ) и его административного центра; 2) <u>выделение региона на карте</u>	
Правильно записаны названия региона и его административного центра, правильно выделен регион на карте	1
Правильно записаны названия региона и его административного центра, регион на карте не выделен / выделен неправильно. ИЛИ Правильно записано только название региона / только административного центра независимо от выделения региона на карте. ИЛИ Названия региона и его административного центра не записаны / записаны неправильно независимо от выделения региона на карте. ИЛИ Ответ неправильный	0
<i>Максимальный балл</i>	<i>1</i>

8.2.

Содержание верного ответа и указания по оцениванию		Баллы
Правильный ответ должен содержать указание <u>географических специальностей</u> в соответствующих ячейках таблицы.		
Вопросы	Специальность	
1. Какие водные объекты (моря, реки, озёра, водохранилища) есть на территории региона?	<i>Гидрология</i>	
2. Какие значения климатических показателей характеризуют особенности климата региона?	<i>Климатология</i>	
3. Какие представители флоры и фауны распространены/ обитают на территории региона?	<i>Биогеография</i>	
Правильно указаны три географические специальности		2
Правильно указаны две географические специальности		1
Правильно указана только одна географическая специальность. ИЛИ Ни одной географической специальности не указано / не указано правильно		0
<i>Максимальный балл</i>		2

8.3.

Содержание верного ответа и указания по оцениванию		Баллы
Правильный ответ должен содержать <u>заполненную графу</u> таблицы «Результаты исследований», содержащую ответы на три вопроса. <i>В ответах на вопросы, в которых требуется указать несколько объектов, следует засчитывать указание двух или более объектов</i>		
Правильно даны ответы на три вопроса		3
Правильно даны ответы на два любых вопроса; в ответе на один из вопросов содержатся ошибки / ответ на один из вопросов не представлен		2
Правильно дан ответ только на один любой вопрос; в ответах на остальные вопросы содержатся ошибки / ответы на остальные вопросы не представлены		1
Ответ неправильный		0
<i>Максимальный балл</i>		3

Система оценивания выполнения всей работы

Максимальный балл за выполнение работы – 40.

Рекомендации по переводу первичных баллов в отметки по пятибалльной шкале

Отметка по пятибалльной шкале	«2»	«3»	«4»	«5»
Первичные баллы	0 – 12	13 – 26	27 – 34	35 – 40