

ВСЕРОССИЙСКАЯ ПРОВЕРОЧНАЯ РАБОТА**ХИМИЯ
11 КЛАСС****Вариант 1****Инструкция по выполнению работы**

Проверочная работа включает в себя 15 заданий. На выполнение работы по химии отводится 1 час 30 минут (90 минут).

Оформляйте ответы в тексте работы согласно инструкциям к заданиям. В случае записи неверного ответа зачеркните его и запишите рядом новый.

При выполнении работы разрешается использовать следующие дополнительные материалы:

- Периодическая система химических элементов Д.И. Менделеева;
- таблица растворимости солей, кислот и оснований в воде;
- электрохимический ряд напряжений металлов;
- непрограммируемый калькулятор.

При выполнении заданий Вы можете использовать черновик. Записи в черновике проверяться и оцениваться не будут.

Советуем выполнять задания в том порядке, в котором они даны. Для экономии времени пропускайте задание, которое не удаётся выполнить сразу, и переходите к следующему. Если после выполнения всей работы у Вас останется время, Вы сможете вернуться к пропущенным заданиям.

Баллы, полученные Вами за выполненные задания, суммируются. Постарайтесь выполнить как можно больше заданий и набрать наибольшее количество баллов.

Желаем успеха!

Таблица для внесения баллов участника

Номер задания	1	2	3	4	5	6	7	8	9	10	11	12	13	14	15	Сумма баллов	Отметка за работу
Баллы																	

1

Из курса химии Вам известны следующие **способы** разделения смесей: *отстаивание, фильтрование, дистилляция (перегонка), действие магнитом, выпаривание, кристаллизация*. На рис. 1–3 изображены примеры использования некоторых из перечисленных способов.

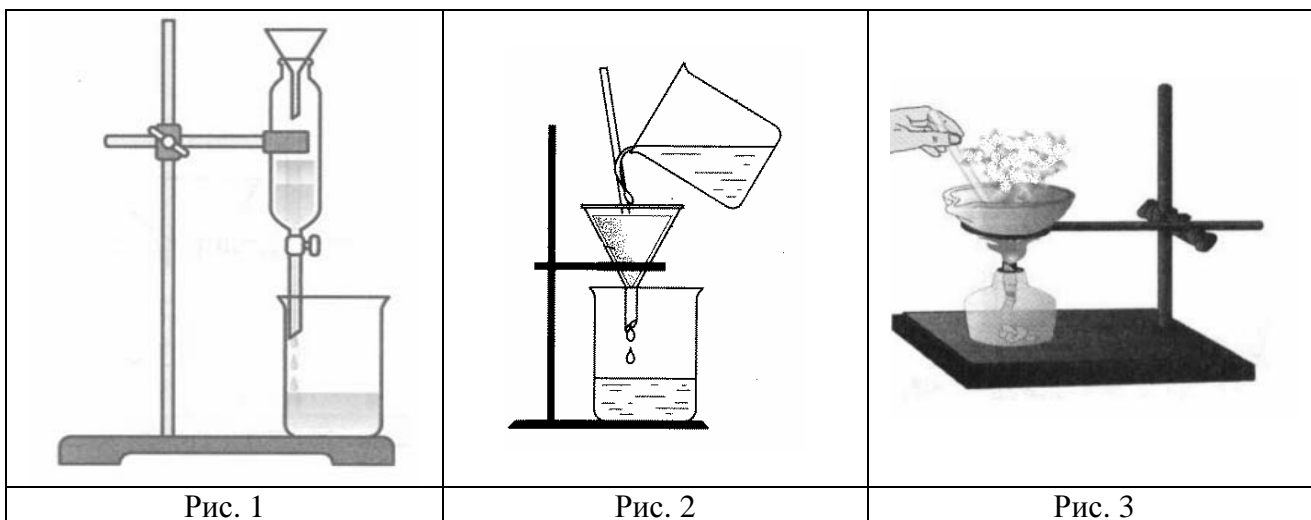


Рис. 1

Рис. 2

Рис. 3

Определите, какие из изображённых способов разделения смесей можно применить для разделения смесей:

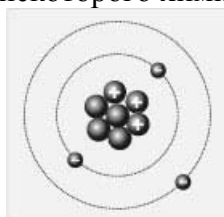
- 1) бензина и воды;
- 2) воды и растворённой в ней глюкозы.

Запишите в таблицу номер рисунка и название соответствующего способа разделения смеси.

Смесь	Номер рисунка	Способ разделения смеси
Бензин и вода		
Вода и растворённая в ней глюкоза		

2

На рисунке изображена модель атома некоторого химического элемента.



На основании предложенной модели выполните следующие задания:

- 1) запишите символ химического элемента, которому соответствует данная модель атома;
- 2) запишите заряд ядра этого элемента и укажите номер группы в Периодической системе химических элементов Д.И. Менделеева, в которой расположен этот элемент;
- 3) определите, к металлам или неметаллам относится простое вещество, которое образует этот элемент.

Ответы запишите в таблицу.

Символ химического элемента	Заряд ядра	№ группы	Металл/неметалл

3

Периодическая система химических элементов Д.И. Менделеева – богатое хранилище информации о химических элементах, их свойствах и свойствах их соединений. Так, например, известно, что с увеличением порядкового номера химического элемента лёгкость отдачи электронов его атомами в периодах уменьшается, а в группах увеличивается.

Учитывая эти закономерности, расположите в порядке уменьшения лёгкости отдачи электронов следующие элементы: F, Cl, Be, Mg. Запишите символы элементов в нужной последовательности.

Ответ: _____

4

В приведённой ниже таблице представлены примеры формул веществ с ковалентной полярной и ковалентной неполярной химической связью.

Примеры формул веществ	
С ковалентной неполярной связью	С ковалентной полярной связью
<ul style="list-style-type: none"> • S₈; • N₂; • Cl₂ 	<ul style="list-style-type: none"> • CO; • P₂O₅; • NH₃

Проанализируйте данные таблицы: каков качественный состав веществ, имеющих ковалентную полярную и ковалентную неполярную химическую связь.

Определите вид химической связи: 1) в молекуле кислорода (O₂); 2) в молекуле сероводорода (H₂S).

1) В молекуле кислорода _____

2) В молекуле сероводорода _____

Прочитайте следующий текст и выполните задания 5–7.

Оксид цинка (ZnO) – вещество белого цвета, в обычных условиях довольно устойчивое, практически нерастворимое в воде. Образуется при обжиге сульфидных минералов цинка – сфалерита и вюрцита (ZnS). Оксид цинка широко используется при производстве цинковых белил, приготовлении медицинской цинковой мази, в качестве катализатора в химической промышленности. Оксиду цинка соответствует гидроксид, проявляющий амфотерные свойства. Так, он взаимодействует как с кислотами (например, HNO_3), так и с щелочами (например, $NaOH$).

В лаборатории оксид цинка можно получить разложением карбоната ($ZnCO_3$) или гидроксида цинка.

Оксид цинка проявляет очень слабые окислительные свойства, восстанавливаясь при нагревании до цинка, например, под действием водорода (H_2) или металлического алюминия.

5

Сложные неорганические вещества условно можно распределить, то есть классифицировать, по четырём группам, как показано на схеме. В эту схему для каждой из четырёх групп *впишите* по одной химической формуле веществ из тех, о которых говорится в приведённом выше тексте.



6

1) Составьте молекулярное уравнение реакции между оксидом цинка и водородом.

Ответ: _____

2) Какие свойства в этой реакции проявляет водород?

Ответ: _____

7

1) Составьте молекулярное уравнение взаимодействия оксида цинка с азотной кислотой.

Ответ: _____

2) Укажите, к какому типу (соединения, разложения, замещения, обмена) относится эта реакция.

Ответ: _____

8

В исследованной воде из местного колодца были обнаружены следующие катионы: Na^+ , K^+ , Mg^{2+} . Для проведения качественного анализа к этой воде добавили раствор $\text{Ba}(\text{OH})_2$.

1. Какие изменения в растворе можно наблюдать при проведении данного опыта (концентрация веществ достаточная для проведения анализа)?

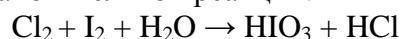
Ответ: _____

2. Запишите сокращённое ионное уравнение произошедшей химической реакции.

Ответ: _____

9

Дана схема окислительно-восстановительной реакции.



1. Составьте электронный баланс этой реакции.

Ответ: _____

2. Укажите окислитель и восстановитель.

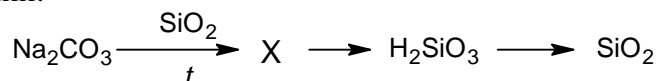
Ответ: _____

3. Расставьте коэффициенты в уравнении реакции.

Ответ: _____

10

Дана схема превращений:



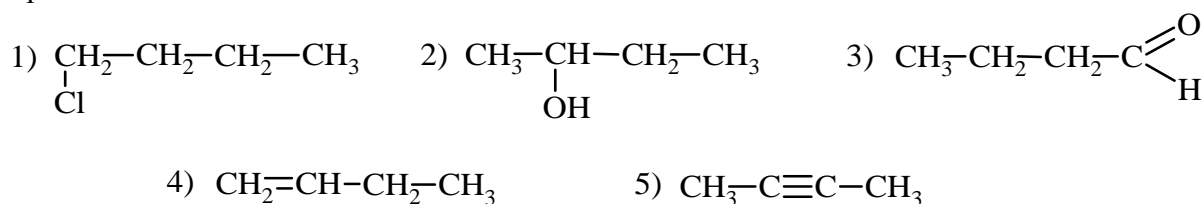
Напишите молекулярные уравнения реакций, с помощью которых можно осуществить указанные превращения.

1) _____

2) _____

3) _____

Для выполнения заданий 11–13 используйте вещества, структурные формулы которых приведены ниже:



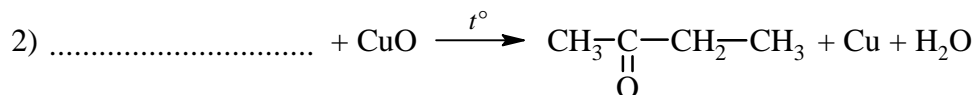
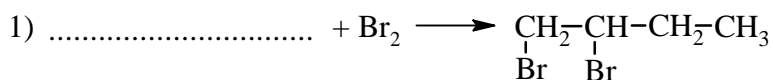
11

Из приведённого перечня выберите вещества, которые соответствуют указанным в таблице классам/группам органических соединений. Запишите номера этих веществ в соответствующие графы таблицы.

Алкин	Альдегид

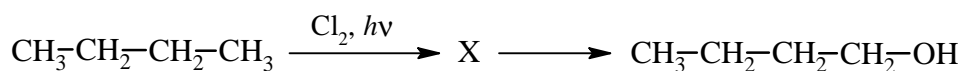
12

В предложенные схемы химических реакций впишите структурные формулы пропущенных веществ, выбрав их из приведённого выше перечня, и расставьте коэффициенты.



13

Бутанол-1 применяют как растворитель в лакокрасочной промышленности, в производстве смол и пластификаторов. Перспективно его использование в топливных элементах, в качестве сырья для производства водорода. Бутанол-1 можно получить в соответствии с приведённой схемой превращений:



Выберите из предложенного перечня вещество X и запишите уравнения двух реакций, с помощью которых можно осуществить эти превращения. При написании уравнений реакций используйте структурные формулы органических веществ.

- 1) _____
- 2) _____

Запишите название вещества X.

- 3) _____

14

Одним из важных понятий в экологии и химии является «предельно допустимая концентрация» (ПДК). ПДК — это такая концентрация вещества в окружающей среде, которая при повседневном воздействии в течение длительного времени не оказывает прямого или косвенного неблагоприятного влияния на настоящее или будущее поколение, не снижает работоспособности человека, не ухудшает его самочувствия и условий жизни.

ПДК паров ртути в воздухе составляет $0,0003 \text{ мг/м}^3$.

В комнате площадью 20 м^2 и высотой потолка $2 \text{ м } 50 \text{ см}$ разбили ртутный термометр. В воздух при этом испарилось $0,020 \text{ мг}$ ртути. Определите и подтвердите расчётами, превышает ли концентрация ртути в воздухе данного помещения значение ПДК. Предложите способ, позволяющий снизить концентрацию ртути в помещении.

 Ответ: _____

15

Для подкормки растений используют 4%-ный раствор сульфата магния. Рассчитайте, какую массу сульфата магния и какую массу воды надо взять для приготовления 500 г такого раствора. Запишите подробное решение задачи.

 Ответ: _____

